

Combined Higher Secondary Level Examination 2022 Tier II

Roll Number	
Candidate Name	
Venue Name	
Exam Date	26/06/2023
Exam Time	9:00 AM - 12:00 PM
Subject	CHSL 2022 Tier II Paper I

Section : **Mathematical Abilities**www.exammix.com

Q.1 दो उम्मीदवारों के बीच चुनाव में, पंजीकृत मतदाताओं में से 20% ने अपना मत नहीं दिया और 40 मत अवैध घोषित कर दिए गए। विजेता को पंजीकृत मतों का 42% प्राप्त हुआ और उसे 112 मतों से विजेता घोषित किया गया। पंजीकृत मतदाताओं की संख्या कितनी थी?

- Ans**
- 1. 1500
 - 2. 1200
 - 3. 3800
 - 4. 1800

Question ID : **26433087350**
 Status : **Answered**
 Chosen Option : **3**

Q.2 अरुण और भारती की आयु का योग 24 वर्ष है, जिसमें अरुण बड़ा है। यदि अरुण और भारती की आयु दोगुनी कर दी जाए, तो अंतर 8 वर्ष है। अरुण की आयु (वर्ष में) कितनी है?

- Ans**
- 1. 10
 - 2. 16
 - 3. 14
 - 4. 28

Question ID : **264330130056**
 Status : **Answered**
 Chosen Option : **2**

Q.3 निम्नलिखित अनुपातों का सही अवरोही क्रम ज्ञात करें। $\frac{17}{30}, \frac{7}{15}, \frac{27}{50}, \frac{11}{20}$

- Ans**
- 1. $\frac{17}{30} > \frac{27}{50} > \frac{11}{20} > \frac{7}{15}$
 - 2. $\frac{17}{30} > \frac{11}{20} > \frac{27}{50} > \frac{7}{15}$
 - 3. $\frac{7}{15} > \frac{11}{20} > \frac{27}{50} > \frac{17}{30}$
 - 4. $\frac{11}{20} > \frac{17}{30} > \frac{27}{50} > \frac{7}{15}$

Question ID : **264330103969**
 Status : **Answered**
 Chosen Option : **2**

Q.4 कोई धनराशि साधारण ब्याज पर 4 वर्ष में स्वयं की दोगुनी हो जाती है। उसी ब्याज दर पर वह कितने समय में 7 गुना हो जाएगी?

- Ans 1. 24 वर्ष
 2. 23 वर्ष
 3. 21 वर्ष
 4. 25 वर्ष

Question ID : 264330126196
Status : Answered
Chosen Option : 1

Q.5 निम्नलिखित आँकड़ों की माधिका ज्ञात कीजिए।
129.75, 116.6, 12.3, 114.1, 136.6, 118.7, 13.5, 121.3

- Ans 1. 127.80
 2. 118.75
 3. 116.60
 4. 117.65

Question ID : 264330122995
Status : Answered
Chosen Option : 4

Q.6 पिता और पुत्र की आयु में 15 वर्ष का अंतर है। 5 वर्ष पूर्व पिता की आयु, अपने पुत्र की आयु की 2 गुनी थी। उन दोनों की वर्तमान आयु ज्ञात कीजिए।

- Ans 1. 40 वर्ष, 25 वर्ष
 2. 35 वर्ष, 20 वर्ष
 3. 30 वर्ष, 15 वर्ष
 4. 45 वर्ष, 30 वर्ष

Question ID : 264330129979
Status : Answered
Chosen Option : 2

Q.7 प्रथम पांच सम प्राकृतिक संख्याओं के वर्गों का औसत ज्ञात कीजिए।

- Ans 1. 42
 2. 40
 3. 44
 4. 46

Question ID : 264330104229
Status : Answered
Chosen Option : 3

Q.8 यदि त्रिज्याओं का योग और दो वृत्तों के केंद्रों के बीच की दूरी बराबर हो, तो:

- Ans
- 1. वृत्त बाहरी रूप से स्पर्श करते हैं।
 - 2. वृत्त आंतरिक रूप से स्पर्श करते हैं।
 - 3. वृत्त एक दूसरे को काटते हैं।
 - 4. वृत्त संपर्कित होते हैं।

Question ID : 264330122101
Status : Answered
Chosen Option : 2

Q.9 एक शहर की वार्षिक वृद्धि दर 2% है। यदि वर्ष 2020 में इसकी जनसंख्या 1,50,000 थी, तो 2023 में इसकी जनसंख्या कितनी होगी?

- Ans
- 1. 1,59,181
 - 2. 1,58,413
 - 3. 1,58,765
 - 4. 1,59,000

Question ID : 264330144221
Status : Answered
Chosen Option : 1

Q.10 A और B संयुक्त रूप से एक व्यवसाय शुरू करते हैं। A द्वारा किया गया निवेश B द्वारा किए गए निवेश के सात गुना के बराबर है। ₹2,75,000 के वार्षिक लाभ में से A का हिस्सा (₹ में) ज्ञात कीजिए।

- Ans
- 1. 2,41,225
 - 2. 2,45,625
 - 3. 2,40,625
 - 4. 2,42,365

Question ID : 264330121712
Status : Answered
Chosen Option : 3

Q.11 $\triangle XYZ$ और $\triangle PQR$ समरूप हैं। $XY : PQ = 6 : 1$ है। $\triangle PQR$ का क्षेत्रफल 6 cm^2 है। $\triangle XYZ$ का क्षेत्रफल क्या है?

- Ans
- 1. 6 cm^2
 - 2. 261 cm^2
 - 3. 216 cm^2
 - 4. 36 cm^2

Question ID : 264330122095
Status : Answered
Chosen Option : 3

Q.12 गीता एक अपार्टमेंट खरीदती है और उसके लिए EMI का भुगतान करती है। उसकी मासिक आय ₹80,000 है। वह अपने बच्चों की शिक्षा पर 15%, घरेलू कामकाज पर 40% खर्च करती है, GPF में 10% भेजती है, बचत बैंक खाते में 15% की बचत करती है और शेष राशि का भुगतान EMI के रूप में करती है। वह EMI के रूप में कितनी राशि का भुगतान करती है?

- Ans
- 1. ₹16,000
 - 2. ₹14,000
 - 3. ₹18,000
 - 4. ₹20,000

Question ID : 26433091535
Status : Answered
Chosen Option : 1

Q.13 वृत्ताकार ट्रैक पर हो रही 1200 m की एक दौड़ में A और B एक ही स्थान से एक ही समय पर, एक ही दिशा में क्रमशः 18 km/h और 27 km/h की चाल से दौड़ना शुरू करते हैं। दौड़ शुरू होने के कितने समय बाद वे ट्रैक पर पहली बार मिलेंगे?

- Ans
- 1. 300 सेकंड
 - 2. 240 सेकंड
 - 3. 480 सेकंड
 - 4. 520 सेकंड

Question ID : 264330122718
Status : Answered
Chosen Option : 3

Q.14 Rs.67.5 प्रति kg मूल्य के चावल को, Rs.60 प्रति kg मूल्य वाले चावल के साथ किस अनुपात में मिलाया जाना चाहिए ताकि औसत मूल्य Rs.64 प्रति kg प्राप्त हो सके?

- Ans
- 1. 8 : 7
 - 2. 7 : 8
 - 3. 6 : 5
 - 4. 5 : 6

Question ID : 26433073081
Status : Answered
Chosen Option : 1

Q.15 दो बेलनों की त्रिज्याएँ 2 : 1 के अनुपात में हैं और उनकी ऊँचाई 5 : 2 के अनुपात में है। उनके आयतनों का अनुपात क्या होगा?

- Ans
- 1. 5 : 1
 - 2. 10 : 1
 - 3. 15 : 1
 - 4. 20 : 1

Question ID : 264330103642
Status : Answered
Chosen Option : 2

Q.16 A एक कार्य को 30 दिनों में, B 50 दिनों में और C 40 दिनों में कर सकता है। यदि A को एक दिन B द्वारा और अगले दिन C द्वारा बारी बारी से सहायता प्रदान की जाती है, तो कार्य _____ समय में पूरा होगा।

- Ans
- ✓ 1. $17\frac{32}{35}$ दिन
 - ✗ 2. $17\frac{34}{35}$ दिन
 - ✗ 3. $17\frac{31}{35}$ दिन
 - ✗ 4. $17\frac{33}{35}$ दिन

Question ID : 26433082106
Status : Answered
Chosen Option : 1

Q.17 AD एक वृत्त की स्पर्श रेखा है और ABC एक छेदक रेखा है। यदि $AB = 8$ cm और $BC = 10$ cm है, तो AD की लंबाई ज्ञात कीजिए।

- Ans
- ✓ 1. 12 cm
 - ✗ 2. 144 cm
 - ✗ 3. 13.45 cm
 - ✗ 4. 12.5 cm

Question ID : 264330122097
Status : Answered
Chosen Option : 1

Q.18 एक टेलीविजन सेट का अंकित मूल्य ₹18,000 है। एक दुकानदार 40% की छूट देता है और 10% का लाभ प्राप्त करता है। टेलीविजन सेट का क्रय मूल्य ज्ञात करें।

- Ans
- ✗ 1. ₹8,181 $\frac{1}{11}$
 - ✓ 2. ₹9,818 $\frac{2}{11}$
 - ✗ 3. ₹7,821 $\frac{3}{11}$
 - ✗ 4. ₹9,531 $\frac{5}{11}$

Question ID : 264330104510
Status : Answered
Chosen Option : 2

Q.19 दो संख्याओं का महत्तम समापवर्तक (HCF), उनके लघूत्तम समापवर्त्य (LCM) का बीसवां (1/20) हिस्सा है। यदि एक संख्या 96 है और लघूत्तम समापवर्त्य और महत्तम समापवर्तक के बीच का अंतर 456 है, तो दूसरी संख्या क्या होगी?

- Ans
- 1. 72
 - 2. 144
 - 3. 48
 - 4. 120

Question ID : 26433063192
Status : Answered
Chosen Option : 4

Q.20 11^2 और 12^2 के बीच कितनी पूर्ण संख्या है?

- Ans
- 1. 24
 - 2. 21
 - 3. 22
 - 4. 23

Question ID : 264330123688
Status : Answered
Chosen Option : 3

Q.21 यदि $\sin A = \frac{8}{17}$ है, तो $\cot A + \sec A$ का मान क्या है?

- Ans
- 1. $4 \frac{1}{120}$
 - 2. $2 \frac{1}{120}$
 - 3. $3 \frac{1}{120}$
 - 4. $5 \frac{1}{120}$

Question ID : 264330126220
Status : Answered
Chosen Option : 3

Q.22 एक आयताकार भूखंड की लम्बाई उसकी चौड़ाई की तीन गुनी है। यदि आयताकार भूखंड का क्षेत्रफल 2700 m^2 है, तो आयताकार भूखंड की चौड़ाई कितनी है?

- Ans
- 1. 20 m
 - 2. 30 m
 - 3. 12 m
 - 4. 28 m

Question ID : 264330104211
Status : Answered
Chosen Option : 2

Q.23 किसी संख्या के 3 से विभाजित होने की शर्त क्या होती है?

- Ans
- 1. उस संख्या के अंतिम दो अंक 3 से विभाज्य हों
 - 2. उस संख्या के विषम और सम अंकों के योग का अंतर 3 से विभाज्य हो
 - 3. उस संख्या का अंतिम अंक या तो 0 या कोई सम संख्या हो
 - 4. उस संख्या के अंकों का योग 3 से विभाज्य हो

Question ID : 26433072988

Status : Answered

Chosen Option : 4

Q.24 दस रेफ्रिजरेटर और चार मोबाइल फोन का कुल क्रय मूल्य ₹2,10,000 है, जबकि छः रेफ्रिजरेटर और दो मोबाइल फोन का कुल क्रय मूल्य ₹1,22,000 है। एक रेफ्रिजरेटर और दो मोबाइल फोन का क्रय मूल्य (₹ में) क्या होगा?

- Ans
- 1. 35200
 - 2. 36000
 - 3. 34500
 - 4. 37000

Question ID : 264330126545

Status : Answered

Chosen Option : 4

Q.25 एक विद्यालय की कक्षा 11 में, 40 छात्रों ने भौतिक विज्ञान, 17 ने जीव विज्ञान और 20 ने रसायन विज्ञान विषय चुना। यदि कक्षा 11 में छात्रों की कुल संख्या 60 थी, और इन सभी छात्रों ने यहां वर्णित तीन विषयों में से कम से कम एक विषय चुना, और इनमें से ठीक पांच छात्रों ने सभी तीन विषय चुने, तो इस बात की क्या प्रायिकता है कि इस स्कूल के कक्षा 11 के एक यादृच्छिक रूप से चुने गए छात्र ने इन तीन विषयों में से ठीक एक विषय चुना होगा?

- Ans
- 1. 0.80
 - 2. 0.85
 - 3. 0.90
 - 4. 0.75

Question ID : 264330122861

Status : Answered

Chosen Option : 1

Q.26 निम्नलिखित का मान क्या होगा:

$$(1 + \cot A + \tan A)(\sin A - \cos A) \left(\frac{\sin A \cos A}{\sin^3 A - \cos^3 A} \right)$$

- Ans
- 1. -1
 - 2. 0
 - 3. 2
 - 4. 1

Question ID : 264330144227

Status : Answered

Chosen Option : 2

Q.27 निम्नलिखित आँकड़ों की माधिका ज्ञात कीजिए।
15, 30, 20, 10, 25, 35, 18, 21, 28

- Ans
- 1. 25
 - 2. 30
 - 3. 18
 - 4. 21

Question ID : 26433058695
Status : Answered
Chosen Option : 4

Q.28 A cube of side 5 cm, has been assembled using 125 cubes each of 1 cm edge. One cube is removed from the middle of each of the faces of the cube. What is the surface area (in cm^2) of the remaining solid?

- Ans
- 1. 150
 - 2. 174
 - 3. 155
 - 4. 144

Question ID : 26433063270
Status : Not Attempted and Marked For Review
Chosen Option : --

Q.29 यदि $\sin x + \sin^2 x = 1$, तो $\cos^8 x + 2 \cos^6 x + \cos^4 x$ का मान क्या है?

- Ans
- 1. 1
 - 2. 0
 - 3. 2
 - 4. 4

Question ID : 264330126222
Status : Answered
Chosen Option : 1

Q.30 दो संख्याओं का महत्तम समपवर्तक (HCF) 11 और उनका लघुत्तम समापवर्त्य (LCM) 693 है। यदि उनमें से एक संख्या 77 है, तो दूसरी संख्या ज्ञात कीजिए।

- Ans
- 1. 99
 - 2. 66
 - 3. 55
 - 4. 44

Question ID : 264330144225
Status : Answered
Chosen Option : 1

Section : Reasoning and General Intelligence

Q.1 किन दो संख्याओं को परस्पर प्रतिस्थापित करने से निम्नलिखित समीकरण सही हो जाएगा?
 $96 \div 8 - 3 \times 6 + 32 = 24$

- Ans
- 1. 8 और 32
 - 2. 6 और 8
 - 3. 3 और 32
 - 4. 3 और 8

Question ID : 264330148535
Status : Answered
Chosen Option : 2

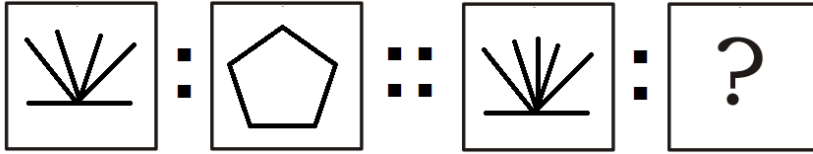
Q.2 नीचे दिए गए वाक्य में एक शब्द है, जिसमें अक्षरों को अव्यवस्थित किया गया है। बड़े अक्षरों में लिखे गए उस शब्द के अक्षरों को पुनर्व्यवस्थित करके सही शब्द बनाइए।

The ETNSIL night was interrupted only by the gentle rustling of leaves in the breeze.

- Ans
- 1. NILETS
 - 2. LISTEN
 - 3. TENILS
 - 4. SILENT

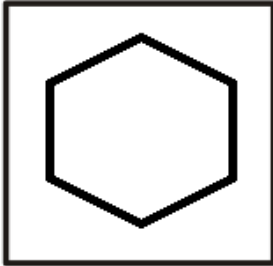
Question ID : 264330148514
Status : Answered
Chosen Option : 4

Q.3 उस विकल्प का चयन कीजिए जिसका तीसरी आकृति से वही संबंध है, जो दूसरी आकृति का पहली आकृति के साथ है।



Ans


✓ 1.



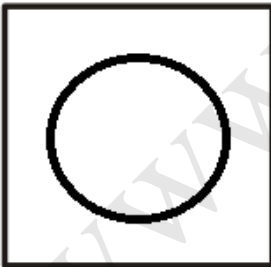
✗ 2.



✗ 3.



✗ 4.



Question ID : 264330148525

Status : Answered

Chosen Option : 1

Q.4 उस विकल्प का चयन कीजिए, जिसका पांचवीं संख्या से वही संबंध है, जो दूसरी संख्या का पहली संख्या के साथ, और चौथी संख्या का तीसरी संख्या के साथ है।
7 : 336 :: 3 : 24 :: 5 : ?

- Ans
- 1. 130
 - 2. 120
 - 3. 125
 - 4. 122

Question ID : 264330148532
Status : Answered
Chosen Option : 2

Q.5 दिए गए कथनों और निष्कर्षों को ध्यानपूर्वक पढ़िए। यह मानते हुए कि कथनों में दी गई जानकारी सत्य है, भले ही यह सामान्य रूप से ज्ञात तथ्यों से असंगत प्रतीत होती हो, तय कीजिए कि दिए गए निष्कर्षों में से कौन सा, कथनों का तार्किक रूप से अनुसरण करता है।

कथन:

- (A) सभी अभिनेता, स्वर्ण हैं।
- (B) सभी स्वर्ण, घर हैं।
- (C) सभी कमरे, घर हैं।

निष्कर्ष:

- I. कुछ स्वर्ण, कमरे हैं।
- II. कुछ कमरे, अभिनेता हैं।

- Ans
- 1. न तो निष्कर्ष I और न ही निष्कर्ष II अनुसरण करता है
 - 2. केवल निष्कर्ष II अनुसरण करता है
 - 3. निष्कर्ष I और निष्कर्ष II दोनों अनुसरण करते हैं
 - 4. केवल निष्कर्ष I अनुसरण करता है

Question ID : 264330148508
Status : Answered
Chosen Option : 1

Q.6 नीचे घटनाओं (i) और (ii) का एक युग्म दिया गया है। यह मानते हुए कि (i) और (ii) दोनों में दी गई जानकारी सत्य है, उनके संबंध की प्रकृति तय कीजिए। उत्तर निर्धारित करने के लिए, दी गई जानकारी के अतिरिक्त कुछ परिकल्पित मत कीजिए।

घटना (i): शहर में वायु प्रदूषण का उच्च स्तर

घटना (ii): जनसंख्या में श्वसन संबंधी और स्वास्थ्य संबंधी समस्याओं में वृद्धि

- Ans
- 1. घटना (ii) प्रभाव है और घटना (i) इसका कारण है।
 - 2. दोनों घटनाएँ किन्हीं स्वतंत्र कारणों के प्रभाव हैं।
 - 3. दोनों घटनाएँ किसी साझा कारण के प्रभाव हैं।
 - 4. घटना (i) प्रभाव है और घटना (ii) इसका कारण है।

Question ID : 264330148520
Status : Answered
Chosen Option : 1

Q.7 दिए गए कथन और निष्कर्षों को ध्यानपूर्वक पढ़िए। यह मानते हुए कि कथन में दी गई जानकारी सत्य है, तय कीजिए कि दिए गए निष्कर्षों में से कौन सा, कथन का तार्किक रूप से अनुसरण करता है।

कथन:

भारत के सबसे बड़े ऋणदाता बैंक ने घोषणा की है कि वह ग्राहकों को ₹20,000 तक की राशि के लिए, मांग पर्ची के बिना ₹2,000 के नोट बदलने की अनुमति देगा।

निष्कर्ष:

I. किसी को भी ₹20,000 से अधिक की राशि निकालने की अनुमति नहीं दी जाएगी।

II. ₹20,000 तक के विनिमय के लिए मांग पर्ची की आवश्यकता नहीं है।

Ans

- ✓ 1. केवल निष्कर्ष II अनुसरण करता है
✗ 2. केवल निष्कर्ष I अनुसरण करता है
✗ 3. न तो निष्कर्ष I और न ही निष्कर्ष II अनुसरण करता है
✗ 4. निष्कर्ष I और निष्कर्ष II दोनों अनुसरण करते हैं

Question ID : 264330148523

Status : Answered

Chosen Option : 1

Q.8 दिए गए कथन और निष्कर्षों को ध्यानपूर्वक पढ़िए। निर्धारित कीजिए कि दिए गए निष्कर्षों में से कौन सा/से कथन के अनुसार निश्चित रूप से सत्य है/हैं।

कथन: $M < K \leq N > P = J > O \geq L$

निष्कर्ष I: $N > L$

निष्कर्ष II: $O = M$

Ans

- ✗ 1. न तो निष्कर्ष I और न ही निष्कर्ष II सही है
✓ 2. केवल निष्कर्ष I सही है
✗ 3. केवल निष्कर्ष II सही है
✗ 4. निष्कर्ष I और निष्कर्ष II दोनों सही हैं

Question ID : 264330148510

Status : Answered

Chosen Option : 2

Q.9 दिए गए विकल्पों में से उस संख्या का चयन कीजिए, जो निम्नलिखित श्रृंखला में प्रश्न चिह्न (?) के स्थान पर आएगी।

337, 354, 373, 394, 417, ?

Ans

- ✗ 1. 440
✗ 2. 446
✓ 3. 442
✗ 4. 444

Question ID : 264330148531

Status : Answered

Chosen Option : 3

Q.10 दिए गए विकल्पों में से उस अक्षर-समूह का चयन कीजिए जो निम्नलिखित श्रृंखला में प्रश्न चिह्न (?) के स्थान पर आएगा।
EBD, JGI, ?, TQS, YVX

- Ans
- 1. NKO
 - 2. NLO
 - 3. OKN
 - 4. OLN

Question ID : 264330148512

Status : Answered

Chosen Option : 4

www.exammix.com

Q.11 उस विकल्प का चयन कीजिए, जिसमें दी गई आकृति अंतःस्थापित है (घुमाने की अनुमति है)।

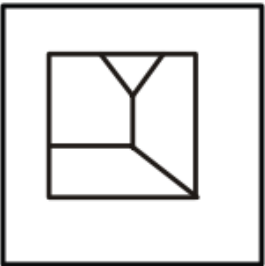


Ans

✓ 1.



✗ 2.



✗ 3.



✗ 4.



Question ID : 264330148528

Status : Answered

Chosen Option : 1

Q.12 उस विकल्प का चयन कीजिए जिसका तीसरे शब्द से वही संबंध है, जो दूसरे शब्द का पहले शब्द के साथ है।

लुगदी : कागज़ :: गन्ना : ?

- Ans
- 1. अंगूर
 - 2. दूध
 - 3. अंडा
 - 4. गुड़

Question ID : 264330148518

Status : Answered

Chosen Option : 4

Q.13 यदि '+' का अर्थ '÷', '×' का अर्थ '-', '÷' का अर्थ '+' और '-' का अर्थ '×' हो, तो निम्नलिखित समीकरण में

प्रश्न चिह्न (?) के स्थान पर कौन सा विकल्प आएगा

$$91 + 13 - 8 \times 37 \div 44 = ?$$

- Ans
- 1. 63
 - 2. 59
 - 3. 67
 - 4. 51

Question ID : 264330148534

Status : Answered

Chosen Option : 1

Q.14 A, B, C, D, E और F लेबल वाले छह बॉक्स ऊपर से नीचे की ओर ऊर्ध्व रूप से रखे गये हैं। शीर्ष स्थिति को पहली स्थिति माना गया है, जबकि नीचे की स्थिति अंतिम स्थिति है। बॉक्स F को बॉक्स E के ठीक ऊपर रखा गया है। A और B के बीच तीन बॉक्स हैं। बॉक्स A, बॉक्स B के ऊपर है। E और D के बीच एक बॉक्स है। E और C के बीच तीन बॉक्स हैं। बॉक्स E को दूसरे अंतिम स्थान पर रखा गया है। निम्नलिखित में से कौन सा बॉक्स, D नामक बॉक्स के ठीक ऊपर रखा गया है?

- Ans
- 1. A
 - 2. F
 - 3. C
 - 4. B

Question ID : 264330148507

Status : Answered

Chosen Option : 1

Q.15 दिए गए विकल्पों में से उस आकृति का चयन कीजिए, जो निम्नलिखित श्रृंखला में प्रश्न चिह्न (?) के स्थान पर आएगी।

\bar{H} ϕ \neq β μ ψ ∞ α ω	ω β \bar{H} α \neq ϕ μ ψ ∞	∞ α ω ψ \bar{H} β \neq ϕ μ	<p style="text-align: center;">?</p>
---	---	---	--------------------------------------

Ans

✗ 1.

μ	ψ	ω
α	∞	ϕ
\bar{H}	β	\neq

✗ 2.

μ	ψ	∞
ϕ	\neq	α
\bar{H}	β	ω

✓ 3.

μ	ψ	∞
ϕ	ω	α
\bar{H}	β	\neq

✗ 4.

μ	β	∞
α	\neq	ϕ
\bar{H}	ψ	ω

Question ID : 264330148524

Status : Answered

Chosen Option : 3

Q.16 एक निश्चित कूट भाषा में, 'GATE' को 'JOFB' और 'IDLE' को 'JGID' लिखा जाता है। उसी भाषा में 'MILK' को कैसे लिखा जाएगा?

- Ans
- 1. OFMG
 - 2. PGNH
 - 3. PNGH
 - 4. OMFG

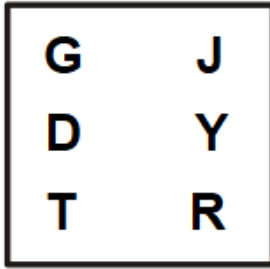
Question ID : 264330148516

Status : Answered

Chosen Option : 2

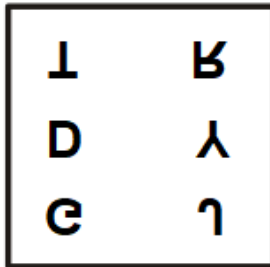
www.exammix.com

Q.17 दी गई आकृति के सही जल प्रतिबिंब का चयन कीजिए।

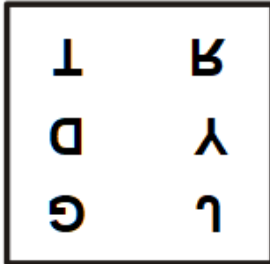


Ans

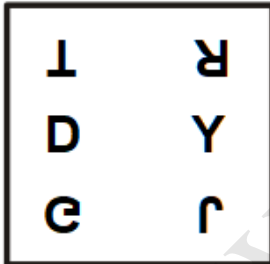
✓ 1.



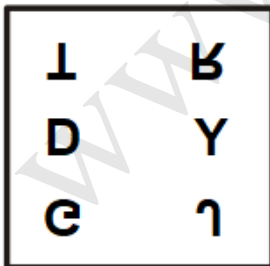
✗ 2.



✗ 3.



✗ 4.



Question ID : 264330148527

Status : Answered

Chosen Option : 2

Q.18 दिए गए कथन और निष्कर्षों को ध्यानपूर्वक पढ़िए। यह मानते हुए कि कथन में दी गई जानकारी सत्य है, तय कीजिए कि दिए गए निष्कर्षों में से कौन सा, कथन का तार्किक रूप से अनुसरण करता है।

कथन:

अगले दशक के भीतर कार्बन उत्सर्जन को 50% तक कम करना, नई सरकार की नीति का लक्ष्य है।

निष्कर्ष:

I. सरकार, जीवाश्म ईंधन पर चलने वाले सभी वाहनों पर तुरंत प्रतिबंध लगा देगी।

II. सरकार, कोयले से चलने वाले सभी बिजली संयंत्रों को बंद कर देगी।

- Ans
- 1. केवल निष्कर्ष II अनुसरण करता है
 - 2. न तो निष्कर्ष I और न ही निष्कर्ष II अनुसरण करता है
 - 3. निष्कर्ष I और निष्कर्ष II दोनों अनुसरण करते हैं
 - 4. केवल निष्कर्ष I अनुसरण करता है

Question ID : 264330148522

Status : Answered

Chosen Option : 2

www.exammix.com

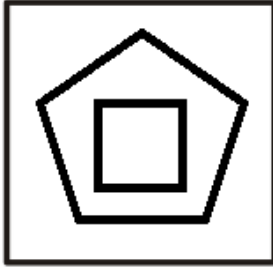
Q.19 उस आकृति की पहचान कीजिए जो निम्नलिखित श्रृंखला से संबंधित नहीं है।

Ans

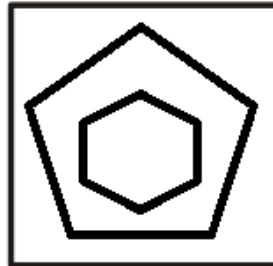
✗ 1.




✗ 2.



✓ 3.



✗ 4.



Question ID : 264330148526

Status : Answered

Chosen Option : 3

Q.20 एक निश्चित कूट भाषा में, 'RETAIL' को 'FNQWJY' लिखा जाता है और 'POLICE' को 'NHJUTQ' लिखा जाता है। उसी भाषा में 'HARBOR' को कैसे लिखा जाएगा?

Ans ✓ 1. GTWMFW

✗ 2. GTMWFW

✗ 3. GTWMWF

✗ 4. GTMWWF

Question ID : 264330148517

Status : Answered

Chosen Option : 1

Q.21 यदि आप एक कतार में एक सिरे से 27वें और दूसरे सिरे से 38 वें स्थान पर हैं, तो कतार में कुल कितने व्यक्ति हैं?

- Ans 1. 65
 2. 64
 3. 66
 4. 63

Question ID : 264330148506
Status : Answered
Chosen Option : 2

Q.22 उस विकल्प का चयन कीजिए जो दिए गए शब्दों का वही क्रम इंगित करता है जिस क्रम में वे अंग्रेजी शब्दकोश में आते हैं।

1. Talisman
2. Tantamount
3. Tangential
4. Tantalizing
5. Taciturn

- Ans 1. 3, 5, 1, 4, 2
 2. 4, 2, 3, 5, 1
 3. 5, 1, 3, 4, 2
 4. 1, 4, 3, 5, 2

Question ID : 264330148511
Status : Answered
Chosen Option : 3

Q.23 दिए गए विकल्पों में से उस अक्षर-समूह का चयन कीजिए जो निम्नलिखित श्रृंखला में प्रश्न चिह्न (?) के स्थान पर आएगा।
HCE, MHJ, ?, TOQ, VQS, WRT

- Ans 1. RMO
 2. RLN
 3. QLN
 4. QMO

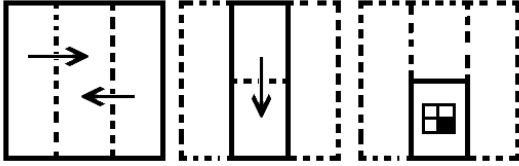
Question ID : 264330148513
Status : Answered
Chosen Option : 3

Q.24 उस शब्द-जोड़ी का चयन कीजिए, जिसमें दोनों शब्दों के बीच का संबंध, शेष शब्द-युग्मों में दोनों शब्दों के बीच के संबंध से भिन्न है।

- Ans 1. Fallacy : Illusion
 2. Assign : Allot
 3. Solicit : Request
 4. Initial : Final


Question ID : 264330148519
Status : Answered
Chosen Option : 4

Q.25 कागज के एक टुकड़े को मोड़ने का क्रम और मोड़े गए कागज को काटने का तरीका, निम्नलिखित आकृतियों में दिखाया गया है। कागज को खोलने पर यह कैसा दिखेगा?




Ans


✗ 1.




✓ 2.



✗ 3.



✗ 4.

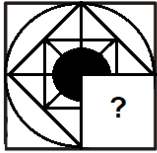


Question ID : 264330148529

Status : Answered

Chosen Option : 2

Q.26 विकल्पों में से उस आकृति का चयन कीजिए जो प्रश्न चिह्न (?) के स्थान पर आएगी, और दिए गए पैटर्न को पूरा करेगी।



Ans

✓ 1.



✗ 2.



✗ 3.



✗ 4.



Question ID : 264330148530

Status : Answered

Chosen Option : 1

Q.27 दिए गए कथन और निष्कर्षों को ध्यानपूर्वक पढ़िए। निर्धारित कीजिए कि दिए गए निष्कर्षों में से कौन सा/से, कथन के अनुसार निश्चित रूप से सत्य है/हैं।

कथन: $F > B < E \leq C = D \geq A > G$

निष्कर्ष I: $G < F$

निष्कर्ष II: $C > G$

Ans

✗ 1. निष्कर्ष I और निष्कर्ष II दोनों सही हैं

✗ 2. न तो निष्कर्ष I और न ही निष्कर्ष II सही है

✓ 3. केवल निष्कर्ष II सही है

✗ 4. केवल निष्कर्ष I सही है

Question ID : 264330148509

Status : Answered

Chosen Option : 3

Q.28 नीचे दिए गए वाक्य में एक शब्द है, जिसमें अक्षरों को अव्यवस्थित किया गया है। बड़े अक्षरों में लिखे गए उस शब्द के अक्षरों को पुनर्व्यवस्थित करके सही शब्द बनाइए।

After a long negotiation, they finally reached a EADL that satisfied both parties.

- Ans
- 1. LADE
 - 2. DALE
 - 3. LEAD
 - 4. DEAL

Question ID : 264330148515
Status : Answered
Chosen Option : 4

Q.29 चार संख्या-युग्म दिए गए हैं, जिनमें से तीन किसी भाँति समान हैं और एक असंगत है। असंगत का चयन कीजिए।

- Ans
- 1. (671, 782)
 - 2. (456, 765)
 - 3. (258, 369)
 - 4. (837, 948)

Question ID : 264330148533
Status : Answered
Chosen Option : 2

Q.30 दिए गए कथनों और कार्यवाहियों को ध्यान से पढ़िए। यह मानते हुए कि कथन में दी गई जानकारी सत्य है, यह तय कीजिए कि दी गयी कार्यवाहियों में से कौन सी, तार्किक रूप से अनुसरण करती है।

कथन:

अति व्यस्त समय में शहर में ट्रैफिक का दबाव काफी बढ़ जाता है।

कार्यवाही:

I. निजी वाहनों के व्यवहार्य विकल्प प्रदान करने के लिए सार्वजनिक परिवहन के बुनियादी ढांचे और सेवाओं में सुधार।

II. अति व्यस्त समय के दौरान ड्राइवरों पर भारी जुर्माना लगाएँ।

- Ans
- 1. न तो कार्यवाही I और न ही कार्यवाही II अनुसरण करती है
 - 2. कार्यवाही I और कार्यवाही II दोनों अनुसरण करती हैं
 - 3. केवल कार्यवाही I अनुसरण करती है
 - 4. केवल कार्यवाही II अनुसरण करती है

Question ID : 264330148521
Status : Answered
Chosen Option : 3

Section : English Language and Comprehension

Q.1 Select the most appropriate synonym of the given word.
Faithful

- Ans** 1. Devoted
 2. Fickle
 3. Wavering
 4. Untrustworthy

Question ID : **26433060449**
Status : **Answered**
Chosen Option : **1**

Q.2 Select the option that can be used as a one-word substitute for the given group of words.

Giving cause for legal action

- Ans** 1. Objectionable
 2. Actionable
 3. Legalizing
 4. Lawful

Question ID : **26433090544**
Status : **Answered**
Chosen Option : **2**

Q.3 Select the option that expresses the given sentence in indirect speech.
The lawyer told the father of the accused, "There is a rumour that he has some connection in that crime."

- Ans** 1. The lawyer told the father of the accused that there was a rumour that he has had some connection in that crime.
 2. The lawyer told the father of the accused that there was a rumour that he had some connection in that crime.
 3. The lawyer told the father of the accused that there had been a rumour that he had some connection in that crime.
 4. The lawyer told the father of the accused that there was a rumour that he was having some connection in that crime.

Question ID : **26433084933**
Status : **Answered**
Chosen Option : **2**

Q.4 Some sentences are given below. While the first and the last sentences (1 and 2) are in the correct order, the sentences in between are jumbled up. Arrange the sentences in the correct order to form a meaningful and coherent paragraph.

1. "Do you still recognise me?" I asked.
A. The woman looked at me searchingly.
B. "I am Mrs. S's daughter".
C. I came closer and stood on the step.
D. She opened the door a little.
2. She kept staring at me in silence.

- Ans** 1. BADC
 2. BACD
 3. BDAC
 4. BCAD

Question ID : **264330131414**
Status : **Marked For Review**
Chosen Option : **2**

Q.5 Select the option that expresses the given sentence in passive voice.

I gifted a soft toy to my daughter.

- Ans 1. A soft toy was being gifted to my daughter by me.
 2. A soft toy is gifted to my daughter by me.
 3. To my daughter was gifted a soft toy by me.
 4. A soft toy was gifted to my daughter by me.

Question ID : 26433099071
Status : Answered
Chosen Option : 4

Q.6 Select the most appropriate ANTONYM of the given word.
Sanitise

- Ans 1. Sacrifice
 2. Pollute
 3. Devote
 4. Purify

Question ID : 264330135961
Status : Answered
Chosen Option : 2

Q.7 Some sentences are given below. While the first and the last sentences (1 and 2) are in the correct order, the sentences in between are jumbled up. Arrange the sentences in the correct order to form a meaningful and coherent paragraph.

1.Ranga is the accountant's son.

A.He returned to his village after his studies were over.

B.He is one rare breed of village folk who loved studies.

C.On his return the villagers milled around his house to see whether he has changed or not.

D.He had gone to Bangalore to pursue his studies.

2.His idea about marriage are now quite different.

- Ans 1. BCDA
 2. BCAD
 3. BDAC
 4. BDCA

Question ID : 264330131415
Status : Answered
Chosen Option : 3

Q.8 Select the most appropriate option to fill in the blanks.

Reptiles _____ from amphibians. For a long period of 160 million years in earth's history, reptiles were the dominant form of life on the planet and _____ in an enormous variety of shapes and sizes.

- Ans 1. developed; continued
 2. evolved; existed
 3. came; exhausted
 4. involved; lived

Question ID : 26433070736
Status : Answered
Chosen Option : 2

Q.9 Select the **INCORRECTLY** spelt word.

- Ans
- 1. Caucus
 - 2. Noticeable
 - 3. Subpoena
 - 4. Milennium

Question ID : 264330141079
Status : Answered
Chosen Option : 1

Q.10 Select the most appropriate option that can substitute the underlined segment in the given sentence. If there is no need to substitute it, select 'No substitution required'.
An ultralight airplane is very different from a conventional airplane. It is looking like a lawn chair with wings.

- Ans
- 1. looked like
 - 2. No substitution required
 - 3. looks like
 - 4. look like

Question ID : 26433063762
Status : Answered
Chosen Option : 3

Q.11 Select the most appropriate **ANTONYM** of the underlined word.
The young girl is very audacious in every activity.

- Ans
- 1. Bright
 - 2. Ferocious
 - 3. Timid
 - 4. Bold

Question ID : 264330135964
Status : Answered
Chosen Option : 3

Q.12 Select the option that expresses the given sentence in passive voice.
The seller shall dispatch the parcel soon to Chennai.

- Ans
- 1. The parcel might be dispatched by the seller to Chennai soon.
 - 2. The parcel can be dispatched by the seller to Chennai soon.
 - 3. The parcel may be dispatched by the seller to Chennai soon.
 - 4. The parcel will be dispatched soon to Chennai by the seller.

Question ID : 264330117319
Status : Answered
Chosen Option : 4

Q.13 Select the option that can be used as a one-word substitute for the given group of words.

An official appointed to resolve a dispute

- Ans 1. Soothsayer
 2. Arbitrator
 3. Advocate
 4. Confidante

Question ID : 26433073361
Status : Answered
Chosen Option : 2

Q.14 Parts of the following sentence have been given as options. Select the option that contains an error.

The students were able to get better from college early so they went to the movies.

- Ans 1. went to the movies
 2. college early so they
 3. to get better from
 4. The students were able

Question ID : 26433088472
Status : Answered
Chosen Option : 1

Q.15 Select the most appropriate option to fill in the blanks.

Fingernails and toenails helped our _____ to climb trees, peel fruits and use simple tools. While their colour and condition offer clues about your _____ health. Nail polish turns them into fashion accessories.

- Ans 1. predecessor; universal
 2. forefather; all in all
 3. ancestors; overall
 4. general; altogether

Question ID : 26433070738
Status : Answered
Chosen Option : 1

Q.16 Parts of a sentence are given below in jumbled order. Arrange the parts in the correct order to form a meaningful sentence.

The ashrams / used / were / the centres / of / knowledge and learning / as

- Ans 1. The ashrams were used as the centres of knowledge and learning.
 2. Knowledge and learning were used as the centres of the ashrams.
 3. As The ashrams of knowledge and learning were used the centres.
 4. The centres of the ashrams were used as knowledge and learning.

Question ID : 26433059611
Status : Answered
Chosen Option : 1

Q.17 The following sentence has been split into four segments. Identify the segment that contains a grammatical error.

The police could not / hold on the people / for long as they / gathered in large numbers

- Ans**
- 1. The police could not
 - 2. for long as they
 - 3. hold on the people
 - 4. gathered in large numbers

Question ID : **26433070493**
Status : **Answered**
Chosen Option : **1**

Q.18 Parts of a sentence are given below in jumbled order. Arrange the parts in the correct order to form a meaningful sentence.

An elaborate network / is / the plot of /schemes and tricks / of Much Ado About Nothing

- Ans**
- 1. The plot of schemes and tricks is an elaborate network of Much Ado About Nothing
 - 2. The plot is of schemes and tricks an elaborate network of Much Ado About Nothing.
 - 3. The plot of Much Ado About Nothing is an elaborate network of schemes and tricks.
 - 4. An elaborate network of Much Ado About Nothing is the plot of schemes and tricks.

Question ID : **26433058346**
Status : **Answered**
Chosen Option : **3**

Q.19 Sentences of a paragraph are given below in jumbled order. Arrange the sentences in the correct order to form a meaningful and coherent paragraph.

A.It is almost a definition of a gentleman to say he is one who never inflicts pain
B.He is mainly occupied in merely removing the obstacles which hinder the free and unembarrassed action of those about him, and he concurs with their movements rather than takes the initiative himself.
C.The true gentleman in like manner carefully avoids whatever may cause a jar or a jolt in the minds of those with whom he is cast; all clashing of opinion, or collision of feeling, all restraint, or suspicion, or gloom, or resentment; his great concern being to make everyone at their ease and at home.
D.His benefits may be considered as parallel to what are called comforts or conveniences in arrangements of a personal nature: like an easy chair or a good fire, which do their part in dispelling cold and fatigue, though nature provides both means of rest and animal heat without them

- Ans**
- 1. DBAC
 - 2. ABCD
 - 3. BACD
 - 4. DCBA

Question ID : **26433058279**
Status : **Answered**
Chosen Option : **4**

Q.20 Select the **INCORRECTLY** spelt word.

- Ans**
- 1. Accompanied
 - 2. Affection
 - 3. Accomodate
 - 4. Appearance

Question ID : **26433088424**
Status : **Answered**
Chosen Option : **3**

Q.21 Select the most appropriate meaning of the given idiom.

The officer asked his subordinates to keep him posted of the workplace developments.

- Ans**
- 1. not disturb him in matters
 - 2. maintain secrecy
 - 3. keep sharing the latest information
 - 4. send letters by post

Question ID : **26433099090**
Status : **Answered**
Chosen Option : **3**

Q.22 Select the option that expresses the given sentence in direct speech.

My son exclaimed with joy that it was an attractive site.

- Ans**
- 1. My son said, "What an attractive site it was!"
 - 2. My son said, "It was an attractive site."
 - 3. My son said, "It is an attractive site."
 - 4. My son said, "What an attractive site it is!"

Question ID : **26433099076**
Status : **Answered**
Chosen Option : **4**

Q.23 Select the option that expresses the given sentence in passive voice.
Simran was plucking the flowers.

- Ans**
- 1. The flowers were being plucked by Simran.
 - 2. The flowers will be plucked by Simran.
 - 3. The flowers are plucked by Simran.
 - 4. The flowers have been plucked by Simran.

Question ID : **264330134196**
Status : **Answered**
Chosen Option : **1**

Q.24 Select the correct direct narration of the given sentence.
Madhav applauded her, saying that she had done well.

- Ans**
- 1. Madhav say, "Bravo! You have done well".
 - 2. Madhav say, "Bravo! You have be done well".
 - 3. Madhav said, "Bravo! You been done well".
 - 4. Madhav said, "Bravo! You have done well".

Question ID : 264330132879
Status : Answered
Chosen Option : 4

Q.25 Select the most appropriate synonym of the given word.

Flout

- Ans**
- 1. Poke
 - 2. Rude
 - 3. Defy
 - 4. Rash

Question ID : 26433088320
Status : Answered
Chosen Option : 3

Q.26 Choose the correct meaning of the underlined idiom in the given sentence.
There is no point developing bad blood with your neighbours.

- Ans**
- 1. Enmity
 - 2. Friendship
 - 3. Business relations
 - 4. Family relations

Question ID : 26433059959
Status : Answered
Chosen Option : 1

Q.27 Select the most appropriate option that can substitute the underlined segment in the given sentence. If there is no need to substitute it, select 'No substitution required'.

Raju did very well in the exam, he must study well.

- Ans**
- 1. he must have studied well
 - 2. No substitution required
 - 3. he may study well
 - 4. he should have studied well

Question ID : 26433063626
Status : Answered
Chosen Option : 1

Q.28 Select the most appropriate option to fill in the blank.

Quarrels result in _____ confrontations and bring all conversations to a complete standstill.

- Ans**
- 1. disputed
 - 2. hot
 - 3. heated
 - 4. cold

Question ID : 26433070599
Status : Answered
Chosen Option : 3

Comprehension:

Read the given passage and answer the questions that follow.

China and India together will account for more than a third of the estimated global population, which is expected to hit 8.045 billion by mid-year, according to the United Nations Population Fund's (UNFPA) 'State of World Population Report' for 2023. But, contrary to public perception, population growth has been slowing in both countries – particularly in China, which recorded a population decline for the first time in six decades last year.

China's population fell in 2022 to 1.411 billion, down some 850,000 people from the previous year, according to China's National Bureau of Statistics (NBS). The birth rate also fell to a record low of 6.77 births per 1,000 people, down from 7.52 a year earlier and the lowest level since the founding of Communist China in 1949.

Along with the flagging population data, China also reported one of its worst economic growth numbers in nearly half a century last year, underscoring the steep challenges the country faces as its labor force shrinks and the ranks of the retired swell.

India's working-age population stands at more than 900 million, according to 2021 data from the Organization for Economic Cooperation and Development. This number is expected to hit more than 1 billion over the next decade, according to the Indian government. But these numbers could become a liability if policymakers do not create enough jobs, experts warned.

SubQuestion No : 29

Q.29 The main theme of the given passage is:

- Ans**
- 1. slow population growth in India and China
 - 2. China's worsening economic growth
 - 3. China's declining population
 - 4. India's working-age population

Question ID : 264330148472
Status : Answered
Chosen Option : 1

Comprehension:

Read the given passage and answer the questions that follow.

China and India together will account for more than a third of the estimated global population, which is expected to hit 8.045 billion by mid-year, according to the United Nations Population Fund's (UNFPA) 'State of World Population Report' for 2023. But, contrary to public perception, population growth has been slowing in both countries – particularly in China, which recorded a population decline for the first time in six decades last year.

China's population fell in 2022 to 1.411 billion, down some 850,000 people from the previous year, according to China's National Bureau of Statistics (NBS). The birth rate also fell to a record low of 6.77 births per 1,000 people, down from 7.52 a year earlier and the lowest level since the founding of Communist China in 1949.

Along with the flagging population data, China also reported one of its worst economic growth numbers in nearly half a century last year, underscoring the steep challenges the country faces as its labor force shrinks and the ranks of the retired swell.

India's working-age population stands at more than 900 million, according to 2021 data from the Organization for Economic Cooperation and Development. This number is expected to hit more than 1 billion over the next decade, according to the Indian government. But these numbers could become a liability if policymakers do not create enough jobs, experts warned.

SubQuestion No : 30

Q.30 What is the estimated world population by the middle of this year?

- Ans
- 1. 1.411 billion
 - 2. 900 million
 - 3. 1.256 billion
 - 4. 8.045 billion

Question ID : 264330148473

Status : Answered

Chosen Option : 4

Comprehension:

Read the given passage and answer the questions that follow.

China and India together will account for more than a third of the estimated global population, which is expected to hit 8.045 billion by mid-year, according to the United Nations Population Fund's (UNFPA) 'State of World Population Report' for 2023. But, contrary to public perception, population growth has been slowing in both countries – particularly in China, which recorded a population decline for the first time in six decades last year.

China's population fell in 2022 to 1.411 billion, down some 850,000 people from the previous year, according to China's National Bureau of Statistics (NBS). The birth rate also fell to a record low of 6.77 births per 1,000 people, down from 7.52 a year earlier and the lowest level since the founding of Communist China in 1949.

Along with the flagging population data, China also reported one of its worst economic growth numbers in nearly half a century last year, underscoring the steep challenges the country faces as its labor force shrinks and the ranks of the retired swell.

India's working-age population stands at more than 900 million, according to 2021 data from the Organization for Economic Cooperation and Development. This number is expected to hit more than 1 billion over the next decade, according to the Indian government. But these numbers could become a liability if policymakers do not create enough jobs, experts warned.

SubQuestion No : 31

Q.31 Identify whether the given statements are true or false.

A. India's working-age population was 900 million in 2021.

B. In the next ten years, India's working-age population will be more than 1 billion.

- Ans
- 1. A is true and B is false.
 - 2. Both A and B are true.
 - 3. Neither A nor B is true.
 - 4. A is false and B is true.

Question ID : 264330148474

Status : Answered

Chosen Option : 2

Comprehension:

Read the given passage and answer the questions that follow.

China and India together will account for more than a third of the estimated global population, which is expected to hit 8.045 billion by mid-year, according to the United Nations Population Fund's (UNFPA) 'State of World Population Report' for 2023. But, contrary to public perception, population growth has been slowing in both countries – particularly in China, which recorded a population decline for the first time in six decades last year.

China's population fell in 2022 to 1.411 billion, down some 850,000 people from the previous year, according to China's National Bureau of Statistics (NBS). The birth rate also fell to a record low of 6.77 births per 1,000 people, down from 7.52 a year earlier and the lowest level since the founding of Communist China in 1949.

Along with the flagging population data, China also reported one of its worst economic growth numbers in nearly half a century last year, underscoring the steep challenges the country faces as its labor force shrinks and the ranks of the retired swell.

India's working-age population stands at more than 900 million, according to 2021 data from the Organization for Economic Cooperation and Development. This number is expected to hit more than 1 billion over the next decade, according to the Indian government. But these numbers could become a liability if policymakers do not create enough jobs, experts warned.

SubQuestion No : 32

Q.32 'Along with the flagging population data.' Here, 'flagging' means all of the following EXCEPT:

- Ans**
- 1. contracting
 - 2. waning
 - 3. dwindling
 - 4. ascending

Question ID : 264330148475

Status : Answered

Chosen Option : 4

Comprehension:

Read the given passage and answer the questions that follow.

King Sagara, an ancestor of King Bhagiratha, once conducted an ashwamedha yagna to extend his dominion. When the horse went astray, the king sent his 60,000 sons to find the horse. Unfortunately, in the course of the quest, they ended up disrupting the intense meditation of sage Kapila, at whose abode they found the horse. Kapila burnt them all to ashes, sending them all to the netherworld—an act he instantly regretted when he realised what had happened. After breaking the news to King Sagara, he mentioned that the souls of King Sagara's sons could attain salvation only if the heavenly Ganga could be persuaded to flow over their ashes.

It was Bhagiratha, whose austere penance and devotion pleased Lord Shiva so much so that he persuaded Ganga to descend to the earth. Ganga consented, but the problem arose that the earth would probably be unable to bear the intensity of Ganga's flow and even be shattered in the process. Thus, a solution was devised: Ganga would first land on Shiva's head and the locks of his hair would minimise the impact. Still, the force of Ganga's landing was such that it split into seven tributaries, three of which flowed east and three of them west. The seventh stream followed King Bhagiratha to the place where his ancestor's ashes lay. The river's waters instantly purified them. This is also the origin of the belief that the Ganga's waters can purify mortal souls of all their sins.

SubQuestion No : 33

Q.33 The above story is mainly about:

- Ans**
- 1. the sage Kapila's anger for King Sagara's sons
 - 2. the coming of the river Ganga to the earth
 - 3. the ashwamedha yagna by King Sagara
 - 4. Lord Shiva holding the Ganga in his locks

Question ID : 264330148467

Status : Answered

Chosen Option : 2

Comprehension:

Read the given passage and answer the questions that follow.

King Sagara, an ancestor of King Bhagiratha, once conducted an ashwamedha yagna to extend his dominion. When the horse went astray, the king sent his 60,000 sons to find the horse. Unfortunately, in the course of the quest, they ended up disrupting the intense meditation of sage Kapila, at whose abode they found the horse. Kapila burnt them all to ashes, sending them all to the netherworld—an act he instantly regretted when he realised what had happened. After breaking the news to King Sagara, he mentioned that the souls of King Sagara's sons could attain salvation only if the heavenly Ganga could be persuaded to flow over their ashes.

It was Bhagiratha, whose austere penance and devotion pleased Lord Shiva so much so that he persuaded Ganga to descend to the earth. Ganga consented, but the problem arose that the earth would probably be unable to bear the intensity of Ganga's flow and even be shattered in the process. Thus, a solution was devised: Ganga would first land on Shiva's head and the locks of his hair would minimise the impact. Still, the force of Ganga's landing was such that it split into seven tributaries, three of which flowed east and three of them west. The seventh stream followed King Bhagiratha to the place where his ancestor's ashes lay. The river's waters instantly purified them. This is also the origin of the belief that the Ganga's waters can purify mortal souls of all their sins.

SubQuestion No : 34

Q.34 Identify the option that arranges the given events in the correct sequence of their occurrence.

- A. King Sagara's sons were burnt by sage Kapila.
- B. King Bhagiratha persuaded Ganga to flow to the earth.
- C. King Sagara performed an ashwamedha yagna.
- D. The souls of the dead sons would not get salvation until Ganga flowed over their ashes.
- E. However, the flow had to be restrained by Shiva by holding it in his locks.

Ans ✗ 1. ADCBE

✓ 2. CADBE

✗ 3. ACEBD

✗ 4. CAEDB

Question ID : 264330148469

Status : Answered

Chosen Option : 2

Comprehension:

Read the given passage and answer the questions that follow.

King Sagara, an ancestor of King Bhagiratha, once conducted an ashwamedha yagna to extend his dominion. When the horse went astray, the king sent his 60,000 sons to find the horse. Unfortunately, in the course of the quest, they ended up disrupting the intense meditation of sage Kapila, at whose abode they found the horse. Kapila burnt them all to ashes, sending them all to the netherworld—an act he instantly regretted when he realised what had happened. After breaking the news to King Sagara, he mentioned that the souls of King Sagara's sons could attain salvation only if the heavenly Ganga could be persuaded to flow over their ashes.

It was Bhagiratha, whose austere penance and devotion pleased Lord Shiva so much so that he persuaded Ganga to descend to the earth. Ganga consented, but the problem arose that the earth would probably be unable to bear the intensity of Ganga's flow and even be shattered in the process. Thus, a solution was devised: Ganga would first land on Shiva's head and the locks of his hair would minimise the impact. Still, the force of Ganga's landing was such that it split into seven tributaries, three of which flowed east and three of them west. The seventh stream followed King Bhagiratha to the place where his ancestor's ashes lay. The river's waters instantly purified them. This is also the origin of the belief that the Ganga's waters can purify mortal souls of all their sins.

SubQuestion No : 35

Q.35 'It was Bhagiratha, whose austere penance....' The word 'austere' here means:

- Ans**
- 1. rustic
 - 2. bare
 - 3. subdued
 - 4. severe

Question ID : 264330148470

Status : Answered

Chosen Option : 1

Comprehension:

Read the given passage and answer the questions that follow.

King Sagara, an ancestor of King Bhagiratha, once conducted an ashwamedha yagna to extend his dominion. When the horse went astray, the king sent his 60,000 sons to find the horse. Unfortunately, in the course of the quest, they ended up disrupting the intense meditation of sage Kapila, at whose abode they found the horse. Kapila burnt them all to ashes, sending them all to the netherworld—an act he instantly regretted when he realised what had happened. After breaking the news to King Sagara, he mentioned that the souls of King Sagara's sons could attain salvation only if the heavenly Ganga could be persuaded to flow over their ashes.

It was Bhagiratha, whose austere penance and devotion pleased Lord Shiva so much so that he persuaded Ganga to descend to the earth. Ganga consented, but the problem arose that the earth would probably be unable to bear the intensity of Ganga's flow and even be shattered in the process. Thus, a solution was devised: Ganga would first land on Shiva's head and the locks of his hair would minimise the impact. Still, the force of Ganga's landing was such that it split into seven tributaries, three of which flowed east and three of them west. The seventh stream followed King Bhagiratha to the place where his ancestor's ashes lay. The river's waters instantly purified them. This is also the origin of the belief that the Ganga's waters can purify mortal souls of all their sins.

SubQuestion No : 36

Q.36 This story is a:

- Ans**
- 1. historical story
 - 2. true story
 - 3. fable
 - 4. mythological story

Question ID : 264330148468

Status : Answered

Chosen Option : 3

Comprehension:

In the following passage, some words have been deleted. Read the passage carefully and select the most appropriate option to fill in each blank.

Astronomers have discovered 62 new moons orbiting the ringed planet Saturn.

Though some of the moons had been (1) _____ as early as 2019, it takes more than sighting an object close to a planet to (2) _____ it is a moon and not an asteroid making a brief close passage to that planet.

Performing a painstaking (3) _____ of matching objects detected on different nights over the course of 24 months, the team tracked 63 objects that they ended up confirming as moons. One of (4) _____ satellites was revealed back in 2021, with the remaining 62 moons gradually announced over the past few weeks.

SubQuestion No : 37

Q.37 Select the most appropriate option to fill in blank no. 3.

- Ans** 1. product
 2. process
 3. progress
 4. practice

Question ID : **264330148464**
Status : **Answered**
Chosen Option : **2**

Comprehension:

In the following passage, some words have been deleted. Read the passage carefully and select the most appropriate option to fill in each blank.

Astronomers have discovered 62 new moons orbiting the ringed planet Saturn.

Though some of the moons had been (1) _____ as early as 2019, it takes more than sighting an object close to a planet to (2) _____ it is a moon and not an asteroid making a brief close passage to that planet.

Performing a painstaking (3) _____ of matching objects detected on different nights over the course of 24 months, the team tracked 63 objects that they ended up confirming as moons. One of (4) _____ satellites was revealed back in 2021, with the remaining 62 moons gradually announced over the past few weeks.

SubQuestion No : 38

Q.38 Select the most appropriate option to fill in blank no. 1.

- Ans** 1. spot
 2. spots
 3. spotting
 4. spotted

Question ID : **264330148462**
Status : **Answered**
Chosen Option : **4**

Comprehension:

In the following passage, some words have been deleted. Read the passage carefully and select the most appropriate option to fill in each blank.

Astronomers have discovered 62 new moons orbiting the ringed planet Saturn.

Though some of the moons had been (1) _____ as early as 2019, it takes more than sighting an object close to a planet to (2) _____ it is a moon and not an asteroid making a brief close passage to that planet.

Performing a painstaking (3) _____ of matching objects detected on different nights over the course of 24 months, the team tracked 63 objects that they ended up confirming as moons. One of (4) _____ satellites was revealed back in 2021, with the remaining 62 moons gradually announced over the past few weeks.

SubQuestion No : 39

Q.39 Select the most appropriate option to fill in blank no. 4.

- Ans 1. those
 2. these
 3. this
 4. that

Question ID : **264330148465**
Status : **Answered**
Chosen Option : **2**

Comprehension:

In the following passage, some words have been deleted. Read the passage carefully and select the most appropriate option to fill in each blank.

Astronomers have discovered 62 new moons orbiting the ringed planet Saturn.

Though some of the moons had been (1) _____ as early as 2019, it takes more than sighting an object close to a planet to (2) _____ it is a moon and not an asteroid making a brief close passage to that planet.

Performing a painstaking (3) _____ of matching objects detected on different nights over the course of 24 months, the team tracked 63 objects that they ended up confirming as moons. One of (4) _____ satellites was revealed back in 2021, with the remaining 62 moons gradually announced over the past few weeks.

SubQuestion No : 40

Q.40 Select the most appropriate option to fill in blank no. 2.

- Ans 1. confirm
 2. consent
 3. settle
 4. sanction

Question ID : **264330148463**
Status : **Answered**
Chosen Option : **1**

Section : General Awareness

Q.1 किस खेल/गेम में योगदान करने के लिए बी.सी. सुरेश को वर्ष 2022 का द्रोणाचार्य पुरस्कार (जीवनपर्यन्त उपलब्धि) प्राप्त हुआ?

- Ans 1. कबड्डी
 2. टेबल टेनिस
 3. हॉकी
 4. वॉलीबॉल

Question ID : **264330148613**
Status : **Answered**
Chosen Option : **3**

Q.2 भारत में मुगल साम्राज्य से संबंधित निम्नलिखित कथनों में से कौन-सा/से सही है/हैं?
कथन A: पानीपत के द्वितीय युद्ध के साथ अकबर के शासन और उसके क्षेत्रीय विस्तार की भी शुरुआत हुई।
कथन B: हल्दीघाटी का युद्ध, अकबर के शासन के दौरान जून 1576 में लड़ा गया एक ऐतिहासिक युद्ध था।

- Ans
- 1. केवल A
 - 2. केवल B
 - 3. A और B दोनों
 - 4. न तो A न ही B

Question ID : 264330148617
Status : Answered
Chosen Option : 3

Q.3 सूची I में दिए गए बिंदुओं को सूची II में दिए गए बिंदुओं से सुमेलित कीजिए।
सूची I (उपकरण) सूची II (उपयोग)
1. सेक्सटैंट a. दो दृश्यमान वस्तुओं के बीच के कोण को मापता है
2. उडोमीटर b. विकिरित ऊष्मा की अल्प मात्रा को मापता है
3. थर्मोपाइल c. किसी सतह के तापमान को मापता है
4. पायरोमीटर d. वर्षा की मात्रा को मापता है

- Ans
- 1. 1-c, 2-b, 3-d, 4-a
 - 2. 1-a, 2-d, 3-b, 4-c
 - 3. 1-b, 2-d, 3-c, 4-a
 - 4. 1-c, 2-d, 3-b, 4-a

Question ID : 264330148628
Status : Not Answered
Chosen Option : --

Q.4 भारतीय संविधान में 'द्विसदन प्रणाली' की विशेषता _____ के संविधान से ली गई है।

- Ans
- 1. दक्षिण अफ्रीका
 - 2. जर्मनी
 - 3. फ्रांस
 - 4. ब्रिटेन

Question ID : 264330148622
Status : Answered
Chosen Option : 4

Q.5 आधुनिक आवर्त सारणी में किस तत्व में संयोजकता इलेक्ट्रॉनों की संख्या, सीज़ियम के संयोजकता इलेक्ट्रॉनों के समान होती है?

- Ans
- 1. ऐलुमिनियम
 - 2. बेरियम
 - 3. कैल्शियम
 - 4. पोटैशियम

Question ID : 264330148629
Status : Answered
Chosen Option : 2

Q.6 2011 की जनगणना के अनुसार निम्नलिखित में से किस राज्य की जनसंख्या सबसे कम है?

- Ans
- 1. गोवा
 - 2. हिमाचल प्रदेश
 - 3. सिक्किम
 - 4. हरियाणा

Question ID : 264330148621
Status : Answered
Chosen Option : 3

Q.7 निम्नलिखित में से कौन-सा वैज्ञानिक विषय पृथ्वी की स्थलाकृतिक विशेषताओं के विवरण और वर्गीकरण से संबंधित है?

- Ans
- 1. एक्रोलोजी (Acarology)
 - 2. मेटियोरोलॉजी (Meteorology)
 - 3. एथोलॉजी (Ethology)
 - 4. जियोमॉर्फोलॉजी (Geomorphology)

Question ID : 264330148631
Status : Answered
Chosen Option : 4

Q.8 आर्य समाज और स्वामी दयानंद सरस्वती के संबंध में निम्नलिखित में से कौन-सा/से कथन सही है/हैं?

कथन A: स्वामी दयानंद सरस्वती का मूल नाम, मूलशंकर तिवारी था।
कथन B: स्वामी दयानंद सरस्वती, गुजरात के मूल निवासी थे।
कथन C: आर्य समाज की स्थापना वर्ष 1875 में हुई थी।

- Ans
- 1. A, B और C सभी
 - 2. केवल C
 - 3. केवल A
 - 4. केवल A और B

Question ID : 264330148616
Status : Answered
Chosen Option : 1

Q.9 नाइट्रेट आयन (NO_3^-), क्लोराइड आयन (Cl^-), ब्रोमाइड आयन (Br^-) और आयोडाइड आयन (I^-) की मूल प्रबलता के अनुसार उनका सही अवरोही क्रम निम्नलिखित में से कौन-सा है?

- Ans
- 1. $\text{I}^- > \text{NO}_3^- > \text{Cl}^- > \text{Br}^-$
 - 2. $\text{NO}_3^- > \text{Cl}^- > \text{Br}^- > \text{I}^-$
 - 3. $\text{Br}^- > \text{I}^- > \text{NO}_3^- > \text{Cl}^-$
 - 4. $\text{Cl}^- > \text{Br}^- > \text{I}^- > \text{NO}_3^-$

Question ID : 264330148630
Status : Answered
Chosen Option : 4

Q.10 2022 तक के अनुसार, भारतीय रिजर्व बैंक द्वारा मुद्रित करेंसी नोट का उच्चतम मूल्यवर्ग कितने का था?

- Ans 1. ₹5,000
 2. ₹10,000
 3. ₹2,000
 4. ₹20,000

Question ID : 264330148619
Status : Answered
Chosen Option : 3

Q.11 2020 तक के अनुसार, विश्व में कोयले का सबसे बड़ा प्रमाणित भंडार किस देश में स्थित है?

- Ans 1. भारत
 2. चीन
 3. संयुक्त राज्य अमेरिका
 4. रूस

Question ID : 264330148632
Status : Not Attempted and Marked For Review
Chosen Option : --

Q.12 सूची I में दिए गए बिंदुओं को सूची II में दिए गए बिंदुओं से सुमेलित कीजिए। (पर्वत शिखर और उनकी ऊंचाई)

सूची I (पर्वत शिखर) सूची II (ऊंचाई m में)

1. कामेट (a) 7756
2. कंचनजंगा (b) 7816
3. नंदा देवी (c) 8611
4. K2 (d) 8586

- Ans 1. 1-c, 2-d, 3-b, 4-a
 2. 1-a, 2-d, 3-b, 4-c
 3. 1-c, 2-b, 3-d, 4-a
 4. 1-b, 2-c, 3-d, 4-a

Question ID : 264330148620
Status : Answered
Chosen Option : 2

Q.13 सूची I में दिए गए बिंदुओं को सूची II में दिए गए बिंदुओं से सुमेलित कीजिए।

सूची I (संघ) सूची II (उदाहरण)

1. पोरिफेरा a. स्पंज
2. निडारिया b. स्किड
3. मोलस्का c. सेन्टिपीड
4. आर्थ्रोपोडा d. जेलीफिश

- Ans 1. 1-c, 2-b, 3-d, 4-a
 2. 1-b, 2-d, 3-c, 4-a
 3. 1-a, 2-d, 3-b, 4-c
 4. 1-c, 2-d, 3-b, 4-a

Question ID : 264330148624
Status : Not Answered
Chosen Option : --

Q.14 मानव आहार में निम्नलिखित में से किस विटामिन की कमी होने से शुष्काक्षिपाक (जीरोफथेल्मिया) नामक रोग होता है?

- Ans
- 1. विटामिन K
 - 2. विटामिन A
 - 3. विटामिन C
 - 4. विटामिन D

Question ID : 264330148626
Status : Answered
Chosen Option : 4

Q.15 मार्च 2023 में भाभा परमाणु अनुसंधान केंद्र (BARC) में वैज्ञानिकों द्वारा किए गए एक अध्ययन में देखा गया कि _____ के कुछ क्षेत्रों में पहले की तुलना में लगभग तीन गुना अधिक पृष्ठभूमि विकिरण का अनुभव किया जा रहा है।

- Ans
- 1. राजस्थान
 - 2. मध्य प्रदेश
 - 3. केरल
 - 4. हिमाचल प्रदेश

Question ID : 264330148614
Status : Answered
Chosen Option : 1

Q.16 निम्नलिखित में से कौन-सा संस्थान, वर्ष 1974 में, भारत के प्रथम सूक्ष्मवित्त संस्थान के रूप में स्थापित किया गया था?

- Ans
- 1. बंधन फाइनेंशियल सर्विसेज प्राइवेट लिमिटेड
 - 2. आशीर्वाद माइक्रो फाइनेंस लिमिटेड
 - 3. सेवा बैंक
 - 4. सूर्योदय स्माल फाइनेंस बैंक लिमिटेड

Question ID : 264330148618
Status : Answered
Chosen Option : 3

Q.17 मई 2023 में, भारत के सर्वोच्च न्यायालय ने युगलों को भारतीय संविधान के _____ के अंतर्गत 'विवाह के असाध्य रूप से टूटने' के आधार पर तलाक लेने का अधिकार दिया।

- Ans
- 1. अनुच्छेद 132(1)
 - 2. अनुच्छेद 142(1)
 - 3. अनुच्छेद 152(1)
 - 4. अनुच्छेद 122(1)

Question ID : 264330148615
Status : Not Answered
Chosen Option : --

Q.18 मानव शरीर में पाए जाने वाले एंजाइमों के संबंध में निम्नलिखित में से कौन-सा/से कथन सही है/हैं?
कथन A: माल्टेज, लार में उपस्थित होता है और शर्करा माल्टोज को ग्लूकोज में विघटित करता है।
कथन B: एमाइलेज, लार में उपस्थित होता है और स्टार्च को शर्करा में परिवर्तित करने में सहायक होता है।

- Ans
- 1. केवल A
 - 2. केवल B
 - 3. न तो A न ही B
 - 4. A और B दोनों

Question ID : 264330148625
Status : Answered
Chosen Option : 4

Q.19 निम्नलिखित में से कौन, भारत के प्रथम मुख्य न्यायाधीश बने?

- Ans
- 1. हीरालाल जेकिंसनदास कानिया
 - 2. मेहरचंद महाजन
 - 3. एम. पतंजलि शास्त्री
 - 4. बिजन कुमार मुखर्जी

Question ID : 264330148623
Status : Answered
Chosen Option : 1

Q.20 CGS (सेंटीमीटर-ग्राम-सेकंड) प्रणाली में चुंबकीय तीव्रता का मात्रक _____ है।

- Ans
- 1. वेबर
 - 2. गाउस
 - 3. ओस्टेड
 - 4. कैन्डेला

Question ID : 264330148627
Status : Answered
Chosen Option : 4

Section : Computer Knowledge Module

Q.1 निम्नलिखित में से किस प्रकार के हैकर्स, जिन्हें क्रैकर्स के रूप में भी जाना जाता है, सिस्टम में अनधिकृत पहुँच प्राप्त करने के लिए हैक करते हैं, और इसके प्रचालनों को हानि पहुंचाते हैं या संवेदनशील जानकारी चुरा लेते हैं?

- Ans
- 1. रेड हैट (Red hat)
 - 2. वाइट हैट (White hat)
 - 3. ग्रे हैट (Grey hat)
 - 4. ब्लैक हैट (Black hat)

Question ID : 264330148388
Status : Answered
Chosen Option : 4

Q.2 निम्नलिखित में से कौन-सी एक पूरक भाषा (कॉम्प्लिमेंटरी लैंग्वेज) है जो वेबसाइट और वेब पेज बनाने और डिजाइन करने के लिए उपयोग किए जाने वाले HTML मार्कअप कोड को स्टाइल करने में मदद करती है?

- Ans
- 1. हाइपरटेक्स्ट प्रीप्रोसेसर (PHP)
 - 2. कैस्केडिंग स्टाइल शीट्स (CSS)
 - 3. जावा (Java)
 - 4. स्ट्रक्चर्ड क्वेरी लैंग्वेज (SQL)

Question ID : 264330148383
Status : Answered
Chosen Option : 1

Q.3 निम्नलिखित में से कौन-सा विकल्प एक मिनी-डीआईएन (mini-DIN) कनेक्टर है, जिसका उपयोग कीबोर्ड और माउस को पीसी (PC) के अनुकूल कंप्यूटर से जोड़ने के लिए किया जाता है?

- Ans
- 1. पीएस/2 पोर्ट (PS/2 port)
 - 2. आरएस232 पोर्ट (RS232 port)
 - 3. ईथरनेट पोर्ट (Ethernet port)
 - 4. वीजीए पोर्ट (VGA port)

Question ID : 264330148378
Status : Answered
Chosen Option : 1

Q.4 _____ का अर्थ, इंटरनेट पर अपने कंप्यूटर से डेटा या फाइल प्रेषित करना है।

- Ans
- 1. डिलीटिंग
 - 2. डाउनलोडिंग
 - 3. अपलोडिंग
 - 4. एक्सेसिंग

Question ID : 264330148384
Status : Answered
Chosen Option : 3

Q.5 _____ यूनिट, सीपीयू (CPU) का वह भाग है, जो प्रोसेसर के कार्यों को नियंत्रित या निर्देशित करता है।

- Ans
- 1. मेमोरी
 - 2. अरिथमेटिक लॉजिक
 - 3. डेटा
 - 4. कंट्रोल

Question ID : 264330148375
Status : Answered
Chosen Option : 4

Q.6 एक इरेजेबल प्रोग्रामेबल रीड-ओनली मेमोरी (EPROM) पर सामग्री (कंटेंट) तब तक बनी रहती है जब तक कि यह _____ के संपर्क में न आ जाए।

- Ans
- 1. रेडियो संकेत
 - 2. पराबैंगनी प्रकाश
 - 3. चुंबकीय संकेत
 - 4. विद्युत संकेत

Question ID : 264330148374
Status : Answered
Chosen Option : 4

Q.7 डेटा प्रतिधारण क्षमता के आधार पर निम्नलिखित में से कौन-सा विकल्प वोलाटाइल सेमीकंडक्टर मेमोरी (volatile semiconductor memory) का सही वर्गीकरण है?

- Ans
- 1. डीरैम (DRAM) और रोम (ROM)
 - 2. एसरैम (SRAM) और डीरैम (DRAM)
 - 3. एसरैम (SRAM) और रोम (ROM)
 - 4. रैम (RAM) और रोम (ROM)

Question ID : 264330148376
Status : Not Answered
Chosen Option : --

Q.8 निम्नलिखित में से कौन-सा विकल्प ईमेल पते का भाग नहीं है?

- Ans
- 1. '@' प्रतीक
 - 2. ईमेल सेवा प्रदाता का डोमेन
 - 3. फोटो
 - 4. उपयोक्ता का नाम

Question ID : 264330148385
Status : Answered
Chosen Option : 3

Q.9 ब्लू-रे डिस्क का व्यास कितना होता है?

- Ans
- 1. 115 mm
 - 2. 100 mm
 - 3. 110 mm
 - 4. 120 mm

Question ID : 264330148377
Status : Not Answered
Chosen Option : --

Q.10 Windows OS में, जब आप 'Delete' कुंजी का उपयोग करके या केवल राइट-क्लिक करके और 'Delete' विकल्प का चयन करके किसी ड्राइव से कोई आइटम मिटाते हैं, तो आइटम को _____ में भेज दिया जाता है।

- Ans**
- 1. स्टार्ट मेनू (Start menu)
 - 2. रीसायकल बिन (Recycle Bin)
 - 3. कंट्रोल पैनल (Control Panel)
 - 4. टास्कबार (Taskbar)

Question ID : 264330148379
Status : Answered
Chosen Option : 2

Q.11 निम्नलिखित में से कौन-सा विकल्प, किसी नेटवर्क में विभिन्न उपकरणों की लेआउट व्यवस्था को संदर्भित करता है?

- Ans**
- 1. ओपन सिस्टम
 - 2. ट्रांसमिशन मोड
 - 3. नेटवर्क टोपोलॉजी
 - 4. क्लोज्ड सिस्टम

Question ID : 264330148387
Status : Answered
Chosen Option : 3

Q.12 MS-Excel 2010 में वर्कशीट में एक ही सेल में एक नई लाइन प्रविष्ट करने के लिए निम्नलिखित में से किस कीबोर्ड शॉर्टकट का उपयोग किया जाता है?

- Ans**
- 1. Shift + Enter
 - 2. Ctrl + Enter
 - 3. Tab + Enter
 - 4. Alt + Enter

Question ID : 264330148382
Status : Answered
Chosen Option : 1

Q.13 MS-Word 2010 के संदर्भ में निम्नलिखित कथनों की सत्य या असत्य के रूप में पहचान करें।

- (i) एक नया दस्तावेज़ बनाते समय एक टेम्पलेट का चयन किया जा सकता है।
- (ii) किसी दस्तावेज़ के अंत में जाने के लिए कीबोर्ड शॉर्टकट Shift + End है।

- Ans**
- 1. (i) सत्य (ii) सत्य
 - 2. (i) सत्य (ii) असत्य
 - 3. (i) असत्य (ii) सत्य
 - 4. (i) असत्य (ii) असत्य

Question ID : 264330148381
Status : Answered
Chosen Option : 2

Q.14 Windows 10 में, डेस्कटॉप को डिस्प्ले करने और हाईड करने के लिए निम्नलिखित में से किस कीबोर्ड शॉर्टकट का उपयोग किया जाता है?

- Ans
- 1. Windows लोगो कुंजी + H
 - 2. Windows लोगो कुंजी + C
 - 3. Windows लोगो कुंजी + G
 - 4. Windows लोगो कुंजी + D

Question ID : 264330148380
Status : Answered
Chosen Option : 1

Q.15 नेट बैंकिंग को _____ के रूप में भी जाना जाता है।

- Ans
- 1. ई-ट्रांसफर
 - 2. ई-बैंकिंग
 - 3. ई-प्रोसेस
 - 4. ई-कॉमर्स

Question ID : 264330148386
Status : Answered
Chosen Option : 2