

**Head Constable Ministerial in Delhi Police Examination 2022**

Roll Number	
Candidate Name	
Venue Name	
Exam Date	10/10/2022
Exam Time	9:00 AM - 10:30 AM
Subject	Head Constable Ministerial in Delhi Police Examination 2022

Section : **Part-A-General Awareness**[www.exammix.com](http://www.exammix.com)**Q.1** 2011 की जनगणना के अनुसार, \_\_\_\_\_ राज्य की कुल साक्षरता दर सबसे कम थी।

- Ans
- ☒ 1. झारखंड
  - ☒ 2. उत्तर प्रदेश
  - ☒ 3. राजस्थान
  - ☒ 4. बिहार

Question ID : **26433055339**Status : **Answered**Chosen Option : **4****Q.2** निम्नलिखित में से कौन 1885 में भारतीय राष्ट्रीय कांग्रेस के पहले अध्यक्ष बने?

- Ans
- ☒ 1. व्योमेश चंद्र बनर्जी
  - ☒ 2. गोपाल कृष्ण गोखले
  - ☒ 3. फिरोज़शाह मेहता
  - ☒ 4. दादाभाई नौरोजी

Question ID : **26433065556**Status : **Answered**Chosen Option : **1****Q.3** भारत में कौन-सा स्थान देव दीपावली के उत्सव के लिए प्रसिद्ध है?

- Ans
- ☒ 1. पटना
  - ☒ 2. हरिद्वार
  - ☒ 3. गंगानगर
  - ☒ 4. वाराणसी

Question ID : **26433064393**Status : **Answered**Chosen Option : **4****Q.4** भारतीय रिजर्व बैंक (RBI) द्वारा गैर-बैंकिंग वित्तीय कंपनी – सूक्ष्म वित्त संस्था (NBFC-MFI) के लिए भारत के पहले स्व-नियामक संगठन (SRO) के रूप में माइक्रोफाइनेंस संस्थान नेटवर्क (MFIN) को कब मान्यता दी गई थी?

- Ans
- ☒ 1. 2009 में
  - ☒ 2. 2012 में
  - ☒ 3. 2014 में
  - ☒ 4. 2016 में

Question ID : **26433064490**Status : **Not Answered**Chosen Option : **--**

Q.5 खेल महाकुंभ के 11वें संस्करण का उद्घाटन अहमदाबाद के सरदार पटेल स्टेडियम में मार्च 2022 में \_\_\_\_\_ द्वारा किया गया था।

- Ans
- ☒ 1. किरीट कुमार परमार
  - ☒ 2. आचार्य देवव्रत
  - ☒ 3. नरेंद्र मोदी
  - ☒ 4. हर्ष संधवी

Question ID : 26433055063  
Status : Answered  
Chosen Option : 3

Q.6 सुल्तान गयास-उद-दीन खिलजी द्वारा निर्मित जहाज़ महल, \_\_\_\_\_ में स्थित है।

- Ans
- ☒ 1. गुजरात
  - ☒ 2. मध्य प्रदेश
  - ☒ 3. राजस्थान
  - ☒ 4. तेलंगाना

Question ID : 26433064366  
Status : Not Answered  
Chosen Option : --

Q.7 सीएमआईई (CMIE) के आंकड़ों के अनुसार, मार्च 2022 में भारत में शहरी बेरोजगारी दर कितनी थी?

- Ans
- ☒ 1. 8.22%
  - ☒ 2. 8.28%
  - ☒ 3. 8.27%
  - ☒ 4. 8.88%

Question ID : 26433067223  
Status : Not Answered  
Chosen Option : --

Q.8 सामाजिक वानिकी का अर्थ है वनों का प्रबंधन और संरक्षण। निम्नलिखित में से कौन सा सामाजिक वानिकी की श्रेणी नहीं है?

- Ans
- ☒ 1. कृषि वानिकी
  - ☒ 2. जनजातीय वानिकी
  - ☒ 3. ग्रामीण वानिकी
  - ☒ 4. शहरी वानिकी

Question ID : 26433064101  
Status : Answered  
Chosen Option : 1

Q.9 2011 की जनगणना के अनुसार भारत में घरों में बिजली के माध्यम से प्रकाश के स्रोत का प्रतिशत कितना है?

- Ans
- ☒ 1. 62.7%
  - ☒ 2. 69.8%
  - ☒ 3. 67.2%
  - ☒ 4. 66.2%

Question ID : 26433071577  
Status : Not Answered  
Chosen Option : --

Q.10 भारत के संविधान के बारे में निम्नलिखित में से कौन-सा सही नहीं है?

- Ans
- ☒ 1. यह भारत की आवश्यकता के अनुरूप है।
  - ☒ 2. यह सामाजिक प्रासंगिकता का एक दस्तावेज है।
  - ☒ 3. यह भारतीयों की ऐतिहासिक, सामाजिक, राजनैतिक और आर्थिक स्थितियों को दर्शाता है।
  - ☒ 4. मूल संविधान में 25 भागों में 395 अनुच्छेद और 12 अनुसूचियाँ थीं।

Question ID : 26433054070  
Status : Answered  
Chosen Option : 4

Q.11 1774 के चार्टर के तहत सर्वोच्च न्यायालय की स्थापना कहाँ की गई थी?

- Ans
- ☒ 1. बंबई
  - ☒ 2. मद्रास
  - ☒ 3. कलकत्ता
  - ☒ 4. शिमला

Question ID : 26433065578  
Status : Answered  
Chosen Option : 3

Q.12 पदार्थ की यह अवस्था आयनित गैस से बनी होती है, जिसमें इलेक्ट्रॉनों, धनात्मक आयनों और उदासीन कणों का संतुलित मिश्रण होता है। यह कौन सी अवस्था है?

- Ans
- ☒ 1. कोहरा
  - ☒ 2. तरल
  - ☒ 3. गैस
  - ☒ 4. प्लाज्मा

Question ID : 26433095245  
Status : Answered  
Chosen Option : 1

Q.13 केंद्रीय शिक्षा मंत्री और कौशल विकास मंत्री धर्मेंद्र प्रधान ने देश के छात्रों को सर्वोत्तम विकसित एड-टेक समाधान और पाठ्यक्रम प्रदान करने के लिए एक एकल मंच \_\_\_\_\_ लॉन्च किया।

- Ans
- ☒ 1. NEAT 2.0
  - ☒ 2. AICTE 3.0
  - ☒ 3. NEAT 3.0
  - ☒ 4. AICTE 2.0

Question ID : 26433055030  
Status : Not Answered  
Chosen Option : --

Q.14 किस संगठन ने छात्रों के लिए युवा वैज्ञानिक कार्यक्रम 'YUVIKA-2022' आयोजित किया?

- Ans
- ☒ 1. वैज्ञानिक और औद्योगिक अनुसंधान परिषद (CSIR)
  - ☒ 2. भारतीय अंतरिक्ष अनुसंधान संगठन (ISRO)
  - ☒ 3. भारतीय चिकित्सा अनुसंधान परिषद (ICMR)
  - ☒ 4. रक्षा अनुसंधान और विकास संगठन (DRDO)

Question ID : 26433055044

Status : Not Answered

Chosen Option : --

Q.15 भारत में सूक्ष्म वित्तीय संस्थाओं का निम्नलिखित में से कौन-सा उद्देश्य नहीं है?

- Ans
- ☒ 1. वित्तीय समावेशन को प्रोत्साहन
  - ☒ 2. जीवन स्तर में सुधार
  - ☒ 3. गरीबी उन्मूलन
  - ☒ 4. गरीबों के क्रेडिट स्कोर में सुधार

Question ID : 26433059093

Status : Not Answered

Chosen Option : --

Q.16 स्वतंत्र भारत में पहली बार सरकार ने तीन वार्षिक योजनाओं की घोषणा कब की, जिन्हें योजना अवकाश (प्लान हॉलिडे) कहा जाता है?

- Ans
- ☒ 1. 1965 से 1968
  - ☒ 2. 1968 से 1971
  - ☒ 3. 1966 से 1969
  - ☒ 4. 1967 से 1970

Question ID : 26433064510

Status : Not Answered

Chosen Option : --

Q.17 अप्रैल 2021 में राष्ट्रीय मानवाधिकार आयोग (NHRC) के अध्यक्ष के रूप में किसे नियुक्त किया गया है?

- Ans
- ☒ 1. जे.एस. वर्मा
  - ☒ 2. एच. एल. दत्त
  - ☒ 3. अरुण कुमार मिश्रा
  - ☒ 4. दीपक मिश्रा

Question ID : 26433055567

Status : Not Answered

Chosen Option : --

Q.18 बाबर ने तुजुक-ए-बाबरी को निम्नलिखित में से किस भाषा में लिखा था?

- Ans
- ☒ 1. अफ़गानी
  - ☒ 2. तुर्की
  - ☒ 3. फ़ारसी
  - ☒ 4. उर्दू

Question ID : 26433095226

Status : Answered

Chosen Option : 3

Q.19 निम्नलिखित में से किस आई.आई.टी. ने भारतीय बंदरगाहों और अंतर्देशीय जलमार्गों के लिए सौर-संचालित मानवरहित स्वायत्त सर्वेक्षण शिल्प विकसित किया है?

- Ans
- ☒ 1. आई.आई.टी. रुड़की
  - ☒ 2. आई.आई.टी. दिल्ली
  - ☒ 3. आई.आई.टी. बैंगलोर
  - ☒ 4. आई.आई.टी. मद्रास

Question ID : 26433095262

Status : Not Answered

Chosen Option : --

Q.20 कल्याणी अम्मा प्रसिद्ध रूप से किससे संबंधित हैं?

- Ans
- ☒ 1. मणिपुरी
  - ☒ 2. कथकली
  - ☒ 3. मोहिनीअट्टम
  - ☒ 4. कथक

Question ID : 26433066535

Status : Not Answered

Chosen Option : --

Section : Part-B-Quantitative Aptitude

Q.1 7% वार्षिक साधारण ब्याज की दर से कितने वर्ष में ₹1,900 पर ₹798 का ब्याज एकत्र हो जाएगा?

- Ans
- ☒ 1. 5
  - ☒ 2. 6
  - ☒ 3. 9
  - ☒ 4. 8

Question ID : 26433061901

Status : Answered

Chosen Option : 2

Q.2 एक व्यापारी ने ₹5,800 में वाटर कूलर खरीदा। वह इसके अंकित मूल्य पर 12% की छूट देता है और फिर भी 10% का लाभ प्राप्त करता है। वाटर कूलर का अंकित मूल्य ज्ञात कीजिए।

- Ans
- ☒ 1. ₹7,280
  - ☒ 2. ₹7,220
  - ☒ 3. ₹6,880
  - ☒ 4. ₹7,250

Question ID : 26433074282

Status : Answered

Chosen Option : 4

Q.3 यदि एक चमड़े के थैले की कीमत में 15% की वृद्धि की जाती है, और फिर 15% की कमी की जाती है, तो इसकी कीमत में शुद्ध प्रतिशत की कमी क्या होगी?

- Ans
- ☒ 1. 2.30%
  - ☒ 2. 3.30%
  - ☒ 3. 2.25%
  - ☒ 4. 3.25%

Question ID : 26433061399

Status : Answered

Chosen Option : 3

Q.4 एक धनराशि 'R' ब्याज दर पर चक्रवृद्धित किए जाने पर 2 वर्ष की अवधि के बाद Rs.34,560 हो जाती है, और तीन वर्ष की अवधि के बाद यह Rs.41,472 हो जाती है। R का मान क्या है?

- Ans
- ☒ 1. 20%
  - ☒ 2. 12%
  - ☒ 3. 25%
  - ☒ 4. 10%

Question ID : 26433058235

Status : Not Answered

Chosen Option : --

Q.5 एक रेस में, एक साइकिल चालक पहले चक्कर में 500 m की दूरी 625 सेकंड में तय करता है। वह उसी लंबाई के दूसरे चक्कर को 375 सेकंड में पूरा करता है। साइकिल चालक की औसत गति (m/sec में) क्या है?

- Ans
- ☒ 1. 10
  - ☒ 2. 1
  - ☒ 3. 5
  - ☒ 4. 3

Question ID : 26433058237

Status : Answered

Chosen Option : 2

Q.6  $2.\overline{13} \div 3.\overline{12}$  का मान क्या है?

- Ans
- ☒ 1.  $\frac{239}{309}$
  - ☒ 2.  $\frac{211}{309}$
  - ☒ 3.  $\frac{249}{309}$
  - ☒ 4.  $\frac{301}{309}$

Question ID : 26433079835

Status : Not Answered

Chosen Option : --

Q.7 19, 23 और 38 का चतुर्थानुपाती ज्ञात कीजिए।

Ans ☒ 1. 46

☐ 2. 24

☐ 3. 28

☐ 4. 42

Question ID : 26433061151

Status : Answered

Chosen Option : 1

Q.8 9 के प्रारंभिक 20 गुणजों का औसत ज्ञात कीजिए।

Ans ☐ 1. 189

☒ 2. 94.5

☐ 3. 180

☐ 4. 21.5

Question ID : 26433072994

Status : Answered

Chosen Option : 2

Q.9 एक बेलनाकार टैंक, जिसकी आंतरिक त्रिज्या 14 m है, में 10 m की गहराई तक पानी है। गीली सतह का कुल क्षेत्रफल कितना है?

( $\pi = \frac{22}{7}$  लीजिए)

Ans ☐ 1. 1492 m<sup>2</sup>

☐ 2. 1498 m<sup>2</sup>

☒ 3. 1496 m<sup>2</sup>

☐ 4. 1494 m<sup>2</sup>

Question ID : 26433061428

Status : Answered

Chosen Option : 3

Q.10 चार विभिन्न प्रकार के चाकलेटों के वार्षिक उत्पादन को निम्न तालिका में सारणीबद्ध किया गया है। इनमें से किस

चाकलेट के उत्पादन में न्यूनतम प्रतिशत वृद्धि हुई है?

चाकलेट	2010	2011
A	720000	780000
B	850000	880000
C	690000	740000
D	580000	670000

Ans ☒ 1. B

☐ 2. A

☐ 3. C

☐ 4. D

Question ID : 26433074320

Status : Answered

Chosen Option : 1

Q.11  $\Delta PQR$  में  $PQ = PR$  और,  $PQ$  पर  $S$  बिंदु ऐसी स्थिति में है कि  $PS = RS = QR$ , तो  $\angle QPR$  का मान कितना होगा?

- Ans
- ☒ 1.  $72^\circ$
  - ☒ 2.  $60^\circ$
  - ☒ 3.  $36^\circ$
  - ☒ 4.  $23^\circ$

Question ID : 26433075362

Status : Answered

Chosen Option : 3

Q.12 व्यंजक  $(1 + y)(1 + y^2)(1 + y^4)(1 + y^8)(1 - y)$  का मान क्या होगा?

- Ans
- ☒ 1.  $1 - y^{42}$
  - ☒ 2.  $1 - y^{40}$
  - ☒ 3.  $1 - y^{32}$
  - ☒ 4.  $1 - y^{16}$

Question ID : 26433061111

Status : Answered

Chosen Option : 4

Q.13 नीचे दिए गए कथनों में से कौन-सा गलत है?

- Ans
- ☒ 1. 3 और 5 का लघुत्तम समापवर्त्य (LCM) 15 है।
  - ☒ 2. 14 और 7 का लघुत्तम समापवर्त्य (LCM) 14 है।
  - ☒ 3. 8 और 7 का लघुत्तम समापवर्त्य (LCM) 1 है।
  - ☒ 4. 12 और 15 का लघुत्तम समापवर्त्य (LCM) 60 है।

Question ID : 26433063278

Status : Answered

Chosen Option : 3

Q.14 किरण, विशाल और दिनेश एक जूस फैक्ट्री में काम करते हैं। विशाल जितना जूस 3 घंटे में निकाल सकता है, किरण उतना जूस निकालने में 2 घंटे का समय लेती है। किरण जितना जूस 4 घंटे में निकालती है, दिनेश को उतना जूस निकालने में 5 घंटे लगते हैं। यदि वे सभी एक साथ काम करें, तो एक टंकी को जूस से 48 घंटे में भरा जा सकता है। यदि दिनेश अकेला टंकी को भरने का प्रयास कर रहा है, तो टंकी को भरने में कितना समय लगेगा?

- Ans
- ☒ 1. 132 घंटे
  - ☒ 2. 148 घंटे
  - ☒ 3. 140 घंटे
  - ☒ 4. 135 घंटे

Question ID : 26433061320

Status : Answered

Chosen Option : 2



Q.15 रंजन ने Rs.5,000 में एक साइकिल खरीदी और इसके परिवहन के लिए Rs.250 का भुगतान किया। यदि वह साइकिल Rs.5,075 में बेचता है, तो उसका लाभ या हानि प्रतिशत ज्ञात कीजिए।

- Ans
- ☒ 1. 33.3% की हानि
  - ☒ 2. 3.33% की हानि
  - ☒ 3. 3.33% का लाभ
  - ☒ 4. 1.75% की हानि

Question ID : 26433058132

Status : Answered

Chosen Option : 2

Q.16 यदि  $\frac{1}{x} + \frac{1}{y} + \frac{1}{z} = 1$  है, तो  $\left(\frac{1}{z-1}\right)\left(\frac{1}{x} + \frac{1}{y}\right) + \left(\frac{1}{y-1}\right)\left(\frac{1}{x} + \frac{1}{z}\right) + \left(\frac{1}{x-1}\right)\left(\frac{1}{y} + \frac{1}{z}\right) = ?$

- Ans
- ☒ 1. -1
  - ☒ 2. 0
  - ☒ 3. 1
  - ☒ 4. 2

Question ID : 26433061630

Status : Not Answered

Chosen Option : --

Q.17 निम्नलिखित को सरल कीजिए:

$$6\frac{2}{7} \text{ of } 2\frac{6}{11} \times \frac{1}{4} + \left\{25 \div 5 \times \frac{3}{5}\right\}$$

- Ans
- ☒ 1. 7
  - ☒ 2. 9
  - ☒ 3. 5
  - ☒ 4. 10

Question ID : 26433058392

Status : Answered

Chosen Option : 1

Q.18 यदि  $\sec A + \tan A = 5$ , तो  $\sec A - \tan A = ?$

- Ans
- ☒ 1.  $\frac{5}{2}$
  - ☒ 2. 5
  - ☒ 3.  $\frac{1}{5}$
  - ☒ 4.  $\frac{2}{5}$

Question ID : 26433056888

Status : Answered

Chosen Option : 3

Q.19 एक शंकाकार आकार का प्याला, जब आइसक्रीम से भरा होता है, तो इसके खुले सिरे पर गोलाई के आकार का हो जाता है। यदि शंकु के आधार की त्रिज्या 3 cm है और शंकु की ऊर्ध्वाधर ऊंचाई 7 cm है, तो आइसक्रीम का आयतन क्या है?

Ans

✗ 1.  $\frac{2754}{21} \text{ cm}^3$

✗ 2.  $\frac{2547}{21} \text{ cm}^3$

✓ 3.  $\frac{2574}{21} \text{ cm}^3$

✗ 4.  $\frac{2504}{21} \text{ cm}^3$

Question ID : 26433058159

Status : Answered

Chosen Option : 3

Q.20 एक लड़का और एक लड़की मिलकर एक काम को 12 दिनों में पूरा कर सकते हैं। एक लड़का अकेला 15 दिनों में काम पूरा कर सकता है। एक लड़की अकेले काम को कितने दिनों में पूरा कर सकती है?

Ans

✗ 1. 70 दिन

✗ 2. 44 दिन

✗ 3. 50 दिन

✓ 4. 60 दिन

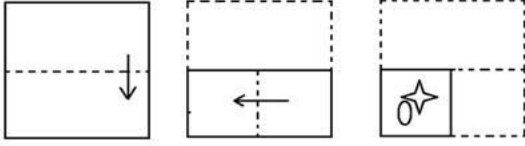
Question ID : 26433063496

Status : Answered

Chosen Option : 4


Section : Part-C-General Intelligence

Q.1 कागज के एक टुकड़े को मोड़ने का क्रम और मोड़े गए कागज को काटने का तरीका नीचे दर्शाया गया है। उस आकृति का चयन करें जो कागज को खोलने पर उसके खुले रूप से सबसे अधिक मिलती जुलती होगी।




Ans

✗ 1.




✗ 2.



✗ 3.



✓ 4.



Question ID : 26433067443

Status : Answered

Chosen Option : 4

Q.2 दिए गए विकल्पों में से उस संख्या का चयन करें जो निम्नलिखित श्रृंखला में प्रश्नवाचक चिन्ह (?) का स्थान ले सकती है।  
51, 46, 40, 33, 25, ?

Ans ✗ 1. 20

✗ 2. 10

✗ 3. 11

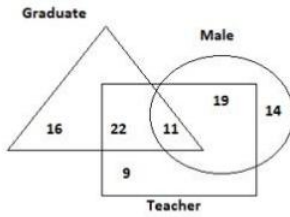
✓ 4. 16

Question ID : 26433057783

Status : Answered

Chosen Option : 4

- Q.3 दिए गए आरेख का ध्यानपूर्वक अध्ययन कीजिए और प्रश्न का उत्तर दीजिए। विभिन्न वर्गों/खंडों की संख्याएँ व्यक्तियों की संख्या को दर्शाती हैं।



ऐसे कितने शिक्षक (Teacher) हैं जो न तो पुरुष (male) हैं और न ही स्नातक (Graduate) हैं?

- Ans ☒ 1. 11  
☒ 2. 9  
☒ 3. 22  
☒ 4. 19

Question ID : 26433070409  
 Status : Answered  
 Chosen Option : 2

- Q.4 उस विकल्प का चयन कीजिए जो पांचवें अक्षर समूह से उसी तरह संबंधित है जिस तरह दूसरा अक्षर समूह पहले अक्षर समूह से संबंधित है और चौथा अक्षर समूह तीसरे अक्षर समूह से संबंधित है।  
 GBC : UPQ :: DSX : RGL :: PEN : ?

- Ans ☒ 1. BRY  
☒ 2. LSU  
☒ 3. DSB  
☒ 4. DGF

Question ID : 26433074686  
 Status : Answered  
 Chosen Option : 3

- Q.5 छः मित्र - P, Q, R, S, T और U - किसी वृत्ताकार मेज के परितः मेज के केंद्राभिमुख होकर बैठे हैं। S, P और T के ठीक समीपस्थ नहीं हैं। Q, S के बाएँ से दूसरा है। यदि R, P के ठीक समीपस्थ हो, तो U कहाँ बैठा है?

- Ans ☒ 1. P के दाएँ से तीसरा  
☒ 2. Q के ठीक दाएँ  
☒ 3. R के ठीक बाएँ  
☒ 4. T के बाएँ से दूसरा

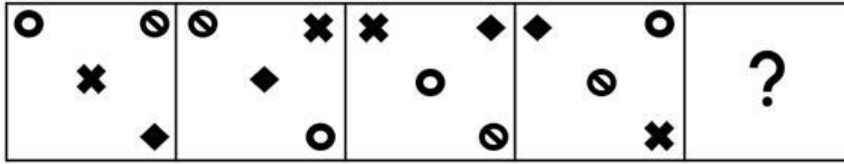
Question ID : 26433068812  
 Status : Answered  
 Chosen Option : 2

- Q.6 दिए गए विकल्पों में से उन संख्याओं को चुनिए, जो निम्नलिखित श्रृंखला में प्रश्न-चिह्न (?) को प्रतिस्थापित कर सकें।  
 27, 41, 55, 73, ?, ?, 135

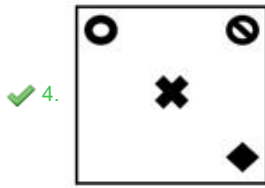
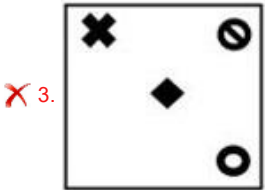
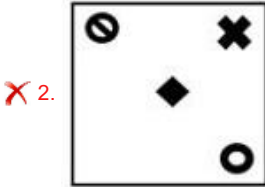
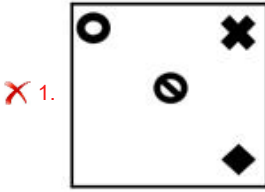
- Ans ☒ 1. 91, 113  
☒ 2. 87, 114  
☒ 3. 91, 115  
☒ 4. 89, 112

Question ID : 26433057043  
 Status : Answered  
 Chosen Option : 1

Q.7 उस आकृति का चयन करें, जो निम्न आकृति श्रृंखला में आगे आएगी।



Ans



Question ID : 26433076497

Status : Answered

Chosen Option : 4

Q.8 अक्षरों के उस संयोजन का चयन कीजिए जिसे दी गई श्रृंखला में रिक्त स्थानों पर क्रमिक रूप से रखने पर श्रृंखला पूर्ण हो जाएगी।

DEFD \_ F \_ DEFD \_ DE \_ DEFD

Ans ✓ 1. EDEF

✗ 2. EFDF

✗ 3. DEDE

✗ 4. EEFF

Question ID : 26433057712

Status : Not Answered

Chosen Option : --

Q.9 एक निश्चित कूट भाषा में, 'BIKE' को '23' और 'RIDE' को '32' के रूप में लिखा जाता है। इसी कूट भाषा में 'NICE' को किस प्रकार लिखा जाएगा?

Ans ✗ 1. 28

✓ 2. 27

✗ 3. 25

✗ 4. 26

Question ID : 26433057283

Status : Answered

Chosen Option : 2

Q.10 निम्नलिखित में से कौन-सा विकल्प प्रस्तुत शब्दों के सही क्रम का ऐसा द्योतक है, जैसा वे किसी अंग्रेजी शब्दकोश में दिखेंगे?

1. Pickle
2. Picador
3. Picnic
4. Pickaxe
5. Piccolo

Ans ☒ 1. 5,2,4,3,1  
☒ 2. 5,2,1,4,3  
☒ 3. 2,4,5,1,3  
☒ 4. 2,5,4,1,3

Question ID : 26433068768

Status : Answered

Chosen Option : 4

Q.11 दिए गए कथनों और निष्कर्षों को ध्यानपूर्वक पढ़ें। यह मानते हुए कि कथनों में दी गई जानकारी सत्य है, भले ही वह सामान्यतः ज्ञात तथ्यों से भिन्न प्रतीत होती हो, उस आधार पर यह तय करें कि दिए गए निष्कर्षों में से कौन-सा/से निष्कर्ष कथनों का तार्किक रूप से अनुसरण करता है/करते हैं।

कथन:

- I. सभी सीढ़ी मेज हैं।
- II. कुछ मेज कुर्सियाँ हैं।
- III. सभी कुर्सियाँ फर्नीचर हैं।

निष्कर्ष:

- I. कुछ फर्नीचर सीढ़ियाँ हैं।
- II. सभी मेज फर्नीचर हैं।

Ans ☒ 1. केवल निष्कर्ष II अनुसरण करता है  
☒ 2. I और II दोनों निष्कर्ष अनुसरण करते हैं  
☒ 3. केवल निष्कर्ष I अनुसरण करता है  
☒ 4. न तो निष्कर्ष I और न ही II अनुसरण करता है

Question ID : 26433079083

Status : Answered

Chosen Option : 4

Q.12 उस समुच्चय का चयन करें जिसमें दी गई संख्याएं आपस में उसी प्रकार संबंधित हैं जिस प्रकार निम्नलिखित समुच्चयों की संख्याएं हैं।

(ध्यान दें: संख्याओं को उसके घटक अंकों में विभाजित किए बिना, पूर्ण संख्याओं पर गणितीय संक्रियाएं की जानी चाहिए। उदाहरण के लिए 13 - जोड़ने/घटाने/गुणा करने जैसी गणितीय संक्रियाएं पूर्ण 13 पर की जा सकती हैं। 13 को 1 और 3 में विभाजित करने और फिर 1 और 3 पर गणितीय संक्रियाएं करने की अनुमति नहीं है।)

(64, 12, 4)  
 (128, 19, 3)

Ans ☒ 1. (72, 20, 12)  
☒ 2. (72, 21, 12)  
☒ 3. (70, 21, 12)  
☒ 4. (72, 21, 11)

Question ID : 26433068663

Status : Not Answered

Chosen Option : --

Q.13 उस समुच्चय का चयन करें जिसमें दी गई संख्याएं आपस में उसी प्रकार संबंधित हैं, जिस प्रकार प्रश्न में दिए गए समुच्चय की संख्याएं आपस में संबंधित हैं।  
(नोट: संख्याओं को उनके घटक अंकों में तोड़े बिना, पूर्ण संख्याओं पर गणितीय संक्रियाएं की जानी चाहिए। जैसे, 13 के मामले में - 13 पर विभिन्न गणितीय संक्रियाएं जैसे 13 में जोड़ना / घटाना / गुणा करना आदि की जा सकती हैं। लेकिन 13 को 1 और 3 में तोड़ने और फिर 1 और 3 पर गणितीय संक्रियाएं करने की अनुमति नहीं है।)  
(6, 15, 18)  
(7, 35, 49)

Ans ☒ 1. (8, 65, 104)

☐ 2. (4, 34, 29)

☐ 3. (44, 6, 51)

☐ 4. (25, 7, 40)

Question ID : 26433074771

Status : Answered

Chosen Option : 1

Q.14 Select the option that is related to the fifth word in the same way as the second word is related to the first word and the fourth word is related to the third word.  
(The words must be considered as meaningful English words and must not be related to each other based on the number of letters/number of consonants/vowels in the word)

Horse: Stable :: Bee: Beehive :: Lion: ?

Ans ☐ 1. Sty

☐ 2. Cage

☒ 3. Den

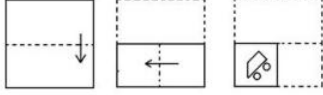
☐ 4. Farm

Question ID : 26433056383

Status : Answered

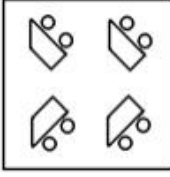
Chosen Option : 3

**Q.15** कागज के एक टुकड़े को मोड़ने का क्रम और मोड़े गए कागज को काटने का तरीका नीचे दिखाया गया है। एक ऐसी आकृति चुनें जो कागज को खोलने पर उसके खुले रूप से सबसे अधिक मिलती-जुलती होगी।

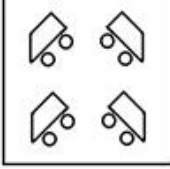


Ans

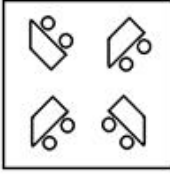
✗ 1.



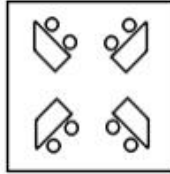
✗ 2.



✗ 3.



✓ 4.



Question ID : 26433057409

Status : Answered

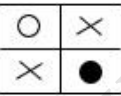
Chosen Option : 4

**Q.16** उस आकृति का चयन कीजिए जो निम्नलिखित आकृति श्रृंखला में प्रश्न चिह्न (?) को प्रतिस्थापित करेगी।

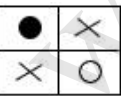


Ans

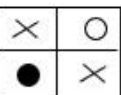
✓ 1.



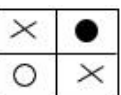
✗ 2.



✗ 3.



✗ 4.



Question ID : 26433055719

Status : Answered

Chosen Option : 1



Q.17 'P @ Q' का अर्थ है 'P, Q का पति है'  
 'P & Q' का अर्थ है 'P, Q की माँ है'  
 'P # Q' का अर्थ है 'P, Q की पत्नी है'  
 'P x Q' का अर्थ है 'P, Q का भाई है'

यदि 'A @ B & C x D # E', तो E, A से किस प्रकार संबंधित है?

- Ans ☐ 1. पत्नी के पिता  
☐ 2. बेटा  
☒ 3. बेटी का पति  
☐ 4. पत्नी का भाई

Question ID : 26433056804

Status : Answered

Chosen Option : 3

Q.18 दिए गए समीकरण को संतुलित करने के लिए \* चिह्नों को क्रमिक रूप से बदलने के लिए गणितीय चिह्नों के सही संयोजन का चयन करें।

$$572 * 4 * 64 * 365 * 41 * 27 = 441 * 380$$

- Ans ☐ 1. +, +, -, x, +, -  
☐ 2. ÷, -, +, -, x, +  
☐ 3. +, ÷, -, x, -, +  
☒ 4. ÷, -, -, +, x, +

Question ID : 26433056525

Status : Not Answered

Chosen Option : --

Q.19 एक कूट भाषा में 'WRITE' को D60X के रूप में और 'APPLE' को D35B के रूप में कूटबद्ध किया जाता है। उसी भाषा में 'BASIS' को किस प्रकार कूटबद्ध किया जाएगा?


- Ans ☐ 1. R37C  
☐ 2. T35A  
☐ 3. T37A  
☒ 4. R35C

Question ID : 26433057828

Status : Answered

Chosen Option : 4

Q.20 यदि दर्पण को नीचे दर्शाए गए अनुसार MN पर रखा जाए, तो दी गई आकृति के सही दर्पण प्रतिबिम्ब का चयन कीजिए।



- Ans ☐ 1.   
☐ 2.   
☒ 3.   
☐ 4.

Question ID : 26433056976

Status : Answered

Chosen Option : 3

Q.21 \* चिह्नों को क्रमानुसार बदलने और दिए गए समीकरण को संतुलित करने के लिए गणितीय चिह्नों के सही संयोजन का चयन कीजिए।  
 $23 * 8 * 4 * 321 * 87 * 280$

- Ans ☒ 1.  $\times, +, +, -, =$   
☒ 2.  $\times, +, -, +, =$   
☒ 3.  $+, \times, -, +, =$   
☒ 4.  $+, -, \times, +, =$

Question ID : 26433056451  
 Status : Answered  
 Chosen Option : 1

Q.22 दी गई श्रृंखला को पूरा करने के लिए कौन-सा अक्षर-समूह प्रश्न-चिह्न (?) को प्रतिस्थापित करेगा?  
 WFCI, PAZH, IVWG, ?

- Ans ☒ 1. CQTF  
☒ 2. BQTF  
☒ 3. CQTE  
☒ 4. BQTE

Question ID : 26433057972  
 Status : Answered  
 Chosen Option : 2

Q.23 आठ व्यक्ति दो समानांतर पंक्तियों में बैठे हैं। प्रत्येक पंक्ति में चार व्यक्ति हैं और वो इस प्रकार बैठे हैं कि पास बैठे व्यक्तियों के बीच समान दूरी है।  
 पहली पंक्ति में P, Q, R और S बैठे हैं और उन सभी का मुख दक्षिण की ओर है।  
 दूसरी पंक्ति में U, V, W और X बैठे हैं और उन सभी का मुख उत्तर की ओर है।  
 इस प्रकार प्रत्येक व्यक्ति दूसरी पंक्ति के अन्य व्यक्ति के ठीक सामने बैठा है।  
 X, U के दाएँ से तीसरे स्थान पर बैठा है। W के सामने बैठा व्यक्ति R के सबसे निकट बैठा है। P, R के दाएँ से तीसरे स्थान पर बैठा है। Q के सामने बैठा व्यक्ति U के सबसे निकट है। S, P के बाईं ओर दूसरे स्थान पर बैठा है।  
 निम्नलिखित में से किस व्यक्ति का मुख U की ओर है?

- Ans ☒ 1. Q  
☒ 2. S  
☒ 3. R  
☒ 4. P

Question ID : 26433080717  
 Status : Answered  
 Chosen Option : 4

Q.24 एक तस्वीर की ओर इशारा करते हुए नेहा ने कहा, "यह औरत मेरे पिता के दादा के इकलौते बेटे की पत्नी है।" तस्वीर में दिख रही लड़की का नेहा से क्या सम्बन्ध है?

- Ans ☒ 1. दादी  
☒ 2. बुआ  
☒ 3. माँ  
☒ 4. बहन

Question ID : 26433057701  
 Status : Answered  
 Chosen Option : 1

Q.25 चार अक्षर-समूह दिए गए हैं जिनमें से तीन किसी न किसी तरह से एकसमान हैं और एक असंगत है। उस असंगत अक्षर-समूह का चयन कीजिए।

- Ans ☒ 1. FIK  
☒ 2. SVX  
☒ 3. LOQ  
☒ 4. BDG

Question ID : 26433068500  
 Status : Answered  
 Chosen Option : 4

Section : Part-D- English Language

Q.1 Select the most appropriate option to fill in the blank.

A human being requires a \_\_\_\_\_ intake of nutrients and protein for keeping a fit and healthy body.

- Ans ☒ 1. balanced  
☒ 2. similar  
☒ 3. certain  
☒ 4. hygienic

Question ID : 26433072404  
 Status : Answered  
 Chosen Option : 4

Q.2 Select the most appropriate synonym of the given word.

Vagrant

- Ans ☒ 1. Drifter  
☒ 2. Loser  
☒ 3. Trader  
☒ 4. Fighter

Question ID : 26433055856  
 Status : Answered  
 Chosen Option : 2

Q.3 The following sentence has been divided into parts. One of them may contain an error. Select the part that contains the error from the given options. If you don't find any error, mark 'No error' as your answer.

Sam slowly poured / the juice / inside the glass.

- Ans ☒ 1. inside the glass  
☒ 2. Sam slowly poured  
☒ 3. the juice  
☒ 4. No error

Question ID : 26433061469  
 Status : Answered  
 Chosen Option : 1

**Q.4** Select the most appropriate homonym to fill in the blank.

He is not a \_\_\_\_\_ Don't misunderstand him.

- Ans
- ☒ 1. chid
  - ☒ 2. chit
  - ☒ 3. sheath
  - ☒ 4. cheat

Question ID : 26433058378

Status : Answered

Chosen Option : 4

**Q.5** Sentences of a paragraph are given below in jumbled order. Arrange the sentences in the correct order to form a meaningful and coherent paragraph.

- A. It accounts for the adaptation and evolution of organisms, those innumerable features that so wonderfully equip them for survival and reproduction.  
B. It is by way of this passive choosing, this natural selection, that the physical features of an entire population come to change over time.  
C. Furthermore, it accounts for the divergence of species from common ancestors and thus for the endless diversity of life.  
D. The theory of natural selection is the centerpiece of On the Origin of Species and of evolutionary theory.

- Ans
- ☒ 1. DACB
  - ☒ 2. BACD
  - ☒ 3. ABDC
  - ☒ 4. DCAB

Question ID : 26433060727

Status : Answered

Chosen Option : 1

**Q.6** Select the most appropriate option to fill in the blank.

The steady progress of military technology has brought weapons of ever-increasing \_\_\_\_\_ power.

- Ans
- ☒ 1. destructive
  - ☒ 2. killer
  - ☒ 3. super
  - ☒ 4. world-ending

Question ID : 26433060773

Status : Answered

Chosen Option : 1

**Q.7** Select the most appropriate synonym of the given word.

Accrue

- Ans
- ☒ 1. Fetter
  - ☒ 2. Spank
  - ☒ 3. Reject
  - ☒ 4. Gather

Question ID : 26433066103

Status : Answered

Chosen Option : 2

Q.8 Select the most appropriate ANTONYM of the given word.

Expel

- Ans ☒ 1. Deport  
☒ 2. Adulate  
☒ 3. Accept  
☒ 4. Eulogise

Question ID : 26433058317

Status : Answered

Chosen Option : 3

Q.9 Sentences of a paragraph are given below in jumbled order. Arrange the sentences in the correct order to form a meaningful and coherent paragraph.

- A. The average person has about one to one and a half gallons of a liquid inside his or her body called blood.  
B. The circulatory system is responsible for the movement of blood throughout the body through blood vessels.  
C. Blood is the most essential and important part of the body's circulatory system.  
D. The heart is the pump that makes it all happen

- Ans ☒ 1. ADCB  
☒ 2. ABDC  
☒ 3. ACBD  
☒ 4. CABD

Question ID : 26433058283

Status : Answered

Chosen Option : 3

Q.10 Select the most appropriate synonym of the underlined word in the given sentence.  
The care, affection, and guidance which I have got from my teachers inspired me to become a teacher.

- Ans ☒ 1. compelled  
☒ 2. quickened  
☒ 3. infused  
☒ 4. motivated

Question ID : 26433058584

Status : Answered

Chosen Option : 4

Q.11 Select the INCORRECTLY spelt word in the following sentence.  
Early rising enables us to get a long day ahead of us, permitting us to wrap up all of our work efficiently.

- Ans ☒ 1. wrap up  
☒ 2. permitting  
☒ 3. enables  
☒ 4. efficiently

Question ID : 26433058605

Status : Answered

Chosen Option : 4

Q.12 Select the option that can be used as a one-word substitute for the underlined group of words.

Advertisements on television for soaps promise younger looking skin.

- Ans
- ☐ 1. Brighter
  - ☐ 2. Smarter
  - ☒ 3. Rejuvenated
  - ☐ 4. Lighter

Question ID : 26433060399

Status : Answered

Chosen Option : 3

Q.13 Select the most appropriate meaning of the underlined idiom in the given sentence.

He backed up his friend's claim.

- Ans
- ☐ 1. added to
  - ☐ 2. collected
  - ☒ 3. supported
  - ☐ 4. withdrew

Question ID : 26433071896

Status : Answered

Chosen Option : 4

Q.14 Select the most appropriate meaning of the given idiom.

Better late than never

- Ans
- ☐ 1. Better to equip yourselves to be quick
  - ☐ 2. Timely and efficient
  - ☒ 3. Better to arrive late than not to come at all
  - ☐ 4. Always be on time

Question ID : 26433066117

Status : Answered

Chosen Option : 3

Q.15 Select the INCORRECTLY spelt word.

- Ans
- ☐ 1. Ultimate
  - ☐ 2. Perfect
  - ☒ 3. Eternel
  - ☐ 4. Supreme

Question ID : 26433055466

Status : Answered

Chosen Option : 3

Q.16 Select the most appropriate synonym of the given word.

Diligent

- Ans
- ☐ 1. Intelligent
  - ☐ 2. Lazy
  - ☒ 3. Industrious
  - ☐ 4. Handsome

Question ID : 26433059131

Status : Answered

Chosen Option : 3

Q.17 Select the option that can be used as a one-word substitute for the given group of words.

A disorder that involve difficulty in reading, interpret words

- Ans
- ☐ 1. Dysgraphia
  - ☐ 2. Delusion
  - ☐ 3. Disability
  - ☒ 4. Dyslexia

Question ID : 26433063736

Status : Answered

Chosen Option : 2

Q.18 Select the most appropriate option that can substitute the underlined segment in the given sentence.

My mother always loves to spend her leisure time on our piece of enclosed land planted with fruit trees.

- Ans
- ☐ 1. farm
  - ☐ 2. garden
  - ☒ 3. orchard
  - ☐ 4. lawn

Question ID : 26433072401

Status : Answered

Chosen Option : 3

Q.19 Select the most appropriate option that can substitute the underlined segment in the given sentence.

The teacher told him strictly that he hadn't ought to do that in the class.

- Ans
- ☐ 1. ought not has done
  - ☒ 2. ought not to have done
  - ☐ 3. hadn't ought to have done
  - ☐ 4. ought not done

Question ID : 26433065179

Status : Answered

Chosen Option : 2

Q.20 The following sentence has been divided into parts. One of them may contain an error. Select the part that contains the error from the given options. If you don't find any error, mark 'No error' as your answer.

His whole life, he wrote music, / played the piano, / and was a singer.

- Ans
- ☐ 1. His whole life he wrote music
  - ☐ 2. No error
  - ☐ 3. played the piano
  - ☒ 4. and was a singer

Question ID : 26433061495

Status : Answered

Chosen Option : 2

**Comprehension:**

In the following passage, some words have been deleted. Read the passage carefully and select the most appropriate option to fill in each blank.

The room was decorated with a number of (1) \_\_\_\_\_ objects, difficult to be seen around, small items of antique statuary and clay pots. (2) \_\_\_\_\_ the wall hung a stick, (3) \_\_\_\_\_ about with ivy leaves. It was (4) \_\_\_\_\_ with a small chaise longue. The wooden boards (5) \_\_\_\_\_ beneath the feet of the boy present.

**SubQuestion No : 21**

**Q.21** Select the most appropriate option to fill in blank number 1.

- Ans ☒ 1. absolute  
☒ 2. frequent  
☒ 3. unusual  
☒ 4. creaky

Question ID : 26433058848

Status : Answered

Chosen Option : 3

**Comprehension:**

In the following passage, some words have been deleted. Read the passage carefully and select the most appropriate option to fill in each blank.

The room was decorated with a number of (1) \_\_\_\_\_ objects, difficult to be seen around, small items of antique statuary and clay pots. (2) \_\_\_\_\_ the wall hung a stick, (3) \_\_\_\_\_ about with ivy leaves. It was (4) \_\_\_\_\_ with a small chaise longue. The wooden boards (5) \_\_\_\_\_ beneath the feet of the boy present.

**SubQuestion No : 22**

**Q.22** Select the most appropriate option to fill in blank number 2.

- Ans ☒ 1. Beside  
☒ 2. Above  
☒ 3. Upon  
☒ 4. On

Question ID : 26433058849

Status : Answered

Chosen Option : 4

**Comprehension:**

In the following passage, some words have been deleted. Read the passage carefully and select the most appropriate option to fill in each blank.

The room was decorated with a number of (1) \_\_\_\_\_ objects, difficult to be seen around, small items of antique statuary and clay pots. (2) \_\_\_\_\_ the wall hung a stick, (3) \_\_\_\_\_ about with ivy leaves. It was (4) \_\_\_\_\_ with a small chaise longue. The wooden boards (5) \_\_\_\_\_ beneath the feet of the boy present.

**SubQuestion No : 23**

**Q.23** Select the most appropriate option to fill in blank number 3.

- Ans ☒ 1. held  
☒ 2. scattered  
☒ 3. tied  
☒ 4. wound

Question ID : 26433058850

Status : Not Answered

Chosen Option : --



**Comprehension:**

In the following passage, some words have been deleted. Read the passage carefully and select the most appropriate option to fill in each blank.

The room was decorated with a number of (1) \_\_\_\_\_ objects, difficult to be seen around, small items of antique statuary and clay pots. (2) \_\_\_\_\_ the wall hung a stick, (3) \_\_\_\_\_ about with ivy leaves. It was (4) \_\_\_\_\_ with a small chaise longue. The wooden boards (5) \_\_\_\_\_ beneath the feet of the boy present.

**SubQuestion No : 24**

**Q.24** Select the most appropriate option to fill in blank number 4.

Ans ☒ 1. famished

☒ 2. fissured

☒ 3. furnished

☒ 4. featured

Question ID : 26433058851

Status : Answered

Chosen Option : 3

**Comprehension:**

In the following passage, some words have been deleted. Read the passage carefully and select the most appropriate option to fill in each blank.

The room was decorated with a number of (1) \_\_\_\_\_ objects, difficult to be seen around, small items of antique statuary and clay pots. (2) \_\_\_\_\_ the wall hung a stick, (3) \_\_\_\_\_ about with ivy leaves. It was (4) \_\_\_\_\_ with a small chaise longue. The wooden boards (5) \_\_\_\_\_ beneath the feet of the boy present.

**SubQuestion No : 25**

**Q.25** Select the most appropriate option to fill in blank number 5.

Ans ☒ 1. snapped

☒ 2. swiped

☒ 3. crumbled

☒ 4. creaked

Question ID : 26433058852

Status : Not Answered

Chosen Option : --

Section : Part-E- Computer Fundamentals

**Q.1** एमएस-एक्सेल 2010 में \_\_\_\_\_ फ़ंक्शन किसी स्ट्रिंग (string) में कैरेक्टर की कुल संख्या का विवरण देता है।

Ans ☒ 1. COUNTA

☒ 2. SUM

☒ 3. COUNTIF

☒ 4. LEN

Question ID : 26433095460

Status : Not Answered

Chosen Option : --

Q.2 एमएस-एक्सेल 2010 में \_\_\_\_\_ फ़ंक्शन केवल वर्तमान सिस्टम तिथि (current system date) प्रदान करता है।

- Ans
- ☒ 1. YEAR
  - ☒ 2. CURRENT
  - ☒ 3. TODAY
  - ☒ 4. NOW

Question ID : 26433095461  
Status : Answered  
Chosen Option : 3

Q.3 Which of the following is not a document processing software?

- Ans
- ☒ 1. Notepad
  - ☒ 2. Microsoft Word
  - ☒ 3. Open Office Impress
  - ☒ 4. WordPad

Question ID : 26433095494  
Status : Answered  
Chosen Option : 3

Q.4 Hide option is present in \_\_\_\_\_ tab in MS-Excel 2010 ribbon bar.

- Ans
- ☒ 1. View
  - ☒ 2. File
  - ☒ 3. Data
  - ☒ 4. Insert

Question ID : 26433095449  
Status : Answered  
Chosen Option : 1

Q.5 एमएस-एक्सेल 2010 में \_\_\_\_\_ का उपयोग, शीट के भीतर कॉलम को छुपाने (hiding) के लिए किया जाता है।

- Ans
- ☒ 1. Alt + 9
  - ☒ 2. Ctrl + 0
  - ☒ 3. Alt + 0
  - ☒ 4. Ctrl + 9

Question ID : 26433095483  
Status : Not Answered  
Chosen Option : --

Q.6 मोज़िला, मोज़िला फाउंडेशन द्वारा वर्ष \_\_\_\_\_ में विकसित एक वेब ब्राउज़िंग सॉफ्टवेयर है।

- Ans
- ☒ 1. 2001
  - ☒ 2. 2003
  - ☒ 3. 2002
  - ☒ 4. 2000

Question ID : 26433095407  
Status : Not Answered  
Chosen Option : --

Q.7 एमएस-एक्सेल 2010 (MS-Excel 2010) में \_\_\_\_\_ को A से आगे बढ़ते हुए और \_\_\_\_\_ को 1 से आगे बढ़ते हुए नामित किया जाता है।

- Ans
- ☒ 1. चार्ट, ग्राफ (chart, graph)
  - ☒ 2. कॉलम्स, रोज़ (columns, rows)
  - ☒ 3. टेबल, पिवट टेबल (table, pivot table)
  - ☒ 4. रोज़, कॉलम्स (rows, columns)

Question ID : 26433095423

Status : Answered

Chosen Option : 2

Q.8 \_\_\_\_\_ वर्कशीट विंडो के निचले किनारे का नाम है, जो एमएस-एक्सेल 2010 (MS-Excel 2010) में एक्सेल वर्कशीट के बारे में विभिन्न जानकारी प्रदर्शित करता है।

- Ans
- ☒ 1. स्टेटस बार (Status bar)
  - ☒ 2. टाइटल बार (Title bar)
  - ☒ 3. टास्क बार (Task bar)
  - ☒ 4. रिबन (Ribbon)

Question ID : 26433095389

Status : Answered

Chosen Option : 1

Q.9 निम्नलिखित में से कौन सा सिंबल(प्रतीक) ईमेल पते में उपयोग किया जाना चाहिए?

- Ans
- ☒ 1. %
  - ☒ 2. @
  - ☒ 3. #
  - ☒ 4. \$

Question ID : 26433095325

Status : Answered

Chosen Option : 2

Q.10 एक मार्कअप लैंग्वेज और अनियन्त्रित डाटा को स्टोर करने, संचारित करने और पुनर्निर्माण (arbitrary) करने के लिए उपयोग किए जाने वाले फाइल फॉर्मेट को \_\_\_\_\_ के रूप में जाना जाता है।

- Ans
- ☒ 1. EML
  - ☒ 2. XML
  - ☒ 3. HTML
  - ☒ 4. SGML

Question ID : 26433095506

Status : Answered

Chosen Option : 3

**Head Constable Ministerial in Delhi Police Examination 2022**

Roll Number	
Candidate Name	
Venue Name	
Exam Date	10/10/2022
Exam Time	1:00 PM - 2:30 PM
Subject	Head Constable Ministerial in Delhi Police Examination 2022

Section : **Part-A-General Awareness****Q.1** मार्च 2022 में किस संस्थान ने फीचर फोन पर UPI भुगतान सुविधा UPI123pay लॉन्च की?

- Ans ☒ 1. भारतीय लघु उद्योग विकास बैंक  
☒ 2. भारतीय रिजर्व बैंक  
☒ 3. भारतीय स्टेट बैंक  
☒ 4. वित्तीय सेवा विभाग

Question ID : **26433055043**Status : **Answered**Chosen Option : **1****Q.2** पाकिस्तान की अधिकांश आबादी निम्नलिखित में से किस संप्रदाय से संबंधित है?

- Ans ☒ 1. शिया  
☒ 2. कैथोलिक  
☒ 3. मलय  
☒ 4. सुन्नी

Question ID : **26433066609**Status : **Answered**Chosen Option : **1****Q.3** निम्नलिखित में से कौन-सा उद्योग औद्योगिक नीति संकल्प 1956 की अनुसूची A में सम्मिलित नहीं था?

- Ans ☒ 1. वायुयान  
☒ 2. परमाणु ऊर्जा  
☒ 3. जहाज निर्माण  
☒ 4. उर्वरक

Question ID : **26433059276**Status : **Not Attempted and Marked For Review**Chosen Option : **--****Q.4** निम्नलिखित में से किसने 'द अदर साइड ऑफ साइलेंस' पुस्तक लिखी, जो भारत के विभाजन के महिलाओं पर दुःखद प्रभावों का वर्णन करती है?

- Ans ☒ 1. बप्पी सिंधवा  
☒ 2. खुशवंत सिंह  
☒ 3. अमृता प्रीतम  
☒ 4. उर्वशी बुटालिया

Question ID : **26433066651**Status : **Answered**Chosen Option : **2**

Q.5 आंध्र प्रदेश सूक्ष्म-वित्त (माइक्रोफाइनेंस) संकट किस वर्ष हुआ था?

- Ans
- ☒ 1. 2006
  - ☒ 2. 2008
  - ☒ 3. 2010
  - ☒ 4. 2012

Question ID : 26433059095

Status : Not Attempted and Marked For Review

Chosen Option : --

Q.6 मई 2022 में, भारत का सबसे बड़ा ड्रोन फेस्टिवल, भारत ड्रोन महोत्सव 2022 का आयोजन निम्नलिखित में से किस शहर में किया गया था?

- Ans
- ☒ 1. नई दिल्ली
  - ☒ 2. पुणे
  - ☒ 3. चेन्नई
  - ☒ 4. बेंगलूर

Question ID : 26433095267

Status : Answered

Chosen Option : 1

Q.7 \_\_\_\_\_ की युवा बैडमिंटन खिलाड़ी तसनीम मीर जनवरी 2022 में जारी की गई बी.डब्ल्यू.एफ. (BWF) जूनियर रैंकिंग में अंडर -19 लड़कियों के एकल वर्ग में विश्व नंबर 1 रैंकिंग हासिल करने वाली पहली भारतीय खिलाड़ी बनीं।

- Ans
- ☒ 1. राजस्थान
  - ☒ 2. महाराष्ट्र
  - ☒ 3. मध्य प्रदेश
  - ☒ 4. गुजरात

Question ID : 26433054838

Status : Answered

Chosen Option : 2

Q.8 सितंबर 2021 में, किस राज्य की विधानसभा ने अपने पुलिस अधिनियम में संशोधन करके, ऑनलाइन सहित सभी प्रकार के जुओं को एक संज्ञेय और गैर-जमानती अपराध बनाने के लिए एक कानून पारित किया है?

- Ans
- ☒ 1. केरल
  - ☒ 2. आंध्र प्रदेश
  - ☒ 3. तमिलनाडु
  - ☒ 4. कर्नाटक

Question ID : 26433055555

Status : Answered

Chosen Option : 2

Q.9 अलाउद्दीन खिलजी के शासनकाल की अवधि क्या थी?

- Ans
- ☒ 1. 1295-1315
  - ☒ 2. 1289-1299
  - ☒ 3. 1290-1310
  - ☒ 4. 1296-1316

Question ID : 26433095242

Status : Answered

Chosen Option : 4

Q.10 बसवराज बोम्मई ने जुलाई 2021 में \_\_\_\_\_ के मुख्यमंत्री के रूप में शपथ ग्रहण की थी।

- Ans ☒ 1. कर्नाटक  
☒ 2. तेलंगाना  
☒ 3. तमिलनाडु  
☒ 4. ओडिशा

Question ID : 26433061786

Status : Answered

Chosen Option : 1

Q.11 भारत सरकार ने 2016 में निम्नलिखित में से कौन-सी योजना शुरू की थी, जिसका उद्देश्य देशभर में उद्यमिता को बढ़ावा देने और उसका पोषण करने के लिए एक पारिस्थितिकी तंत्र विकसित करना है?

- Ans ☒ 1. प्रधानमंत्री कौशल विकास योजना (PMKVY)  
☒ 2. स्टार्ट अप इंडिया योजना  
☒ 3. स्टैंड अप इंडिया योजना  
☒ 4. महात्मा गांधी राष्ट्रीय ग्रामीण रोजगार गारंटी अधिनियम (MNREGA)

Question ID : 26433081931

Status : Answered

Chosen Option : 1

Q.12 भारत में अलग-अलग स्थानों पर अलग-अलग तापमान होता है। भारत में निम्नलिखित में से किस स्थान का तापमान देश में सबसे कम होता है?

- Ans ☒ 1. थार रेगिस्तान  
☒ 2. द्रास  
☒ 3. चेन्नई  
☒ 4. तिरुवनंतपुरम

Question ID : 26433064095

Status : Answered

Chosen Option : 2

Q.13 सांची स्तूप \_\_\_\_\_ राजवंश के शासनकाल के दौरान बनाया गया था।

- Ans ☒ 1. गुप्त  
☒ 2. शिशुनाग  
☒ 3. मौर्य  
☒ 4. नंद

Question ID : 26433064343

Status : Answered

Chosen Option : 3

Q.14 निम्नलिखित में से कौन-सा कथन सही है?

- Ans ☒ 1. वैयक्तिक प्रयोज्य आय (PDI)  $\equiv$  वैयक्तिक आय - वैयक्तिक कर भुगतान + गैर कर भुगतान  
☒ 2. वैयक्तिक प्रयोज्य आय (PDI)  $\equiv$  वैयक्तिक आय + वैयक्तिक कर भुगतान - गैर कर भुगतान  
☒ 3. वैयक्तिक प्रयोज्य आय (PDI)  $\equiv$  वैयक्तिक आय + वैयक्तिक कर भुगतान + गैर कर भुगतान  
☒ 4. वैयक्तिक प्रयोज्य आय (PDI)  $\equiv$  वैयक्तिक आय - वैयक्तिक कर भुगतान - गैर कर भुगतान

Question ID : 26433064506

Status : Not Attempted and Marked For Review

Chosen Option : --

Q.15 भारत के भू-राजस्व अभिलेखों के अनुसार, भूमि के जिस भौतिक विस्तार में फसलों की बुआई और उपज होती है, उसे क्या कहते हैं?

- Ans
- ☒ 1. कृष्य भूमि
  - ☒ 2. निवल बोया क्षेत्र
  - ☒ 3. स्थायी फसलों वाली भूमि
  - ☒ 4. कृषि क्षेत्र

Question ID : 26433067172  
Status : Answered  
Chosen Option : 4

Q.16 न्यायिक और गैर-न्यायिक अधिकारों के बीच भेद करने के लिए प्रतिष्ठित सप्रू समिति ने किस वर्ष में अपनी रिपोर्ट प्रकाशित की थी?

- Ans
- ☒ 1. 1936
  - ☒ 2. 1925
  - ☒ 3. 1945
  - ☒ 4. 1927

Question ID : 26433071503  
Status : Not Answered  
Chosen Option : --

Q.17 दुनिया भर में घेंघा (थायरॉयड ग्रंथि की अनियमित वृद्धि) का सबसे आम कारण \_\_\_\_\_ की कमी है।

- Ans
- ☒ 1. पोटैशियम
  - ☒ 2. सोडियम
  - ☒ 3. आयोडीन
  - ☒ 4. आयरन

Question ID : 26433095257  
Status : Answered  
Chosen Option : 3

Q.18 संगीत नाटक अकादमी के अनुसार भारत में शास्त्रीय नृत्य शैलियों की कुल संख्या कितनी है?

- Ans
- ☒ 1. 3
  - ☒ 2. 5
  - ☒ 3. 10
  - ☒ 4. 8

Question ID : 26433066525  
Status : Answered  
Chosen Option : 4

Q.19 भारत में ब्रिटिश शासन के दौरान निम्नलिखित में से किस राष्ट्रीय नेता ने अपने अनुयायियों के साथ 1939 में अखिल भारतीय फॉरवर्ड ब्लॉक की स्थापना की थी?

- Ans
- ☒ 1. जवाहर लाल नेहरू
  - ☒ 2. सुभाष चंद्र बोस
  - ☒ 3. गोपाल कृष्ण गोखले
  - ☒ 4. जयप्रकाश नारायण

Question ID : 26433065554  
Status : Answered  
Chosen Option : 2

Q.20 गणगौर उत्सव मुख्य रूप से भारत के निम्नलिखित में से किस राज्य में मनाया जाता है?

- Ans ☒ 1. पंजाब  
☒ 2. राजस्थान  
☒ 3. ओडिशा  
☒ 4. केरल

Question ID : 26433064334  
 Status : Answered  
 Chosen Option : 1

Section : Part-B-Quantitative Aptitude

Q.1 एक व्यक्ति ने अर्ध-वार्षिक रूप से चक्रवृद्धि की जाने वाली 10% वार्षिक ब्याज दर पर Rs.8,000 की राशि उधार ली। एक वर्ष की अवधि के लिए चक्रवृद्धि ब्याज कितना होगा?

- Ans ☒ 1. Rs.1,600  
☒ 2. Rs.1,680  
☒ 3. Rs.820  
☒ 4. Rs.800

Question ID : 26433058146  
 Status : Answered  
 Chosen Option : 3

Q.2 निम्नलिखित को सरल कीजिए:

$$105 \div 5 \times 5 + (32 \times 4 \div 2 + 6) - 10$$

- Ans ☒ 1. 160  
☒ 2. 155  
☒ 3. 150  
☒ 4. 165

Question ID : 26433058391  
 Status : Answered  
 Chosen Option : 2

Q.3 यदि 6 पुरुष या 8 महिलाएं किसी काम को 86 दिनों में कर सकते हैं, तो 14 पुरुष और 10 महिलाएं उसी काम को पूरा करने में कितने दिन का समय लेंगे?

- Ans ☒ 1. 25  
☒ 2. 24  
☒ 3. 30  
☒ 4. 28

Question ID : 26433058975  
 Status : Answered  
 Chosen Option : 2



Q.4 X, Y और Z एक कार्य को क्रमशः 10 दिन, 20 दिन और 30 दिन में पूरा कर सकते हैं। यदि X, Y और Z की सहायता से प्रत्येक एकांतर दिन में काम करता है, तो कार्य कितने दिनों में पूरा किया जा सकता है?

Ans

✓ 1.  $7\frac{3}{11}$  दिन

✗ 2.  $8\frac{2}{17}$  दिन

✗ 3.  $6\frac{4}{11}$  दिन

✗ 4.  $5\frac{1}{17}$  दिन

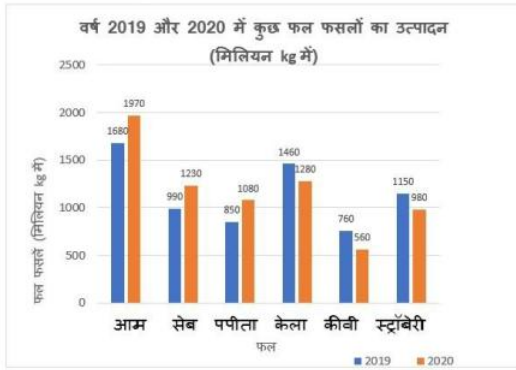
Question ID : 26433061417

Status : Answered

Chosen Option : 4

Q.5 निम्न बार ग्राफ वर्ष 2019 और 2020 में कुछ फल फसलों के उत्पादन (मिलियन kg में) के बारे में जानकारी प्रदर्शित करता है।

बार ग्राफ का ध्यानपूर्वक अध्ययन करें और नीचे दिए गए प्रश्न का उत्तर दें।



2019 और 2020 में औसत फल फसल उत्पादन (मिलियन kg में) के बीच क्या अंतर है?

Ans ✓ 1. 35

✗ 2. 48

✗ 3. 83

✗ 4. 74

Question ID : 26433073151

Status : Answered

Chosen Option : 1

Q.6 निम्नलिखित का मान ज्ञात कीजिए।

$$\frac{\cos 2\theta \cdot \cos 3\theta - \cos 2\theta \cdot \cos 7\theta + \cos \theta \cdot \cos 10\theta}{\sin 4\theta \cdot \sin 3\theta - \sin 2\theta \cdot \sin 5\theta + \sin 4\theta \cdot \sin 7\theta}$$

Ans ✗ 1.  $\cot 6\theta \cdot \cos 5\theta$

✗ 2.  $\cos 6\theta \cdot \cos 5\theta$

✗ 3.  $\cos 6\theta \cdot \cot 5\theta$

✓ 4.  $-\cot 6\theta \cdot \cot 5\theta$

Question ID : 26433076059

Status : Answered

Chosen Option : 1

Q.7 एक दुकानदार वस्तुओं पर 40% की छूट प्रदान करता है। वह पहले 100 ग्राहकों के लिए कम की हुई कीमत पर 10% की एक और छूट प्रदान करता है। 100 के अंदर आने वाले ग्राहक को Rs.1,000 की वस्तु पर कितना भुगतान करना होगा?

- Ans ☒ 1. Rs.780  
☒ 2. Rs.650  
☒ 3. Rs.540  
☒ 4. Rs.430

Question ID : 26433064908  
 Status : Answered  
 Chosen Option : 3

Q.8 एक समानुपात में, पहला, दूसरा और चौथा पद क्रमशः 15, 25 और 75 हैं। तीसरा पद क्या होगा?

- Ans ☒ 1. 65  
☒ 2. 35  
☒ 3. 55  
☒ 4. 45

Question ID : 26433061351  
 Status : Answered  
 Chosen Option : 4

Q.9 3 कमीज़ों और 2 पतलूनों की कीमत ₹950 है, जबकि 2 कमीज़ों और 3 पतलूनों की कीमत ₹1,050 है। 4 पतलूनों और 5 कमीज़ों की कीमत क्या होगी?

- Ans ☒ 1. ₹1,750  
☒ 2. ₹1,850  
☒ 3. ₹1,685  
☒ 4. ₹1,780

Question ID : 26433058832  
 Status : Answered  
 Chosen Option : 1

Q.10 एक डिजिटल नोट-पैड ₹25,000 नकद पर, या ₹2,500 डाउन पेमेंट (तुरंत भुगतान) के बाद 4 समान मासिक किस्तों पर उपलब्ध है। यदि प्रभारित ब्याज दर 24% वार्षिक साधारण ब्याज है, तो मासिक किस्त कितनी होगी (₹ में, निकटतम दहाई तक पूर्णांकित)?

- Ans ☒ 1. 5,800  
☒ 2. 5,790  
☒ 3. 5,890  
☒ 4. 5,900

Question ID : 26433061902  
 Status : Answered  
 Chosen Option : 3

Q.11 एक कार यदि 40 km/h की गति से चलती है तो एक दूरी को तय करने में 5 घंटे का समय लेती है। 2.5 घंटे में उतनी ही दूरी तय करने के लिए इसकी गति क्या होनी चाहिए?

- Ans ☒ 1. 20 km/h  
☒ 2. 60 km/h  
☒ 3. 80 km/h  
☒ 4. 40 km/h

Question ID : 26433061354  
 Status : Answered  
 Chosen Option : 3

Q.12 एक बेलन का आयतन ज्ञात कीजिए जिसका आधार क्षेत्रफल  $40 \text{ cm}^2$  है और ऊँचाई  $9 \text{ cm}$  है।

- Ans ☒ 1.  $360 \text{ cm}^3$   
☒ 2.  $180 \text{ cm}^3$   
☒ 3.  $120 \text{ cm}^3$   
☒ 4.  $300 \text{ cm}^3$

Question ID : 26433058415

Status : Answered

Chosen Option : 1

Q.13 5 के पहले पाँच धनात्मक गुणजों का औसत क्या है?

- Ans ☒ 1. 80  
☒ 2. 16  
☒ 3. 15  
☒ 4. 75

Question ID : 26433073073

Status : Answered

Chosen Option : 3

Q.14 यदि  $\triangle ABC$  और  $\triangle PQR$  में,  $AB = 8 \text{ cm}$ ,  $BC = 10 \text{ cm}$ ,  $AC = 12 \text{ cm}$ ,  $PQ = 8 \text{ cm}$ ,  $QR = 10 \text{ cm}$  और  $PR = 12 \text{ cm}$  है, तो निम्नलिखित में से कौन-सा विकल्प सत्य है?

- Ans ☒ 1.  $\triangle ABC \cong \triangle PQR$   
☒ 2.  $\triangle ABC \cong \triangle RPQ$   
☒ 3.  $\triangle ABC \cong \triangle QRP$   
☒ 4.  $\triangle ABC \cong \triangle QPR$

Question ID : 26433075803

Status : Answered

Chosen Option : 1

Q.15 फलों की कीमत में 25% की वृद्धि की गई है। खपत को कितना प्रतिशत कम किया जाना चाहिए ताकि खर्च समान रहे?

- Ans ☒ 1. 15%  
☒ 2. 25%  
☒ 3. 20%  
☒ 4. 10%

Question ID : 26433058962

Status : Answered

Chosen Option : 3

Q.16 11, 44, 121, 88 और 1331 का महत्तम समापवर्तक (HCF) क्या है?

- Ans ☒ 1. 2  
☒ 2. 8  
☒ 3. 22  
☒ 4. 11

Question ID : 26433063273

Status : Answered

Chosen Option : 4

Q.17 निकिता को एक टेबल फैन को Rs.840 में बेचने पर 20% का लाभ होगा और एक दीवार घड़ी को Rs.1,008 में बेचने पर 12% का लाभ होगा। वह टेबल फैन को Rs.980 में बेचती है, उसे दीवार घड़ी को किस न्यूनतम कीमत पर बेचना होगा, ताकि दोनों सौदों को मिलाकर उसे कोई नुकसान न हो?

- Ans
- ☒ 1. Rs.660
  - ☒ 2. Rs.600
  - ☒ 3. Rs.640
  - ☒ 4. Rs.620

Question ID : 26433056311  
Status : Answered  
Chosen Option : 4

Q.18 यदि  $x = 1.\overline{234}$  और  $y = 4.\overline{321}$  है, तो  $x + y$  को भिन्न के रूप में किस प्रकार लिखा जाएगा?

- Ans
- ☒ 1.  $\frac{5551}{999}$
  - ☒ 2.  $\frac{5551}{990}$
  - ☒ 3.  $\frac{5505}{999}$
  - ☒ 4.  $\frac{5550}{999}$

Question ID : 26433066169  
Status : Answered  
Chosen Option : 4

Q.19 यदि  $(x^3 + y^3) : (x^2 - xy + y^2) = 3 : 1$  और  $(x^2 - y^2) : (x + y) = 5 : 6$  है, तो  $2x : 3y$  का मान क्या है?

- Ans
- ☒ 1. 46 : 39
  - ☒ 2. 38 : 47
  - ☒ 3. 45 : 32
  - ☒ 4. 36 : 43

Question ID : 26433063835  
Status : Answered  
Chosen Option : 1

Q.20 12 m लंबी, 9 m ऊंची और 90 cm मोटी एक दीवार बनाई जानी है। यह देखते हुए कि एक पैक में 450 ईंटें हैं, यदि प्रत्येक ईंट की विमाएं 10 cm x 7.5 cm x 7 cm है और सीमेंट और रेत का मिश्रण दीवार के एक-अठारहवें आयतन को घेरता है, तो ईंटों के कितने पैक की आवश्यकता होगी? (निकटतम पूर्णांक में पूर्णांकित)

- Ans
- ☒ 1. 387
  - ☒ 2. 390
  - ☒ 3. 388
  - ☒ 4. 389

Question ID : 26433063271  
Status : Answered  
Chosen Option : 4

Section : Part-C-General Intelligence

Q.1 इस प्रश्न में तीन कथन दिए गए हैं, जिसके बाद दो निष्कर्ष I और II दिए गए हैं। कथनों को सत्य मानते हुए, भले ही वे सामान्य रूप से ज्ञात तथ्यों से भिन्न प्रतीत होते हों, निर्णय लें कि कौन-सा/से निष्कर्ष कथनों का तार्किक रूप से अनुसरण करता है/ करते हैं।

कथन:

सभी कंप्यूटर लैपटॉप हैं।

कुछ लैपटॉप महँगे हैं।

सभी महँगी चीजें आयात की जाती हैं।

निष्कर्ष:

I. सभी लैपटॉप आयात किए जाते हैं।

II. कुछ कंप्यूटर महँगे हैं।

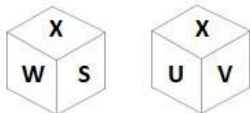
- Ans
- ☒ 1. केवल निष्कर्ष I अनुसरण करता है।
  - ☒ 2. निष्कर्ष I और II दोनों अनुसरण करते हैं।
  - ☒ 3. न तो निष्कर्ष I और न ही II अनुसरण करता है।
  - ☒ 4. केवल निष्कर्ष II अनुसरण करता है।

Question ID : 26433078903

Status : Answered

Chosen Option : 3

Q.2 एक पासे के विभिन्न फलकों पर छः अक्षर S, T, U, V, W और X लिखे गए हैं। इस पासे की दो स्थितियाँ दी गई आकृतियों में दर्शाई गई हैं। X के विपरीत फलक पर अक्षर ज्ञात कीजिए।



- Ans
- ☒ 1. U
  - ☒ 2. W
  - ☒ 3. S
  - ☒ 4. T

Question ID : 26433067533

Status : Answered

Chosen Option : 4

Q.3 A, B, C, D, E, F, G और H एक वर्गाकार मेज के चारों ओर मेज के केंद्र की ओर मुख करके बैठे हैं। उनमें से कुछ कोनों पर बैठे हैं, जबकि कुछ भुजाओं के ठीक केंद्र में बैठे हैं। A एक भुजा के केंद्र में बैठा है। B, A के बाएँ से तीसरे स्थान पर बैठा है। केवल तीन व्यक्ति B और C के बीच में बैठे हैं। F न तो C का और न ही B का निकटतम पड़ोसी है। E, F के बाएँ से तीसरे स्थान पर बैठा है। D, H के ठीक दाएँ बैठा है। G के दाएँ से दूसरे स्थान पर कौन बैठा है?

- Ans
- ☒ 1. B
  - ☒ 2. A
  - ☒ 3. H
  - ☒ 4. C

Question ID : 26433058025

Status : Answered

Chosen Option : 2

Q.4 यदि दर्पण को नीचे दर्शाए गए अनुसार MN पर रखा जाए, तो दी गई आकृति के सही दर्पण प्रतिबिम्ब का चयन कीजिए।



- Ans
- ☒ 1. **e m 6 5 z p q**
  - ☒ 2. **e w e 2 z p h**
  - ☒ 3. **e w e 2 z b d**
  - ☒ 4. **e m e 5 z b d**

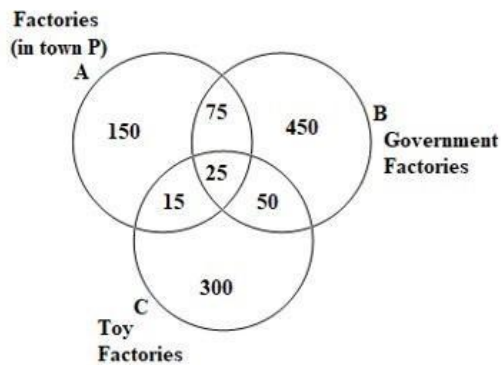
Question ID : 26433056992

Status : Answered

Chosen Option : 4

Q.5 दिए गए आरेख का ध्यानपूर्वक अध्ययन कीजिए और प्रश्न का उत्तर दीजिए।

विभिन्न सेक्शनों की संख्याएँ कारखानों की संख्या को दर्शाती हैं।



शहर P के बाहर खिलौना बनाने के कितने सरकारी कारखाने हैं?

- Ans
- ☒ 1. 50
  - ☒ 2. 25
  - ☒ 3. 75
  - ☒ 4. 300

Question ID : 26433069671

Status : Answered

Chosen Option : 4

Q.6 P और Q बहनें हैं। Q, R से विवाहित है। S, R का पिता है। T, S की पत्नी है। U, S की पुत्री है। U, Q से किस प्रकार संबंधित है?

- Ans
- ☒ 1. बहन
  - ☒ 2. माता
  - ☒ 3. ननद
  - ☒ 4. मौसी

Question ID : 26433057720

Status : Answered

Chosen Option : 3

Q.7 उस विकल्प का चयन करें, जो दिए गए शब्दों के उस सही क्रम का प्रतिनिधित्व करता है, जिस क्रम में वे अंग्रेजी शब्दकोश में दिखाई देते हैं।

1. Relegate
2. Resonate
3. Redundant
4. Relax
5. Replenish
6. Rescue

Ans ☒ 1. 3, 1, 4, 5, 6, 2  
☒ 2. 3, 4, 1, 5, 2, 6  
☒ 3. 3, 4, 1, 5, 6, 2  
☒ 4. 3, 4, 1, 6, 5, 2

Question ID : 26433056714

Status : Answered

Chosen Option : 3

Q.8 उस समुच्चय का चयन करें जिसमें दी गई संख्याएं आपस में उसी प्रकार संबंधित हैं, जिस प्रकार प्रश्न में दिए गए समुच्चय की संख्याएं आपस में संबंधित हैं।

(नोट: संख्याओं को उनके घटक अंकों में तोड़े बिना, पूर्ण संख्याओं पर गणितीय संक्रियाएं की जानी चाहिए। जैसे, 13 के मामले में - 13 पर विभिन्न गणितीय संक्रियाएं जैसे 13 में जोड़ना / घटाना / गुणा करना आदि की जा सकती हैं। लेकिन 13 को 1 और 3 में तोड़ने और फिर 1 और 3 पर गणितीय संक्रियाएं करने की अनुमति नहीं है।)

(76, 8, 722)  
 (14, 4, 49)

Ans ☒ 1. (23, 6, 68)  
☒ 2. (24, 8, 72)  
☒ 3. (42, 8, 202)  
☒ 4. (35, 7, 162)

Question ID : 26433074774

Status : Not Attempted and Marked For Review

Chosen Option : --

Q.9 निम्नलिखित में से तीन अक्षर-समूह किसी न किसी तरह में एक जैसे हैं और इसलिए एक समूह बनाते हैं। कौन-सा अक्षर-समूह उस समूह से संबंधित नहीं है?

Ans ☒ 1. FUJW  
☒ 2. CXGZ  
☒ 3. HTMV  
☒ 4. EVIX

Question ID : 26433056165

Status : Answered

Chosen Option : 3

Q.10 निम्नलिखित में से कौन-सी संख्या दी गई श्रृंखला में प्रश्न चिह्न (?) का स्थान लेगी?  
 941, 716, 520, ?, 207

Ans ☒ 1. 365  
☒ 2. 423  
☒ 3. 351  
☒ 4. 448

Question ID : 26433056472

Status : Answered

Chosen Option : 3

Q.11 उस विकल्प का चयन करें, जो उन अक्षरों को दर्शाता है, जिन्हें निम्नलिखित रिक्त स्थानों में बाएँ से दाएँ क्रमिक रूप से रखे जाने पर दी गई अक्षर-श्रृंखला पूरी हो जाएगी।

A \_ R \_ O \_ G R T \_ A G \_ \_ O A G R \_ \_

- Ans ☒ 1. GATORTTO  
☒ 2. GATROTTO  
☒ 3. GTAORTTO  
☒ 4. GTARRTOO

Question ID : 26433056142

Status : Answered

Chosen Option : 3

Q.12 एक कूट भाषा में, 'JACOB' को 104 के रूप में कूटबद्ध किया जाता है और 'HENRY' को 65 के रूप में कूटबद्ध किया जाता है। उसी भाषा में 'JAMES' को किस प्रकार कूटबद्ध किया जाएगा?

- Ans ☒ 1. 92  
☒ 2. 79  
☒ 3. 112  
☒ 4. 87

Question ID : 26433057909

Status : Answered

Chosen Option : 4

Q.13 उस विकल्प का चयन करें जो तीसरे शब्द से उसी प्रकार संबंधित है जिस प्रकार दूसरा शब्द पहले शब्द से संबंधित है। (शब्दों को अर्थपूर्ण हिन्दी शब्दों के रूप में माना जाना चाहिए और इन्हें शब्द में अक्षरों की संख्या/व्यंजनों की संख्या/स्वरों की संख्या के आधार पर एक-दूसरे से संबद्ध नहीं किया जाना चाहिए।)  
जादूगर : जादूगरनी :: मठवासी : ?

- Ans ☒ 1. रखैल  
☒ 2. कुंआरी  
☒ 3. मठवासिनी  
☒ 4. मठ

Question ID : 26433067346

Status : Answered

Chosen Option : 3

Q.14 उस समुच्चय का चयन करें जिसमें दी गई संख्याएं आपस में उसी प्रकार संबंधित हैं जिस प्रकार निम्नलिखित समुच्चयों की संख्याएं हैं।  
(ध्यान दें: संख्याओं को उसके घटक अंकों में विभाजित किए बिना, पूर्ण संख्याओं पर गणितीय संक्रियाएं की जानी चाहिए। उदाहरण के लिए 13 - जोड़ने/घटाने/गुणा करने जैसी गणितीय संक्रियाएं पूर्ण 13 पर की जा सकती हैं। 13 को 1 और 3 में विभाजित करने और फिर 1 और 3 पर गणितीय संक्रियाएं करने की अनुमति नहीं है।)  
(34, 12, 10)  
(56, 17, 22)

- Ans ☒ 1. (45, 19, 8)  
☒ 2. (46, 29, 8)  
☒ 3. (46, 19, 8)  
☒ 4. (48, 19, 8)

Question ID : 26433068662

Status : Answered

Chosen Option : 3



Q.15 एक तस्वीर की ओर इशारा करते हुए डेविड ने कहा, "तस्वीर में दिख रही लड़की मेरे भाई के इकलौते भाई की बेटी है।" तस्वीर में दिख रही लड़की का डेविड से क्या संबंध है?

- Ans
- ☒ 1. माँ
  - ☒ 2. बेटी
  - ☒ 3. पत्नी
  - ☒ 4. बहन

Question ID : 26433057705

Status : Answered

Chosen Option : 2

Q.16 \* चिह्नों को क्रमिक रूप से बदलने और दिए गए समीकरण को संतुलित करने के लिए गणितीय चिह्नों के सही संयोजन का चयन कीजिए।

13 \* 6 \* 12 \* 20 \* 5 \* 70

- Ans
- ☒ 1. +, -, ×, ÷, =
  - ☒ 2. ×, -, +, ÷, =
  - ☒ 3. ÷, -, +, ×, =
  - ☒ 4. +, ×, -, ÷, =

Question ID : 26433056938

Status : Answered

Chosen Option : 2

Q.17 एक निश्चित कूट भाषा में, 'EYES' को '64' और 'NOSE' को '65' के रूप में लिखा जाता है। इसी कूट भाषा में 'LIPS' को किस प्रकार लिखा जाएगा?

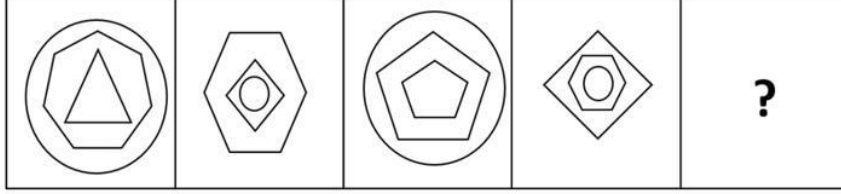
- Ans
- ☒ 1. 58
  - ☒ 2. 62
  - ☒ 3. 64
  - ☒ 4. 60

Question ID : 26433057287

Status : Answered

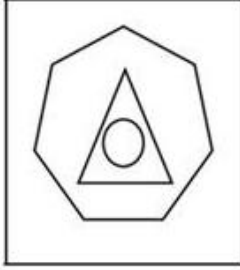
Chosen Option : 2

Q.18 उस आकृति का चयन कीजिए, जो निम्नलिखित आकृति शृंखला में प्रश्न-चिह्न (?) को प्रतिस्थापित करेगी।

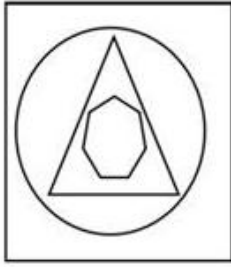


Ans

✗ 1.



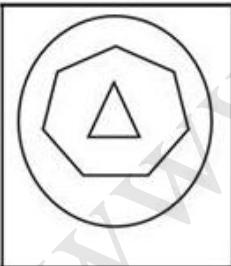
✓ 2.



✗ 3.



✗ 4.



Question ID : 26433056099

Status : Answered

Chosen Option : 2

Q.19 निम्नलिखित में से कौन-सी संख्या दी गई शृंखला में प्रश्न चिह्न (?) को प्रतिस्थापित करेगी?  
74, 92, 117, ?, 188, 234

Ans ✗ 1. 157

✓ 2. 149

✗ 3. 155

✗ 4. 142

Question ID : 26433057545

Status : Answered

Chosen Option : 2

Q.20 उस विकल्प का चयन करें जो पांचवें अक्षर-समूह से उसी प्रकार संबंधित है जिस प्रकार दूसरा अक्षर-समूह पहले अक्षर-समूह से संबंधित है और चौथा अक्षर-समूह तीसरे अक्षर-समूह से संबंधित है।  
FAIRY : QXHEZ :: BANDS : CRMAZ :: QUEEN : ?

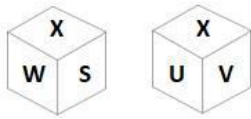
- Ans ☒ 1. DMDPT  
☒ 2. DMPDT  
☒ 3. DMDRT  
☒ 4. DMDTP

Question ID : 26433057262

Status : Not Attempted and Marked For Review

Chosen Option : --

Q.21 एक पासे के विभिन्न फलकों पर छः अक्षर S, T, U, V, W और X लिखे गए हैं। इस पासे की दो स्थितियाँ दी गई आकृतियों में दर्शाई गई हैं। V के विपरीत फलक पर अक्षर ज्ञात कीजिए।



- Ans ☒ 1. X  
☒ 2. S  
☒ 3. U  
☒ 4. W

Question ID : 26433067535

Status : Answered

Chosen Option : 2

Q.22 विकल्पों में से कौन सा अक्षर-समूह प्रश्नवाचक चिह्न (?) को प्रतिस्थापित करके दी गई श्रेणी को पूरा करेगा?  
KGCJ, JEZF, ?, HATX, GYQT

- Ans ☒ 1. ICWA  
☒ 2. ICWB  
☒ 3. WBCJ  
☒ 4. WBCI

Question ID : 26433065582

Status : Answered

Chosen Option : 2



Q.1 Substitute one word for the italicised expression.  
As a surgeon, I wish I can be a lover of *mankind*.

- Ans ☒ 1. philanthropist  
☐ 2. misanthropist  
☐ 3. plagiarist  
☐ 4. misogynist

Question ID : 26433059753  
Status : Answered  
Chosen Option : 1

Q.2 Select the most appropriate homonym to fill in the blank.  
The person who used to \_\_\_\_\_ the girl got arrested last week.

- Ans ☐ 1. adore  
☐ 2. like  
☐ 3. laugh at  
☒ 4. stalk

Question ID : 26433055490  
Status : Answered  
Chosen Option : 4

Q.3 Select the option that will improve the underlined part of the given sentence. In case no improvement is needed, select 'No improvement required'.  
Rita has quitted the soccer team.

- Ans ☐ 1. quitted  
☐ 2. had quitted  
☒ 3. has quit  
☐ 4. No improvement required

Question ID : 26433060753  
Status : Answered  
Chosen Option : 3

Q.4 Select the INCORRECTLY spelt word.

- Ans ☒ 1. Srinkage  
☐ 2. Percentage  
☐ 3. Storage  
☐ 4. Parentage

Question ID : 26433055471  
Status : Answered  
Chosen Option : 1

Q.5 Select the most appropriate ANTONYM of the underlined word.

Black people used to suffer under the yoke of slavery.

- Ans ☐ 1. mediocrity  
☐ 2. fraternity  
☒ 3. liberty  
☐ 4. alacrity

Question ID : 26433058336  
Status : Answered  
Chosen Option : 2

**Q.6** The following sentence has been divided into parts. One of them may contain an error. Select the part that contains the error from the given options. If you don't find any error, mark 'No error' as your answer.

These pens were found / in the upper drawer / of your table.

- Ans** ☒ 1. No error  
☐ 2. in the upper drawer  
☐ 3. of your table  
☐ 4. These pens were found

Question ID : **26433061481**  
Status : **Answered**  
Chosen Option : **2**

**Q.7** Select the most appropriate option to fill in the blank.

He is always \_\_\_\_\_ in his choices.

- Ans** ☐ 1. write  
☐ 2. writ  
☒ 3. right  
☐ 4. rite

Question ID : **26433058305**  
Status : **Answered**  
Chosen Option : **3**

**Q.8** Select the most appropriate meaning of the given idiom.  
Let sleeping dogs lie

- Ans** ☒ 1. Stop discussing an issue  
☐ 2. Taking sleep for granted  
☐ 3. Discuss a burning issue  
☐ 4. Making sleep mandatory

Question ID : **26433066133**  
Status : **Answered**  
Chosen Option : **3**

**Q.9** Select the most appropriate option to fill in the blanks.

\_\_\_\_\_ and \_\_\_\_\_ wait for none.

- Ans** ☐ 1. Tom; Harry  
☒ 2. Time; tide  
☐ 3. Patience; honesty  
☐ 4. Life; death

Question ID : **26433073259**  
Status : **Answered**  
Chosen Option : **2**

**Q.10** Select the **INCORRECTLY** spelt word.

- Ans ☒ 1. Aesthetic  
☒ 2. Hideous  
☒ 3. Aquit  
☒ 4. Forfeit

Question ID : 26433055602  
Status : Answered  
Chosen Option : 3

**Q.11** Select the most appropriate meaning of the given idiom.  
Call it a day

- Ans ☒ 1. Reflecting on past success  
☒ 2. Stop depending on effort  
☒ 3. Stop working on something  
☒ 4. Calling out facts

Question ID : 26433066118  
Status : Answered  
Chosen Option : 3

**Q.12** Select the option that can be used as a one-word substitute for the given group of words.

Great sorrow or distress

- Ans ☒ 1. Rigour  
☒ 2. Woe  
☒ 3. Asperity  
☒ 4. Cross

Question ID : 26433070672  
Status : Answered  
Chosen Option : 2

**Q.13** Select the most appropriate **ANTONYM** of the word proper from the given sentence:  
The bizarre fact is that there is no proper drainage system in our locality and this makes it unsuitable and incongruous for the children who play in the streets.

- Ans ☒ 1. incongruous  
☒ 2. make  
☒ 3. unsuitable  
☒ 4. bizarre

Question ID : 26433058550  
Status : Answered  
Chosen Option : 3

Q.14 Select the option that can be used as a one-word substitute for the given group of words.

One who loves to speak

- Ans ☒ 1. Misanthropist  
☒ 2. Loquacious  
☒ 3. Extrovert  
☒ 4. Misogamist

Question ID : 26433072389

Status : Answered

Chosen Option : 2

Q.15 The following sentence has been divided into parts. One of them may contain an error. Select the part that contains the error from the given options. If you don't find any error, mark 'No error' as your answer.

The committee decided to / adjourn the meeting / as many of their members were absent.

- Ans ☒ 1. No error  
☒ 2. The committee decided to  
☒ 3. adjourn the meeting  
☒ 4. as many of their members were absent

Question ID : 26433061487

Status : Answered

Chosen Option : 4

Q.16 Sentences of a paragraph are given below. While the first and the last sentences (S1 and S6) are in the correct order, the sentences in between are jumbled up. Arrange the sentences in the correct order to form a meaningful and coherent paragraph.

S1. Cart after cart groans

A. and on many a night, before the eyes are shut

B. the last lights we see are those of the train of carts,

C. and the last voice we hear is that of the cart-man

D. through the roads of Kanthapura

S6. who sings through the hollows of the night.

- Ans ☒ 1. BACD  
☒ 2. CABD  
☒ 3. ABCD  
☒ 4. DABC

Question ID : 26433063577

Status : Answered

Chosen Option : 4

Q.17 Select the most appropriate synonym of the underlined word.  
The student maintains a cordial relationship with his teachers.

- Ans ☒ 1. unfriendly  
☒ 2. beneficial  
☒ 3. unpleasant  
☒ 4. friendly

Question ID : 26433063587

Status : Answered

Chosen Option : 4



Q.18 Select the most appropriate ANTONYM of the underlined word.

The advocate was warned for using casuistry to mislead the jury.

- Ans ☒ 1. Certainty  
☒ 2. Insinuation  
☒ 3. Cacophony  
☒ 4. Sophistry

Question ID : 26433058333

Status : Answered

Chosen Option : 2

Q.19 Sentences of a paragraph are given below in jumbled order. Arrange the sentences in the correct order to form a meaningful and coherent paragraph.

- A. Parents need to understand this simple fact so that they can treat children fairly and understandingly, when they fail to have the attention of the kids.  
B. Parents always blame their kids or feel bad when their kids do not pay any attention to their words.  
C. Paying full attention towards a specific thing is also difficult for elderly people, but unlike children, it is because many more things keep racing in their minds.  
D. The fact is that kids pay a hundred per cent attention when they are playing or doing something creative. So, naturally, they do not heed, and thus cannot answer their parents' or elders' call

- Ans ☒ 1. ADBC  
☒ 2. ACBD  
☒ 3. BDAC  
☒ 4. CABD

Question ID : 26433058259

Status : Answered

Chosen Option : 3

Q.20 Parts of a sentence/paragraph are given below. While the first and the last parts (A and F) are in the correct order, the parts in between are jumbled up. Arrange the parts in the correct order to form a meaningful and coherent sentence/paragraph.

- A. I am not an early riser.  
B. But all my excitement was gone the next morning as it was 8 in the morning when I woke up.  
C. It was pleasant to see the sun rising in the sky, birds chirping on the branches of trees.  
D. The experience was so awesome that I decided to wake up early every morning.  
E. By chance, one fine Sunday morning I woke up at 5.  
F. I still enjoy sleeping till late and could never turn myself to an early-riser.

- Ans ☒ 1. E, C, D, B  
☒ 2. E, D, C, B  
☒ 3. E, C, B, D  
☒ 4. B, C, D, E

Question ID : 26433072505

Status : Answered

Chosen Option : 1

**Comprehension:**

In the following passage, some words have been deleted. Read the passage carefully and select the most appropriate option to fill in each blank.

The Department of Education in Science and Mathematics (DESM) has been working for school education in the areas of Science, Mathematics, Environment and Computer Science at upper primary, secondary and higher secondary stages. It experiments with teaching-learning strategies (1) \_\_\_\_\_ new methods and technologies, and develops instructional material as well as material for training of teachers and teacher-educators. The department also assists and advises the Ministry of Human Resource Development, Government of India in various science, mathematics and environment education related issues and concerns. It also extends its cooperation and expertise to other departments and divisions of NIE as well as other constituents of the NCERT in various activities (2) \_\_\_\_\_ development of curricular, co-curricular and other support materials for students as well as teachers. Faculty members of the department also provide its expertise to SCERTs, State Boards of School Education, Central and State governments, Universities, etc. Major activities of the DESM include curriculum development, conducting teacher orientation or training programmes, (3) \_\_\_\_\_ of information in Science, Mathematics and Environmental Education, development of innovative laboratory practices and publication of the Journal School Science. The department has also developed a Science Park, a herbal garden which provides valuable information and idea for schools (4) \_\_\_\_\_ the same for benefit of children. The Resource Centre for Science and Mathematics Education (RCSME) of the department is a rich repository inclusive of both print and electronic resources on science and mathematics education. The department develops and disseminates material for popularisation of Science, Mathematics and Environmental Education. It also organises the Jawaharlal Nehru National Science, Mathematics and Environment Exhibition (JNNMSEE) for children, which is an annual event that (5) \_\_\_\_\_ the culmination of a series of science exhibitions, organised at district, zonal and state levels. DESM also provides academic guidance and financial support for the State Level Science Exhibitions.

**SubQuestion No : 21**

**Q.21** Select the most appropriate option to fill in blank number 1.

- Ans ☒ 1. precluding  
☒ 2. inclusive  
☒ 3. excluding  
☒ 4. involving

Question ID : 26433060499

Status : Answered

Chosen Option : 4

**Comprehension:**

In the following passage, some words have been deleted. Read the passage carefully and select the most appropriate option to fill in each blank.

The Department of Education in Science and Mathematics (DESM) has been working for school education in the areas of Science, Mathematics, Environment and Computer Science at upper primary, secondary and higher secondary stages. It experiments with teaching-learning strategies (1) \_\_\_\_\_ new methods and technologies, and develops instructional material as well as material for training of teachers and teacher-educators. The department also assists and advises the Ministry of Human Resource Development, Government of India in various science, mathematics and environment education related issues and concerns. It also extends its cooperation and expertise to other departments and divisions of NIE as well as other constituents of the NCERT in various activities (2) \_\_\_\_\_ development of curricular, co-curricular and other support materials for students as well as teachers. Faculty members of the department also provide its expertise to SCERTs, State Boards of School Education, Central and State governments, Universities, etc. Major activities of the DESM include curriculum development, conducting teacher orientation or training programmes, (3) \_\_\_\_\_ of information in Science, Mathematics and Environmental Education, development of innovative laboratory practices and publication of the Journal School Science. The department has also developed a Science Park, a herbal garden which provides valuable information and idea for schools (4) \_\_\_\_\_ the same for benefit of children. The Resource Centre for Science and Mathematics Education (RCSME) of the department is a rich repository inclusive of both print and electronic resources on science and mathematics education. The department develops and disseminates material for popularisation of Science, Mathematics and Environmental Education. It also organises the Jawaharlal Nehru National Science, Mathematics and Environment Exhibition (JNNMSEE) for children, which is an annual event that (5) \_\_\_\_\_ the culmination of a series of science exhibitions, organised at district, zonal and state levels. DESM also provides academic guidance and financial support for the State Level Science Exhibitions.

**SubQuestion No : 22**

**Q.22** Select the most appropriate option to fill in blank number 2.

- Ans ☒ 1. unrelated to  
☒ 2. separated to  
☒ 3. unconnected to  
☒ 4. related to

Question ID : 26433060500

Status : Answered

Chosen Option : 4

**Comprehension:**

In the following passage, some words have been deleted. Read the passage carefully and select the most appropriate option to fill in each blank.

The Department of Education in Science and Mathematics (DESM) has been working for school education in the areas of Science, Mathematics, Environment and Computer Science at upper primary, secondary and higher secondary stages. It experiments with teaching-learning strategies (1) \_\_\_\_\_ new methods and technologies, and develops instructional material as well as material for training of teachers and teacher-educators. The department also assists and advises the Ministry of Human Resource Development, Government of India in various science, mathematics and environment education related issues and concerns. It also extends its cooperation and expertise to other departments and divisions of NIE as well as other constituents of the NCERT in various activities (2) \_\_\_\_\_ development of curricular, co-curricular and other support materials for students as well as teachers. Faculty members of the department also provide its expertise to SCERTs, State Boards of School Education, Central and State governments, Universities, etc. Major activities of the DESM include curriculum development, conducting teacher orientation or training programmes, (3) \_\_\_\_\_ of information in Science, Mathematics and Environmental Education, development of innovative laboratory practices and publication of the Journal School Science. The department has also developed a Science Park, a herbal garden which provides valuable information and idea for schools (4) \_\_\_\_\_ the same for benefit of children. The Resource Centre for Science and Mathematics Education (RCSME) of the department is a rich repository inclusive of both print and electronic resources on science and mathematics education. The department develops and disseminates material for popularisation of Science, Mathematics and Environmental Education. It also organises the Jawaharlal Nehru National Science, Mathematics and Environment Exhibition (JNNMSEE) for children, which is an annual event that (5) \_\_\_\_\_ the culmination of a series of science exhibitions, organised at district, zonal and state levels. DESM also provides academic guidance and financial support for the State Level Science Exhibitions.

**SubQuestion No : 23**

**Q.23** Select the most appropriate option to fill in blank number 3.

- Ans ☒ 1. hiding  
☒ 2. congregating  
☒ 3. concealing  
☒ 4. dissemination

Question ID : 26433060501

Status : Answered

Chosen Option : 2

**Comprehension:**

In the following passage, some words have been deleted. Read the passage carefully and select the most appropriate option to fill in each blank.

The Department of Education in Science and Mathematics (DESM) has been working for school education in the areas of Science, Mathematics, Environment and Computer Science at upper primary, secondary and higher secondary stages. It experiments with teaching-learning strategies (1) \_\_\_\_\_ new methods and technologies, and develops instructional material as well as material for training of teachers and teacher-educators. The department also assists and advises the Ministry of Human Resource Development, Government of India in various science, mathematics and environment education related issues and concerns. It also extends its cooperation and expertise to other departments and divisions of NIE as well as other constituents of the NCERT in various activities (2) \_\_\_\_\_ development of curricular, co-curricular and other support materials for students as well as teachers. Faculty members of the department also provide its expertise to SCERTs, State Boards of School Education, Central and State governments, Universities, etc. Major activities of the DESM include curriculum development, conducting teacher orientation or training programmes, (3) \_\_\_\_\_ of information in Science, Mathematics and Environmental Education, development of innovative laboratory practices and publication of the Journal School Science. The department has also developed a Science Park, a herbal garden which provides valuable information and idea for schools (4) \_\_\_\_\_ the same for benefit of children. The Resource Centre for Science and Mathematics Education (RCSME) of the department is a rich repository inclusive of both print and electronic resources on science and mathematics education. The department develops and disseminates material for popularisation of Science, Mathematics and Environmental Education. It also organises the Jawaharlal Nehru National Science, Mathematics and Environment Exhibition (JNNMSEE) for children, which is an annual event that (5) \_\_\_\_\_ the culmination of a series of science exhibitions, organised at district, zonal and state levels. DESM also provides academic guidance and financial support for the State Level Science Exhibitions.

**SubQuestion No : 24**

**Q.24** Select the most appropriate option to fill in blank number 4.

- Ans ☒ 1. to exclude  
☒ 2. to replicate  
☒ 3. to comprehensive  
☒ 4. to originate

Question ID : 26433060502

Status : Answered

Chosen Option : 4

**Comprehension:**

In the following passage, some words have been deleted. Read the passage carefully and select the most appropriate option to fill in each blank.

The Department of Education in Science and Mathematics (DESM) has been working for school education in the areas of Science, Mathematics, Environment and Computer Science at upper primary, secondary and higher secondary stages. It experiments with teaching-learning strategies (1) \_\_\_\_\_ new methods and technologies, and develops instructional material as well as material for training of teachers and teacher-educators. The department also assists and advises the Ministry of Human Resource Development, Government of India in various science, mathematics and environment education related issues and concerns. It also extends its cooperation and expertise to other departments and divisions of NIE as well as other constituents of the NCERT in various activities (2) \_\_\_\_\_ development of curricular, co-curricular and other support materials for students as well as teachers. Faculty members of the department also provide its expertise to SCERTs, State Boards of School Education, Central and State governments, Universities, etc. Major activities of the DESM include curriculum development, conducting teacher orientation or training programmes, (3) \_\_\_\_\_ of information in Science, Mathematics and Environmental Education, development of innovative laboratory practices and publication of the Journal School Science. The department has also developed a Science Park, a herbal garden which provides valuable information and idea for schools (4) \_\_\_\_\_ the same for benefit of children. The Resource Centre for Science and Mathematics Education (RCSME) of the department is a rich repository inclusive of both print and electronic resources on science and mathematics education. The department develops and disseminates material for popularisation of Science, Mathematics and Environmental Education. It also organises the Jawaharlal Nehru National Science, Mathematics and Environment Exhibition (JNNSMEE) for children, which is an annual event that (5) \_\_\_\_\_ the culmination of a series of science exhibitions, organised at district, zonal and state levels. DESM also provides academic guidance and financial support for the State Level Science Exhibitions.

**SubQuestion No : 25**

**Q.25** Select the most appropriate option to fill in blank number 5.

- Ans ☒ 1. noted  
☒ 2. gives  
☒ 3. marks  
☒ 4. takes

Question ID : 26433060503

Status : Answered

Chosen Option : 2

Section : **Part-E- Computer Fundamentals**

**Q.1** किसी पेज को सर्वर पर कॉपी करना, \_\_\_\_\_ कहलाता है।

- Ans ☒ 1. पेज क्रिएट करना (Create)  
☒ 2. पेज सेव करना (Save)  
☒ 3. पेज अपलोड करना (Uploading)  
☒ 4. पेज डाउनलोड करना (Downloading)

Question ID : 26433095406

Status : Answered

Chosen Option : 3

**Q.2** एमएस-एक्सेल 2010 (MS-Excel 2010) में \_\_\_\_\_ फॉर्मूला, विशिष्ट सेल में संख्याओं के योग का प्राथमिक कार्य है।

- Ans ☒ 1. IF  
☒ 2. COUNT  
☒ 3. SUM  
☒ 4. AVERAGE

Question ID : 26433095400

Status : Answered

Chosen Option : 2

Q.3 एमएस-एक्सेल 2010 में \_\_\_\_\_ फंक्शन, सिस्टम की वर्तमान तिथि एवं समय (current system date and time) प्रदान करता है।

- Ans
- ☒ 1. CURRENT
  - ☒ 2. TODAY
  - ☒ 3. NOW
  - ☒ 4. YEAR

Question ID : 26433095471  
Status : Not Answered  
Chosen Option : --

Q.4 MS-Word 2010 में दाईं ओर एक शब्द को मिटाने के लिए किस शॉर्टकट की (key) का उपयोग किया जाता है?

- Ans
- ☒ 1. Ctrl+Backspace
  - ☒ 2. Delete
  - ☒ 3. Ctrl+Delete
  - ☒ 4. Alt+Backspace

Question ID : 26433095532  
Status : Answered  
Chosen Option : 1

Q.5 एमएस-एक्सेल 2010 के संबंध में गलत विकल्प का चयन कीजिए।

- Ans
- ☒ 1. एमएस-एक्सेल 2010 में, Ctrl+F का उपयोग शीट के भीतर टेक्स्ट खोजने में किया जाता है।
  - ☒ 2. Alt+Enter शॉर्टकट कुंजी (key) का उपयोग MS-Excel 2010 में टेक्स्ट की एक नई लाइन शुरू करने या वर्कशीट सेल में टेक्स्ट की लाइनों या पैराग्राफ के बीच स्पेस को बढ़ाने के लिए किया जाता है।
  - ☒ 3. एमएस-एक्सेल 2010 में हम F3 का उपयोग करके फाइल को सेव कर सकते हैं।
  - ☒ 4. एमएस-एक्सेल 2010 में रिबन बार में होम टैब में सबसे अधिक उपयोग किए जाने वाले कमांड होते हैं जैसे कॉपी और पेस्ट करना, सॉर्ट करना और फ़िल्टर करना, फॉर्मेट करना आदि।

Question ID : 26433095454  
Status : Not Answered  
Chosen Option : --

Q.6 एमएस-एक्सेल 2010 में, हम स्क्रीन पर अतिरिक्त स्थान प्राप्त करने के लिए रिबन को कोलैप्स (collapse) कर सकते हैं। रिबन पर कहीं भी राइट क्लिक कीजिए, और फिर कोलैप्स द रिबन (Collapse the Ribbon) को क्लिक कीजिए या \_\_\_\_\_ को दबाइए।

- Ans
- ☒ 1. ALT+F2
  - ☒ 2. ALT+F1
  - ☒ 3. CTRL+F1
  - ☒ 4. CTRL+F2

Question ID : 26433095478  
Status : Not Answered  
Chosen Option : --

Q.7 ऐसी वेबसाइट जिसमें लेखक या लेखकों के अपने अनुभव, अवलोकन, विचार आदि होते हैं, \_\_\_\_\_ के रूप में जाने जाते हैं।

- Ans
- ☒ 1. ब्लॉग (BLOG)
  - ☒ 2. इंस्टेंट मैसेंजर (Instant messenger)
  - ☒ 3. ईमेल (EMAIL)
  - ☒ 4. वाइरस (VIRUS)

Question ID : 26433095467  
Status : Answered  
Chosen Option : 1

Q.8 एमएस-एक्सेल 2010 वर्कशीट के सेल में दर्ज किए गए संख्यात्मक मानों का डिफॉल्ट एलाइनमेंट क्या है?

- Ans
- ☒ 1. राईट(Right)
  - ☐ 2. लेफ्ट(Left)
  - ☐ 3. जस्टिफाई(Justify)
  - ☐ 4. सेंटर(Center)

Question ID : 26433095309

Status : Not Answered

Chosen Option : --

Q.9 निम्नलिखित में से कौन सा एक ईमेल एड्रेस में एक वैध डोमेन नेम है?

- I. gmail.com
- II. outlook.com
- III. yahoo.com

- Ans
- ☐ 1. I और III
  - ☐ 2. I और II
  - ☒ 3. सभी I, II और III
  - ☐ 4. II और III

Question ID : 26433095375

Status : Answered

Chosen Option : 3

Q.10 एमएस-एक्सेल 2010 (MS-Excel 2010) में टेबल का नाम बदलने (रिनेम) के लिए निम्न में से किस कीबोर्ड शॉर्टकट का उपयोग किया जाता है?

- Ans
- ☐ 1. Alt + R
  - ☐ 2. Ctrl + T + R
  - ☐ 3. Alt + T + R
  - ☒ 4. Ctrl + R

Question ID : 26433095328

Status : Not Answered

Chosen Option : --



**Head Constable Ministerial in Delhi Police Examination 2022**

Roll Number	
Candidate Name	
Venue Name	
Exam Date	10/10/2022
Exam Time	5:00 PM - 6:30 PM
Subject	Head Constable Ministerial in Delhi Police Examination 2022

Section : **Part-A-General Awareness**

**Q.1** स्थायी बंदोबस्त प्रणाली 1793 में ब्रिटिश ईस्ट इंडिया कंपनी के निम्नलिखित में से किस गवर्नर जनरल द्वारा शुरू की गई थी?

- Ans** ☒ 1. लॉर्ड कार्नवालिस  
☒ 2. सर जॉन शोर  
☒ 3. सर जॉर्ज बार्लो  
☒ 4. सर जॉन मैकफर्सन

Question ID : **26433065540**  
Status : **Answered**  
Chosen Option : 1

**Q.2** निम्नलिखित में से कौन भारत में केंद्रीय बैंकों की मौद्रिक नीति का मात्रात्मक उपकरण नहीं है?

- Ans** ☒ 1. नैतिक अभिप्रेरण  
☒ 2. खुला बाजार परिचालन  
☒ 3. नकद आरक्षित अनुपात  
☒ 4. बैंक रेट

Question ID : **26433059251**  
Status : **Answered**  
Chosen Option : 1

**Q.3** निम्नलिखित में से किस कंपनी ने अपनी परिचालन-दक्षता बढ़ाने और यात्री सुरक्षा में सुधार हेतु भारतीय रेलवे के लिए रीयल टाइम ट्रेन सूचना प्रणाली के पहले चरण को चालू किया था?

- Ans** ☒ 1. भारत हेवी इलेक्ट्रिकल लिमिटेड  
☒ 2. रेल विकास निगम लिमिटेड  
☒ 3. भारत इलेक्ट्रॉनिक्स लिमिटेड  
☒ 4. कंटेनर कार्पोरेशन ऑफ इंडिया लिमिटेड

Question ID : **26433095272**  
Status : **Answered**  
Chosen Option : 1

**Q.4** कैकोटिकली नृत्य किस त्योहार को मनाने के लिए किया जाता है?

- Ans** ☒ 1. बैसाखी  
☒ 2. मकर संक्रांति  
☒ 3. दुर्गा पूजा  
☒ 4. ओणम

Question ID : **26433066531**  
Status : **Answered**  
Chosen Option : 1

Q.5 साक्षरता दर के संदर्भ में 2001 और 2011 की जनगणना में किस राज्य/केंद्र शासित प्रदेश को समान (अर्थात 11वां) स्थान मिला है?

- Ans ☒ 1. हिमाचल प्रदेश  
☒ 2. पंजाब  
☒ 3. त्रिपुरा  
☒ 4. पश्चिम बंगाल

Question ID : 26433067218

Status : Not Answered

Chosen Option : --

Q.6 अक्टूबर 2021 में, निम्नलिखित में से किस राज्य सरकार ने 313 km चार-लेन अटल प्रगति पथ के लिए अधिग्रहित की जा रही निजी भूमि के बदले में सरकारी भूमि उपलब्ध कराने के प्रस्ताव को मंजूरी दी है?

- Ans ☒ 1. हरियाणा  
☒ 2. मध्य प्रदेश  
☒ 3. राजस्थान  
☒ 4. उत्तर प्रदेश

Question ID : 26433055554

Status : Answered

Chosen Option : 3

Q.7 निम्नलिखित में से कौन-सा मुद्रा योजना का उत्पाद नहीं है?

- Ans ☒ 1. तरुण  
☒ 2. किशोर  
☒ 3. शिशु  
☒ 4. बालक

Question ID : 26433059097

Status : Answered

Chosen Option : 1

Q.8 सितंबर 2021 तक की स्थिति के अनुसार, निम्नलिखित में से किस राज्य के उच्च न्यायालय में कोई महिला न्यायाधीश नहीं थीं?

- Ans ☒ 1. उत्तराखंड  
☒ 2. हरियाणा  
☒ 3. उत्तर प्रदेश  
☒ 4. पंजाब

Question ID : 26433061852

Status : Answered

Chosen Option : 1

Q.9 \_\_\_\_\_ 2022 में प्लेट ग्रुप रणजी ट्रॉफी खेलते हुए प्रथम श्रेणी की शुरुआत (डेब्यूट) में तिहरा शतक लगाने वाले पहले खिलाड़ी हैं।

- Ans ☒ 1. अनुनय सिंह  
☒ 2. शाहबाज नदीम  
☒ 3. साकिबुल गनी  
☒ 4. सौरभ तिवारी

Question ID : 26433055055

Status : Answered

Chosen Option : 3

Q.10 निम्नलिखित में से कौन भारतीय राष्ट्रीय कांग्रेस का उदारवादी नेता नहीं था?

- Ans
- ☒ 1. गोपाल कृष्ण गोखले
  - ☒ 2. दादाभाई नौरोजी
  - ☒ 3. फिरोजशाह मेहता
  - ☒ 4. अरबिंदो घोष

Question ID : 26433055638

Status : Answered

Chosen Option : 4

Q.11 भारत के संविधान का कौन-सा अनुच्छेद कानून के समक्ष समानता से संबंधित है?

- Ans
- ☒ 1. अनुच्छेद 14
  - ☒ 2. अनुच्छेद 13
  - ☒ 3. अनुच्छेद 17
  - ☒ 4. अनुच्छेद 16

Question ID : 26433069856

Status : Answered

Chosen Option : 1

Q.12 उस कार्यक्रम का नाम बताइए, जिसका उद्देश्य भारत में खाद्यान्न उत्पादन में वृद्धि का था।

- Ans
- ☒ 1. हरित क्रांति
  - ☒ 2. स्वर्णिम क्रांति
  - ☒ 3. गुलाबी क्रांति
  - ☒ 4. लाल क्रांति

Question ID : 26433059284

Status : Answered

Chosen Option : 1

Q.13 नागभट्ट प्रथम निम्नलिखित में से किस राजवंश का संस्थापक था?

- Ans
- ☒ 1. चोल
  - ☒ 2. पाल
  - ☒ 3. गुर्जर प्रतिहार
  - ☒ 4. होयसला

Question ID : 26433055613

Status : Answered

Chosen Option : 3

Q.14 धोलावीरा, एक हड़प्पा स्थल वर्तमान में भारतीय राज्य \_\_\_\_\_ में स्थित है।

- Ans
- ☒ 1. पंजाब
  - ☒ 2. गुजरात
  - ☒ 3. उत्तर प्रदेश
  - ☒ 4. महाराष्ट्र

Question ID : 26433064354

Status : Answered

Chosen Option : 2

Q.15 रण उत्सव, एक सांस्कृतिक उत्सव, भारतीय राज्य \_\_\_\_\_ में होता है।

- Ans ☒ 1. पंजाब  
☒ 2. सिक्किम  
☒ 3. गुजरात  
☒ 4. तेलंगाना

Question ID : 26433064315

Status : Answered

Chosen Option : 3

Q.16 केंद्रीय विश्वविद्यालय अधिनियम, 2009 में संशोधन करते हुए पारित केंद्रीय विश्वविद्यालय (संशोधन) अधिनियम, 2021 के तहत, सिंधु केंद्रीय विश्वविद्यालय नामक एक नया केंद्रीय विश्वविद्यालय स्थापित किया जाने वाला है। इसे किस राज्य/केंद्र शासित प्रदेश में स्थापित किया जाना है?

- Ans ☒ 1. जम्मू और कश्मीर  
☒ 2. उत्तराखंड  
☒ 3. लद्दाख  
☒ 4. हिमाचल प्रदेश

Question ID : 26433055563

Status : Answered

Chosen Option : 1

Q.17 निम्नलिखित में से कौन सा समूह द्वीपीय देशों का समूह है?

- Ans ☒ 1. मालदीव और चीन  
☒ 2. बांग्लादेश और मालदीव  
☒ 3. श्रीलंका और मालदीव  
☒ 4. पाकिस्तान और श्रीलंका

Question ID : 26433071632

Status : Not Answered

Chosen Option : --

Q.18 वीर सावरकर अंतर्राष्ट्रीय हवाई अड्डा कहां पर स्थित है?

- Ans ☒ 1. चंडीगढ़  
☒ 2. लक्षद्वीप द्वीपसमूह  
☒ 3. अंडमान एवं निकोबार द्वीपसमूह  
☒ 4. पांडिचेरी

Question ID : 26433066592

Status : Answered

Chosen Option : 3

Q.19 एच.ए.एम.एस (हार्नेसिंग ऑटोमोबाइल फॉर सेफ्टी) को 2020 में \_\_\_\_\_ और माइक्रोसॉफ्ट द्वारा संयुक्त रूप से विकसित और परीक्षण किया गया था, जो ड्राइविंग लाइसेंस चाहने वाले आवेदकों के परीक्षण के लिए एक स्मार्टफोन आधारित तकनीक है।

- Ans ☒ 1. टाटा मोटर्स  
☒ 2. किआ मोटर्स  
☒ 3. हुंडई मोटर्स  
☒ 4. मारुति सुजुकी इंडिया लिमिटेड

Question ID : 26433095265

Status : Answered

Chosen Option : 1

Q.20 भारत में व्यापक वन्यजीव संरक्षण अधिनियम किस वर्ष लागू किया गया था?

- Ans ☒ 1. 1950  
☒ 2. 1988  
☒ 3. 1947  
☒ 4. 1972

Question ID : 26433055324

Status : Answered

Chosen Option : 4

Section : Part-B-Quantitative Aptitude

Q.1 सलीम ने साधारण ब्याज पर किसी प्रोजेक्ट के लिए बैंक से ₹7,200 उधार लिए। 3 वर्ष की अवधि के बाद, राशि ₹9,576 हो जाएगी। ब्याज दर क्या है?

- Ans ☒ 1. 9%  
☒ 2. 11%  
☒ 3. 10%  
☒ 4. 12%

Question ID : 26433058795

Status : Answered

Chosen Option : 2

Q.2 A और B अकेले एक काम को क्रमशः 4 दिन और 8 दिन में पूरा कर सकते हैं। यदि वे दोनों A से शुरू करके एक दिन छोड़कर काम करते हैं, तो काम कितने दिनों में पूरा होगा?

- Ans ☒ 1. 4 दिन  
☒ 2. 6 दिन  
☒ 3. 7 दिन  
☒ 4. 5 दिन

Question ID : 26433056336

Status : Answered

Chosen Option : 4

Q.3 दो प्रिंटर्स, प्रत्येक Rs.12,000 में, एक को 20% के लाभ पर और दूसरे को 20% की हानि पर बेचा गया। पूरे लेन-देन में हानि या लाभ ज्ञात कीजिए।

- Ans ☒ 1. 2.4% हानि  
☒ 2. 4% लाभ  
☒ 3. 2.4% लाभ  
☒ 4. 4% हानि

Question ID : 26433058133

Status : Answered

Chosen Option : 4

Q.4 यदि  $(a + b + c) = 17$  और  $(a^2 + b^2 + c^2) = 117$ , तो  $(a - b)^2 + (b - c)^2 + (c - a)^2$  का मान क्या होगा?

- Ans ☒ 1. 57  
☒ 2. 72  
☒ 3. 42  
☒ 4. 62

Question ID : 26433056370

Status : Answered

Chosen Option : 4

Q.5 14 cm की ऊँचाई वाले एक लम्बवृत्तीय बेलन का वक्र पृष्ठीय क्षेत्रफल  $88 \text{ cm}^2$  है। बेलन के आधार का व्यास ज्ञात कीजिए।

- Ans ☒ 1. 2 cm  
☒ 2. 4 cm  
☒ 3. 3 cm  
☒ 4. 1 cm

Question ID : 26433061228  
 Status : Answered  
 Chosen Option : 1

Q.6 दो संख्याओं का महत्तम समापवर्तक (HCF) 6 है। निम्नलिखित में से कौन-सा उनका लघुत्तम समापवर्त्य (LCM) कभी नहीं हो सकता है?

- Ans ☒ 1. 24  
☒ 2. 60  
☒ 3. 48  
☒ 4. 56

Question ID : 26433063362  
 Status : Answered  
 Chosen Option : 4

Q.7 यदि  $x = 4$  है, तो  $4x + 3$ ,  $7x + 2$  और  $9x + 2$ , का चतुर्थानुपाती क्या है?

- Ans ☒ 1. 60  
☒ 2. 45  
☒ 3. 58  
☒ 4. 68

Question ID : 26433058912  
 Status : Answered  
 Chosen Option : 1

Q.8 यदि  $1 + \cot^2 \theta = \frac{625}{49}$  और  $\theta$  न्यून कोण है, तो  $(\sin \theta + \cos \theta)^{1/2}$  का मान क्या होगा?

- Ans ☒ 1.  $\frac{\sqrt{33}}{8}$   
☒ 2.  $\frac{\sqrt{37}}{5}$   
☒ 3.  $\frac{\sqrt{31}}{5}$   
☒ 4.  $\frac{\sqrt{31}}{7}$

Question ID : 26433061391  
 Status : Answered  
 Chosen Option : 3

Q.9 यदि एक घन का आयतन, पृष्ठीय क्षेत्रफल के समान है तो भुजा की लंबाई क्या है?

- Ans ☒ 1. 4  
☒ 2. 2  
☒ 3. 6  
☒ 4. 8

Question ID : 26433056880

Status : Answered

Chosen Option : 3

Q.10 एक वृत्त का व्यास 35 cm है। यदि त्रिज्यखंड का क्षेत्रफल  $385 \text{ cm}^2$  है, तो त्रिज्यखंड के चाप की लंबाई ज्ञात कीजिए।

- Ans ☒ 1. 42 cm  
☒ 2. 40 cm  
☒ 3. 44 cm  
☒ 4. 48 cm

Question ID : 26433058165

Status : Answered

Chosen Option : 3

Q.11 एक पुलिसकर्मी चोर का पीछा करना शुरू करता है जब वह 800 m आगे था। पुलिसकर्मी और चोर क्रमशः 12 km/h और 9 km/h की गति से दौड़ते हैं। 10 मिनट बाद उनके बीच की दूरी क्या होगी?

- Ans ☒ 1. 300 m  
☒ 2. 100 m  
☒ 3. 400 m  
☒ 4. 200 m

Question ID : 26433058413

Status : Answered

Chosen Option : 4

Q.12 एक परीक्षा में पांच पेपर हैं। निम्नलिखित तालिका में तीन छात्रों द्वारा प्राप्त अंकों को सारणीबद्ध किया गया है।

छात्रों का नाम	गणित	भौतिक विज्ञान	रसायन विज्ञान	अंग्रेजी	कंप्यूटर
नेहा	85	88	78	75	89
अंकित	89	75	80	72	80
केवल	78	71	81	73	83

गणित, भौतिक विज्ञान और रसायन विज्ञान में क्रमशः किन छात्रों को सर्वाधिक अंक प्राप्त हुए?

- Ans ☒ 1. अंकित, नेहा, केवल  
☒ 2. अंकित, केवल, नेहा  
☒ 3. नेहा, केवल, अंकित  
☒ 4. नेहा, अंकित, केवल

Question ID : 26433074315

Status : Answered

Chosen Option : 4

Q.13 यदि  $(x - 1)$ ,  $(x^2 + 6kx - 7)$  का एक गुणनखंड है, तो  $k$  का मान क्या होगा?

Ans ☒ 1. 1

☐ 2. 3

☐ 3. 2

☐ 4. 4

Question ID : 26433063354

Status : Answered

Chosen Option : 1

Q.14 अर्धवार्षिक रूप से देय 10% प्रति वर्ष की नाममात्र दर के अनुरूप प्रभावी वार्षिक ब्याज दर \_\_\_\_ होगी।

Ans ☐ 1. 5%

☐ 2. 10%

☐ 3. 5.50%

☒ 4. 10.25%

Question ID : 26433056326

Status : Answered

Chosen Option : 4

Q.15 निम्नलिखित में से कौन-सा संख्या युग्म अभाज्य है?

Ans ☐ 1. 47 और 27

☐ 2. 77 और 97

☐ 3. 57 और 67

☒ 4. 37 और 67

Question ID : 26433065049

Status : Answered

Chosen Option : 4

Q.16 एक वर्कशॉप में, सरल और कनिका एकांतर दिनों में काम कर रहे हैं। पहले दिन सरल, दूसरे दिन कनिका, तीसरे दिन सरल और यह क्रम इसी प्रकार जारी रहता है। सरल अकेले काम को 15 दिनों में पूरा कर सकता है, जबकि कनिका अकेले उसी काम को पूरा करने में 18 दिन लेती है। यदि वे एकांतर आधार पर काम करते हैं तो वे उस काम को कितने दिनों में पूरा करेंगे?

Ans ☒ 1.  $16\frac{1}{3}$

☐ 2.  $15\frac{1}{4}$

☐ 3.  $14\frac{1}{4}$

☐ 4.  $15\frac{1}{3}$

Question ID : 26433063351

Status : Answered

Chosen Option : 1



Q.17 वर्ष 2014 में एक शहर की जनसंख्या 8000000 थी। यदि 2015 में 8% की वृद्धि होती है, 2016 में 35% की कमी होती है और 2017 में 65% की वृद्धि होती है, तो वर्ष 2017 के अंत में शहर की जनसंख्या कितनी होगी?

- Ans ☒ 1. 8400278  
☒ 2. 9266400  
☒ 3. 7000000  
☒ 4. 9635535

Question ID : 26433061245  
 Status : Answered  
 Chosen Option : 2

Q.18 यदि  $a - b = 9$  है, तो  $(a - 18)^3 - (b - 9)^3$  का मान ज्ञात कीजिए।

- Ans ☒ 1. 0  
☒ 2. 392  
☒ 3. 2863  
☒ 4. 343

Question ID : 26433058947  
 Status : Answered  
 Chosen Option : 1

Q.19 एक व्यापारी नकद भुगतान पर 12.5 प्रतिशत की छूट देता है। 20% का लाभ कमाने के लिए उसे अपने सामान पर क्रय मूल्य से कितना प्रतिशत अधिक मूल्य अंकित करना चाहिए?

- Ans ☒ 1. 33.417%  
☒ 2. 34.173%  
☒ 3. 31.743%  
☒ 4. 37.143%

Question ID : 26433065076  
 Status : Answered  
 Chosen Option : 4

Q.20 एक मेट्रो ट्रेन स्टेशन A से स्टेशन B तक 40 km/h की चाल से चलकर 30 km की दूरी तय करती है। बीच में यह प्रत्येक 5 स्टेशनों पर 5 मिनट के लिए रुकती है। A से B तक ट्रेन की औसत चाल (km/h में) कितनी है?

- Ans ☒ 1. 22.5  
☒ 2. 25.7  
☒ 3. 27.5  
☒ 4. 24.7

Question ID : 26433071244  
 Status : Answered  
 Chosen Option : 2

Section : Part-C-General Intelligence

Q.1 निम्नलिखित में से तीन अक्षर-समूह किसी न किसी तरह में एक जैसे हैं और इसलिए एक समूह बनाते हैं।  
कौन-सा अक्षर-समूह उस समूह से संबंधित नहीं है?

- Ans ☒ 1. FUHY  
☒ 2. DWFA  
☒ 3. HSKV  
☒ 4. BYDC

Question ID : 26433056166

Status : Answered

Chosen Option : 3

Q.2 'X # Y' का अर्थ है कि 'X, Y का पति है'  
 'X @ Y' का अर्थ है कि 'X, Y की पत्नी है'  
 'X & Y' का अर्थ है कि 'X, Y की मां है'  
 'X % Y' का अर्थ है कि 'X, Y' का पिता है'

यदि 'A # B & C @ D % E' है, तो D का A से क्या संबंध है?

- Ans ☒ 1. पुत्र  
☒ 2. पिता  
☒ 3. बहू  
☒ 4. दामाद

Question ID : 26433057773

Status : Answered

Chosen Option : 4

Q.3 \* चिह्नों को क्रमानुसार बदलने और दिए गए समीकरण को संतुलित करने के लिए गणितीय चिह्नों के सही संयोजन का चयन कीजिए।  
 $54 * 3 * 65 * 5 * 31 * 312$

- Ans ☒ 1. +, ×, -, ÷, =  
☒ 2. +, -, ×, ÷, =  
☒ 3. ÷, +, ×, -, =  
☒ 4. ×, +, -, ÷, =

Question ID : 26433056454

Status : Answered

Chosen Option : 3

Q.4 एक कूट भाषा में 'AUNT' को 20 और 'UNCLE' को 30 के रूप में कूटबद्ध किया जाता है। उसी भाषा में 'RELATIVES' को किस प्रकार कूटबद्ध किया जाएगा?

- Ans ☒ 1. 64  
☒ 2. 90  
☒ 3. 56  
☒ 4. 72

Question ID : 26433078901

Status : Answered

Chosen Option : 2

Q.5 दिए गए विकल्पों में से उन संख्याओं को चुनिए, जो निम्नलिखित श्रृंखला में प्रश्न-चिह्नों (?) को प्रतिस्थापित कर सके।

23, 30, 39, ?, 78, 95

Ans ☒ 1. 50, 63

☒ 2. 49, 63

☒ 3. 50, 65

☒ 4. 48, 61

Question ID : 26433057039

Status : Answered

Chosen Option : 1

Q.6 उस विकल्प का चयन कीजिए जो पांचवें अक्षर समूह से उसी तरह संबंधित है जिस तरह दूसरा अक्षर समूह पहले अक्षर समूह से संबंधित है और चौथा अक्षर समूह तीसरे अक्षर समूह से संबंधित है।  
WLX : RGS :: TAM : OVH :: RJB : ?

Ans ☒ 1. MEW

☒ 2. SUZ

☒ 3. GPA

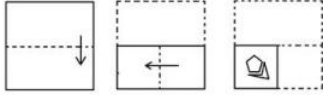
☒ 4. RLE

Question ID : 26433074678

Status : Answered

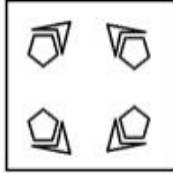
Chosen Option : 1

Q.7 कागज के एक टुकड़े को मोड़ने का क्रम और मोड़े गए कागज को काटने का तरीका नीचे दिखाया गया है। एक ऐसी आकृति चुनें जो कागज को खोलने पर उसके खुले रूप से सबसे अधिक मिलती-जुलती होगी।

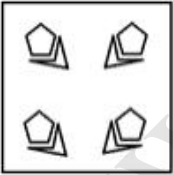


Ans

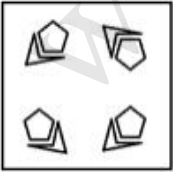
☒ 1.



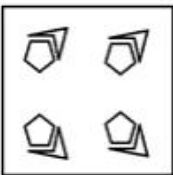
☒ 2.



☒ 3.



☒ 4.



Question ID : 26433057411

Status : Answered

Chosen Option : 1

Q.8 उस विकल्प का चयन कीजिए जो उन अक्षरों को निरूपित करता है, जिन्हें नीचे दिए गए रिक्त स्थानों में क्रमिक रूप से बाएं से दाएं रखने पर अक्षर श्रृंखला पूर्ण हो जाएगी।

\_ O \_ C O \_ M \_ S C \_ \_ M O \_ C \_ W M \_ \_ C O \_

Ans ☒ 1. MSWOOWSOOSW

☐ 2. WOWOSOMCSOM

☐ 3. COWOSMOOCWS

☐ 4. MSCCOSWMOSM

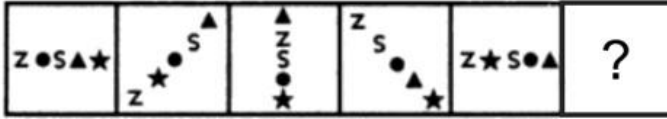
Question ID : 26433056390

Status : Answered

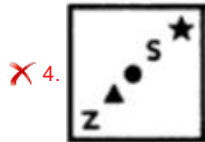
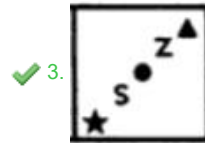
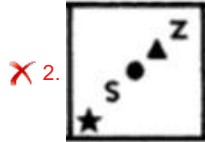
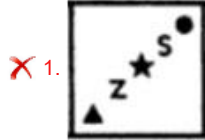
Chosen Option : 1

Q.9 दिए गए विकल्पों में से उस आकृति का चयन करें जो निम्नलिखित श्रृंखला में

प्रश्नवाचक चिह्न (?) का स्थान ले सकती है।



Ans



Question ID : 26433080537

Status : Answered

Chosen Option : 4

Q.10 यदि दर्पण को नीचे दर्शाए गए अनुसार MN पर रखा जाए, तो दी गई आकृति के सही दर्पण प्रतिबिम्ब का चयन कीजिए।



Ans

- ☒ 1. 
☒ 2. 
☒ 3. 
☒ 4.

Question ID : 26433056977

Status : Answered

Chosen Option : 3

Q.11 उस विकल्प का चयन कीजिए, जो तीसरे पद से उसी प्रकार संबंधित है, जिस प्रकार दूसरा पद पहले पद से और छठा पद पाँचवें पद से संबंधित है।  
238 : 23 :: 336 : ? :: 70 : 11

Ans

- ☒ 1. 25
 ☒ 2. 22
 ☒ 3. 30
 ☒ 4. 28

Question ID : 26433057063

Status : Not Attempted and Marked For Review

Chosen Option : --

Q.12 उस समुच्चय का चयन कीजिए जिसमें संख्याएँ उसी प्रकार संबंधित हैं जिस प्रकार निम्नलिखित समुच्चयों की संख्याएँ आपस में संबंधित हैं।

(नोट: संख्याओं को उसके घटक अंकों में विभाजित किए बिना, पूर्ण संख्याओं पर गणितीय संक्रियाएँ की जानी चाहिए। उदाहरण के लिए 13 - अगर आपको 13 पर गणितीय संक्रियाएँ जैसे कि जोड़ने/घटाने/गुणा करने आदि करना है तो वह 13 पर ही की जा सकती है। 13 को 1 और 3 में तोड़ना और फिर 1 और 3 पर गणितीय संक्रियाएँ करने की अनुमति नहीं है।)  
(326, 193, 519)  
(411, 213, 624)

Ans

- ☒ 1. (429, 224, 618)
 ☒ 2. (371, 182, 551)
 ☒ 3. (282, 127, 409)
 ☒ 4. (359, 208, 609)

Question ID : 26433057610

Status : Not Answered

Chosen Option : --

Q.13 एक कूट भाषा में 'FIGHT' को 40 के रूप में और 'SHORT' को 70 के रूप में कूटबद्ध किया जाता है। उसी भाषा में 'CRACK' को किस प्रकार कूटबद्ध किया जाएगा?

Ans

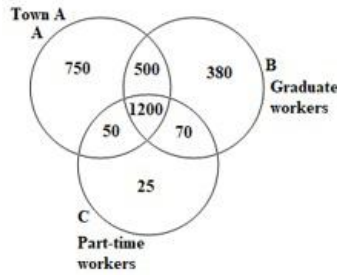
- ☒ 1. 38
 ☒ 2. 28
 ☒ 3. 26
 ☒ 4. 35

Question ID : 26433057818

Status : Answered

Chosen Option : 3

Q.14 Study the given diagram carefully and answer the question. The numbers in different sections indicate the number of persons.



How many graduate workers are there in town A?

- Ans
- ☒ 1. 1200
  - ☒ 2. 1700
  - ☒ 3. 2500
  - ☒ 4. 500

Question ID : 26433069670

Status : Answered

Chosen Option : 2

Q.15 J, K, M, P, S, T, Y और Z एक वर्गाकार मेज के चारों ओर मेज के केंद्र की ओर मुख करके बैठे हैं। उनमें से कुछ कोनों पर बैठे हैं, जबकि कुछ कोनों के ठीक केंद्र में बैठे हैं। J, M के दाएँ से दूसरे स्थान पर बैठा है। J और K के बीच केवल तीन व्यक्ति बैठे हैं। T, K के ठीक बाएँ बैठा है। Z न तो T का और न ही M का निकटतम पड़ोसी है। Z मेज के किसी भी कोने पर नहीं बैठा है। S, Y के दाएँ से दूसरे स्थान पर बैठा है। P के बाएँ से दूसरे स्थान पर कौन बैठा है?

- Ans
- ☒ 1. T
  - ☒ 2. K
  - ☒ 3. J
  - ☒ 4. M

Question ID : 26433058033

Status : Answered

Chosen Option : 3

Q.16 \* चिह्नों को क्रमिक रूप से बदलने और दिए गए समीकरण को संतुलित करने के लिए गणितीय चिह्नों के सही संयोजन का चयन कीजिए।

$$15 * 32 * 5 * 24 * 6 * 171$$

- Ans
- ☒ 1.  $\times, +, -, +, =$
  - ☒ 2.  $-, +, +, \times, =$
  - ☒ 3.  $+, \times, -, +, =$
  - ☒ 4.  $-, \times, +, +, =$

Question ID : 26433056936

Status : Answered

Chosen Option : 3

Q.17 कौन-सा अक्षर-समूह दी गई श्रृंखला को पूर्ण करने के लिए प्रश्नवाचक चिह्न (?) को प्रतिस्थापित करेगा?  
MEXH, QHZI, ?, YNDK, CQFL

- Ans ☒ 1. MEWJ  
☒ 2. UKBJ  
☒ 3. LCWL  
☒ 4. JDVL

Question ID : 26433057430

Status : Answered

Chosen Option : 2

Q.18 दिए गए कथनों और निष्कर्षों को ध्यानपूर्वक पढ़िए। यह मानते हुए कि कथनों में दी गई जानकारी सत्य है, भले ही वह सामान्य रूप से ज्ञात तथ्यों से भिन्न प्रतीत होती हो, निर्णय लीजिए कि दिए गए निष्कर्षों में से कौन-सा/से कथनों का तार्किक रूप से अनुसरण करता है/करते हैं।

कथन:

सभी लिली डेज़ी हैं।

कुछ डेज़ी गुलाब हैं।

सभी गुलाब सूरजमुखी हैं।

निष्कर्ष:

I. कुछ सूरजमुखी डेज़ी हैं।

II. सभी लिली गुलाब हैं।

- Ans ☒ 1. केवल निष्कर्ष II अनुसरण करता है।  
☒ 2. न तो निष्कर्ष I और न ही निष्कर्ष II अनुसरण करता है।  
☒ 3. निष्कर्ष I और II दोनों अनुसरण करते हैं।  
☒ 4. केवल निष्कर्ष I अनुसरण करता है।

Question ID : 26433074723

Status : Answered

Chosen Option : 4

Q.19 उस विकल्प का चयन करें, जो तीसरे शब्द से उसी प्रकार संबंधित है, जिस प्रकार दूसरा शब्द, पहले शब्द से संबंधित है। (शब्दों को अर्थपूर्ण हिंदी शब्दों के रूप में माना जाना चाहिए और शब्दों को उनमें अक्षरों की संख्या / व्यंजनों की संख्या / स्वरों की संख्या के आधार पर एक दूसरे से संबंधित नहीं किया जाना चाहिए।)

सर्जन (Surgeon) : स्केलपल (Scalpel) :: मूर्तिकार (Sculptor) : ?

- Ans ☒ 1. हल (Plough)  
☒ 2. कुदाल (Spade)  
☒ 3. छेनी (Chisel)  
☒ 4. तलवार (Sword)

Question ID : 26433056592

Status : Answered

Chosen Option : 3

Q.20 निम्नलिखित में से कौन-सी संख्या दी गई श्रृंखला में प्रश्न चिह्न (?) को प्रतिस्थापित करेगी?  
2, 5, 7, 10, 17, 20, 37, ?

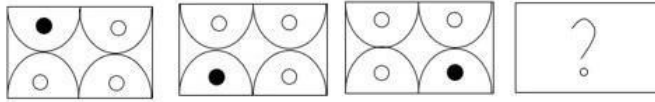
- Ans ☒ 1. 42  
☒ 2. 45  
☒ 3. 47  
☒ 4. 40

Question ID : 26433057563

Status : Not Answered

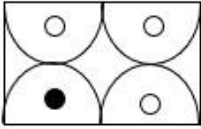
Chosen Option : --

Q.21 उस आकृति का चयन कीजिए जो निम्नलिखित आकृति श्रृंखला में प्रश्न चिह्न (?) को प्रतिस्थापित करेगी।

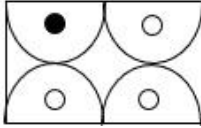


Ans

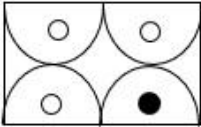
✗ 1.



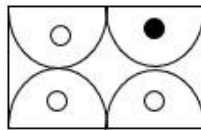
✗ 2.



✗ 3.



✓ 4.



Question ID : 26433055726

Status : Answered

Chosen Option : 4

Q.22 निम्नलिखित में से कौन-सा विकल्प दिए गए शब्दों के उस सही क्रम को दर्शाता है जिस क्रम में वे अंग्रेजी शब्दकोश में दिखाई देते हैं?

1. Broken
2. Brochure
3. Brown
4. Brothel
5. Broom

Ans

✗ 1. 2, 1, 4, 5, 3

✗ 2. 1, 2, 5, 4, 3

✓ 3. 2, 1, 5, 4, 3

✗ 4. 2, 1, 5, 3, 4

Question ID : 26433057209

Status : Answered

Chosen Option : 3

Q.23 M, O का पिता है। R, O की बहन है। N, R की माँ है। यदि P, R का पति है, तो P का N से कैसा संबंध है?

Ans

✓ 1. दामाद

✗ 2. बहू

✗ 3. ससुर

✗ 4. सास

Question ID : 26433068810

Status : Answered

Chosen Option : 4



Q.24 A, B, C, D, E, F, G और H एक वर्गाकार मेज के चारों ओर मेज के केंद्र की ओर मुख करके बैठे हैं। उनमें से कुछ कोनों पर बैठे हैं, जबकि कुछ कोनों के ठीक केंद्र में बैठे हैं। F मेज के किसी एक कोने पर बैठा है। E, F के दाएँ से तीसरे स्थान पर बैठा है। E और A के बीच केवल तीन व्यक्ति बैठे हैं। D, A के दाएँ से दूसरे स्थान पर बैठा है। B, G के दाएँ से तीसरे स्थान पर बैठा है। C, H के दाएँ से दूसरे स्थान पर बैठा है। B और A के ठीक बीच में कौन बैठा है?

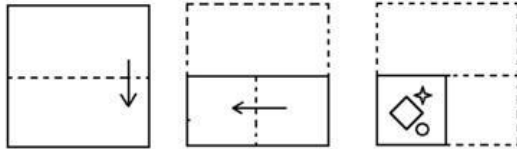
- Ans
- ☒ 1. H
  - ☒ 2. E
  - ☒ 3. C
  - ☒ 4. F

Question ID : 26433058031

Status : Answered

Chosen Option : 3

Q.25 नीचे कागज के एक टुकड़े को मोड़ने का क्रम और मोड़े गए कागज को काटने का तरीका दिखाया गया है। उस आकृति का चयन करें, जो कागज के खुले रूप से सर्वाधिक मिलती जुलती हो।



Ans

- ☒ 1.
- ☒ 2.
- ☒ 3.
- ☒ 4.

Question ID : 26433056682

Status : Answered

Chosen Option : 2

Section : Part-D- English Language

**Q.1** Select the most appropriate synonym of the given word.  
Slack

- Ans ☒ 1. Inactive  
☐ 2. Stack  
☐ 3. Thrive  
☐ 4. Activated

Question ID : 26433066104  
Status : Answered  
Chosen Option : 1

**Q.2** Select the most appropriate ANTONYM of the underlined word.

The ancient structures are still a matter of great interest for researchers.

- Ans ☐ 1. Antique  
☒ 2. Modern  
☐ 3. Historical  
☐ 4. Previous

Question ID : 26433073193  
Status : Answered  
Chosen Option : 1

**Q.3** Sentences of a paragraph are given below in jumbled order. Arrange the sentences in the correct order to form a meaningful and coherent paragraph.

- A. The Estonia rolled over and sank in a cold, stormy night.  
B. Of those who managed to scramble overboard, only 139 survived.  
C. It went down so quickly that most of those on board, caught in their dark, flooding cabins, had no chance to save themselves.  
D. Naval architects never claim that a ship is unsinkable, but the sinking of the passenger-and-car ferry Estonia in the Baltic surely should have never have happened.

- Ans ☐ 1. BCAD  
☒ 2. DACB  
☐ 3. ABDC  
☐ 4. DABC

Question ID : 26433060729  
Status : Answered  
Chosen Option : 4

**Q.4** Select the INCORRECTLY spelt word.

- Ans ☒ 1. Dilusion  
☐ 2. Solution  
☐ 3. Impression  
☐ 4. Ambition

Question ID : 26433055467  
Status : Answered  
Chosen Option : 4

**Q.5** Select the **INCORRECTLY** spelt word.

- Ans ☒ 1. Refrigerater  
☐ 2. Fridge  
☐ 3. Educate  
☐ 4. Install

Question ID : 26433071897  
Status : Answered  
Chosen Option : 1

**Q.6** Select the most appropriate option to fill in the blanks.

The government has introduced a new scheme for those living below the \_\_\_\_\_ line and the \_\_\_\_\_ of this scheme have to apply within next month.

- Ans ☐ 1. destitute; bohemians  
☐ 2. impoverished; bigots  
☐ 3. poor; benevolents  
☒ 4. poverty; beneficiaries

Question ID : 26433065182  
Status : Answered  
Chosen Option : 3

**Q.7** Select the most appropriate synonym of the highlighted word in the following sentence.

Ravi was baffled at the question asked by his teacher.

- Ans ☐ 1. Excited  
☒ 2. Confused  
☐ 3. Angered  
☐ 4. Amused

Question ID : 26433065215  
Status : Answered  
Chosen Option : 1

**Q.8** Select the most appropriate option to fill in the blank.

Hamlet's appeal lies partly in being the supreme dramatic evocation of the \_\_\_\_\_ of life.

- Ans ☐ 1. dangers  
☐ 2. hazards  
☐ 3. harmfulness  
☒ 4. mysteriousness

Question ID : 26433059617  
Status : Answered  
Chosen Option : 2

Q.9 Identify the error in tense and choose the correct sentence from the following options.  
We play cricket now. We were playing in the music club every week.

- Ans
- ☒ 1. We have been playing cricket now. We are playing in the music club every week.
  - ☒ 2. We were playing cricket now. We had been playing in the music club every week.
  - ☒ 3. We are playing cricket now. We play in the music club every week.
  - ☒ 4. We play cricket now. We are playing in the music club every week.

Question ID : 26433059187

Status : Answered

Chosen Option : 4

Q.10 Select the most appropriate option that can substitute the underlined segment in the given sentence. If there is no need to substitute it, select 'No substitution'.

Who will look after my sick pet in my absence?

- Ans
- ☒ 1. look into
  - ☒ 2. look at
  - ☒ 3. No substitution
  - ☒ 4. look on

Question ID : 26433072299

Status : Answered

Chosen Option : 2

Q.11 In the following passage, some word have been deleted. Read the passage carefully and select the most appropriate option to fill in each blank.

In the schoolroom there were a few mechanical models which interested me and turned my attention to water turbines. I constructed many of these and found great pleasure in operating them. How extraordinary was my life an incident may illustrate. My uncle had no use for this kind of pastime and more than once rebuked me. I was fascinated by a description of Niagara Falls I had perused, and pictured in my imagination a big wheel run by the Falls. I told my uncle that I would go to America and carry out this scheme. Thirty years later, I saw my ideas carried out at Niagara and marvelled at the \_\_\_\_\_ mystery of the mind.

Select the most appropriate option to fill in the blank.

- Ans
- ☒ 1. comprehensible
  - ☒ 2. shallow
  - ☒ 3. penetrable
  - ☒ 4. unfathomable

Question ID : 26433069768

Status : Not Answered

Chosen Option : --

Q.12 Select the idiom that can substitute the underlined group of words.

My manager is very angry.

- Ans
- ☒ 1. Loses face
  - ☒ 2. Fat cat
  - ☒ 3. Pulls a face
  - ☒ 4. Has a face like thunder

Question ID : 26433063650

Status : Answered

Chosen Option : 1

Q.13 The following sentence has been split into four segments. Identify the segment that contains a grammatical error.

The new schedule / for workers / go functional / last Monday.

- Ans
- ☒ 1. for workers
  - ☒ 2. go functional
  - ☒ 3. The new schedule
  - ☒ 4. last Monday

Question ID : 26433061497  
Status : Answered  
Chosen Option : 2

Q.14 Select the option that can be used as a one-word substitute for the given group of words.

The study of secret writing and coded language or words

- Ans
- ☒ 1. Calligraphy
  - ☒ 2. Cryptography
  - ☒ 3. Cryptology
  - ☒ 4. Cytology

Question ID : 26433072445  
Status : Answered  
Chosen Option : 3

Q.15 Select the most appropriate synonym of the underlined word in the given sentence.  
No barrier can stop her from achieving her goals.

- Ans
- ☒ 1. obstacle
  - ☒ 2. stony path
  - ☒ 3. entrance
  - ☒ 4. transit

Question ID : 26433055507  
Status : Not Attempted and Marked For Review  
Chosen Option : --

Q.16 Select the option that can be used as a one-word substitute for the given group of words.

A paper written by hand

- Ans
- ☒ 1. Manuscript
  - ☒ 2. Mantle
  - ☒ 3. Transcript
  - ☒ 4. Marsupial

Question ID : 26433070712  
Status : Answered  
Chosen Option : 1

Q.17 Select the most appropriate option to fill in the blank.

He has no respect for sacred things. He is involved in the act of \_\_\_\_\_.

- Ans
- ☒ 1. apostasy
  - ☒ 2. atheism
  - ☒ 3. blasphemy
  - ☒ 4. heresy

Question ID : 26433072481

Status : Answered

Chosen Option : 3

Q.18 In the following passage, some word have been deleted. Read the passage carefully and select the most appropriate option to fill in each blank.

Anticipation of threats to the sustainability of human civilisation needs to encompass time periods that span not just decades but millennia. All existential risks need to be jointly assessed, as \_\_\_\_\_ to addressing risks such as climate change and pandemics separately. Exploring the potential events that are likely to cause the biggest risks as well as asking why we should even desire to thrive into the distant future, this work looks at the 'biggest picture possible' in order to argue that futures-oriented decision-making ought to be a permanent aspect of human society and futures-oriented policy making must take precedent over the day-to-day policy making of current generations in times of great peril.

Select the most appropriate option to fill in the blank.

- Ans
- ☒ 1. familiar
  - ☒ 2. opposed
  - ☒ 3. accustomed
  - ☒ 4. similar

Question ID : 26433069771

Status : Answered

Chosen Option : 4

Q.19 Select the most appropriate meaning of the given idiom.  
Hit the nail on the head

- Ans
- ☒ 1. Win something by chance
  - ☒ 2. Hit the wrong note
  - ☒ 3. Making too many errors
  - ☒ 4. Get something exactly right

Question ID : 26433066128

Status : Answered

Chosen Option : 1

Q.20 Select the most appropriate ANTONYM of the underlined word.

The foreigner after visiting the Taj Mahal narrated the wonders of architecture to everyone.

- Ans
- ☒ 1. General
  - ☒ 2. Global
  - ☒ 3. Native
  - ☒ 4. Universal

Question ID : 26433073192

Status : Answered

Chosen Option : 3

**Comprehension:**

In the following passage, some words have been deleted. Read the passage carefully and select the most appropriate option to fill in each blank.

Their popular works had a moral tenor directed (1)\_\_\_\_\_the upliftment of the society. In (2)\_\_\_\_\_tales, they present a neat moral distinction. The wrongness (3)\_\_\_\_\_rightness of either side is invariably undoubted. There are demonic characters (4)\_\_\_\_\_cause innocents to (5)\_\_\_\_\_for a while

**SubQuestion No : 21**

**Q.21** Select the most appropriate option to fill in blank number 1.

- Ans ☒ 1. at  
☒ 2. of  
☒ 3. on  
☒ 4. about

Question ID : 26433058896  
 Status : Answered  
 Chosen Option : 3

**Comprehension:**

In the following passage, some words have been deleted. Read the passage carefully and select the most appropriate option to fill in each blank.

Their popular works had a moral tenor directed (1)\_\_\_\_\_the upliftment of the society. In (2)\_\_\_\_\_tales, they present a neat moral distinction. The wrongness (3)\_\_\_\_\_rightness of either side is invariably undoubted. There are demonic characters (4)\_\_\_\_\_cause innocents to (5)\_\_\_\_\_for a while

**SubQuestion No : 22**

**Q.22** Select the most appropriate option to fill in blank number 2.

- Ans ☒ 1. there  
☒ 2. his  
☒ 3. her  
☒ 4. their

Question ID : 26433058897  
 Status : Answered  
 Chosen Option : 4

**Comprehension:**

In the following passage, some words have been deleted. Read the passage carefully and select the most appropriate option to fill in each blank.

Their popular works had a moral tenor directed (1)\_\_\_\_\_the upliftment of the society. In (2)\_\_\_\_\_tales, they present a neat moral distinction. The wrongness (3)\_\_\_\_\_rightness of either side is invariably undoubted. There are demonic characters (4)\_\_\_\_\_cause innocents to (5)\_\_\_\_\_for a while

**SubQuestion No : 23**

**Q.23** Select the most appropriate option to fill in blank number 3.

- Ans ☒ 1. nor  
☒ 2. or  
☒ 3. neither  
☒ 4. but

Question ID : 26433058898  
 Status : Answered  
 Chosen Option : 3

**Comprehension:**

In the following passage, some words have been deleted. Read the passage carefully and select the most appropriate option to fill in each blank.

Their popular works had a moral tenor directed (1) \_\_\_\_\_ the upliftment of the society. In (2) \_\_\_\_\_ tales, they present a neat moral distinction. The wrongness (3) \_\_\_\_\_ rightness of either side is invariably undoubted. There are demonic characters (4) \_\_\_\_\_ cause innocents to (5) \_\_\_\_\_ for a while

**SubQuestion No : 24**

**Q.24** Select the most appropriate option to fill in blank number 4.

- Ans ☒ 1. that  
☒ 2. where  
☒ 3. who  
☒ 4. which

Question ID : 26433058899  
 Status : Answered  
 Chosen Option : 1

**Comprehension:**

In the following passage, some words have been deleted. Read the passage carefully and select the most appropriate option to fill in each blank.

Their popular works had a moral tenor directed (1) \_\_\_\_\_ the upliftment of the society. In (2) \_\_\_\_\_ tales, they present a neat moral distinction. The wrongness (3) \_\_\_\_\_ rightness of either side is invariably undoubted. There are demonic characters (4) \_\_\_\_\_ cause innocents to (5) \_\_\_\_\_ for a while

**SubQuestion No : 25**

**Q.25** Select the most appropriate option to fill in blank number 5.

- Ans ☒ 1. suffer  
☒ 2. contemplate  
☒ 3. delay  
☒ 4. rejoice

Question ID : 26433058900  
 Status : Not Answered  
 Chosen Option : --

**Section : Part-E- Computer Fundamentals**

**Q.1** MS-Excel -2010 और उससे ऊपर की वर्कशीट में एडिट मोड को इनेबल करने के संदर्भ में निम्नलिखित में से कौन सा विकल्प सही है?

- Ans ☒ 1. File पर क्लिक करें > Options पर क्लिक करें > Customized Ribbon पर क्लिक करें और Editing options के अंतर्गत Allow editing directly in cells चेक बॉक्स (check box) को सेलेक्ट करें।  
☒ 2. File पर क्लिक करें > Options पर क्लिक करें > Advanced पर क्लिक करें और Editing options के अंतर्गत Allow editing directly in cells चेक बॉक्स (check box) को सेलेक्ट करें।  
☒ 3. File पर क्लिक करें > Options पर क्लिक करें > Trust Center पर क्लिक करें और Allow editing directly in cells चेक बॉक्स (check box) को सेलेक्ट करें।  
☒ 4. File पर क्लिक करें > Options पर क्लिक करें > Customized Ribbon पर क्लिक करें और Allow editing directly in cells चेक बॉक्स (check box) को सेलेक्ट करें।

Question ID : 26433095529  
 Status : Not Answered  
 Chosen Option : --



Q.2 व्यू टैब (view tab) पर जाने के लिए, एमएस-एक्सेल (MS-Excel 2010) में \_\_\_\_\_ शॉर्टकट की (key) का उपयोग किया जाता है।

- Ans
- ☒ 1. ALT + N
  - ☒ 2. ALT + I
  - ☒ 3. ALT + A
  - ☒ 4. ALT + W

Question ID : 26433095432

Status : Not Answered

Chosen Option : --

Q.3 जब आप एमएस-एक्सेल 2010(MS-Excel 2010) वर्कशीट में B3 से लेकर, B3 : G9 सेल की रेंज को सेलेक्ट करते हैं, तो नेम बॉक्स में क्या प्रदर्शित होगा?

- Ans
- ☒ 1. G3
  - ☒ 2. G9
  - ☒ 3. B9
  - ☒ 4. B3

Question ID : 26433095319

Status : Not Answered

Chosen Option : --

Q.4 एमएस-वर्ड 2010 में, बाईं ओर के एक कैरेक्टर को हटाने के लिए किस शॉर्टकट की (key) का उपयोग किया जाता है?

- Ans
- ☒ 1. Backspace
  - ☒ 2. Ctrl + Backspace
  - ☒ 3. Ctrl + Delete
  - ☒ 4. Shift + Delete

Question ID : 26433095491

Status : Answered

Chosen Option : 1

Q.5 डॉटेड-डेसीमल नोटेशन (dotted-decimal notation) में, आईपी (IP) संस्करण 4 एड्रेस को बिल्कुल \_\_\_\_\_ डॉट (.) चिन्हों का उपयोग करके दर्शाया जाता है।

- Ans
- ☒ 1. दो
  - ☒ 2. तीन
  - ☒ 3. पाँच
  - ☒ 4. चार

Question ID : 26433095356

Status : Not Attempted and Marked For Review

Chosen Option : --

Q.6 एक \_\_\_\_\_, वेब पेजों और संबंधित सामग्री का ऐसा संग्रह होता है जिसे किसी सामान्य डोमेन (domain) नाम से पहचाना जाता है और कम से कम किसी एक वेब सर्वर (web server) पर पब्लिश किया जाता है।

- Ans
- ☒ 1. ईमेल (EMAIL)
  - ☒ 2. वाइरस (VIRUS)
  - ☒ 3. इंस्टेंट मैसेंजर (Instant messenger)
  - ☒ 4. वेबसाइट (Website)

Question ID : 26433095487

Status : Answered

Chosen Option : 1

Q.7 एमएस-एक्सेल 2010 (MS-Excel 2010) में \_\_\_\_\_ ऑपरेशन का उपयोग डेटा को एक विशेष क्रम में व्यवस्थित करने के लिए किया जाता है।

- Ans
- ☒ 1. टेबल (TABLE)
  - ☒ 2. फिल्टर (FILTER)
  - ☒ 3. सॉर्ट (SORT)
  - ☒ 4. चार्ट (CHART)

Question ID : 26433095431

Status : Not Attempted and Marked For Review

Chosen Option : --

Q.8 एमएस एक्सेल-2010 वर्कशीट के सेल में अधिकतम कितने कैरेक्टर टाइप किए जा सकते हैं?

- Ans
- ☒ 1. 16384
  - ☒ 2. 256
  - ☒ 3. 1024
  - ☒ 4. 32767

Question ID : 26433095508

Status : Answered

Chosen Option : 1

Q.9 एमएस-एक्सेल 2010 के संबंध में गलत विकल्प का चयन कीजिए।

- Ans
- ☒ 1. एमएस-एक्सेल 2010 में, Ctrl+H का उपयोग शीट के भीतर टेक्स्ट को प्रतिस्थापित (Replace) करने के लिए किया जाता है।
  - ☒ 2. एमएस-एक्सेल 2010 में, रिबन बार में होम टैब (home tab) में सबसे अधिक उपयोग किए जाने वाले कमांड होते हैं जैसे कि कॉपी और पेस्ट करना, सॉर्ट करना और फ़िल्टर करना, फॉर्मेट करना आदि।
  - ☒ 3. एमएस-एक्सेल 2010 में, Ctrl+R का उपयोग शीट में टेक्स्ट को प्रतिस्थापित (Replace) करने के लिए किया जाता है।
  - ☒ 4. Alt+Enter शॉर्टकट कुंजी (key) का उपयोग एमएस-एक्सेल 2010 में किसी विशेष सेल वाले टेक्स्ट में एक नई लाइन प्रविष्टि करने के लिए किया जाता है।

Question ID : 26433095464

Status : Not Answered

Chosen Option : --

Q.10 अधूरे ईमेल को बिना भेजे ही किस फोल्डर में स्टोर किया जाता है?

- Ans
- ☒ 1. ड्राफ्ट (Drafts)
  - ☒ 2. स्पैम (Spam)
  - ☒ 3. ट्रेश (Trash)
  - ☒ 4. सेंट (Sent)

Question ID : 26433095505

Status : Answered

Chosen Option : 1

Visit Website :- [Click Here](http://www.exammix.com)