

Multi Tasking Non Technical Staff Havaladar CBIC and CBN Examination 2021

Roll Number	
Candidate Name	
Venue Name	
Exam Date	05/07/2022
Exam Time	5:00 PM - 6:30 PM
Subject	MTS Non technical and Havaladar Examination 2021

www.exammix.com

Section : General English

Q.1 Select the option that can be used as a one-word substitute for the given group of words.

A book or paper written by hand

- Ans
- 1. Paperback
 - 2. Edition
 - 3. Periodical
 - 4. Manuscript

Question ID : 26433051788

Status : Answered

Chosen Option : 4

Q.2 Select the option that can be used as a one-word substitute for the given group of words.

A place where government records are kept

- Ans
- 1. Hangar
 - 2. Cloakroom
 - 3. Archive
 - 4. Cache

Question ID : 26433050866

Status : Answered

Chosen Option : 3

Q.3 Select the option that will improve the underlined part of the given sentence. In case no improvement is needed, select 'No improvement required'.

I am trying to finding an investor from abroad.

- Ans
- 1. No improvement required
 - 2. trying to find
 - 3. try to find
 - 4. trying too find

Question ID : 26433050986

Status : Answered

Chosen Option : 2

Q.4 Parts of the following sentence have been given as options. One of them may contain an error. Select the part that contains the error from the given options. If you don't find any error, mark 'No error' as your answer.

Aid workers have delivered vast quantities of food on the refugee camps.

- Ans
- 1. vast quantities of food
 - 2. on the refugee camps
 - 3. Aid workers have delivered
 - 4. No error

Question ID : 26433051210
Status : Answered
Chosen Option : 2

Q.5 Select the most appropriate option to substitute the underlined segment in the given sentence. If there is no need to substitute it, select 'No substitution required'.

Gel ingredients work well on waved, curled, relax and texture hair in the long run.

- Ans
- 1. No substitution required
 - 2. relaxed and texturing
 - 3. relaxed and textured
 - 4. relaxing and textured

Question ID : 26433051162
Status : Answered
Chosen Option : 3

Q.6 Select the most appropriate ANTONYM of the underlined word in the given sentence.

The kids have been pestering me to buy them new toys.

- Ans
- 1. bugging
 - 2. pacifying
 - 3. perturbing
 - 4. tormenting

Question ID : 26433050834
Status : Answered
Chosen Option : 2

Q.7 Select the most appropriate synonym of the given word.

Malign

- Ans
- 1. Benefit
 - 2. Besmirch
 - 3. Commend
 - 4. Approve

Question ID : 26433051711
Status : Answered
Chosen Option : 2

Q.8 Select the correctly spelt word.

- Ans 1. Cosmopoliton
 2. Imigrant
 3. Chauvinist
 4. Contemporary

Question ID : 26433051180
Status : Answered
Chosen Option : 3

Q.9 Select the option that can be used as a one-word substitute for the given group of words.

One who dies for a noble cause

- Ans 1. Narcissist
 2. Butcher
 3. Heretic
 4. Martyr

Question ID : 26433050674
Status : Answered
Chosen Option : 4

Q.10 Select the most appropriate ANTONYM of the given word.

Upgrade

- Ans 1. Demote
 2. Advance
 3. Lean
 4. Elevate

Question ID : 26433051513
Status : Answered
Chosen Option : 1

Q.11 Select the most appropriate synonym of the given word.

Occlude

- Ans 1. Abstain
 2. Obstruct
 3. promote
 4. facilitate

Question ID : 26433051686
Status : Answered
Chosen Option : 4

Q.12 Select the most appropriate meaning of the given idiom.

Tricks of the trade

- Ans
- 1. A particular profession
 - 2. Special skills or knowledge
 - 3. A trick to deceive
 - 4. An easy task

Question ID : 26433051768
Status : Answered
Chosen Option : 3

Q.13 Select the most appropriate option to fill in the blank.

One of the children stood at the door to _____ if he saw the apparitor coming, who was an officer of the spiritual court.

- Ans
- 1. give a hand
 - 2. give advice
 - 3. give notice
 - 4. give thought

Question ID : 26433051693
Status : Answered
Chosen Option : 1

Q.14 Parts of the following sentence have been given as options. One of them contains an error. Select the part that contains the error from the given options.

Seeds of mustard plants give us oil, and the leave are used as a vegetable.

- Ans
- 1. as a vegetable
 - 2. give us oil
 - 3. leave are used
 - 4. Seeds of

Question ID : 26433051159
Status : Answered
Chosen Option : 3

Q.15 Select the most appropriate meaning of the given idiom.

In a nutshell

- Ans
- 1. Without delay
 - 2. Under protection
 - 3. Extremely pale
 - 4. Very briefly

Question ID : 26433050863
Status : Answered
Chosen Option : 4

Q.16 Select the option that will improve the underlined part of the given sentence. In case no improvement is needed, select 'No improvement required'.

I knew very little Spanish when I came here, but I have been learning and can now make myself understood.

- Ans
- 1. upon arriving here, since
 - 2. as soon as I came here, but
 - 3. when I come here, however
 - 4. No improvement required

Question ID : 26433051621
Status : Answered
Chosen Option : 4

Q.17 Select the most appropriate option to fill in the blank.

Tickets for the event are available _____ the door; there is no advance booking.

- Ans
- 1. of
 - 2. in
 - 3. at
 - 4. to

Question ID : 26433051319
Status : Answered
Chosen Option : 3

Q.18 Select the correctly spelt word.

- Ans
- 1. Bezarre
 - 2. Perfection
 - 3. Infatuation
 - 4. Fortunate

Question ID : 26433051283
Status : Answered
Chosen Option : 2

Q.19 Select the most appropriate ANTONYM of the given word.

Flabby

- Ans
- 1. Long
 - 2. Firm
 - 3. Plump
 - 4. Stretched

Question ID : 26433051280
Status : Answered
Chosen Option : 2

Q.20 The following sentence has been divided into parts. One of them may contain an error. Select the part that contains the error from the given options. If you don't find any error, mark 'No error' as your answer.

Sometimes I act / like a fool, and she has / to step into save me.

- Ans**
- 1. to step into save me
 - 2. Sometimes I act
 - 3. like a fool and she has
 - 4. No error

Question ID : 26433051695

Status : Answered

Chosen Option : 3

Comprehension:

In the following passage, some words have been deleted. Read the passage carefully and select the most appropriate option to fill in each blank.

A group of researchers has (1) _____ that pleasure and positive states of mind are better for our health. This new intellectual approach to health is not only more powerful, but also has no side effects. Central to this claim are recent findings that even getting an education may add as much as 10 years to your (2) _____. That is why National Geographic featured John de Rosen in its book The Incredible Machine, which discussed old age. De Rosen, an artist, continued to paint until the week he died at age 91. The book notes: "Some scientists believe that retirement to a (3) _____ lifestyle initiates or aggravates medical problems, thus shortening life. According to a study of retired people, adults over 65 can learn a (4) _____ skill, like oil painting, as readily as younger students." So retiring from a job in a sense means retiring from life unless (5) _____ by some other, preferably new activity.

SubQuestion No : 21

Q.21 Select the most appropriate option to fill in blank number 1.

- Ans**
- 1. orchestrated
 - 2. defenestrated
 - 3. administrated
 - 4. demonstrated

Question ID : 26433051678

Status : Answered

Chosen Option : 4

Comprehension:

In the following passage, some words have been deleted. Read the passage carefully and select the most appropriate option to fill in each blank.

A group of researchers has (1) _____ that pleasure and positive states of mind are better for our health. This new intellectual approach to health is not only more powerful, but also has no side effects. Central to this claim are recent findings that even getting an education may add as much as 10 years to your (2) _____. That is why National Geographic featured John de Rosen in its book *The Incredible Machine*, which discussed old age. De Rosen, an artist, continued to paint until the week he died at age 91. The book notes: "Some scientists believe that retirement to a (3) _____ lifestyle initiates or aggravates medical problems, thus shortening life. According to a study of retired people, adults over 65 can learn a (4) _____ skill, like oil painting, as readily as younger students." So retiring from a job in a sense means retiring from life unless (5) _____ by some other, preferably new activity.

SubQuestion No : 22

Q.22 Select the most appropriate option to fill in blank number 2.

Ans 1. charisma

2. Life

3. planet

4. insurance

Question ID : 26433051679

Status : Answered

Chosen Option : 2

Comprehension:

In the following passage, some words have been deleted. Read the passage carefully and select the most appropriate option to fill in each blank.

A group of researchers has (1) _____ that pleasure and positive states of mind are better for our health. This new intellectual approach to health is not only more powerful, but also has no side effects. Central to this claim are recent findings that even getting an education may add as much as 10 years to your (2) _____. That is why National Geographic featured John de Rosen in its book *The Incredible Machine*, which discussed old age. De Rosen, an artist, continued to paint until the week he died at age 91. The book notes: "Some scientists believe that retirement to a (3) _____ lifestyle initiates or aggravates medical problems, thus shortening life. According to a study of retired people, adults over 65 can learn a (4) _____ skill, like oil painting, as readily as younger students." So retiring from a job in a sense means retiring from life unless (5) _____ by some other, preferably new activity.

SubQuestion No : 23

Q.23 Select the most appropriate option to fill in blank number 3.

Ans 1. complimentary

2. segmentary

3. sanitary

4. sedentary

Question ID : 26433051680

Status : Answered

Chosen Option : 4

Comprehension:

In the following passage, some words have been deleted. Read the passage carefully and select the most appropriate option to fill in each blank.

A group of researchers has (1) _____ that pleasure and positive states of mind are better for our health. This new intellectual approach to health is not only more powerful, but also has no side effects. Central to this claim are recent findings that even getting an education may add as much as 10 years to your (2) _____. That is why National Geographic featured John de Rosen in its book *The Incredible Machine*, which discussed old age. De Rosen, an artist, continued to paint until the week he died at age 91. The book notes: "Some scientists believe that retirement to a (3) _____ lifestyle initiates or aggravates medical problems, thus shortening life. According to a study of retired people, adults over 65 can learn a (4) _____ skill, like oil painting, as readily as younger students." So retiring from a job in a sense means retiring from life unless (5) _____ by some other, preferably new activity.

SubQuestion No : 24

Q.24 Select the most appropriate option to fill in blank number 4.

- Ans
- 1. native
 - 2. exaggerative
 - 3. creative
 - 4. discriminative

Question ID : 26433051681

Status : Answered

Chosen Option : 3

Comprehension:

In the following passage, some words have been deleted. Read the passage carefully and select the most appropriate option to fill in each blank.

A group of researchers has (1) _____ that pleasure and positive states of mind are better for our health. This new intellectual approach to health is not only more powerful, but also has no side effects. Central to this claim are recent findings that even getting an education may add as much as 10 years to your (2) _____. That is why National Geographic featured John de Rosen in its book *The Incredible Machine*, which discussed old age. De Rosen, an artist, continued to paint until the week he died at age 91. The book notes: "Some scientists believe that retirement to a (3) _____ lifestyle initiates or aggravates medical problems, thus shortening life. According to a study of retired people, adults over 65 can learn a (4) _____ skill, like oil painting, as readily as younger students." So retiring from a job in a sense means retiring from life unless (5) _____ by some other, preferably new activity.

SubQuestion No : 25

Q.25 Select the most appropriate option to fill in blank number 5.

- Ans
- 1. supplemented
 - 2. pigmented
 - 3. ornamented
 - 4. experimented

Question ID : 26433051682

Status : Answered

Chosen Option : 4

Section : **General Intelligence and Reasoning**

Q.1 दिए गए कथनों और निष्कर्षों को ध्यानपूर्वक पढ़ें। यह मानते हुए कि कथनों में दी गई जानकारी सत्य है, भले ही वह सामान्य रूप से ज्ञात तथ्यों से भिन्न प्रतीत होती हो, तय करें कि दिए गए निष्कर्षों में से कौन सा/से निष्कर्ष तार्किक रूप से कथनों का अनुसरण करता/ते है/हैं।

कथन:

- I. सभी T, Q हैं।
- II. कोई भी M, T नहीं है।

निष्कर्ष:

- I. कोई भी T, M नहीं है।
- II. कुछ Q, M नहीं हैं।

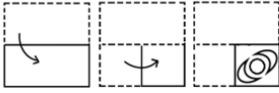
- Ans
1. केवल निष्कर्ष II अनुसरण करता है
 2. न तो निष्कर्ष I और न ही II अनुसरण करता है।
 3. केवल निष्कर्ष I अनुसरण करता है
 4. निष्कर्ष I और II दोनों अनुसरण करते हैं।

Question ID : 26433049003

Status : Answered

Chosen Option : 4

Q.2 कागज़ के एक टुकड़े को मोड़ने का क्रम, और मोड़े गए टुकड़े को काटने का तरीका नीचे दी गई आकृतियों में दर्शाया गया है। कागज़ को खोले जाने पर वह कैसा दिखाई देगा?



Ans


1.



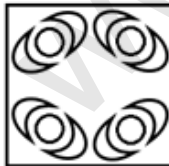
2.



3.



4.



Question ID : 26433049112

Status : Answered

Chosen Option : 4

Q.3 किन दो संख्याओं (अंक नहीं) को आपस में बदलने पर निम्नलिखित व्यंजक का मान '81' हो जाएगा?

$$798 + 27 - 719 \div 6 \times 5$$

Ans 1. 798 और 719

2. 27 और 6

3. 6 और 5

4. 5 और 27

Question ID : 26433049015

Status : Answered

Chosen Option : 1

Q.4 दी गई आकृति के सही दर्पण प्रतिबिंब का चयन करें। दर्पण को AB पर रखा गया है, जैसा कि चित्र में दिखाया गया है।



Ans

1.



2.



3.



4.



Question ID : 26433048561

Status : Answered

Chosen Option : 1

Q.5 उस संख्या का चयन करें, जो निम्नलिखित श्रृंखला से संबंधित नहीं है।

47, 51, 57, 65, 69, 76, 83

Ans 1. 51

2. 57

3. 76

4. 83

Question ID : 26433048543

Status : Answered

Chosen Option : 3

Q.6 दिए गए विकल्पों में से उस अक्षर-समूह का चयन करें, जो निम्नलिखित श्रृंखला में प्रश्न चिह्न (?) के स्थान पर आ सकता है।

RIN, TFR, VCV, ?, ZWD

Ans 1. ZZZ

2. XZZ

3. YZA

4. YZZ

Question ID : 26433049027

Status : Answered

Chosen Option : 2

Q.7 दिए गए कथनों और निष्कर्षों को सावधानीपूर्वक पढ़ें। कथनों में दी गई जानकारी को सत्य मानते हुए, चाहे वह सामान्यतः ज्ञात तथ्यों से असंगत प्रतीत होती हो, यह निर्धारित करें कि दिए गए निष्कर्षों में से कौन सा/से निष्कर्ष कथनों का तार्किक रूप से अनुसरण करता/करते है/हैं।

कथन:

- I. कोई भी नीला, सफ़ेद नहीं है।
- II. कोई भी काला, नीला नहीं है।

निष्कर्ष:

- I. सभी सफ़ेद, काले हैं।
- II. कोई भी नीला, काला नहीं है।
- III. कुछ सफ़ेद, नीले नहीं हैं।

Ans 1. कोई भी निष्कर्ष अनुसरण नहीं करता है।

2. सभी निष्कर्ष अनुसरण करते हैं।

3. केवल निष्कर्ष I और II अनुसरण करते हैं।

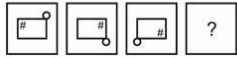
4. केवल निष्कर्ष II और III अनुसरण करते हैं।

Question ID : 26433048654

Status : Answered

Chosen Option : 4

Q.8 दिए गए विकल्पों में से उस आकृति का चयन करें जो नीचे दी गई श्रृंखला में प्रश्न-चिह्न (?) के स्थान पर आ सकती है।



Ans

✗ 1.



✓ 2.



✗ 3.



✗ 4.



Question ID : 26433048658

Status : Answered

Chosen Option : 2

Q.9 एक निश्चित कूट भाषा में, '471' का अर्थ 'Hair is White' है, '726' का अर्थ 'White Her Cow' है, और '639' का अर्थ 'Cow gives Milk' है। उसी भाषा में 'Her' का कूट क्या है?

Ans ✗ 1. 1

✗ 2. 7

✓ 3. 2

✗ 4. 4

Question ID : 26433048248

Status : Answered

Chosen Option : 3

Q.10 एक कक्षा में सात लड़कियों G1, G2, G3, G4, G5, G6 और G7 के प्राप्तांकों के प्रतिशत की तुलना की जाती है। सभी लड़कियों ने अलग-अलग प्रतिशत अंक प्राप्त किए हैं। G4 का प्रतिशत सबसे कम है। G3 का प्रतिशत G5 से अधिक है, लेकिन G1 से कम है। G6 का प्रतिशत G2 से कम है। G7 का प्रतिशत सबसे अधिक है। G1 का प्रतिशत केवल तीन लड़कियों से अधिक है। तीसरा सबसे कम प्रतिशत किसका है?

Ans ✗ 1. G4

✗ 2. G7

✓ 3. G3

✗ 4. G1

Question ID : 26433048607

Status : Answered

Chosen Option : 3

Q.11 सात लड़के A, B, C, D, E, F और G एक पंक्ति में उत्तर की ओर मुँह करके बैठे हैं (आवश्यक नहीं कि वे इसी क्रम में हों)। E किसी एक छोर पर बैठा है। A, E के बाएँ, पाँचवें स्थान पर है। B, A या E का निकटतम पड़ोसी नहीं है। C, B के बाएँ, तीसरे स्थान पर है। A और B के बीच केवल D बैठा है। D और F के बीच केवल दो लड़के बैठे हैं।
निम्नलिखित में से कौन-सा/से कथन सही है/हैं?
I. G, D के ठीक बाएँ है।
II. A और B, D के बगल में हैं।

- Ans
- 1. केवल II
 - 2. केवल I
 - 3. न तो I और न ही II
 - 4. I और II दोनों

Question ID : 26433048606
Status : Answered
Chosen Option : 1

Q.12 एक निश्चित कूट भाषा में, 'GAMBLE' को '864321' के रूप में कोडित किया जाता है, और 'PLAY' को '7265' के रूप में कोडित किया जाता है। उसी भाषा में 'LAMB' को किस रूप में कोडित किया जाएगा?

- Ans
- 1. 2643
 - 2. 6243
 - 3. 2634
 - 4. 6234

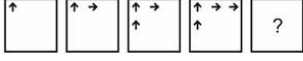
Question ID : 26433049070
Status : Answered
Chosen Option : 1

Q.13 छह लड़कियाँ G1, G2, G3, G4, G5 और G6 एक पंक्ति में पूर्व की ओर मुँह करके बैठी हैं (लेकिन आवश्यक नहीं कि वे इसी क्रम में हों)। G6 और G4 के बीच दो लड़कियाँ बैठी हैं। G6 किसी एक छोर पर बैठी है। G1, G6 के दाएँ दूसरे स्थान पर है। G2, G3 के बाएँ तीसरे स्थान पर है। G3 और G2 के बीच कितनी लड़कियाँ बैठी हैं?

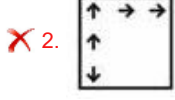
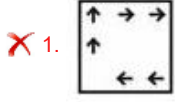
- Ans
- 1. तीन
 - 2. दो
 - 3. चार
 - 4. एक

Question ID : 26433048555
Status : Answered
Chosen Option : 2

Q.14 दिए गए विकल्पों में से उस आकृति का चयन करें, जो निम्नलिखित श्रृंखला में प्रश्नवाचक चिह्न (?) के स्थान पर आ सकती है।



Ans



Question ID : 26433048559

Status : Answered

Chosen Option : 4

Q.15 एक निश्चित कूट भाषा में, यदि 'पीले' को 'नीला' लिखा जाता है, 'नीले' को 'लाल' लिखा जाता है, 'लाल' को 'हरा' लिखा जाता है, 'हरे' को 'सफ़ेद' लिखा जाता है और 'सफ़ेद' को 'नारंगी' लिखा जाता है, तो उसी कूट भाषा में मनुष्य के रक्त का रंग क्या होगा?

Ans ✓ 1. हरा

✗ 2. नारंगी

✗ 3. सफ़ेद

✗ 4. लाल

Question ID : 26433048446

Status : Answered

Chosen Option : 1

Q.16 उस विकल्प का चयन करें, जिसमें दी गई आकृति अंतर्निहित है।
(घुमाने की अनुमति नहीं है)



Ans

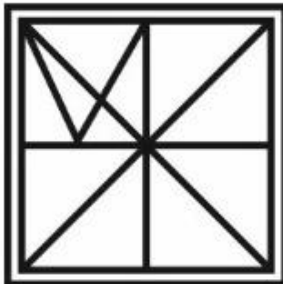
✗ 1.



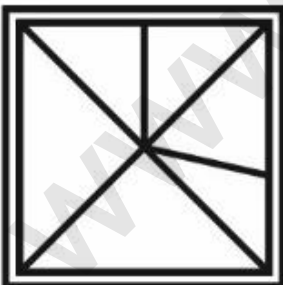
✗ 2.



✓ 3.



✗ 4.

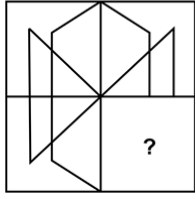


Question ID : 26433049010

Status : Answered

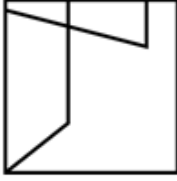
Chosen Option : 3

Q.17 दिए गए विकल्पों में से उस आकृति का चयन कीजिए, जो प्रश्नचिह्न (?) का स्थान लेते हुए पैटर्न को पूरा कर सकती है।



Ans

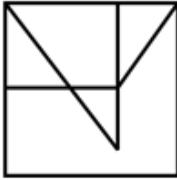
✗ 1.



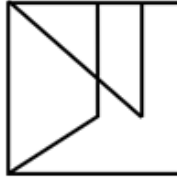
✗ 2.



✗ 3.



✓ 4.



Question ID : 26433048092

Status : Answered

Chosen Option : 4

Q.18 उस विकल्प का चयन करें जो तीसरी संख्या से उसी प्रकार संबंधित है, जिस प्रकार दूसरी संख्या पहली संख्या से संबंधित है और छठी संख्या पाँचवीं संख्या से संबंधित है।

97 : 2 :: 63 : ? :: 74 : 3

Ans ✗ 1. 7

✗ 2. 5

✓ 3. 3

✗ 4. 9

Question ID : 26433048641

Status : Answered

Chosen Option : 3

Q.19 उस विकल्प का चयन करें जो तीसरे अक्षर-समूह से उसी प्रकार संबंधित है, जिस प्रकार दूसरा अक्षर-समूह पहले अक्षर-समूह से संबंधित है।

PIG : MNZ :: ROL : ?

- Ans 1. OTE
 2. OTF
 3. OSE
 4. OSF

Question ID : 26433048651
Status : Answered
Chosen Option : 1

Q.20 उस विकल्प का चयन करें, जिसमें दो संख्याएँ उसी प्रकार संबंधित हैं, जिस प्रकार संख्याएँ दिए गए संख्या-युग्म में संबंधित हैं।

382 : 283 :: ?

- Ans 1. 564 : 465
 2. 784 : 847
 3. 962 : 629
 4. 384 : 843

Question ID : 26433048992
Status : Answered
Chosen Option : 1

Q.21 उस विकल्प का चयन करें जो पाँचवें अक्षरांकीय समूह से उसी प्रकार संबंधित है जिस प्रकार दूसरा अक्षरांकीय समूह पहले अक्षरांकीय समूह से और चौथा अक्षरांकीय समूह तीसरे अक्षरांकीय समूह से संबंधित है।

WXY72 : ZAB29 :: CDE12 : FGH21 :: IJK30 : ?

- Ans 1. LMN29
 2. LMN39
 3. MNO39
 4. MNO40

Question ID : 26433048442
Status : Answered
Chosen Option : 2

Q.22 उस संख्या का चयन करें, जो निम्नलिखित श्रृंखला से संबंधित नहीं है।

147, 293, 587, 1173, 2346, 4693

- Ans 1. 293
 2. 1173
 3. 2346
 4. 4693

Question ID : 26433048594
Status : Answered
Chosen Option : 3

Q.23 उस विकल्प का चयन करें, जिसमें अक्षर-समूहों का युग्म वही संबंध साझा करता है, जो संबंध अक्षर-समूहों के दिए गए युग्म द्वारा साझा किया जाता है।

CRO : FUR :: ?

- Ans 1. TCS : WFV
 2. MIP : PLT
 3. LAP : ODT
 4. FMG : HPJ

Question ID : 26433049074
Status : Answered
Chosen Option : 1

Q.24 यदि 'A' का अर्थ '+' है, 'B' का अर्थ '-' है, 'C' का अर्थ 'x' और 'D' का अर्थ '÷' है, तो दिए गए व्यंजक का मान कितना होगा?

35 A 25 B 12 C 25 D 5

- Ans 1. 5
 2. 2
 3. 0
 4. 10

Question ID : 26433048589
Status : Answered
Chosen Option : 3

Q.25 एक निश्चित कूट भाषा में, 'ROBST' को 'QPYLO' के रूप में लिखा जाता है, और 'POLAR' को 'OXILM' के रूप में लिखा जाता है। उसी कूट भाषा में 'GUJRT' को किस रूप में लिखा जाएगा?

- Ans 1. QOGDR
 2. QOHRD
 3. QOHGD
 4. QOGRD

Question ID : 26433048847
Status : Answered
Chosen Option : 4

Section : Numerical Aptitude

Q.1 $\frac{0.6 \div 0.6 \times 0.6 + 0.5 \times 0.5 \div 0.5}{0.6 \times 0.5 + 0.3}$ का मान ज्ञात कीजिए।

- Ans
- 1. $\frac{10}{7}$
 - 2. $\frac{7}{3}$
 - 3. $\frac{11}{6}$
 - 4. $\frac{13}{6}$

Question ID : 26433049988
 Status : Answered
 Chosen Option : 3

Q.2 साधारण ब्याज पर एक राशि 8 वर्षों में स्वयं की दोगुनी हो जाती है और चक्रवृद्धि ब्याज पर, यदि ब्याज वार्षिक रूप में चक्रवृद्धि हो, तो वह राशि 2 वर्षों में स्वयं की चार गुनी हो जाती है। प्रस्तावित साधारण ब्याज और चक्रवृद्धि ब्याज की वार्षिक दरों का अनुपात ज्ञात कीजिए।

- Ans
- 1. 3 : 5
 - 2. 1 : 8
 - 3. 2 : 3
 - 4. 5 : 3

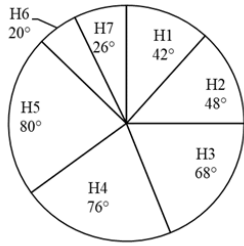
Question ID : 26433050332
 Status : Answered
 Chosen Option : 2

Q.3 यदि $P : Q = 4 : 5$ और $P : R = 2 : 3$ है, तो $3P : 4Q : 5R$ क्या है?

- Ans
- 1. 4 : 9 : 11
 - 2. 3 : 5 : 7
 - 3. 6 : 10 : 15
 - 4. 8 : 12 : 17

Question ID : 26433049880
 Status : Answered
 Chosen Option : 3

Q.4 निम्न पाई चार्ट उन खंडों के केंद्रीय कोणों का माप देता है जो 7 अस्पतालों में एक साथ लिए गए बिस्तरों की कुल संख्या के संबंध में 7 विभिन्न अस्पतालों में बिस्तरों की संख्या को दर्शाते हैं।



यदि H7 में बिस्तरों की संख्या 39 है, तो सभी 7 अस्पतालों में बिस्तरों की कुल संख्या कितनी है?

- Ans
- 1. 450
 - 2. 720
 - 3. 540
 - 4. 630

Question ID : 26433049992

Status : Answered

Chosen Option : 3

Q.5 एक छोटा वृत्त एक बड़े वृत्त को आंतरिक रूप से स्पर्श करता है और बड़े वृत्त के केंद्र 'O' से भी गुजरता है। यदि छोटे वृत्त का क्षेत्रफल 192 cm^2 है, तो बड़े वृत्त का क्षेत्रफल (cm^2 में) ज्ञात कीजिए।

- Ans
- 1. 384
 - 2. 1024
 - 3. 720
 - 4. 768

Question ID : 26433050216

Status : Answered

Chosen Option : 4

Q.6 एक कंटेनर में दो तरल पदार्थ A और B का मिश्रण है, जो 7 : 5 के अनुपात में हैं। यदि इसके 9 लीटर मिश्रण को 9 लीटर तरल पदार्थ B से बदल दिया जाए, तो दोनों तरल पदार्थों का अनुपात 7 : 9 हो जाता है। आरंभ में इस मिश्रण में तरल A की मात्रा कितनी थी?

- Ans
- 1. 35 लीटर
 - 2. 19 लीटर
 - 3. 40 लीटर
 - 4. 21 लीटर

Question ID : 26433050347

Status : Answered

Chosen Option : 4

Q.7 एक आयत की लंबाई और चौड़ाई क्रमशः 12 cm और 6 cm है। आयत का क्षेत्रफल कितना होगा?

- Ans
- 1. 96 cm²
 - 2. 144 cm²
 - 3. 56 cm²
 - 4. 72 cm²

Question ID : 26433049984

Status : Answered

Chosen Option : 4

Q.8 A और B मिलकर एक काम को 18 दिनों में पूरा कर सकते हैं, B और C मिलकर उसी काम को 24 दिनों में पूरा कर सकते हैं और A और C मिलकर इसे 36 दिनों में पूरा कर सकते हैं। A, B और C तीनों मिलकर इस काम को कितने दिनों में पूरा कर सकते हैं?

- Ans
- 1. 20
 - 2. 14
 - 3. 16
 - 4. 19

Question ID : 26433050235

Status : Answered

Chosen Option : 3

Q.9 एक चोर थाने से 8:00 a.m. को साइकिल द्वारा 50 km/h की चाल से भाग निकलता है। एक पुलिसकर्मी 65 km/h की चाल से 9:30 a.m. को मोटरसाइकिल द्वारा चोर का पीछा करना शुरू करता है। थाने से कितनी दूरी पर पुलिसकर्मी चोर को पकड़ लेगा?

- Ans
- 1. 310 km
 - 2. 325 km
 - 3. 335 km
 - 4. 300 km

Question ID : 26433049870

Status : Answered

Chosen Option : 2

Q.10 उस ठोस बेलन का वक्र पृष्ठीय क्षेत्रफल ज्ञात कीजिए जिसके आधार की त्रिज्या 14 cm और आयतन 7392 cm³ है। [$\pi = \frac{22}{7}$ मानिए]

- Ans
- 1. 1056 cm²
 - 2. 996 cm²
 - 3. 1840 cm²
 - 4. 1081 cm²

Question ID : 26433049566

Status : Answered

Chosen Option : 1

Q.11 एक वस्तु को 40% की हानि पर बेचा जाता है। हानि की राशि वस्तु के विक्रय मूल्य की लगभग कितने प्रतिशत है?

- Ans
- 1. 51.33%
 - 2. 66.67%
 - 3. 38.33%
 - 4. 41.33%

Question ID : 26433049973
Status : Answered
Chosen Option : 2

Q.12 B, A से 10% अधिक है। C, A से 20% कम है। B, C से कितने प्रतिशत अधिक है?

- Ans
- 1. 45%
 - 2. 25%
 - 3. 37.5%
 - 4. 27.5%

Question ID : 26433049575
Status : Answered
Chosen Option : 3

Q.13 यदि $K^2 : M :: M : 16$ हो, तो $(K^2 + 2M^2) : (K^2 + M^2)$ का मान कितना है?

- Ans
- 1. 1 : 1
 - 2. 17 : 16
 - 3. 32 : 17
 - 4. 33 : 17

Question ID : 26433049931
Status : Answered
Chosen Option : 4

Q.14 रणवीर ने एक कंप्यूटर, सूची मूल्य से 25% कम मूल्य पर खरीदा और इसे अपने पड़ोसी को अपने क्रय मूल्य के 40% लाभ पर बेच दिया। कंप्यूटर के सूची मूल्य पर रणवीर द्वारा अर्जित प्रतिशत लाभ ज्ञात कीजिए।

- Ans
- 1. 7.5%
 - 2. 5%
 - 3. 6.67%
 - 4. 10%

Question ID : 26433050326
Status : Answered
Chosen Option : 2

Q.15 $\left[\left\{ \left(\frac{3}{7} \text{ of } \frac{5}{12} - \frac{1}{2} \right) + \frac{11}{12} - \frac{1}{2} \times \frac{4}{5} \right\} + \frac{6}{5} \times \frac{25}{18} \right]$ का मान क्या है?

- Ans
- 1. $\frac{156}{257}$
 - 2. $\frac{391}{210}$
 - 3. $\frac{392}{515}$
 - 4. $\frac{395}{282}$

Question ID : 26433049889
Status : Answered
Chosen Option : 2

Q.16 A और B एक ही समय पर बिंदु M से बिंदु N की ओर चलना शुरू करते हैं। B, N पर पहुँचता है और तुरंत वापस M की ओर चलना शुरू करता है। वह बिंदु O (M और N के बीच) पर A से मिलता है। M और N के बीच की दूरी 245 km है। यदि A और B की चाल क्रमशः 26 km/h और 65 km/h है, तो O और N के बीच की दूरी कितनी है?

- Ans
- 1. 95 km
 - 2. 140 km
 - 3. 105 km
 - 4. 115 km

Question ID : 26433049921
Status : Answered
Chosen Option : 3

Q.17 छः क्रमागत विषम संख्याओं का औसत 26 है। इन संख्याओं में से सबसे बड़ी और सबसे छोटी संख्या का अंतर ज्ञात कीजिए।

- Ans
- 1. 8
 - 2. 10
 - 3. 12
 - 4. 16

Question ID : 26433049546
Status : Answered
Chosen Option : 2

Q.18 निम्नलिखित तालिका एक सप्ताह के दौरान एक स्टेशनरी स्टोर से बेची गई 6 भिन्न रंगों की कलमों और रबड़ों की संख्या दर्शाती है।

रंग	कलम	रबड़
C1	20	15
C2	24	21
C3	40	12
C4	22	18
C5	26	27
C6	36	33

C3 या C4 रंग वाले रबड़ों की कुल संख्या प्रत्येक रंग की कलमों की औसत संख्या का लगभग कितना प्रतिशत है?

- Ans
- ✓ 1. 107.14%
 - ✗ 2. 119.16%
 - ✗ 3. 115.22%
 - ✗ 4. 101.24%

Question ID : 26433049940

Status : Answered

Chosen Option : 1

Q.19 कीर्ति ने एक "बचत योजना" में वार्षिक साधारण ब्याज की एक निश्चित दर पर एक राशि का निवेश 3 वर्षों के लिए किया। यदि उसने समान राशि का निवेश 3 वर्षों की अवधि के लिए "शिक्षा योजना" में पहले वाली वार्षिक ब्याज दर से 2% अधिक की दर पर किया होता, तो उसे निवेशित राशि पर ₹540 अधिक का ब्याज प्राप्त होता। कीर्ति ने कितनी राशि का निवेश किया था?

- Ans
- ✗ 1. ₹9,500
 - ✗ 2. ₹7,000
 - ✗ 3. ₹8,000
 - ✓ 4. ₹9,000

Question ID : 26433050356

Status : Answered

Chosen Option : 4

Q.20 एक व्यक्ति अपनी मासिक आय का 40% खर्च करता है। व्यक्ति की मासिक आय में 15% की वृद्धि होती है और उसके व्यय में 22% की कमी होती है। उसकी बचत में लगभग प्रतिशत वृद्धि कितनी है?

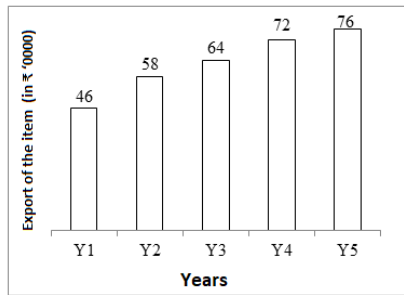
- Ans
- ✗ 1. 32%
 - ✗ 2. 36%
 - ✗ 3. 44%
 - ✓ 4. 40%

Question ID : 26433050400

Status : Answered

Chosen Option : 4

Q.21 नीचे दिया गया बार चार्ट एक देश से लगातार 5 वर्षों तक किसी वस्तु के निर्यात (₹'0000 में) को दर्शाता है।



दिए गए देश से प्रति वर्ष उस वस्तु के निर्यात का औसत मूल्य क्या है?

- Ans
- ✗ 1. ₹6,24,000
 - ✗ 2. ₹6,48,000
 - ✓ 3. ₹6,32,000
 - ✗ 4. ₹5,96,000

Question ID : 26433049891

Status : Answered

Chosen Option : 3

Q.22 रणवीर ने कार के क्रय मूल्य पर 50% छूट में एक कार खरीदी। यदि छूट 60% होती, तो उसे ₹1,00,000 कम का भुगतान करना पड़ता। कार का क्रय मूल्य ज्ञात कीजिए।

- Ans
- ✓ 1. ₹10 लाख
 - ✗ 2. ₹18 लाख
 - ✗ 3. ₹20 लाख
 - ✗ 4. ₹15 लाख

Question ID : 26433050353

Status : Answered

Chosen Option : 1

Q.23 S_1 किसी कार्य को अकेले 9 दिन में कर सकता है, S_2 उसी कार्य को अकेले 18 दिन में कर सकता है, जबकि S_3 उसे अकेले 27 दिन में पूरा कर सकता है। वे एक साथ कार्य करते हैं और कार्य को पूरा करते हैं, और कार्य पूरा करने के लिए भुगतान के रूप में कुल ₹726 प्राप्त करते हैं। उपरोक्त राशि में से S_2 और S_3 का एक साथ लिया गया संयुक्त हिस्सा कितना है?

- Ans
- ✗ 1. ₹360
 - ✓ 2. ₹330
 - ✗ 3. ₹300
 - ✗ 4. ₹270

Question ID : 26433049768

Status : Answered

Chosen Option : 2

Q.24 रोहित ने कुल ₹480 में 12 kg संतरे और ₹30 प्रति kg की दर से 18 kg अमरूद खरीदे। रोहित द्वारा खरीदे गए फलों का प्रति kg औसत मूल्य ज्ञात कीजिए।

- Ans
- ✗ 1. ₹38.20
 - ✗ 2. ₹37.20
 - ✓ 3. ₹34.00
 - ✗ 4. ₹36.00

Question ID : 26433050196
Status : Answered
Chosen Option : 3

Q.25 दो संख्याओं का महत्तम समापवर्तक (HCF) 5 और लघुत्तम समापवर्त्य (LCM) 120 है। यदि इन दोनों संख्याओं का योग 55 है, तो इनके व्युत्क्रमों का योग ज्ञात कीजिए।

- Ans
- ✗ 1. $\frac{601}{55}$
 - ✗ 2. $\frac{120}{11}$
 - ✓ 3. $\frac{11}{120}$
 - ✗ 4. $\frac{55}{601}$

Question ID : 26433050320
Status : Answered
Chosen Option : 3

Section : General Awareness

Q.1 वेद समाज के बारे में निम्नलिखित में से कौन सा कथन सही है?
I. इसकी स्थापना 1864 में मद्रास (अब चेन्नई) में हुई थी।
II. इसने जाति भेद को खत्म करने और विधवा पुनर्विवाह और महिला शिक्षा को बढ़ावा देने के लिए काम किया।

- Ans
- ✗ 1. न तो I और न ही II
 - ✗ 2. केवल I
 - ✗ 3. केवल II
 - ✓ 4. I और II दोनों

Question ID : 26433047284
Status : Not Answered
Chosen Option : --

Q.2 निम्नलिखित में से किसने महात्मा गांधी को महिलाओं को नमक सत्याग्रह आंदोलन में भाग लेने की अनुमति देने के लिए सहमत किया था?

- Ans 1. कमलादेवी चट्टोपाध्याय
 2. अंबाबाई
 3. एनी बेसेंट
 4. आशालता सेन

Question ID : 26433047383
Status : Answered
Chosen Option : 3

Q.3 निम्नलिखित में से किसे अशुद्धियों से मुक्त प्राकृतिक जल (आसुत जल) का सबसे शुद्ध रूप माना जाता है?

- Ans 1. कुएं का जल
 2. झरने का जल
 3. नदी का जल
 4. बारिश का जल

Question ID : 26433047726
Status : Answered
Chosen Option : 4

Q.4 ग्रामीण रोजगार सृजन कार्यक्रम (REGP) _____ में शुरू किया गया था।

- Ans 1. 1990
 2. 1995
 3. 1992
 4. 1999

Question ID : 26433047604
Status : Answered
Chosen Option : 2

Q.5 कांटेदार वनों और झाड़ियों की जलवायु परिस्थितियाँ निम्नलिखित में से किस पौधे की प्रजाति के लिए सबसे आदर्श हैं?

- Ans 1. शीशम (रोजवुड)
 2. हपुषा (जुनिपर)
 3. सागौन (टीक)
 4. यूफोर्बिया

Question ID : 26433047378
Status : Not Answered
Chosen Option : --

Q.6 चोलों के शासनकाल में, किसी विद्यालय के रखरखाव के लिए दी गई भूमि को _____ के रूप में जाना जाता था।

- Ans
- 1. ब्राह्मदेय
 - 2. शालाभोग
 - 3. वेल्हनवगाई
 - 4. देवदान

Question ID : 26433047732
Status : Answered
Chosen Option : 4

Q.7 X, जिसकी आयु 10 वर्ष है, एक कारखाने में कार्यरत है। X के निम्नलिखित में से किस अधिकार का उल्लंघन किया जा रहा है?

- Ans
- 1. स्वतंत्रता के अधिकार
 - 2. शोषण के विरुद्ध अधिकार
 - 3. समता के अधिकार
 - 4. धार्मिक स्वतंत्रता के अधिकार

Question ID : 26433047738
Status : Answered
Chosen Option : 2

Q.8 सागा दावा या तिहरा सौभाग्यशाली (ब्लेस्ड) महोत्सव भारत के किस राज्य में मनाया जाता है?

- Ans
- 1. सिक्किम
 - 2. आंध्र प्रदेश
 - 3. कर्नाटक
 - 4. उत्तर प्रदेश

Question ID : 26433047321
Status : Answered
Chosen Option : 1

Q.9 निम्नलिखित में से किस देश में 'झूम कृषि' को 'कोनुको' के नाम से जाना जाता है?

- Ans
- 1. वियतनाम
 - 2. मेडागास्कर
 - 3. अमेरिका
 - 4. वेनेजुएला

Question ID : 26433047727
Status : Not Answered
Chosen Option : --

Q.10 मानव शरीर की लार में निम्नलिखित में से कौन सा एंजाइम पाया जाता है जो स्टार्च को साधारण शर्करा में तोड़ देता है?

- Ans
- 1. ट्रिप्सिन
 - 2. रेनिन
 - 3. पेप्सिन
 - 4. एमाइलेज़

Question ID : 26433047275
Status : Answered
Chosen Option : 4

Q.11 4C के आवेश को 6V के विभवान्तर वाले दो बिन्दुओं तक ले जाने में किए गए कार्य की मात्रा _____ होती है।

- Ans
- 1. 36 J
 - 2. 24 J
 - 3. 12 J
 - 4. 48 J

Question ID : 26433047323
Status : Answered
Chosen Option : 2

Q.12 जैसा कि मार्च 2022 में अधिसूचित किया गया था, भारत सरकार ने _____ सहित अधिकांश राज्यों में महात्मा गांधी राष्ट्रीय ग्रामीण रोजगार गारंटी योजना के तहत मजदूरी दरों को संशोधित किया है।

- Ans
- 1. मणिपुर
 - 2. मिजोरम
 - 3. असम
 - 4. त्रिपुरा

Question ID : 26433047718
Status : Answered
Chosen Option : 1

Q.13 निम्नलिखित में से किस टीम ने 2021 तक IPL की किसी एक पारी में सर्वाधिक रन बनाए हैं?

- Ans
- 1. मुंबई इंडियंस
 - 2. रॉयल चैलेंजर्स बैंगलोर
 - 3. कोलकाता नाइट राइडर्स
 - 4. चेन्नई सुपर किंग्स

Question ID : 26433047816
Status : Answered
Chosen Option : 1

Q.14 निम्नलिखित में से कौन प्राणि जगत के संधिपाद प्राणी (आर्थ्रोपोडा) समूह से संबंधित नहीं है?

- Ans
- 1. तितली (बटरफ्लाई)
 - 2. तिलचट्टा (कॉक्रोच)
 - 3. मकड़ी (स्पाइडर)
 - 4. अष्टबाहु (ऑक्टोपस)

Question ID : 26433047374
Status : Not Answered
Chosen Option : --

Q.15 निम्नलिखित में से कौन तबला वादक नहीं था/है?

- Ans
- 1. शेख चिन्ना मौला
 - 2. अल्लाह रक्खा
 - 3. किशन महाराज
 - 4. जाकिर हुसैन

Question ID : 26433047761
Status : Answered
Chosen Option : 1

Q.16 2008 बीजिंग ओलिंपिक्स में किस भारतीय मुक्केबाज ने मुक्केबाज़ी (बॉक्सिंग) में मिडिलवेट वर्ग (डिवीजन) में कांस्य पदक जीता था?

- Ans
- 1. विजेंदर सिंह
 - 2. अखिल कुमार
 - 3. जितेंद्र कुमार
 - 4. मैरी कॉम

Question ID : 26433046990
Status : Answered
Chosen Option : 1

Q.17 एक किले के बारे में निम्नलिखित कथनों पर विचार कीजिए। 1. इसे मूल रूप से मनकल (Mankal) के नाम से जाना जाता था। 2. इसे वर्ष 1143 में एक पहाड़ी की चोटी पर बनाया गया था। उपरोक्त कथनों में किस किले के बारे में बात की जा रही है?

- Ans
- 1. किला अगुआड़ा
 - 2. चित्रदुर्ग किला
 - 3. दौलताबाद किला
 - 4. गोलकोंडा किला

Question ID : 26433047722
Status : Not Answered
Chosen Option : --

Q.18 देबाशीष पांडा को हाल ही में किसके प्रमुख के रूप में नियुक्त किया गया है?

- Ans
- 1. IL&FS
 - 2. SEBI
 - 3. ICAR
 - 4. IRDAI

Question ID : 26433047744
Status : Answered
Chosen Option : 4

Q.19 केंद्रीय बजट 2022-23 के अनुसार, राष्ट्रीय राजमार्ग नेटवर्क के विस्तार के लिए लगभग कितनी राशि आवंटित की गई है?

- Ans
- 1. ₹20,000 करोड़
 - 2. ₹15,000 करोड़
 - 3. ₹10,000 करोड़
 - 4. ₹25,000 करोड़

Question ID : 26433047767
Status : Not Answered
Chosen Option : --

Q.20 भरतनाट्यम किस भारतीय राज्य का शास्त्रीय नृत्य है?

- Ans
- 1. तमिलनाडु
 - 2. केरल
 - 3. मणिपुर
 - 4. असम

Question ID : 26433047270
Status : Answered
Chosen Option : 2

Q.21 प्राचीन भारत में महाजनपदों के शासक फसलों की उपज के _____ की दर से कर वसूलते थे।

- Ans
- 1. 1/5 भाग
 - 2. 1/6 भाग
 - 3. 1/3 भाग
 - 4. 1/4 भाग

Question ID : 26433047756
Status : Not Answered
Chosen Option : --

Q.22 भारतीय संविधान के अनुसार, प्रधानमंत्री की नियुक्ति _____ द्वारा की जाएगी।

- Ans
- 1. लोक सभा के अध्यक्ष
 - 2. मंत्री परिषद
 - 3. भारत के राष्ट्रपति
 - 4. भारत के मुख्य न्यायाधीश

Question ID : 26433047389
Status : Answered
Chosen Option : 3

Q.23 यामिनी कृष्णमूर्ति किस शास्त्रीय नृत्य शैली के लिए प्रसिद्ध हैं?

- Ans
- 1. कुचिपुड़ी और मोहिनीअट्टम
 - 2. भरतनाट्यम और कुचिपुड़ी
 - 3. मणिपुरी और ओडिसी
 - 4. मोहिनीअट्टम और मणिपुरी

Question ID : 26433047387
Status : Answered
Chosen Option : 2

Q.24 2011 की जनगणना के अनुसार, केरल की साक्षरता दर कितनी थी? (अनुमानित सीमा बताएँ।)

- Ans
- 1. 80-85%
 - 2. 96-100%
 - 3. 86-90%
 - 4. 91-95%

Question ID : 26433046954
Status : Answered
Chosen Option : 2

Q.25 निम्नलिखित में से कौन सी बराक ओबामा की आत्मकथा है?

- Ans
- 1. ड्रीम्स फ्रॉम माय फादर : ए स्टोरी ऑफ रेस ऑफ इनहेरिटेंस (Dreams from my Father: A Story of Race and Inheritance)
 - 2. द टेस्ट ऑफ माय लाइफ (The Test of my life)
 - 3. क्रॉनिकल्स (Chronicles)
 - 4. मैटर्स ऑफ डिस्क्रेशन (Matters of Discretion)

Question ID : 26433047760
Status : Answered
Chosen Option : 1