

Multi Tasking Non Technical Staff Havaladar CBIC and CBN Examination 2021

Roll Number	
Candidate Name	
Venue Name	
Exam Date	05/07/2022
Exam Time	1:00 PM - 2:30 PM
Subject	MTS Non technical and Havaladar Examination 2021

www.exammix.com

Section : **General English**

Q.1 Parts of the given sentence have been given as options. One of them may contain an error. Select the part that contains the error from the given options. If you don't find any error, mark 'No error' as your answer.

In many places, restoring mangrove forests can be an extreme effective strategy.

- Ans
- 1. In many places, restoring mangrove
 - 2. No error
 - 3. extreme effective strategy
 - 4. forests can be an

Question ID : 26433050769

Status : Answered

Chosen Option : 3

Q.2 Select the most appropriate option to fill in the blank.

There are good points to each side and we need more _____ people that are willing to look at them from all angles.

- Ans
- 1. unbiased
 - 2. undermined
 - 3. unadorned
 - 4. ubiquitous

Question ID : 26433051597

Status : Answered

Chosen Option : 4

Q.3 Select the most appropriate option to fill in the blank.

About three years ago, an old man, _____ name was Paul, used to live in this house.

- Ans
- 1. whom
 - 2. who
 - 3. which
 - 4. whose

Question ID : 26433050606

Status : Answered

Chosen Option : 4

Q.4 Select the most appropriate option to fill in the blank.

The _____ of the knife in his hand made her sick.

- Ans
- 1. site
 - 2. sight
 - 3. slight
 - 4. cite

Question ID : 26433050921
Status : Answered
Chosen Option : 3

Q.5 The following sentence has been divided into parts. One of them may contain an error. Select the part that contains the error from the given options. If you don't find any error, mark 'No error' as your answer.

Marine vertebrates are / valuable for / many reasons.

- Ans
- 1. No error
 - 2. Marine vertebrates are
 - 3. valuable for
 - 4. many reasons

Question ID : 26433050897
Status : Not Answered
Chosen Option : --

Q.6 Select the most appropriate synonym of the underlined word.

This medicine can make you feel lethargic and dizzy.

- Ans
- 1. Inactive
 - 2. Kinetic
 - 3. Mysterious
 - 4. Vivacious

Question ID : 26433050888
Status : Answered
Chosen Option : 1

Q.7 Select the option that will improve the underlined part of the given sentence. In case no improvement is needed, select 'No improvement required'.

I don't know why he is such secretly.

- Ans
- 1. is many secretive
 - 2. is so secretive
 - 3. are so secretly
 - 4. No improvement required

Question ID : 26433050587
Status : Answered
Chosen Option : 2

Q.8 Select the most appropriate meaning of the underlined idiom in the given sentence.

The eldest sister received the lion's share of her father's property.

- Ans
- 1. the smallest part
 - 2. the largest portion
 - 3. the entire amount
 - 4. no portion at all

Question ID : 26433050621
Status : Answered
Chosen Option : 2

Q.9 Select the most appropriate ANTONYM of the given word.

Salient

- Ans
- 1. Chief
 - 2. Eminent
 - 3. Remarkable
 - 4. Insignificant

Question ID : 26433050911
Status : Answered
Chosen Option : 3

Q.10 Select the most appropriate option to fill in the blank.

Thank you so _____ for helping me with this project.

- Ans
- 1. much
 - 2. many
 - 3. most
 - 4. too

Question ID : 26433050874
Status : Answered
Chosen Option : 1

Q.11 Select the option that will improve the underlined part of the given sentence. In case no improvement is needed, select 'No improvement required'.

The eighteenth century saw the middle classes becoming most prosperous.

- Ans
- 1. become more
 - 2. No improvement required
 - 3. been more than
 - 4. became most

Question ID : 26433051498
Status : Answered
Chosen Option : 1

Q.12 Select the most appropriate option to fill in the blank.

The _____ needs of the inhabitants seem to be fruit, iced drinks, shiny boots and lottery tickets.

- Ans 1. principal
 2. principle
 3. amiable
 4. invincible

Question ID : 26433051286
Status : Answered
Chosen Option : 4

Q.13 Parts of the given sentence have been given as options. One of them may contain an error. Select the part that contains the error from the given options. If you don't find any error, mark 'No error' as your answer.

Southern states has made an impressive comeback in the latest rankings.

- Ans 1. No error
 2. Southern states has made
 3. an impressive comeback
 4. in the latest rankings

Question ID : 26433050924
Status : Answered
Chosen Option : 2

Q.14 Select the option that can be used as a one-word substitute for the given group of words.

The science or art of political government

- Ans 1. Sociology
 2. Theology
 3. Politics
 4. Economics

Question ID : 26433051198
Status : Answered
Chosen Option : 3

Q.15 Select the correctly spelt word.

- Ans 1. Prominent
 2. Promenant
 3. Prominant
 4. Promneant

Question ID : 26433050919
Status : Answered
Chosen Option : 1

Q.16 Select the option that corrects the misspelt words in the given sentence.

Evryone was talking and laufhing during the trip.

- Ans
- 1. Everyone was talking and laffing during the trip.
 - 2. Everyone was talking and lauhging during the trip.
 - 3. Everyone was talking and laughing during the trip.
 - 4. Evryone was talking and laughing during the trip.

Question ID : 26433050946
Status : Answered
Chosen Option : 3

Q.17 Select the most appropriate synonym of the given word.

Humble

- Ans
- 1. Modest
 - 2. Bold
 - 3. Assertive
 - 4. Inactive

Question ID : 26433050913
Status : Answered
Chosen Option : 1

Q.18 Select the most appropriate option to fill in the blank.

My niece is very kind and _____ to everyone in the family.

- Ans
- 1. generous
 - 2. callous
 - 3. stern
 - 4. ruthless

Question ID : 26433050705
Status : Answered
Chosen Option : 1

Q.19 Select the most appropriate option to fill in the blank.

Hardly had I called him _____ my mother started screaming.

- Ans
- 1. then
 - 2. so
 - 3. than
 - 4. when

Question ID : 26433051057
Status : Answered
Chosen Option : 4

Q.20 Select the most appropriate meaning of the given idiom.

Through thick and thin

- Ans** 1. To work hard to the point of exhaustion
 2. In good and bad times
 3. With great pride
 4. In every possible way

Question ID : 26433051359

Status : Answered

Chosen Option : 4

Comprehension:

In the following passage, some words have been deleted. Read the passage carefully and select the most appropriate option to fill in each blank.

Different foods in (1) _____ food group have different nutrients. Picking an assortment within every food group (2) _____ the week will help you get (3) _____ nutrients. For example, choose seafood (4) _____ of meat twice a week. The variety of foods will make (5) _____ meals more interesting, too.

SubQuestion No : 21

Q.21 Select the most appropriate option to fill in blank number 1.

- Ans** 1. other
 2. everybody
 3. various
 4. each

Question ID : 26433050877

Status : Answered

Chosen Option : 3

Comprehension:

In the following passage, some words have been deleted. Read the passage carefully and select the most appropriate option to fill in each blank.

Different foods in (1) _____ food group have different nutrients. Picking an assortment within every food group (2) _____ the week will help you get (3) _____ nutrients. For example, choose seafood (4) _____ of meat twice a week. The variety of foods will make (5) _____ meals more interesting, too.

SubQuestion No : 22

Q.22 Select the most appropriate option to fill in blank number 2.

- Ans** 1. every
 2. between
 3. complete
 4. throughout

Question ID : 26433050878

Status : Answered

Chosen Option : 3

Comprehension:

In the following passage, some words have been deleted. Read the passage carefully and select the most appropriate option to fill in each blank.

Different foods in (1) _____ food group have different nutrients. Picking an assortment within every food group (2) _____ the week will help you get (3) _____ nutrients. For example, choose seafood (4) _____ of meat twice a week. The variety of foods will make (5) _____ meals more interesting, too.

SubQuestion No : 23

Q.23 Select the most appropriate option to fill in blank number 3.

- Ans 1. many
 2. very
 3. too
 4. almost

Question ID : 26433050879
Status : Answered
Chosen Option : 4

Comprehension:

In the following passage, some words have been deleted. Read the passage carefully and select the most appropriate option to fill in each blank.

Different foods in (1) _____ food group have different nutrients. Picking an assortment within every food group (2) _____ the week will help you get (3) _____ nutrients. For example, choose seafood (4) _____ of meat twice a week. The variety of foods will make (5) _____ meals more interesting, too.

SubQuestion No : 24

Q.24 Select the most appropriate option to fill in blank number 4.

- Ans 1. despite
 2. instead
 3. away
 4. replace

Question ID : 26433050880
Status : Answered
Chosen Option : 2

Comprehension:

In the following passage, some words have been deleted. Read the passage carefully and select the most appropriate option to fill in each blank.

Different foods in (1) _____ food group have different nutrients. Picking an assortment within every food group (2) _____ the week will help you get (3) _____ nutrients. For example, choose seafood (4) _____ of meat twice a week. The variety of foods will make (5) _____ meals more interesting, too.

SubQuestion No : 25

Q.25 Select the most appropriate option to fill in blank number 5.

- Ans
- 1. you
 - 2. your's
 - 3. your
 - 4. yours

Question ID : 26433050881
Status : Answered
Chosen Option : 3

Section : **General Intelligence and Reasoning**

Q.1 एक निश्चित कूट भाषा में, 'nu vu du' को 'water is life' के रूप में लिखा जाता है, 'hu du ru' को 'bring me water' के रूप में लिखा जाता है, और 'tu vu ru' को 'bring is well' के रूप में लिखा जाता है। उस भाषा में 'well' शब्द के लिए कौन सा कूट होगा?

- Ans
- 1. nu
 - 2. vu
 - 3. ru
 - 4. tu

Question ID : 26433048073
Status : Answered
Chosen Option : 4

Q.2 पांच बहनों, सीता, गीता, बबिता, ललिता और अनीता की आयु की तुलना की गई। गीता, बबिता से बड़ी है किन्तु सीता से छोटी है। ललिता सबसे बड़ी है। बबिता सबसे छोटी नहीं है। दूसरी सबसे बड़ी बहन कौन है?

- Ans
- 1. गीता
 - 2. बबिता
 - 3. सीता
 - 4. अनीता

Question ID : 26433048153
Status : Answered
Chosen Option : 3

Q.3 निम्नलिखित समीकरण में, यदि '+' और '-' को परस्पर बदल दिया जाए और 'x' और '÷' को भी परस्पर बदल दिया जाए तो '?' के स्थान पर क्या आएगा?

$$4 \div 6 - 9 + 48 \times 8 = ?$$

- Ans
- 1. 38
 - 2. 27
 - 3. 24
 - 4. 42

Question ID : 26433048160
Status : Answered
Chosen Option : 2

Q.4 दिए गए विकल्पों में से उस आकृति का चयन करें, जो प्रश्न चिह्न (?) के स्थान पर आ सकती है और पैटर्न को पूरा कर सकती है। (घुमाने की अनुमति नहीं है)



Ans

- 1.
- 2.
- 3.
- 4.

Question ID : 26433048863
Status : Answered
Chosen Option : 4

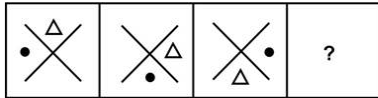
Q.5 उस विकल्प का चयन कीजिए जो निम्नलिखित श्रृंखला में प्रश्न चिह्न (?) के स्थान पर आएगा।

68, 79, 88, 95, 100, ?

- Ans
- 1. 103
 - 2. 101
 - 3. 107
 - 4. 105

Question ID : 26433048307
Status : Answered
Chosen Option : 1

Q.6 दिए गए विकल्पों में से उस आकृति का चयन कीजिए, जो निम्नलिखित श्रृंखला में प्रश्नवाचक चिह्न (?) के स्थान पर आ सकती है।



Ans

✓ 1.



✗ 2.



✗ 3.



✗ 4.



Question ID : 26433048287

Status : Answered

Chosen Option : 1

Q.7 एक कक्षा में, 5 लड़कियाँ एक सीधी पंक्ति में उत्तर की ओर मुँह करके बैठी हैं। A, C के ठीक बाईं ओर बैठी है और D के ठीक दाईं ओर बैठी है। E, B के ठीक दाईं ओर बैठी है लेकिन D के ठीक बाईं ओर बैठी है। पंक्ति में मध्य स्थान पर कौन बैठी है?

Ans ✗ 1. C

✗ 2. E

✗ 3. A

✓ 4. D

Question ID : 26433048301

Status : Answered

Chosen Option : 4

Q.8 पांच मित्र I, J, K, L और M उत्तर दिशा की ओर अभिमुख होकर एक बेंच पर एक सीधी पंक्ति में बैठे हैं। M और J निकटतम पड़ोसी हैं। M और K भी निकटतम पड़ोसी हैं। I, बेंच के बाएं सिरे पर बैठा है। J, दाएं सिरे से दूसरे स्थान पर बैठा है। I और J के बीच में कौन बैठा/बैठे है/हैं?

- Ans
- 1. K और L
 - 2. L और M
 - 3. L
 - 4. K और M

Question ID : 26433048152
Status : Answered
Chosen Option : 4

Q.9 उस विकल्प का चयन करें जो तीसरे अक्षर-समूह से उसी प्रकार संबंधित है, जिस प्रकार दूसरा अक्षर-समूह पहले अक्षर-समूह से संबंधित है।

GRAM : EPYK :: HALT : ?

- Ans
- 1. FXJR
 - 2. FYJR
 - 3. FYJS
 - 4. FYKR

Question ID : 26433048700
Status : Answered
Chosen Option : 2

Q.10 दिए गए समीकरण को गणितीय रूप से सही बनाने के लिए किन गणितीय चिह्नों को परस्पर बदला जाना चाहिए?

$$102 - 17 + 12 \times 4 \div 27 + 5 = 32$$

- Ans
- 1. - और ÷
 - 2. - और +
 - 3. × और ÷
 - 4. - और ×

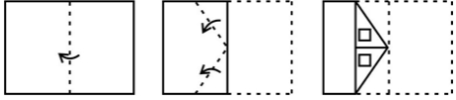
Question ID : 26433048286
Status : Answered
Chosen Option : 1

Q.11 एक निश्चित कूट भाषा में, 'HINDER' को 'ABGWXK' के रूप में लिखा जाता है, और 'GOLBMA' को 'ZHEUFT' के रूप में लिखा जाता है। उसी कूट भाषा में 'AJKSTU' को किस रूप में लिखा जाएगा?

- Ans
- 1. TCDLNM
 - 2. TDCLNM
 - 3. TCDLMN
 - 4. TDCLMN

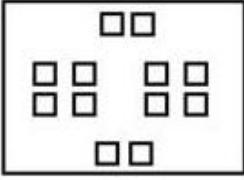
Question ID : 26433048723
Status : Answered
Chosen Option : 3

Q.12 एक कागज़ को मोड़ने का क्रम व मोड़े गए कागज़ को काटने का तरीका, नीचे दी गई आकृतियों में प्रदर्शित किया गया है। खोले जाने पर यह कागज़ किस प्रकार का दिखाई देगा?

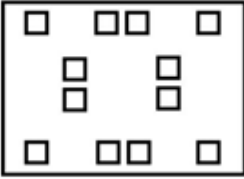


Ans

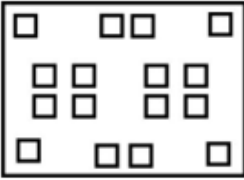
✗ 1.



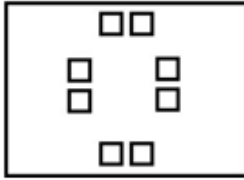
✗ 2.



✗ 3.



✓ 4.

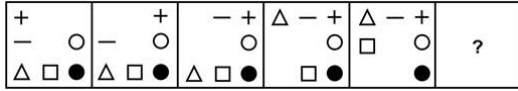


Question ID : 26433048412

Status : Answered

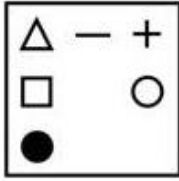
Chosen Option : 4

Q.13 दिए गए विकल्पों में से उस आकृति का चयन कीजिए, जो निम्नलिखित श्रृंखला में प्रश्न चिह्न (?) के स्थान पर आ सकती है।

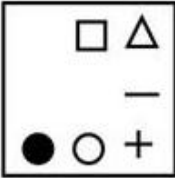


Ans

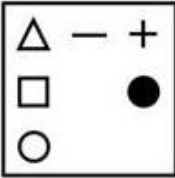
✓ 1.



✗ 2.



✗ 3.



✗ 4.

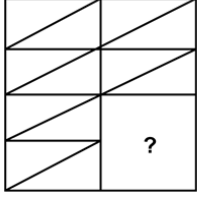


Question ID : 26433048313

Status : Answered

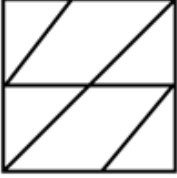
Chosen Option : 1

Q.14 दिए गए विकल्पों में से उस आकृति का चयन कीजिए जो प्रश्न चिह्न (?) के स्थान पर आ सकती है और पैटर्न को पूरा कर सकती है।

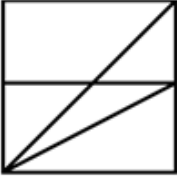


Ans

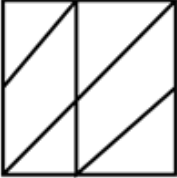
✗ 1.



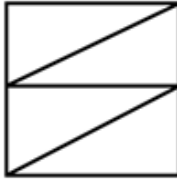
✗ 2.



✗ 3.



✓ 4.



Question ID : 26433048017

Status : Answered

Chosen Option : 4

Q.15 उस विकल्प का चयन कीजिए जिसमें संख्याएँ उसी प्रकार संबंधित हैं जैसे निम्नलिखित समुच्चय की संख्याएँ संबंधित हैं।

(नोट : संख्याओं को उसके घटक अंकों में विभाजित किए बिना, पूर्ण संख्याओं पर संक्रियाएं की जानी चाहिए। उदाहरण के लिए 13 लीजिए - संक्रियाएं जैसे कि जोड़ना/ घटाना/ गुणा करना आदि को सम्पूर्ण 13 पर कर सकते हैं। 13 को 1 और 3 में विभक्त करके उन अंको पर की गई गणितीय संक्रियाएँ अमान्य हैं। (4, 16, 64)(7, 49, 343)

Ans ✓ 1. (9, 81, 729)

✗ 2. (5, 25, 115)

✗ 3. (11, 121, 1231)

✗ 4. (8, 64, 412)

Question ID : 26433048259

Status : Answered

Chosen Option : 1

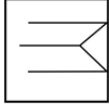
Q.16 उस विकल्प का चयन कीजिए जिसका पांचवें पद के साथ वही संबंध है, जो दूसरे पद का पहले पद के साथ और चौथे पद का तीसरे पद के साथ है।

P 16 : R 18 :: I 9 : K 11 :: T 20 : ?

- Ans
- ✓ 1. V 22
 - ✗ 2. U 22
 - ✗ 3. V 21
 - ✗ 4. A 1

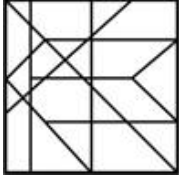
Question ID : 26433048069
Status : Answered
Chosen Option : 1

Q.17 उस विकल्प का चयन कीजिए जिसमें दी गई आकृति अंतर्निहित है (आकृति को घुमाने की अनुमति नहीं है)।

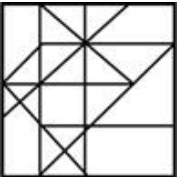


Ans

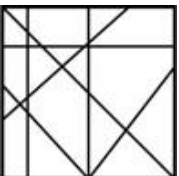
✓ 1.



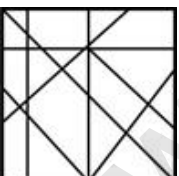
✗ 2.



✗ 3.



✗ 4.



Question ID : 26433048264
Status : Answered
Chosen Option : 1

Q.18 उस विकल्प का चयन कीजिए जो पाँचवें अक्षर-समूह से उसी प्रकार संबंधित है जैसे दूसरा अक्षर-समूह पहले अक्षर-समूह से संबंधित है और चौथा अक्षर-समूह तीसरे अक्षर-समूह से संबंधित है।

BEWMTT : ACTION :: KWQMTX : JUNIOR :: QTRJNZ : ?

- Ans
- 1. PROFIU
 - 2. PROFIT
 - 3. PROFTI
 - 4. PROEIT

Question ID : 26433048270
Status : Answered
Chosen Option : 2

Q.19 उस विकल्प का चयन कीजिए जिसे निम्नलिखित श्रृंखला में प्रश्नवाचक चिह्न (?) के स्थान पर रखा जा सकता है।

QD, OB, MZ, KX, ?

- Ans
- 1. IW
 - 2. JV
 - 3. JW
 - 4. IV

Question ID : 26433048268
Status : Answered
Chosen Option : 4

Q.20 एक निश्चित कूट भाषा में, '476' को 'wrong and sharp' के रूप में लिखा जाता है, '428' को 'knife is sharp' के रूप में लिखा जाता है, और '859' को 'right is good' के रूप में लिखा जाता है। उस भाषा में 'knife' शब्द के लिए कौन सा कूट होगा?

- Ans
- 1. 4
 - 2. 8
 - 3. 5
 - 4. 2

Question ID : 26433048072
Status : Answered
Chosen Option : 4

Q.21 दिए गए विकल्पों में से उस संख्या का चयन कीजिए, जो निम्नलिखित श्रृंखला में प्रश्नचिह्न (?) के स्थान पर आ सकती है।

72, 71, 75, 66, 82, 57, ?

- Ans
- 1. 86
 - 2. 91
 - 3. 79
 - 4. 93

Question ID : 26433048156
Status : Answered
Chosen Option : 4

Q.22 दिए गए कथनों और निष्कर्षों को ध्यानपूर्वक पढ़ें। यह मानते हुए कि कथनों में दी गई जानकारी सही है, भले ही वह सामान्य रूप से ज्ञात तथ्यों से भिन्न प्रतीत होती हो, तय करें कि दिए गए निष्कर्षों में से कौन-सा/से निष्कर्ष, कथनों का तार्किक रूप से अनुसरण करता है/ करते हैं।

कथन:

केवल कुछ Bs, Qs हैं।

केवल कुछ Qs, Vs हैं।

निष्कर्ष:

I. कुछ Bs, Vs हैं।

II. सभी Qs कभी भी Vs नहीं हो सकते हैं।

Ans 1. न तो निष्कर्ष I और न ही II अनुसरण करते हैं।

2. निष्कर्ष I और II दोनों अनुसरण करते हैं।

3. केवल निष्कर्ष I अनुसरण करता है।

4. केवल निष्कर्ष II अनुसरण करता है।

Question ID : 26433048280

Status : Answered

Chosen Option : 4

Q.23 दिए गए कथनों और निष्कर्षों को ध्यानपूर्वक पढ़ें। यह मानते हुए कि कथनों में दी गई जानकारी सही है, भले ही वह सामान्य रूप से ज्ञात तथ्यों से भिन्न प्रतीत होती हो, यह तय करें कि दिए गए निष्कर्षों में से कौन-सा/से निष्कर्ष, कथन का तार्किक रूप से अनुसरण करता है/ करते हैं।

कथन:

सभी कार ट्रक हैं।

कुछ बाइक कार हैं।

निष्कर्ष:

I. सभी बाइक ट्रक हैं।

II. कुछ ट्रक बाइक हैं।

Ans 1. निष्कर्ष I और II दोनों अनुसरण करते हैं।

2. न तो निष्कर्ष I और न ही II अनुसरण करता है।

3. केवल निष्कर्ष I अनुसरण करता है।

4. केवल निष्कर्ष II अनुसरण करता है।

Question ID : 26433048254

Status : Answered

Chosen Option : 4

Q.24 उस विकल्प का चयन कीजिए जो पाँचवीं संख्या से उसी प्रकार संबंधित है जैसे दूसरी संख्या पहली संख्या से संबंधित है और चौथी संख्या तीसरी संख्या से संबंधित है।

7 : 345 :: 5 : 127 :: 6 : ?

Ans 1. 218

2. 238

3. 208

4. 228

Question ID : 26433048283

Status : Answered

Chosen Option : 1

Q.25 एक निश्चित कूट भाषा में, 'POND' को '48' के रूप में कूटबद्ध किया जाता है, और 'HELO' को '39' के रूप में कूटबद्ध किया जाता है। उसी भाषा में 'PINK' को किस प्रकार कूटबद्ध किया जाएगा?

- Ans 1. 49
 2. 51
 3. 52
 4. 48

Question ID : 26433048696
Status : Answered
Chosen Option : 1

Section : Numerical Aptitude

Q.1 एक बैग को 12.5% की छूट पर बेचा जाता है। बैग का अंकित मूल्य ₹6,400 है और अर्जित लाभ 25% है। बैग का क्रय मूल्य कितना है?

- Ans 1. ₹4,480
 2. ₹4,640
 3. ₹4,120
 4. ₹4,260

Question ID : 26433049624
Status : Answered
Chosen Option : 1

Q.2 यदि $P = \frac{6 \times 4 \div 2}{8 \times 3 \div 6}$ और $Q = \frac{12 \div 4 - 2}{4 \div 3 \times 12}$ है, तो $\left(\frac{P}{Q}\right)^2$ का मान क्या होगा?

- Ans 1. 2304
 2. 4064
 3. 1024
 4. 4096

Question ID : 26433049664
Status : Answered
Chosen Option : 1

Q.3 परम अकेले एक काम को 24 घंटे में पूरा कर सकता है और चरण अकेले उसी काम को 30 घंटे में पूरा कर सकता है। यदि वे एक साथ कार्य करते हैं, तो वे 1 दिन में उस कार्य का कितना भाग पूरा कर सकते हैं?

- Ans
- ✗ 1. $\frac{3}{55}$
- ✗ 2. $\frac{3}{10}$
- ✗ 3. $\frac{3}{8}$
- ✓ 4. $\frac{3}{40}$

Question ID : 26433049411

Status : Answered

Chosen Option : 4

Q.4 यदि, एक निश्चित राशि पर, 2 वर्ष का साधारण ब्याज ₹1,200 है, तो उसी राशि पर 5 वर्ष का साधारण ब्याज कितना होगा, यदि ब्याज की दर अपरिवर्तित रहती है?

- Ans
- ✗ 1. ₹2,500
- ✗ 2. ₹3,500
- ✓ 3. ₹3,000
- ✗ 4. ₹2,800

Question ID : 26433049632

Status : Answered

Chosen Option : 3

Q.5 $\frac{3}{7}$ of $\frac{5}{11} + \frac{8}{7} \div \frac{24}{21} - \frac{11}{56} \times \frac{18}{33}$ का मान ज्ञात कीजिए।

- Ans
- ✓ 1. $\frac{335}{308}$
- ✗ 2. $\frac{175}{316}$
- ✗ 3. $\frac{118}{311}$
- ✗ 4. $\frac{308}{325}$

Question ID : 26433049638

Status : Answered

Chosen Option : 1

Q.6 X और Y का औसत $10X$ है। Y का मान ज्ञात कीजिए।

- Ans
- 1. $9X$
 - 2. $18X$
 - 3. $19X$
 - 4. $16X$

Question ID : 26433049978
Status : Answered
Chosen Option : 3

Q.7 यदि ब्याज दर 5% वार्षिक है और चक्रवृद्धि ब्याज के मामले में, ब्याज वार्षिक रूप से संयोजित होता है, तो ₹5,000 की धनराशि पर 2 वर्षों में प्राप्त चक्रवृद्धि ब्याज और साधारण ब्याज का अंतर क्या होगा?

- Ans
- 1. ₹25
 - 2. ₹10.5
 - 3. ₹7.5
 - 4. ₹12.5

Question ID : 26433049608
Status : Answered
Chosen Option : 4

Q.8 राहुल ने ₹56,500 में 120 टैबल खरीदे। यदि उन टैबलों में से 70 का औसत मूल्य ₹450 है, तो शेष 50 टैबलों का औसत मूल्य क्या होगा?

- Ans
- 1. ₹460
 - 2. ₹550
 - 3. ₹480
 - 4. ₹500

Question ID : 26433049629
Status : Answered
Chosen Option : 4

Q.9 कर (टैक्स) से पहले एक सोफे का मूल्य ₹24,000 है। यदि इस पर लागू बिक्री कर ₹1,200 है, तो बिक्री कर का प्रतिशत कितना है?

- Ans
- 1. 6%
 - 2. 8%
 - 3. 5%
 - 4. 4%

Question ID : 26433049350
Status : Answered
Chosen Option : 3

Q.10 निम्न तालिका विभिन्न विद्यालयों के उन छात्रों की संख्या दर्शाती है, जो अपना पसंदीदा खेल चुनते हैं।

खेल विद्यालय	अमेरिकन फुटबॉल	सॉकर	टेनिस	क्रिकेट
A	57	56	64	72
B	29	53	53	37
C	46	73	38	46
D	59	47	56	47

अमेरिकन फुटबॉल को अपने पसंदीदा खेल के रूप में चुनने वाले छात्रों की अधिकतम संख्या किस विद्यालय में है?

- Ans
- ✓ 1. D
 - ✗ 2. A
 - ✗ 3. B
 - ✗ 4. C

Question ID : 26433049512
Status : Answered
Chosen Option : 1

Q.11 512, 620, 428, और 580 का औसत ज्ञात कीजिए।

- Ans
- ✗ 1. 560
 - ✗ 2. 480
 - ✓ 3. 535
 - ✗ 4. 495

Question ID : 26433049422
Status : Answered
Chosen Option : 3

Q.12 एक व्यक्ति द्वारा 300 m की दूरी 27 km/h की चाल से कितने समय में तय की जा सकती है?

- Ans
- ✓ 1. 40 सेकंड
 - ✗ 2. 25 सेकंड
 - ✗ 3. 35 सेकंड
 - ✗ 4. 30 सेकंड

Question ID : 26433049645
Status : Answered
Chosen Option : 1

Q.13 एक आयत की लंबाई उसकी चौड़ाई की 5 गुनी है। यदि इसकी चौड़ाई 10 cm है, तो इस आयत का क्षेत्रफल ज्ञात कीजिए।

- Ans
- 1. 1000 cm²
 - 2. 500 cm²
 - 3. 600 cm²
 - 4. 250 cm²

Question ID : 26433049634
Status : Answered
Chosen Option : 2

Q.14 एक खाली टंकी को नल A अकेले 6 घंटे में भर सकता है। उसी भरी टंकी को नल B अकेले 8 घंटे में खाली कर सकता है। यदि उन्हें A से शुरू करते हुए वैकल्पिक घंटों में खोला जाता है, तो टैंक पहली बार कितने समय में भरेगा?

- Ans
- 1. 48 घंटे
 - 2. 47 घंटे
 - 3. 44 घंटे
 - 4. 41 घंटे

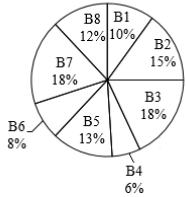
Question ID : 26433050043
Status : Answered
Chosen Option : 4

Q.15 दो मित्रों के वेतनों का अनुपात 3 : 4 है। यदि उनके वेतन का अंतर ₹3,000 है, तो उनके वेतनों का योग ज्ञात कीजिए।

- Ans
- 1. ₹19,000
 - 2. ₹24,000
 - 3. ₹18,000
 - 4. ₹21,000

Question ID : 26433049504
Status : Answered
Chosen Option : 4

Q.16 निम्न पाई चार्ट किसी विशेष वर्ष में 8 विभिन्न ब्रांडों द्वारा बेची गई कारों की संख्या के आंकड़े निरूपित करता है।



यदि दिए गए वर्ष के दौरान इन 8 ब्रांडों द्वारा बेची गई कारों की कुल संख्या 2800 है, तो B2 और B6 द्वारा बेची गई कारों की संख्या का अंतर कितना है?

- Ans
- ✗ 1. 140
 - ✗ 2. 252
 - ✗ 3. 224
 - ✓ 4. 196

Question ID : 26433049642
Status : Answered
Chosen Option : 3

Q.17 एक बंद बेलन के आधार का क्षेत्रफल 1386 cm^2 है। यदि बेलन की ऊंचाई 20 cm है, तो बेलन का संपूर्ण पृष्ठीय क्षेत्रफल ज्ञात कीजिए। [$\pi = \frac{22}{7}$ मानिए]

- Ans
- ✗ 1. 8132 cm^2
 - ✗ 2. 7032 cm^2
 - ✓ 3. 5412 cm^2
 - ✗ 4. 6112 cm^2

Question ID : 26433049986
Status : Answered
Chosen Option : 3

Q.18 दो ट्रेनें 70 km/h और 85 km/h की चाल से एक-दूसरे की ओर बढ़ रही हैं। उनकी लंबाइयां क्रमशः 210 m और 255 m हैं। वे एक दूसरे को पूरी तरह से पार करने में कितना समय लेंगी?

- Ans
- ✗ 1. 14.0 सेकंड
 - ✓ 2. 10.8 सेकंड
 - ✗ 3. 18.2 सेकंड
 - ✗ 4. 18.0 सेकंड

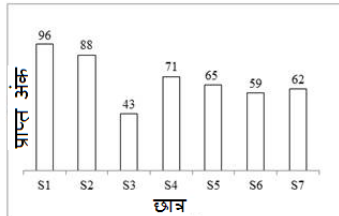
Question ID : 26433049509
Status : Answered
Chosen Option : 2

Q.19 रवि द्वारा खरीदी गई एक मेज का क्रय मूल्य ₹1,600 था। रवि ने इस मेज को 10% की हानि पर बेचा। रवि ने मेज किस मूल्य पर बेची?

- Ans
- ✓ 1. ₹1,440
 - ✗ 2. ₹1,510
 - ✗ 3. ₹1,380
 - ✗ 4. ₹1,520

Question ID : 26433049597
Status : Answered
Chosen Option : 1

Q.20 निम्न बार चार्ट, एक छात्र द्वारा एक परीक्षा में 7 अलग-अलग विषयों में प्राप्त अंक (100 में से) दर्शाता है।



S1 और S6 में प्राप्त कुल अंक, S4 में छात्र द्वारा प्राप्त अंकों के लगभग कितने प्रतिशत हैं?

- Ans
- ✗ 1. 236.32%
 - ✓ 2. 218.31%
 - ✗ 3. 206.11%
 - ✗ 4. 225.11%

Question ID : 26433049666
Status : Answered
Chosen Option : 2

Q.21 यदि $\frac{P}{3} = \frac{Q}{5} = \frac{R}{2}$ है, तो $(P + 2Q + 3R) : (P + Q + R)$ का मान ज्ञात कीजिए।

- Ans
- ✓ 1. 19 : 10
 - ✗ 2. 11 : 13
 - ✗ 3. 6 : 5
 - ✗ 4. 10 : 9

Question ID : 26433049655
Status : Answered
Chosen Option : 1

Q.22 एक वस्तु का विक्रय मूल्य इस वस्तु को बेचने पर हुई हानि का तीन गुना है। हानि प्रतिशत कितना है?

- Ans
- 1. 33.33%
 - 2. 40%
 - 3. 50%
 - 4. 25%

Question ID : 26433049623
Status : Answered
Chosen Option : 4

Q.23 यदि एक त्रिभुज की तीन भुजाएं 21 cm, 20 cm और 29 cm हैं, तो त्रिभुज का क्षेत्रफल ज्ञात कीजिए।

- Ans
- 1. 290 cm²
 - 2. 190 cm²
 - 3. 200 cm²
 - 4. 210 cm²

Question ID : 26433049442
Status : Answered
Chosen Option : 4

Q.24 यदि x का 35% = 700 का 42.5% है, तो x का मान ज्ञात कीजिए।

- Ans
- 1. 800
 - 2. 950
 - 3. 850
 - 4. 900

Question ID : 26433050050
Status : Answered
Chosen Option : 3

Q.25 200 और 400 के बीच ऐसी कितनी संख्याएं हैं जो 6 और 5 दोनों से विभाज्य हैं?

- Ans
- 1. 9
 - 2. 6
 - 3. 8
 - 4. 7

Question ID : 26433049612
Status : Answered
Chosen Option : 4

Section : General Awareness

Q.1 2011 की जनगणना के अनुसार, निम्नलिखित में से कौन सा भारत का सर्वाधिक जनसंख्या वाला महानगरीय शहर है?

- Ans
- 1. दिल्ली
 - 2. मुंबई
 - 3. चेन्नई
 - 4. कोलकाता

Question ID : 26433046830
Status : Answered
Chosen Option : 2

Q.2 सावी क्वाशिओरकोर से पीड़ित है। यह निम्नलिखित में से किसकी कमी के कारण होता है?

- Ans
- 1. आयरन की कमी
 - 2. प्रोटीन की कमी
 - 3. विटामिन A की कमी
 - 4. कैल्शियम की कमी

Question ID : 26433047049
Status : Answered
Chosen Option : 1

Q.3 निम्नलिखित मौर्य शासकों में से किसने 261 ईसा पूर्व में कलिंग युद्ध लड़ा था?

- Ans
- 1. बिंदुसार
 - 2. अशोक
 - 3. बृहद्रथ
 - 4. चंद्रगुप्त मौर्य

Question ID : 26433047031
Status : Answered
Chosen Option : 2

Q.4 निम्नलिखित में से कौन-सा, भारत के पूर्वी तट के पूर्ण या आंशिक भाग के लिए एक क्षेत्रीय नाम नहीं है?

- Ans
- 1. कोरोमंडल तट
 - 2. उत्कल तट
 - 3. तमिलनाडु तट
 - 4. मालाबार तट

Question ID : 26433047028
Status : Answered
Chosen Option : 3

Q.5 श्रम और रोजगार मंत्रालय ने मार्च 2022 में प्रधानमंत्री श्रम योगी मान-धन (PM-SYM) योजना के तहत शुरू किया।

- Ans
- 1. डोनेट-ए-पेंशन पहल
 - 2. अटल पेंशन योजना
 - 3. स्टैंड-अप इंडिया योजना
 - 4. इंडिया वाटर पिच-पायलट-स्केल स्टार्ट-अप चैलेंज

Question ID : 26433046993
Status : Answered
Chosen Option : 3

Q.6 _____ भारत का अंतरराष्ट्रीय हवाई वाहक है और विदेशी यातायात को संभालता है, जिसमें कार्गो और यात्री सेवाएं दोनों शामिल हैं।

- Ans
- 1. पवन हंस
 - 2. डब एयरलाइंस
 - 3. ताज एयर
 - 4. एयर इंडिया

Question ID : 26433047002
Status : Not Answered
Chosen Option : --

Q.7 रीता 'गिद्धा' नृत्य करती है। यह नृत्य शैली किस राज्य से संबंधित है?

- Ans
- 1. पंजाब
 - 2. उत्तराखंड
 - 3. हरियाणा
 - 4. राजस्थान

Question ID : 26433047045
Status : Answered
Chosen Option : 1

Q.8 UEFA यूरोपीय फुटबॉल चैम्पियनशिप 2020 की विजेता टीम कौन थी?

- Ans
- 1. स्पेन
 - 2. इंग्लैंड
 - 3. जर्मनी
 - 4. इटली

Question ID : 26433047465
Status : Not Answered
Chosen Option : --

Q.9 भारत की सीमा _____ में म्यांमार से लगती है।

- Ans
- 1. दक्षिण
 - 2. उत्तर
 - 3. पश्चिम
 - 4. पूर्व

Question ID : 26433047380
Status : Answered
Chosen Option : 4

Q.10 ऑस्कर 2009 में, निम्नलिखित भारतीय संगीतकारों में से किसे 'स्लमडॉग मिलियनेयर' में अपनी रचना के लिए 'सर्वश्रेष्ठ मूल गीत' का पुरस्कार मिला?

- Ans
- 1. लता मंगेशकर
 - 2. गुलजार
 - 3. ए.आर. रहमान
 - 4. आशा भोसले

Question ID : 26433047036
Status : Answered
Chosen Option : 3

Q.11 निम्नलिखित में से 1947 का कौन सा अधिनियम, ट्रेड यूनियनों के साथ-साथ वैयक्तिक कामगारों के संबंध में भारतीय श्रम कानून को विनियमित करता है?

- Ans
- 1. रॉलेट अधिनियम
 - 2. औद्योगिक विवाद अधिनियम
 - 3. भारतीय परिषद् अधिनियम
 - 4. चार्टर अधिनियम

Question ID : 26433047033
Status : Answered
Chosen Option : 2

Q.12 नमिता कार्यांतरित शैल के एक उदाहरण के बारे में बात करती है। वह निम्नलिखित में से कौन-सा हो सकता है?

- Ans
- 1. हैलाइट
 - 2. शेल
 - 3. संगमरमर
 - 4. चूना पत्थर

Question ID : 26433047001
Status : Answered
Chosen Option : 1

Q.13 निम्नलिखित में से कौन तुगलक वंश का शासक नहीं था?

- Ans
- 1. फिरोज शाह तुगलक
 - 2. रुकुनुद्दीन तुगलक
 - 3. मुहम्मद-बिन-तुगलक
 - 4. गयासुद्दीन तुगलक

Question ID : 26433047007
Status : Answered
Chosen Option : 2

Q.14 निम्नलिखित में से कौन सा त्योहार राजस्थान में मनाया जाता है?

- Ans
- 1. बूंदी उत्सव
 - 2. गुड़ी पड़वा
 - 3. माथो नारंग
 - 4. बोनालु

Question ID : 26433046896
Status : Answered
Chosen Option : 1

Q.15 बौद्ध वास्तुकला में स्तूप को श्रद्धांजलि अर्पित करने के लिए भक्तों के लिए पैदल मार्ग क्या कहलाता था?

- Ans
- 1. अंड
 - 2. तोरण
 - 3. मेधी
 - 4. छत्री

Question ID : 26433046997
Status : Answered
Chosen Option : 2

Q.16 _____ जीवित जीवों के क्षेत्र और पर्यावरण के साथ उनके पारस्परिक व्यवहार को इंगित करता है।

- Ans
- 1. स्थलमंडल (लिथोस्फियर)
 - 2. वायुमंडल (एटमोस्फियर)
 - 3. जीवमंडल (बायोस्फियर)
 - 4. जलमंडल (हाइड्रोस्फियर)

Question ID : 26433047025
Status : Answered
Chosen Option : 3

Q.17 निम्नलिखित में से वह कौन सा मानक साधन है जिसके द्वारा भारत में चुनाव कराए जाते हैं?

- Ans
- 1. ब्लॉकचेन
 - 2. मतपत्र (बैलट पेपर)
 - 3. इलेक्ट्रॉनिक वोटिंग मशीन
 - 4. ईमेल

Question ID : 26433047039
Status : Answered
Chosen Option : 3

Q.18 आयनिक यौगिक NaCl का रासायनिक नाम क्या है?

- Ans
- 1. लिथियम क्लोराइड
 - 2. सीज़ियम फ्लोराइड
 - 3. सोडियम क्लोराइड
 - 4. कैल्शियम आयोडाइड

Question ID : 26433046898
Status : Answered
Chosen Option : 3

Q.19 भारत की नई कर व्यवस्था के अनुसार, वित्तीय वर्ष 2022-23 के लिए आयकर छूट सीमा क्या है?

- Ans
- 1. ₹7,50,000 तक
 - 2. ₹5,00,000 तक
 - 3. ₹2,50,000 तक
 - 4. ₹1,00,000 तक

Question ID : 26433047042
Status : Answered
Chosen Option : 2

Q.20 भारतीय संविधान का कौन सा अनुच्छेद कानूनों के समान संरक्षण और कानून के समक्ष समानता प्रदान करता है?

- Ans
- 1. अनुच्छेद 60
 - 2. अनुच्छेद 42
 - 3. अनुच्छेद 14
 - 4. अनुच्छेद 30

Question ID : 26433047013
Status : Answered
Chosen Option : 2

Q.21 एफ.आई.डी.ई. (FIDE) 44वाँ शतरंज ओलंपियाड 2022, _____, भारत में 2022 की गर्मियों के दौरान आयोजित किया जाएगा।

- Ans
- 1. मुंबई
 - 2. गुड़गाँव
 - 3. कोलकाता
 - 4. चेन्नई

Question ID : 26433046766
Status : Not Answered
Chosen Option : --

Q.22 निम्नलिखित में से किसे आदिवासी नृत्य शैली 'गुसाड़ी' को जीवित रखने के लिए 2021 में पद्म श्री से सम्मानित किया गया था?

- Ans
- 1. पंडित बिरजू महाराज
 - 2. श्रीमंत शंकरदेव
 - 3. कनक राजू
 - 4. रामसहाय पांडे

Question ID : 26433047037
Status : Answered
Chosen Option : 4

Q.23 निम्नलिखित में से कौन फरवरी 2022 में जवाहरलाल नेहरू विश्वविद्यालय (JNU), भारत की पहली महिला कुलपति बनीं?

- Ans
- 1. शांतिश्री धूलिपुड़ी पंडित
 - 2. सुप्रिया सुले
 - 3. माधुरी दीक्षित
 - 4. स्मृति ईरानी

Question ID : 26433047019
Status : Answered
Chosen Option : 1

Q.24 एक नाटक में, नरेश ने कहा, "स्वराज मेरा जन्मसिद्ध अधिकार है और मैं इसे लेकर रहूँगा।" यह नारा निम्नलिखित में से किस भारतीय स्वतंत्रता सेनानी ने दिया था?

- Ans
- 1. महात्मा गांधी
 - 2. लोकमान्य बाल गंगाधर तिलक
 - 3. भगत सिंह
 - 4. अबिका चरण मजूमदार

Question ID : 26433047059
Status : Answered
Chosen Option : 2

Q.25 निम्नलिखित भारतीय लेखकों में से किसने भारत के राष्ट्रवादी आंदोलन के दौरान प्रसिद्ध उपन्यास 'गोरा' लिखा था?

- Ans
- 1. महात्मा गांधी
 - 2. जवाहरलाल नेहरू
 - 3. रवीन्द्रनाथ टैगोर
 - 4. भगत सिंह

Question ID : 26433047035
Status : Answered
Chosen Option : 3