

## Combined Higher Secondary Level Examination 2021 Tier I

Roll Number	<a href="http://www.exammix.com">www.exammix.com</a>
Candidate Name	
Venue Name	
Exam Date	24/05/2022
Exam Time	4:00 PM - 5:00 PM
Subject	CHSL 2021 Tier I

Section : **English Language**

**Q.1** Select the most appropriate synonym of the given word.  
**Confront**

- Ans  1. Mingle  
 2. Challenge  
 3. Scheme  
 4. Conceal

Question ID : 26433039836  
Status : **Answered**  
Chosen Option : 2

**Q.2** Select the most appropriate ANTONYM of the given word.  
**Praise**

- Ans  1. celebrate  
 2. Condemn  
 3. Secure  
 4. hail

Question ID : 26433042922  
Status : **Answered**  
Chosen Option : 2

**Q.3** Select the most appropriate ANTONYM of the given word.  
**Dwarf**

- Ans  1. Medium  
 2. Giant  
 3. Measurable  
 4. Tiny

Question ID : 26433043069  
Status : **Answered**  
Chosen Option : 2

**Q.4** Select the most appropriate meaning of the given idiom.  
**At one's elbow**

- Ans  1. Next to someone  
 2. Strong grip  
 3. Far away  
 4. Strong bond

Question ID : 26433043123  
Status : **Answered**  
Chosen Option : 1

**Q.5** The following sentence has been split into four segments. Identify the segment that contains a grammatical error.

Rahul sings / very sweet / when he is / in a good mood.

- Ans
- 1. in a good mood
  - 2. Rahul sings
  - 3. when he is
  - 4. very sweet

Question ID : 26433039683  
Status : Answered  
Chosen Option : 4

**Q.6** Select the most appropriate meaning of the given idiom.  
Lose your touch

- Ans
- 1. To be passed from one person to another
  - 2. Something being very difficult to find
  - 3. Not being as successful as previously
  - 4. Doing someone a favour in hopes that the favour will be returned

Question ID : 26433043138  
Status : Answered  
Chosen Option : 3

**Q.7** Select the most appropriate synonym of the given word.  
Bafflement

- Ans
- 1. Clarity
  - 2. Confusion
  - 3. Pleasure
  - 4. Cleanliness

Question ID : 26433039777  
Status : Answered  
Chosen Option : 2

**Q.8** In the following passage, some words have been deleted. Read the passage carefully and select the most appropriate option to fill in each blank.

When we believe that our mind is thinking \_\_\_\_\_ thoughts at the same time, what actually is happening is that \_\_\_\_\_ thoughts are \_\_\_\_\_ in such quick \_\_\_\_\_ so as to seem simultaneous

- Ans
- 1. multiple, myriad, alternating, succession
  - 2. challenging, limited, fixed, interruption
  - 3. uniform, countable, altering, ramification
  - 4. homogenous, measurable, unchanging, velocity

Question ID : 26433045606  
Status : Answered  
Chosen Option : 1

**Q.9** Select the most appropriate option to fill in the blank.

The writer declares that \_\_\_\_\_ children of their childhood is a criminal act.

- Ans
- 1. to rob
  - 2. robbed
  - 3. rob
  - 4. robbing

Question ID : 26433039928  
Status : Answered  
Chosen Option : 4

**Q.10** From among the words given in bold, select the INCORRECTLY spelt word in the following sentence.

**Small drops** trickled **down the red and yellow tassels** of **cannopies** and dampened **the heads of little boys**.

- Ans
- 1. trickled
  - 2. tassels
  - 3. cannopies
  - 4. dampened

Question ID : 26433043167  
Status : Not Answered  
Chosen Option : --

**Q.11** The following sentence has been split into four segments. Identify the segment that contains a grammatical error.

After / a long and fun-filled day, / the children / slept themselves peacefully.

- Ans
- 1. slept themselves peacefully
  - 2. After
  - 3. a long and fun-filled day
  - 4. the children

Question ID : 26433040041  
Status : Answered  
Chosen Option : 1

**Q.12** Select the most appropriate ANTONYM of the given word.  
**Detrimental**

- Ans
- 1. Baseless
  - 2. Senseless
  - 3. Harmless
  - 4. Meaningless

Question ID : 26433043067  
Status : Answered  
Chosen Option : 3

**Q.13** Select the most appropriate option that can substitute the underlined segment in the given sentence.

We want to divide the expenses between the three of us.

- Ans
- 1. from
  - 2. for
  - 3. among
  - 4. at

Question ID : 26433039696  
Status : Answered  
Chosen Option : 3

**Q.14** Select the most appropriate option to fill in the blank.

My grandfather was a farmer and he \_\_\_\_\_ three acres of land.

- Ans
- 1. advanced
  - 2. cultivated
  - 3. grown
  - 4. cultured

Question ID : 26433045417  
Status : Answered  
Chosen Option : 2

Q.15 Select the INCORRECTLY spelt word.

- Ans  1. Secretary  
 2. Performance  
 3. Valuable  
 4. Arguement

Question ID : 26433039860  
Status : Answered  
Chosen Option : 4

Q.16 The following sentence has been split into four segments. Identify the segment that contains a grammatical error.  
She had resign / from the / post before / he apologised.

- Ans  1. he apologised  
 2. post before  
 3. She had resign  
 4. from the

Question ID : 26433039734  
Status : Answered  
Chosen Option : 3

Q.17 Parts of a sentence are given below in jumbled order. Arrange the parts in the correct order to form a meaningful sentence.

- a) is credited with saying  
b) do not dry your feet  
c) If you want to leave your footprint on the sands of time,  
d) Dr. APJ Abdul Kalam, former President of India

- Ans  1. d,a,c,b  
 2. d,c,a,b  
 3. c,a,b,d  
 4. a,b,c,d,

Question ID : 26433039889  
Status : Answered  
Chosen Option : 1

Q.18 Select the option that can be used as a one-word substitute for the underlined group of words

Geeta is doubtful about getting hired as she is inexperienced at this job.

- Ans  1. Ace  
 2. Expert  
 3. Novice  
 4. Professional

Question ID : 26433045577  
Status : Answered  
Chosen Option : 3

Q.19 Select the most appropriate meaning of the given idiom.

Blow up

- Ans  1. To stand upright  
 2. To destroy by an explosion  
 3. To suffice  
 4. To live up greatly

Question ID : 26433042935  
Status : Answered  
Chosen Option : 2

**Q.20** Select the **INCORRECTLY** spelt word.

- Ans**  1. Judicial  
 2. Zealous  
 3. Laxuryous  
 4. Innocent

Question ID : **26433039796**  
Status : **Answered**  
Chosen Option : **3**

**Comprehension:**

In the following passage, some words have been deleted. Read the passage carefully and select the most appropriate option to fill in each blank.

Competition is a necessary prospect for (1)\_\_\_\_\_ individuals with particular qualities, but only those who can (2)\_\_\_\_\_ their minds to work, work hard every day, and prove themselves will be able to (3)\_\_\_\_\_ this arduous battle. It's a never-ending race to the finish line, and only those who put in the effort and dedication will make it to the end. The outcome of any exam does not (4)\_\_\_\_\_ on the last day, during your paper — your success is ensured with every morning that you put in work. Students must be aware of the tough environment they are entering and prepare (5)\_\_\_\_\_ in order to improve their chances.

**SubQuestion No : 21**

**Q.21** Select the most appropriate option to fill in blank number 1.

- Ans**  1. distinguishing  
 2. distinguish  
 3. distinguished  
 4. distinguishes

Question ID : **26433045851**  
Status : **Answered**  
Chosen Option : **2**

**Comprehension:**

In the following passage, some words have been deleted. Read the passage carefully and select the most appropriate option to fill in each blank.

Competition is a necessary prospect for (1)\_\_\_\_\_ individuals with particular qualities, but only those who can (2)\_\_\_\_\_ their minds to work, work hard every day, and prove themselves will be able to (3)\_\_\_\_\_ this arduous battle. It's a never-ending race to the finish line, and only those who put in the effort and dedication will make it to the end. The outcome of any exam does not (4)\_\_\_\_\_ on the last day, during your paper — your success is ensured with every morning that you put in work. Students must be aware of the tough environment they are entering and prepare (5)\_\_\_\_\_ in order to improve their chances.

**SubQuestion No : 22**

**Q.22** Select the most appropriate option to fill in blank number 2.

- Ans**  1. divert  
 2. get  
 3. put  
 4. made

Question ID : **26433045852**  
Status : **Answered**  
Chosen Option : **3**

**Comprehension:**

In the following passage, some words have been deleted. Read the passage carefully and select the most appropriate option to fill in each blank.

Competition is a necessary prospect for (1) \_\_\_\_\_ individuals with particular qualities, but only those who can (2) \_\_\_\_\_ their minds to work, work hard every day, and prove themselves will be able to (3) \_\_\_\_\_ this arduous battle. It's a never-ending race to the finish line, and only those who put in the effort and dedication will make it to the end. The outcome of any exam does not (4) \_\_\_\_\_ on the last day, during your paper — your success is ensured with every morning that you put in work. Students must be aware of the tough environment they are entering and prepare (5) \_\_\_\_\_ in order to improve their chances.

**SubQuestion No : 23**

**Q.23** Select the most appropriate option to fill in blank number 3.

- Ans**
- 1. overload
  - 2. overjoyed
  - 3. overpaid
  - 4. overcome

Question ID : 26433045853  
Status : Answered  
Chosen Option : 4

**Comprehension:**

In the following passage, some words have been deleted. Read the passage carefully and select the most appropriate option to fill in each blank.

Competition is a necessary prospect for (1) \_\_\_\_\_ individuals with particular qualities, but only those who can (2) \_\_\_\_\_ their minds to work, work hard every day, and prove themselves will be able to (3) \_\_\_\_\_ this arduous battle. It's a never-ending race to the finish line, and only those who put in the effort and dedication will make it to the end. The outcome of any exam does not (4) \_\_\_\_\_ on the last day, during your paper — your success is ensured with every morning that you put in work. Students must be aware of the tough environment they are entering and prepare (5) \_\_\_\_\_ in order to improve their chances.

**SubQuestion No : 24**

**Q.24** Select the most appropriate option to fill in blank number 4.

- Ans**
- 1. arrive
  - 2. awake
  - 3. abase
  - 4. arise

Question ID : 26433045854  
Status : Answered  
Chosen Option : 1

**Comprehension:**

In the following passage, some words have been deleted. Read the passage carefully and select the most appropriate option to fill in each blank.

Competition is a necessary prospect for (1)\_\_\_\_\_ individuals with particular qualities, but only those who can (2)\_\_\_\_\_ their minds to work, work hard every day, and prove themselves will be able to (3)\_\_\_\_\_ this arduous battle. It's a never-ending race to the finish line, and only those who put in the effort and dedication will make it to the end. The outcome of any exam does not (4)\_\_\_\_\_ on the last day, during your paper — your success is ensured with every morning that you put in work. Students must be aware of the tough environment they are entering and prepare (5)\_\_\_\_\_ in order to improve their chances.

**SubQuestion No : 25**

**Q.25** Select the most appropriate option to fill in blank number 5.

- Ans**  1. accordingly  
 2. exponentially  
 3. consequently  
 4. reluctantly

Question ID : 26433045855  
 Status : Answered  
 Chosen Option : 1

**Section : General Intelligence**

**Q.1** यदि A का अर्थ '+' है, B का अर्थ 'x' है, C का अर्थ '-' है और D का अर्थ '÷' है, तो निम्नलिखित समीकरण में '?' के स्थान पर क्या आएगा?  
 (13 B 9) D 3 A (14 D 7) B 6 C 21 A (32 B 2) = ?

- Ans**  1. 112  
 2. 96  
 3. 94  
 4. 100

Question ID : 26433043367  
 Status : Answered  
 Chosen Option : 3

**Q.2** दी गई श्रृंखला को पूरा करने के लिए कौन-सा अक्षर समूह प्रश्न चिह्न (?) के स्थान पर आएगा?  
 WFBI, UCWB, SZRU, ?

- Ans**  1. QWMN  
 2. QWNN  
 3. QXMN  
 4. QXNN

Question ID : 26433043515  
 Status : Answered  
 Chosen Option : 1

**Q.3** उस विकल्प का चयन करें जो तीसरे पद से उसी प्रकार संबंधित है जिस प्रकार दूसरा पद पहले पद से संबंधित है और छठा पद पांचवें पद से संबंधित है।  
 16 : 69 :: 24 : ? :: 31 : 144

- Ans**  1. 105  
 2. 109  
 3. 121  
 4. 116

Question ID : 26433045041  
 Status : Answered  
 Chosen Option : 2

Q.4 निम्नलिखित में से कौन सा अक्षर-समूह दी गई श्रृंखला को तार्किक रूप से पूर्ण बनाने के लिए इसमें प्रश्नवाचक चिन्ह (?) को प्रतिस्थापित करेगा?  
WVE, UTG, SRI, QPK, ?

- Ans
- 1. NMO
  - 2. MNO
  - 3. MON
  - 4. ONM

Question ID : 26433045156  
Status : Answered  
Chosen Option : 4

Q.5 जब दर्पण को निम्नांकित चित्र के अनुसार XY पर रखा जाता है, तो दिए गए संयोजन का सही दर्पण प्रतिबिंब चयनित करें।

X  
9P7N5L  
Y

- Ans
- 1. L2N7P9
  - 2. 6JLN5T
  - 3. 7PN5L
  - 4. L2N7P9

Question ID : 26433040499  
Status : Answered  
Chosen Option : 4

Q.6 निम्नलिखित में से कौन-सी संख्या दी गई श्रृंखला में प्रश्न चिह्न (?) को प्रतिस्थापित करेगी?  
15, 27, 12, ?, 9, 33

- Ans
- 1. 18
  - 2. 26
  - 3. 29
  - 4. 30

Question ID : 26433040582  
Status : Answered  
Chosen Option : 4

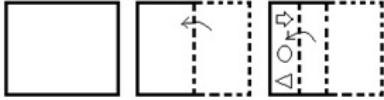
Q.7 दिए गए संख्या युग्मों में दूसरी संख्या पहली संख्या पर एक निश्चित गणितीय संक्रिया(एँ) करके प्राप्त की गई है। एक संख्या युग्म को छोड़कर सभी संख्या युग्मों में समान गणितीय संक्रिया(ओं) का अनुसरण किया गया है। उस असंगत संख्या युग्म को ज्ञात करें।

- Ans
- 1. 18:1620
  - 2. 16:1024
  - 3. 14:784
  - 4. 12:576

Question ID : 26433043583  
Status : Answered  
Chosen Option : 1



Q.8 नीचे आकृति में दिखाए गए अनुसार एक कागज को मोड़ा और काटा जाता है।  
खोले जाने पर यह कैसा दिखेगा?



Ans

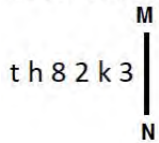
- ✗ 1.
- ✓ 2.
- ✗ 3.
- ✗ 4.

Question ID : 26433044960

Status : Answered

Chosen Option : 2

Q.9 जब दर्पण को दर्शाए गए तरीके से MN पर रखा जाता है तो दिए गए संयोजन की सही दर्पण छवि का चयन कीजिए।



Ans

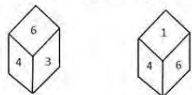
- ✗ 1.
- ✗ 2.
- ✓ 3.
- ✗ 4.

Question ID : 26433040558

Status : Answered

Chosen Option : 3

Q.10 एक ही पासे की दो अलग-अलग स्थितियां दर्शायी गयी हैं, जिसके छह फलकों पर 1 से 6 तक संख्याएं अंकित की गई हैं। उस संख्या का चयन करें जो '3' दर्शाने वाले फलक के विपरीत फलक पर होगी।



Ans

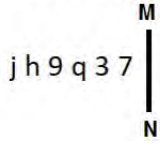
- ✗ 1. 6
- ✓ 2. 1
- ✗ 3. 2
- ✗ 4. 4

Question ID : 26433040402

Status : Answered

Chosen Option : 2

Q.11 जब दर्पण को दर्शाए गए तरीके से MN पर रखा जाता है तो दिए गए संयोजन की सही दर्पण छवि का चयन कीजिए।



Ans

1.  $\angle \varepsilon b 6 y !$   
 2.  $\angle \varepsilon p e d j$   
 3.  $\angle \varepsilon b e d j !$   
 4.  $\angle \varepsilon b e d j$

Question ID : 26433040545  
Status : Answered  
Chosen Option : 2

Q.12 निम्नलिखित में से कौन-सी संख्या दी गई श्रृंखला में प्रश्न चिह्न (?) को प्रतिस्थापित करेगी?  
19, 38, 35, ?, 135, 810

Ans

1. 146  
 2. 140  
 3. 137  
 4. 142

Question ID : 26433040577  
Status : Answered  
Chosen Option : 2

Q.13 दिए गए संख्या युग्मों में दूसरी संख्या, पहली संख्या पर निश्चित गणितीय संक्रिया/संक्रियाएं करके प्राप्त की गई है। निम्नांकित विकल्पों में दिए गए संख्या युग्मों में से एक को छोड़कर शेष सभी में वही संक्रिया/संक्रियाएं अपनाई गई है/हैं। उस असंगत संख्या युग्म का चयन कीजिए।

Ans

1. 440 : 411  
 2. 361 : 332  
 3. 533 : 504  
 4. 520 : 481

Question ID : 26433040660  
Status : Answered  
Chosen Option : 4

Q.14 दिए गए विकल्पों में उस विकल्प का चयन कीजिए जो पांचवीं संख्या से उसी प्रकार संबंधित है जिस प्रकार दूसरी संख्या पहली संख्या से संबंधित है और चौथी संख्या तीसरी संख्या से संबंधित है।

24 : -192 :: -31 : 248 :: -18 : ?

Ans

1. -146  
 2. 144  
 3. -152  
 4. 148

Question ID : 26433043302  
Status : Answered  
Chosen Option : 2

Q.15 किसी निश्चित कोड भाषा में, "FAMOUS" को "AFOMSU" के रूप में लिखा गया है, और "FINGER" को "IFGNRE" के रूप में लिखा गया है। उसी भाषा में "INVEST" को किस प्रकार लिखा जाएगा?

- Ans
- 1. NIEVST
  - 2. NIVETS
  - 3. NIEVTS
  - 4. NEIVTS

Question ID : 26433043485  
Status : Answered  
Chosen Option : 3

Q.16 उस विकल्प का चयन करें जो पांचवें पद से उसी प्रकार संबंधित है जिस प्रकार दूसरा पद, पहले पद से संबंधित है और चौथा पद, तीसरे पद से संबंधित है।  
NUMBER : UNNYRE :: MOTHER : OMGSRE :: FINGER : ?

- Ans
- 1. IFTMRE
  - 2. IFDHRE
  - 3. IFMTRE
  - 4. IFGNRE

Question ID : 26433043249  
Status : Answered  
Chosen Option : 3

Q.17 तीन कथन दिए गए हैं, जिनके बाद तीन निष्कर्ष I, II और III दिए गए हैं। कथनों को सत्य मानते हुए, भले ही वे सामान्यतः ज्ञात तथ्यों से भिन्न प्रतीत होते हों, निर्णय कीजिए कि दिए गए निष्कर्षों में से कौन सा/से कथनों का तार्किक रूप से अनुसरण करता/करते है/हैं।

कथन:

कुछ मक्खन, शहद हैं।

कुछ शहद, ब्रेड हैं।

सभी ब्रेड, जैम हैं।

निष्कर्ष:

I. कुछ जैम, शहद हैं।

II. सभी शहद, मक्खन हैं।

III. कुछ जैम, मक्खन हैं।

- Ans
- 1. केवल निष्कर्ष I और II अनुसरण करते हैं
  - 2. केवल निष्कर्ष I और III अनुसरण करते हैं
  - 3. केवल निष्कर्ष II अनुसरण करता है
  - 4. केवल निष्कर्ष I अनुसरण करता है

Question ID : 26433040741  
Status : Answered  
Chosen Option : 4

Q.18 एक निश्चित कूट भाषा में, 'KITCHEN' को 'LHUBIDO' के रूप में लिखा जाता है और 'HUSBAND' को 'ITTABME' के रूप में लिखा जाता है। उसी भाषा में 'ELEMENT' को कैसे लिखा जाएगा?

- Ans
- 1. FKFLFMU
  - 2. FKGLFNU
  - 3. FKFLFNU
  - 4. FJFLGNV

Question ID : 26433039302  
Status : Answered  
Chosen Option : 1

Q.19 यदि 21 जून 2007 को गुरुवार था, तो 21 जून 2011 को सप्ताह का कौन सा दिन था?

- Ans  1. मंगलवार  
 2. बुधवार  
 3. रविवार  
 4. सोमवार

Question ID : 26433040440  
 Status : Answered  
 Chosen Option : 1

Q.20 दिए गए पैटर्न का ध्यानपूर्वक अध्ययन करें और उस संख्या का चयन करें जो इसमें प्रश्रवाचक चिह्न (?) के स्थान पर आ सकती है।

पहली पंक्ति- 3, 43, 4

दूसरी पंक्ति- 6, 241, 5

तीसरी पंक्ति- 2, ?, 11

(ध्यान दें: संख्याओं को उनके घटक अंकों में विभाजित किए बिना, पूर्ण संख्याओं पर गणितीय संक्रियाएं की जानी चाहिए। उदाहरण के लिए 13 के मामले में - जोड़ने / घटाने / गुणा करने आदि जैसी गणितीय संक्रियाएं 13 पर की जा सकती हैं। 13 को 1 और 3 में तोड़कर और फिर 1 और 3 पर गणितीय संक्रियाएं करने की अनुमति नहीं है।)

- Ans  1. 137  
 2. 129  
 3. 173  
 4. 192

Question ID : 26433045258  
 Status : Answered  
 Chosen Option : 2

Q.21 एक निश्चित कूट भाषा में, 'ADVISORY' को 'BFYMRMOU' के रूप में लिखा जाता है और 'CHAMPION' को 'DJDQOGLJ' के रूप में लिखा जाता है। उसी भाषा में 'DESIGNER' को कैसे लिखा जाएगा?

- Ans  1. EGVNFLCN  
 2. EGUMFMCN  
 3. EGVNFLBN  
 4. EGVNFLBN

Question ID : 26433039308  
 Status : Answered  
 Chosen Option : 3

Q.22 दिए गए पैटर्न का ध्यानपूर्वक अध्ययन करें और उस संख्या का चयन करें जो इसमें प्रश्रवाचक चिह्न (?) के स्थान पर आ सकती है।

पहली पंक्ति- 9, 21, 124

दूसरी पंक्ति- 11, 25, 148


तीसरी पंक्ति- 17, ?, 220

(ध्यान दें: संख्याओं को उनके घटक अंकों में विभाजित किए बिना, पूर्ण संख्याओं पर गणितीय संक्रियाएं की जानी चाहिए। उदाहरण के लिए 13 के मामले में - जोड़ने / घटाने / गुणा करने आदि जैसी गणितीय संक्रियाएं 13 पर की जा सकती हैं। 13 को 1 और 3 में तोड़कर और फिर 1 और 3 पर गणितीय संक्रियाएं करने की अनुमति नहीं है।)

- Ans  1. 34  
 2. 37  
 3. 35  
 4. 30

Question ID : 26433045250  
 Status : Not Answered  
 Chosen Option : --

Q.23 दी गई आकृति में कितने त्रिभुज हैं?



- Ans
- 1. 22
  - 2. 18
  - 3. 24
  - 4. 20

Question ID : 26433040533  
Status : Answered  
Chosen Option : 4

Q.24 उस विकल्प का चयन करें जो दिए गए शब्दों के उस सही क्रम का निरूपण करता है जैसे कि वे एक अंग्रेजी शब्दकोश में दिखाई देंगे।

1. Adequate
2. Adoption
3. Addiction
4. Abduction
5. Advertisement

- Ans
- 1. 4,3,1,2,5
  - 2. 4,2,1,3,5
  - 3. 3,1,4,2,5
  - 4. 3,2,4,1,5

Question ID : 26433040361  
Status : Answered  
Chosen Option : 1

Q.25 निम्नलिखित में से कौन-सी संख्या दी गई श्रृंखला में प्रश्न चिह्न (?) को प्रतिस्थापित करेगी?  
13,14,23,48,97,178,?

- Ans
- 1. 299
  - 2. 269
  - 3. 259
  - 4. 278

Question ID : 26433043276  
Status : Answered  
Chosen Option : 1

Section : Quantitative Aptitude

Q.1  $(957+932)^2 - 4 \times 957 \times 932$  को सरल करें।

- Ans  1. 625  
 2. 529  
 3. 676  
 4. 576

Question ID : 26433039268  
 Status : Answered  
 Chosen Option : 1

Q.2 ₹18 प्रति kg के मूल्य वाले 5 kg गेहूँ को 2 kg अन्य प्रकार के गेहूँ के साथ मिलाकर ₹20 प्रति kg के मूल्य वाला मिश्रण प्राप्त होता है। महंगे वाले गेहूँ का मूल्य (प्रति kg में) ज्ञात करें।

- Ans  1. ₹29  
 2. ₹27  
 3. ₹25  
 4. ₹30

Question ID : 26433042685  
 Status : Answered  
 Chosen Option : 3

Q.3 यदि  $a+2b=27$  और  $a^3 + 8b^3 = 5427$  है, तो  $2ab$  का मान ज्ञात करें।

- Ans  1. 176  
 2. 156  
 3. 149  
 4. 172

Question ID : 26433041353  
 Status : Answered  
 Chosen Option : 1

Q.4 एक सरकारी योजना में, अगर बिजली का बिल नियत तारीख से पहले चुकाया जाता है, तो बिल की राशि पर 5% की छूट मिलती है। नियत तारीख से पहले बिल का भुगतान कर के एक व्यक्ति को ₹20 की छूट मिली। उसके बिजली के बिल की राशि कितनी थी?

- Ans  1. ₹520  
 2. ₹400  
 3. ₹420  
 4. ₹440

Question ID : 26433042479  
 Status : Answered  
 Chosen Option : 2

Q.5 निम्नलिखित में से कौन-सी संख्या 3 से विभाज्य है?

- Ans  1. 3262735  
 2. 7345932  
 3. 3642589  
 4. 5439763

Question ID : 26433042679  
 Status : Answered  
 Chosen Option : 2

Q.6 वार्षिक रूप से चक्रवृद्धि ब्याज की एक निश्चित दर पर, एक राशि 2 साल में ₹10,890 और 3 साल में ₹11,979 हो जाती है। राशि ज्ञात करें:

- Ans
- 1. ₹8,000
  - 2. ₹8,500
  - 3. ₹9,500
  - 4. ₹9,000

Question ID : 26433041429

Status : Answered

Chosen Option : 4

Q.7 दो वृत्त, जिनकी त्रिज्याएँ क्रमशः 12 cm और 8 cm हैं, एक दूसरे को बाह्य रूप से स्पर्श करते हैं। इन वृत्तों पर एक उभयनिष्ठ स्पर्श रेखा खींची जाती है, जो वृत्तों को क्रमशः M और N पर स्पर्श करती है। MN की लंबाई (cm में) क्या होगी?

- Ans
- 1.  $6\sqrt{6}$
  - 2.  $6\sqrt{8}$
  - 3.  $8\sqrt{6}$
  - 4.  $8\sqrt{8}$

Question ID : 26433038649

Status : Answered

Chosen Option : 3

Q.8 यदि किसी भिन्न के अंश में 50% की वृद्धि की जाए और उसके हर में 28% की कमी की जाए, तो भिन्न का मान  $\frac{25}{36}$  हो जाता है। मूल भिन्न ज्ञात करें।

- Ans
- 1.  $\frac{1}{5}$
  - 2.  $\frac{2}{3}$
  - 3.  $\frac{2}{5}$
  - 4.  $\frac{1}{3}$

Question ID : 26433042690

Status : Answered

Chosen Option : 4

Q.9 अवि और बिंदु एक प्रोजेक्ट को क्रमशः चार और बारह घंटे में पूरा कर सकते हैं। यदि अवि 5 a.m. पर प्रोजेक्ट आरंभ करता है और वे वैकल्पिक रूप से, प्रत्येक एक-एक घंटे के लिए कार्य करते हैं, तो प्रोजेक्ट कब पूरा होगा?

- Ans
- 1. 11 a.m.
  - 2. 9 a.m.
  - 3. 1 p.m.
  - 4. 10 a.m.

Question ID : 26433044050

Status : Answered

Chosen Option : 1

Q.10 यदि एक गोले का पृष्ठीय क्षेत्रफल  $1386 \text{ cm}^2$  है, तो गोले की त्रिज्या ज्ञात कीजिए।

- Ans
- 1. 10 cm
  - 2. 12 cm
  - 3. 10.5 cm
  - 4. 12.5 cm

Question ID : 26433044057  
Status : Answered  
Chosen Option : 3

Q.11 किसी वस्तु को अंकित मूल्य से ₹28 कम में बेचने पर भी एक दुकानदार को 20% का लाभ होता है। यदि वस्तु का क्रय मूल्य ₹560 है और इसे अंकित मूल्य पर ही बेचा जाता, तो लाभ प्रतिशत कितना होता?

- Ans
- 1. 20%
  - 2. 30%
  - 3. 15%
  - 4. 25%

Question ID : 26433038860  
Status : Answered  
Chosen Option : 4

Q.12 दो प्रत्याशियों के बीच हुए एक चुनाव में, पात्र मतदाताओं में से 80 प्रतिशत ने अपना वोट डाला, डाले गए 5% मतों को अवैध घोषित कर दिया गया। एक प्रत्याशी को 10545 मत मिले, जो कुल वैध मतों का 75% था। पात्र मतदाताओं की कुल संख्या ज्ञात करें।

- Ans
- 1. 18500
  - 2. 17800
  - 3. 18250
  - 4. 18000

Question ID : 26433044276  
Status : Answered  
Chosen Option : 1

Q.13 एक दुकानदार एक किताब को मुद्रित मूल्य पर 10% की छूट से बेचने पर 12% का लाभ अर्जित करता है। क्रय मूल्य और मुद्रित मूल्य का अनुपात कितना है?

- Ans
- 1. 45 : 56
  - 2. 55 : 38
  - 3. 56 : 45
  - 4. 38 : 55

Question ID : 26433042384  
Status : Answered  
Chosen Option : 1



Q.14 यदि एक गोले का पृष्ठीय क्षेत्रफल  $64\pi \text{ cm}^2$  है, तो उसका आयतन कितना होगा?

- Ans
- 1.  $\frac{226}{3} \pi \text{ cm}^3$
  - 2.  $\frac{256}{3} \pi \text{ cm}^3$
  - 3.  $\frac{251}{5} \pi \text{ cm}^3$
  - 4.  $\frac{241}{3} \pi \text{ cm}^3$

Question ID : 26433044126  
Status : Answered  
Chosen Option : 2

Q.15  $\cot 75^\circ = 2 - \sqrt{3}$  है।  $\cot 15^\circ$  का मान ज्ञात कीजिए।

- Ans
- 1.  $2 + \sqrt{3}$
  - 2.  $\sqrt{3} + 1$
  - 3.  $2 - \sqrt{3}$
  - 4.  $\sqrt{3} - 1$

Question ID : 26433044326  
Status : Answered  
Chosen Option : 1

Q.16 संख्याओं 5, 6 और 8 का चतुर्थानुपाती क्या है?

- Ans
- 1. 9.6
  - 2. 9.5
  - 3. 9.8
  - 4. 9

Question ID : 26433041589  
Status : Answered  
Chosen Option : 1

Q.17 यदि  $x + \frac{1}{x} = -2\sqrt{3}$  है, तो  $x^5 + \frac{1}{x^5}$  का मान ज्ञात कीजिए।

- Ans
- 1.  $-180\sqrt{3}$
  - 2.  $-178\sqrt{3}$
  - 3.  $-182\sqrt{3}$
  - 4.  $182\sqrt{3}$

Question ID : 26433044335  
Status : Answered  
Chosen Option : 2

Q.18 एक कक्षा में 39 विद्यार्थी हैं और उनका औसत भार 51 kg है। यदि हम शिक्षक का वजन शामिल करते हैं, तो औसत वजन 51.2 kg हो जाता है। शिक्षक का वजन क्या है?

- Ans  1. 51 kg  
 2. 59 kg  
 3. 53 kg  
 4. 57 kg

Question ID : 26433041516  
 Status : Answered  
 Chosen Option : 2

Q.19 पुस्तकों के एक सेट को पैक करने के लिए, गौतम एक निश्चित ऊँचाई के कार्टन लाया जो 48 इंच लंबे और 27 इंच चौड़े थे। यदि ऐसे कार्टन का आयतन 22.5 घन फीट (क्यूबिक फीट) था, तो प्रत्येक कार्टन की ऊँचाई क्या थी? [1 फुट = 12 इंच लें]

- Ans  1. 36 इंच  
 2. 30 इंच  
 3. 32 इंच  
 4. 32.5 इंच

Question ID : 26433043972  
 Status : Answered  
 Chosen Option : 2

Q.20 निम्नलिखित पाई चार्ट एक कॉलेज पार्टी में 60 छात्रों द्वारा पहनी गई विभिन्न रंगों की पोशाकें दर्शाता है। पाई चार्ट का अध्ययन कीजिए और नीचे दिए गए प्रश्न का उत्तर दीजिए।



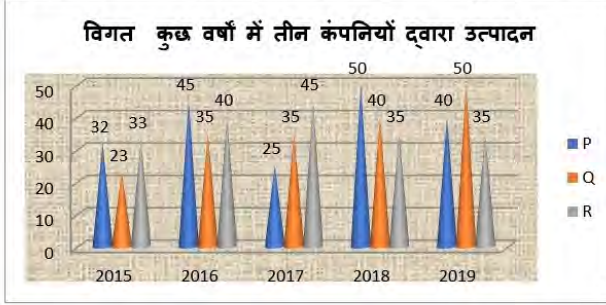
पीले रंग की पोशाक (10% का प्रतिनिधित्व करने वाला त्रिज्यखंड) पहनने वाले छात्रों की संख्या कितनी है?

- Ans  1. 12  
 2. 6  
 3. 10  
 4. 20

Question ID : 26433045943  
 Status : Answered  
 Chosen Option : 2

Q.21

निम्न ग्राफ विगत कुछ वर्षों में तीन अलग-अलग कंपनियों P, Q और R द्वारा बिजली के तारके उत्पादन के आंकड़े (हजार टन में) दर्शाता है।



2017-2019 की अवधि में कंपनी P के औसत उत्पादन और समान अवधि में कंपनी Q के औसत उत्पादन का अनुपात कितना है?

- Ans
- 1. 4 : 5
  - 2. 25 : 23
  - 3. 5 : 4
  - 4. 23 : 25

Question ID : 26433042402  
Status : Answered  
Chosen Option : 4

Q.22 एक पुलिसकर्मी एक चोर को 225 मीटर की दूरी से देखता है। जब पुलिसकर्मी उसका पीछा करने लगता है तो चोर भी भागने लगता है। यह मानकर कि चोर की चाल 11 km/h है और पुलिसकर्मी की चाल 13 km/h है, गणना करें कि पुलिसकर्मी द्वारा पकड़े जाने से पहले चोर कितनी दूर भाग चुका होगा?

- Ans
- 1. 1137.5 मीटर
  - 2. 1357.5 मीटर
  - 3. 1256.5 मीटर
  - 4. 1237.5 मीटर

Question ID : 26433042618  
Status : Answered  
Chosen Option : 4

Q.23 निम्नलिखित का मान ज्ञात करें:

$$(4^3 + 4) \div [5^2 - (7^2 - 41)]$$

- Ans
- 1. 17
  - 2. 4
  - 3. 5
  - 4. 8

Question ID : 26433038609  
Status : Answered  
Chosen Option : 2

Q.24 निम्न तालिका 5 वर्षों में इलेक्ट्रॉनिक चिप की बिक्री को दर्शाती है। वह वर्ष ज्ञात कीजिए जिसमें बिक्री 5 वर्षों में बिक्री के औसत के बराबर है।

वर्ष	2015	2016	2017	2018	2019
बिक्री (हजार रुपयों में)	45	54	57	60	69

- Ans  1. 2018  
 2. 2017  
 3. 2016  
 4. 2015

Question ID : 26433044240  
 Status : Answered  
 Chosen Option : 2

Q.25 एक धनराशि पर 16% की वार्षिक चक्रवृद्धि ब्याज दर पर 2 वर्षों में प्राप्त मिश्रधन ₹3,364 है। वह धनराशि ज्ञात कीजिए।

- Ans  1. ₹2,500  
 2. ₹3,800  
 3. ₹2,200  
 4. ₹1,800

Question ID : 26433044108  
 Status : Answered  
 Chosen Option : 1

Section : General Awareness

Q.1 भारत सरकार के पर्यावरण और वन मंत्रालय के तहत एक वैधानिक स्वायत्त निकाय, राष्ट्रीय जैव विविधता प्राधिकरण की स्थापना किस वर्ष में हुई थी?

- Ans  1. 2010  
 2. 2000  
 3. 2006  
 4. 2003

Question ID : 26433044770  
 Status : Not Answered  
 Chosen Option : --

Q.2 भारतीय शास्त्रीय नृत्य की मोहिनीअट्टम शैली की निम्नलिखित में से किस नृत्यांगना को 2013 में देवदासी राष्ट्रीय पुरस्कार से सम्मानित किया गया था?

- Ans  1. जयप्रभा मेनन  
 2. सुनंदा नायर  
 3. स्मिता राजन  
 4. गोपिका वर्मा

Question ID : 26433042344  
 Status : Not Answered  
 Chosen Option : --

Q.3 21 जनवरी 2022 को, तीन राज्यों ने अपना 50वां स्थापना दिवस मनाया, निम्नलिखित में से कौन-सा राज्य इन तीन राज्यों में शामिल नहीं है?

- Ans
- 1. मेघालय
  - 2. त्रिपुरा
  - 3. नागालैंड
  - 4. मणिपुर

Question ID : 26433041815  
Status : Answered  
Chosen Option : 3

Q.4 चेकमेट शब्द का प्रयोग निम्नलिखित में से किस खेल में किया जाता है?

- Ans
- 1. क्रिकेट
  - 2. हॉकी
  - 3. शतरंज
  - 4. बैडमिंटन

Question ID : 26433044519  
Status : Answered  
Chosen Option : 3

Q.5 निम्नलिखित में से कौन स्वतंत्र भारत की पहली महिला शास्त्रीय नृत्यांगना थी जिन्हें राज्य सभा के सदस्य के रूप में नामित किया गया था?

- Ans
- 1. रुक्मिणी देवी अरुंडेल
  - 2. विद्यागौरी अदकर
  - 3. निवेदिता अर्जुन
  - 4. कलामंडलम कल्याणीकुट्टी अम्मा

Question ID : 26433038790  
Status : Not Answered  
Chosen Option : --

Q.6 प्रकाशिकी में, किसी पदार्थ का अपवर्तनांक सूत्र  $n = c/v$  से दर्शाया जाता है, जहां  $c$  निम्न है:

- Ans
- 1. माध्यम में प्रकाश की गति
  - 2. वक्रता केंद्र
  - 3. गोले की त्रिज्या
  - 4. निर्वात में प्रकाश की गति

Question ID : 26433044806  
Status : Not Answered  
Chosen Option : --

Q.7 भारत में निम्नलिखित में से कौन-सी चूना पत्थर की गुफा है?

- Ans
- 1. बोर्डा गुफाएं
  - 2. उंदावल्ली गुफाएं
  - 3. वराह गुफा
  - 4. भीमबेटका गुफाएं

Question ID : 26433042010  
Status : Not Answered  
Chosen Option : --

Q.8 शंभू महाराज को भारत में निम्नलिखित में से किस नृत्य में उनके योगदान के लिए पद्म श्री से सम्मानित किया गया था?

- Ans  1. कथक  
 2. मणिपुरी  
 3. भरतनाट्यम  
 4. कुचिपुड़ी

Question ID : 26433041766  
Status : Answered  
Chosen Option : 1

Q.9 निम्नलिखित में से किसने पैरा शूटिंग में मेजर ध्यानचंद खेल रत्न पुरस्कार 2021 प्राप्त किया ?

- Ans  1. गगन नारंग  
 2. मनु भाकेर  
 3. अवनि लेखरा  
 4. अपूर्वी चंदेला

Question ID : 26433041851  
Status : Answered  
Chosen Option : 3

Q.10 दुनिया का सबसे बड़ा महाद्वीपीय शेल्फ (continental shelf) कौन-सा है?

- Ans  1. प्रशांत महासागर का शेल्फ  
 2. हिंद महासागर का शेल्फ  
 3. आर्कटिक महासागर का साइबेरियाई शेल्फ  
 4. भारत का शेल्फ

Question ID : 26433041874  
Status : Not Answered  
Chosen Option : --

Q.11 "राज्य, किसी भी नागरिक के साथ धर्म, मूलवंश, जाति, लिंग, जन्मस्थान या इनमें से किसी के आधार पर कोई भेदभाव नहीं करेगा"। यह किस अनुच्छेद में दिया गया है?

- Ans  1. अनुच्छेद 19  
 2. अनुच्छेद 23  
 3. अनुच्छेद 14  
 4. अनुच्छेद 15

Question ID : 26433042098  
Status : Answered  
Chosen Option : 3

Q.12 निम्नलिखित में से कौन सा संस्मरण हिंदी फिल्मों के प्रसिद्ध क्लासिक भारतीय अभिनेता देव आनंद द्वारा लिखा गया था?

- Ans  1. दी सब्सटांस एंड दी शैडो  
 2. रोमांसिंग विद लाइफ  
 3. ऑटोबायोग्राफी ऑफ़ एन एक्टर  
 4. क्रेकिंग द कोड: माई जर्नी इन बॉलीवुड

Question ID : 26433042293  
Status : Answered  
Chosen Option : 2

Q.13 निम्नलिखित में से किसे अकेले ही संतूर को एक लोकप्रिय शास्त्रीय वाद्य यंत्र बनाने का श्रेय दिया जाता है?

- Ans
- 1. उल्हास बापट
  - 2. राहुल शर्मा
  - 3. शिव कुमार शर्मा
  - 4. भजन सोपौरी

Question ID : 26433041951  
Status : Not Answered  
Chosen Option : --

Q.14 नाइट्रोमेथेन (nitromethane) का सही रासायनिक सूत्र कौन-सा है।

- Ans
- 1.  $\text{CH}_4\text{NO}_2$
  - 2.  $\text{CH}_3\text{NO}_3$
  - 3.  $\text{CH}_3\text{NO}_2$
  - 4.  $\text{CH}_3\text{NO}$

Question ID : 26433039396  
Status : Answered  
Chosen Option : 1

Q.15 जुलाई 2021 में शिक्षा, कौशल विकास और उद्यमिता मंत्री बनने से पहले धर्मेंद्र प्रधान के पास निम्नलिखित में से कौन-सा मंत्रालय था?

- Ans
- 1. सूचना और प्रसारण और खेल मंत्रालय
  - 2. आवास और शहरी विकास मंत्रालय
  - 3. खाद्य प्रसंस्करण उद्योग मंत्रालय
  - 4. पेट्रोलियम और प्राकृतिक गैस और इस्पात मंत्रालय

Question ID : 26433044392  
Status : Answered  
Chosen Option : 4

Q.16 किस फ्रांसीसी रसायनज्ञ ने 1806 में अपने प्रयोग का सारांश प्रस्तुत किया और सिद्ध किया कि यौगिक के स्रोत की परवाह किए बिना, रासायनिक यौगिक में तत्वों का द्रव्यमान अनुपात हमेशा समान होता है?

- Ans
- 1. जोसेफ प्राउस्ट
  - 2. जैकब बर्ज़ेलियस
  - 3. रॉबर्ट बॉयल
  - 4. जॉन डाल्टन

Question ID : 26433044715  
Status : Not Answered  
Chosen Option : --

Q.17 संगीत के दिग्गज पंडित रविशंकर, संगीत की निम्नलिखित में से किस शैली के लिए प्रसिद्ध हैं?

- Ans
- 1. कर्नाटक शास्त्रीय वादन
  - 2. कर्नाटक शास्त्रीय गायन
  - 3. हिंदुस्तानी शास्त्रीय गायन
  - 4. हिंदुस्तानी शास्त्रीय वादन

Question ID : 26433041745  
Status : Not Answered  
Chosen Option : --

Q.18 एनबीएफसी-एमएफआई (NBFC- MFI) के लिए, व्यक्तिगत ऋणों हेतु न्यूनतम और अधिकतम ब्याज दर के बीच अधिकतम अनुमेय अंतर \_\_\_\_\_ है।

- Ans
- 1. 2 प्रतिशत से कम नहीं हो सकता
  - 2. 4 प्रतिशत से अधिक नहीं हो सकता
  - 3. 2 प्रतिशत से अधिक नहीं हो सकता
  - 4. 4 प्रतिशत से कम नहीं हो सकता

Question ID : 26433044535  
Status : Not Answered  
Chosen Option : --

Q.19 निम्नलिखित में से कौन सा रैकेट से खेला जाने वाला खेल है?

- Ans
- 1. स्कैश
  - 2. क्रिकेट
  - 3. वॉलीबॉल
  - 4. बेसबॉल

Question ID : 26433042177  
Status : Answered  
Chosen Option : 1

Q.20 निम्नलिखित प्रसिद्ध हस्तियों में किसकी आत्मकथा 'द रोड अहेड' है?

- Ans
- 1. एलन मस्क
  - 2. क्रिस्टियानो रोनाल्डो
  - 3. जेफ बेजोस
  - 4. बिल गेट्स

Question ID : 26433042216  
Status : Answered  
Chosen Option : 2

Q.21 निम्नलिखित में से कौन-से क्षेत्र में कालिदास सम्मान प्रदान नहीं किया जाता है?

- Ans
- 1. शास्त्रीय नृत्य
  - 2. प्लास्टिक कला
  - 3. शास्त्रीय संगीत
  - 4. कठपुतली का खेल

Question ID : 26433044690  
Status : Not Answered  
Chosen Option : --

Q.22 निम्नलिखित में से तानसेन सम्मान 2020 किसने जीता?

- Ans
- 1. दलचन शर्मा
  - 2. उल्हास कशालकर
  - 3. मंजू मेहता
  - 4. सतीश व्यास

Question ID : 26433044593  
Status : Not Answered  
Chosen Option : --



Q.23 निम्नलिखित में से किसने 2019 में अपनी पुस्तक 'एन एरा ऑफ़ डार्कनेस' के लिए साहित्य अकादमी पुरस्कार (नॉन-फिक्शन) प्राप्त किया?

- Ans
- 1. सायरस मिस्त्री
  - 2. जेरी पिंटो
  - 3. अरुण शौरी
  - 4. शशि थरूर

Question ID : 26433044669  
Status : Answered  
Chosen Option : 4

Q.24 निम्नलिखित में से कौन-सा एक प्रकार का ब्रायोफाइट है, जो कई वातावरणों में रहता है और इसकी विशेषता इसके छोटे, चपटे पत्ते, जड़ जैसे प्रकंद (राइजोइड) और पेरिस्टोम होते हैं?

- Ans
- 1. अल्वा
  - 2. क्लैडोफोरा
  - 3. फ्र्यूनेरिया
  - 4. यूलोथ्रिक्स

Question ID : 26433044734  
Status : Not Answered  
Chosen Option : --

Q.25 ई एम सुब्रमण्यम संगीत वाद्ययंत्र \_\_\_\_\_ से जुड़ी एक प्रसिद्ध हस्ती थे।

- Ans
- 1. मंडोलिन
  - 2. पखावज
  - 3. गिटार
  - 4. घातम

Question ID : 26433038783  
Status : Not Answered  
Chosen Option : --

## Combined Higher Secondary Level Examination 2021 Tier I

Roll Number	
Candidate Name	
Venue Name	
Exam Date	24/05/2022
Exam Time	9:00 AM - 10:00 AM
Subject	CHSL 2021 Tier I

Section : **English Language**

**Q.1** The following sentence has been split into four segments. Identify the segment that contains a grammatical error.  
**Even though / we are quite different from each other / in our food preferences, / we both loves South Indian delicacies.**

- Ans**
- 1. in our food preferences
  - 2. we are quite different from each other
  - 3. we both loves South Indian delicacies
  - 4. Even though

Question ID : 26433040047  
 Status : **Answered**  
 Chosen Option : 3

**Q.2** Select the **INCORRECTLY** spelt word.

- Ans**
- 1. Robbust
  - 2. Zenith
  - 3. Xylophone
  - 4. Oligopoly

Question ID : 26433045525  
 Status : **Answered**  
 Chosen Option : 1

**Q.3** Select the most appropriated option to fill in the blank.

The \_\_\_\_\_ crowd gave their newly elected leader a magnificent welcome.

- Ans**
- 1. noisy
  - 2. melancholic
  - 3. jubilant
  - 4. troublesome

Question ID : 26433039728  
 Status : **Answered**  
 Chosen Option : 3

**Q.4** Select the most appropriate synonym of the given word.  
**Renounce**

- Ans**
- 1. Prevent
  - 2. Condone
  - 3. Hamper
  - 4. Forsake

Question ID : 26433039964  
 Status : **Answered**  
 Chosen Option : 4

**Q.5** Select the most appropriate option to fill in the blank.  
Everyone knows that the future of all life on earth will be \_\_\_\_\_ if people don't control the contamination of the environment.

- Ans
- 1. dangerous
  - 2. danger
  - 3. endangered
  - 4. dangered

Question ID : 26433039934  
Status : Answered  
Chosen Option : 3

**Q.6** Select the most appropriate synonym of the given word.  
Amble

- Ans
- 1. Wander
  - 2. Stare
  - 3. Trot
  - 4. Bustle

Question ID : 26433039837  
Status : Not Answered  
Chosen Option : --

**Q.7** Select the most appropriate synonym of the highlighted word.  
The equivocal nature of his comments was criticised by the officials.

- Ans
- 1. manageable
  - 2. ambiguous
  - 3. vicious
  - 4. certain

Question ID : 26433045476  
Status : Answered  
Chosen Option : 4

**Q.8** Select the most appropriate meaning of the given idiom.  
A fly on the wall

- Ans
- 1. An unperceived observer
  - 2. A vigilant security guard
  - 3. Very intelligent person
  - 4. An unwelcome guest

Question ID : 26433039990  
Status : Not Answered  
Chosen Option : --

**Q.9** Select the most appropriate meaning of the given idiom.  
In the same boat

- Ans
- 1. To go in the same direction as someone else
  - 2. To gain undue advantage with others
  - 3. To be in the same difficult situation as someone else
  - 4. To share profits with someone else

Question ID : 26433039985  
Status : Answered  
Chosen Option : 3

**Q.10** Sentences of a paragraph are given below in jumbled order. Arrange the sentences in the correct order to form a meaningful and coherent paragraph.

- A. Because the educational institution's teaching staff is actively involved.
- B. Curricular or academic activities refer to activities that cover the specified courses of study.
- C. These exercises are an essential component of the overall educational curriculum.
- D. In layman's terms, 'curricular activities' are activities that take place within the classroom.

- Ans**  1. BDCA  
 2. CDBA  
 3. DBCA  
 4. DABC

Question ID : 26433042889  
Status : Answered  
Chosen Option : 1

**Q.11** Select the sentence which has no spelling error.

- Ans**  1. Granny said that red apples are very dilicious.  
 2. I was licking my lips for delicoius ice cream.  
 3. My mother prepares delicious chocolate cakes.  
 4. There was deleceous aroma coming from the kitchen.

Question ID : 26433043118  
Status : Answered  
Chosen Option : 3

**Q.12** Select the option that expresses the given sentence in active voice.  
The lock has not yet been repaired by the locksmith.

- Ans**  1. The locksmith has not repaired the lock yet.  
 2. The locksmith had not repaired the lock till then.  
 3. The locksmith does not repairs the lock.  
 4. The locksmith is not repairing the lock yet.

Question ID : 26433039750  
Status : Answered  
Chosen Option : 1

**Q.13** Select the option that will improve the underlined part of the given sentence.  
Do you mind me to being here while you are working?

- Ans**  1. you will mind me to being  
 2. you minds me to be  
 3. you mind me being  
 4. you can mind me to be

Question ID : 26433042858  
Status : Answered  
Chosen Option : 3

Q.14 Select the most appropriate option to fill in the blanks.

Besides being \_\_\_\_\_ multifaceted artist, he was \_\_\_\_\_ poet, novelist, and a painter.

- Ans  1. an, an  
 2. a, a  
 3. an, the  
 4. a, an

Question ID : 26433042911  
Status : Answered  
Chosen Option : 2

Q.15 Select the INCORRECTLY spelt word.

- Ans  1. Supplementary  
 2. Noticeable  
 3. Decaffinated  
 4. Nuptial

Question ID : 26433039057  
Status : Answered  
Chosen Option : 3

Q.16 Select the option that will improve the underlined part of the given sentence.  
Peter is studying hard to have score in the exams.

- Ans  1. to scores  
 2. to have scored  
 3. to score  
 4. to scoring

Question ID : 26433042854  
Status : Answered  
Chosen Option : 3

Q.17 Select the INCORRECTLY spelt word.

- Ans  1. Nosy  
 2. Yearn  
 3. Ruminare  
 4. Vennison

Question ID : 26433045514  
Status : Answered  
Chosen Option : 4

Q.18 Select the most appropriate option to substitute the underline segment in the given sentence.

If we do nothing to curb this pollution, I guarantee we will face the wall in the future.

- Ans  1. face the dark  
 2. face the stick  
 3. face the wind  
 4. face the music

Question ID : 26433042809  
Status : Answered  
Chosen Option : 4

**Q.19** The following sentence has been split into four segments. Identify the segment that contains a grammatical error.

Each member / of the team / receive a memorabilia / after the match is over.

- Ans**
- 1. after the match is over
  - 2. of the team
  - 3. Each member
  - 4. receive a memorabilia

Question ID : 26433040045  
Status : Answered  
Chosen Option : 4

**Q.20** Select the most appropriate synonym of the given word.  
**Benevolence**

- Ans**
- 1. Severity
  - 2. Compassion
  - 3. Impassion
  - 4. Malevolence

Question ID : 26433043070  
Status : Answered  
Chosen Option : 4

**Comprehension:**

In the following passage, some words have been deleted. Fill in the blanks with the help of the options given. Select the most appropriate option for each blank.  
Human beings have three basic needs: food, shelter, and (1)\_\_\_\_\_. All of these requirements can be met satisfactorily only if an individual has money, and for earning this money, the individual must be employed, i. e., have a/an (2)\_\_\_\_\_ profession. (3)\_\_\_\_\_, there are a lot of people throughout the globe who have been unable to obtain a job. As a direct (4)\_\_\_\_\_, they have a/an (5)\_\_\_\_\_ amount of income, and unemployment is the term used to describe this condition of joblessness.

**SubQuestion No : 21**

**Q.21** Select the most appropriate option to fill in blank No.1.

- Ans**
- 1. clothing
  - 2. money
  - 3. power
  - 4. water

Question ID : 26433045713  
Status : Answered  
Chosen Option : 1

**Comprehension:**

In the following passage, some words have been deleted. Fill in the blanks with the help of the options given. Select the most appropriate option for each blank.

Human beings have three basic needs: food, shelter, and (1)\_\_\_\_\_. All of these requirements can be met satisfactorily only if an individual has money, and for earning this money, the individual must be employed, i. e., have a/an (2)\_\_\_\_\_ profession. (3)\_\_\_\_\_, there are a lot of people throughout the globe who have been unable to obtain a job. As a direct (4)\_\_\_\_\_, they have a/an (5)\_\_\_\_\_ amount of income, and unemployment is the term used to describe this condition of joblessness.

**SubQuestion No : 22**

**Q.22 Select the most appropriate option to fill in blank No.2.**

- Ans**
- 1. decent
  - 2. suitable
  - 3. authoritative
  - 4. temporary

Question ID : 26433045714  
 Status : Answered  
 Chosen Option : 2

**Comprehension:**

In the following passage, some words have been deleted. Fill in the blanks with the help of the options given. Select the most appropriate option for each blank.

Human beings have three basic needs: food, shelter, and (1)\_\_\_\_\_. All of these requirements can be met satisfactorily only if an individual has money, and for earning this money, the individual must be employed, i. e., have a/an (2)\_\_\_\_\_ profession. (3)\_\_\_\_\_, there are a lot of people throughout the globe who have been unable to obtain a job. As a direct (4)\_\_\_\_\_, they have a/an (5)\_\_\_\_\_ amount of income, and unemployment is the term used to describe this condition of joblessness.

**SubQuestion No : 23**

**Q.23 Select the most appropriate option to fill in blank No.3.**

- Ans**
- 1. Repressively
  - 2. Regressively
  - 3. Regrettably
  - 4. Rightfully

Question ID : 26433045715  
 Status : Answered  
 Chosen Option : 3

**Comprehension:**

In the following passage, some words have been deleted. Fill in the blanks with the help of the options given. Select the most appropriate option for each blank.

Human beings have three basic needs: food, shelter, and (1)\_\_\_\_\_. All of these requirements can be met satisfactorily only if an individual has money, and for earning this money, the individual must be employed, i. e., have a/an (2)\_\_\_\_\_ profession. (3)\_\_\_\_\_, there are a lot of people throughout the globe who have been unable to obtain a job. As a direct (4)\_\_\_\_\_, they have a/an (5)\_\_\_\_\_ amount of income, and unemployment is the term used to describe this condition of joblessness.

**SubQuestion No : 24**

**Q.24 Select the most appropriate option to fill in blank No.4.**

- Ans**
- 1. sequence
  - 2. consequence
  - 3. attack
  - 4. confrontation

Question ID : 26433045716  
 Status : Not Answered  
 Chosen Option : --

**Comprehension:**

In the following passage, some words have been deleted. Fill in the blanks with the help of the options given. Select the most appropriate option for each blank.

Human beings have three basic needs: food, shelter, and (1)\_\_\_\_\_. All of these requirements can be met satisfactorily only if an individual has money, and for earning this money, the individual must be employed, i. e., have a/an (2)\_\_\_\_\_ profession. (3)\_\_\_\_\_, there are a lot of people throughout the globe who have been unable to obtain a job. As a direct (4)\_\_\_\_\_, they have a/an (5)\_\_\_\_\_ amount of income, and unemployment is the term used to describe this condition of joblessness.

**SubQuestion No : 25**

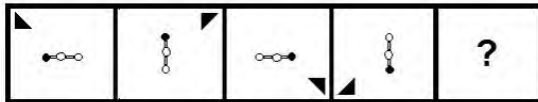
**Q.25** Select the most appropriate option to fill in blank No.5.

- Ans**
- 1. meagre
  - 2. plentiful
  - 3. minor
  - 4. average

Question ID : 26433045717  
 Status : Answered  
 Chosen Option : 1

**Section : General Intelligence**

**Q.1** दिए गए विकल्पों में से उस आकृति का चयन करें जो निम्नलिखित श्रृंखला में प्रश्नवाचक चिह्न (?) को प्रतिस्थापित कर सकती है।



**Ans**

- 1.
- 2.
- 3.
- 4.

Question ID : 26433038570  
 Status : Answered  
 Chosen Option : 1



Q.2 उस विकल्प का चयन करें जो दिए गए शब्दों के उस सही क्रम का निरूपण करता है जैसे कि वे एक अंग्रेजी शब्दकोश में दिखाई देंगे।

- 1.Potential
- 2.Posthumous
- 3.Postbox
- 4.Polymer
- 5.Popular

Ans  1. 5,4,3,2,1  
 2. 4,5,2,3,1  
 3. 1,2,3,4,5  
 4. 4,5,3,2,1

Question ID : 26433040381  
Status : Answered  
Chosen Option : 4

Q.3 उस विकल्प का चयन करें जो तीसरे शब्द से उसी प्रकार संबंधित है जिस प्रकार दूसरा शब्द पहले शब्द से संबंधित है। (शब्दों को अर्थपूर्ण अंग्रेजी/हिन्दी शब्दों के रूप में माना जाना चाहिए और इन्हें शब्द में अक्षरों की संख्या/व्यंजनों की संख्या/स्वरों की संख्या के आधार पर एक दूसरे से संबद्ध नहीं किया जाना चाहिए।)

साहस : शौर्य :: अशुभ : ?

Ans  1. परोपकारी  
 2. मनहूस  
 3. दयालु  
 4. शुभ

Question ID : 26433045087  
Status : Answered  
Chosen Option : 2

Q.4 निम्नलिखित में से कौन-सी संख्या दी गई संख्या श्रृंखला में प्रश्नवाचक चिह्न (?) को प्रतिस्थापित करेगी?  
458, 462, 446, 482, ?, 518

Ans  1. 432  
 2. 546  
 3. 418  
 4. 428

Question ID : 26433038604  
Status : Answered  
Chosen Option : 3

Q.5 उस विकल्प का चयन करें जो तीसरी संख्या से ठीक उसी प्रकार संबंधित है जैसे दूसरी संख्या पहली संख्या से संबंधित है और छठी संख्या पांचवीं संख्या से संबंधित है।

10 : 0 :: 12 : ? :: 16 : 3

Ans  1. 3  
 2. 5  
 3. 1  
 4. 4

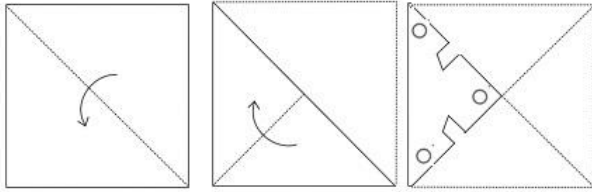
Question ID : 26433043441  
Status : Not Attempted and Marked For Review  
Chosen Option : --

Q.6 एक निश्चित कोड भाषा में, 'RAIN' को '182915' और 'SUN' को '192214' लिखा जाता है। उसी भाषा में 'MOON' कैसे लिखा जाएगा?

- Ans
- 1. 13161414
  - 2. 13161415
  - 3. 13161616
  - 4. 13161515

Question ID : 26433040756  
Status : Answered  
Chosen Option : 4

Q.7 नीचे आकृति में दिखाए गए अनुसार एक कागज को मोड़ा और काटा जाता है। खोले जाने पर यह कैसा दिखेगा



Ans

- 1.
- 2.
- 3.
- 4.

Question ID : 26433043594  
Status : Answered  
Chosen Option : 2

Q.8 निम्नलिखित में से कौन-सी संख्या दी गई श्रृंखला में प्रश्नवाचक चिह्न (?) के स्थान पर आएगी?  
11, 20, 43, 94, 187, 336, 555, ?

- Ans  1. 777  
 2. 888  
 3. 858  
 4. 758

Question ID : 26433045214  
 Status : Answered  
 Chosen Option : 3

Q.9 दिए गए समीकरण में \* चिह्नों को क्रमिक रूप से बदलने और समीकरण को संतुलित करने के लिए गणितीय चिह्नों के सही संयोजन का चयन कीजिए।  
57\*35\*44\*11\*13\*40

- Ans  1. +, -, ×, ÷, =  
 2. -, +, ×, ÷, =  
 3. +, -, ÷, ×, =  
 4. ×, +, -, ÷, =

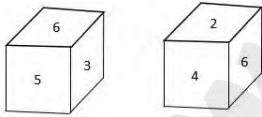
Question ID : 26433040600  
 Status : Answered  
 Chosen Option : 3

Q.10 किसी निश्चित कोड भाषा में, "ARE" को "87" के रूप में कोडित किया गया है, और "NOT" को "4197" के रूप में कोडित किया गया है। उसी भाषा में "CAT" को किस रूप में कोडित किया जाएगा?

- Ans  1. 60  
 2. 57  
 3. 54  
 4. 63

Question ID : 26433043509  
 Status : Answered  
 Chosen Option : 2

Q.11 एक ही पासे की दो अलग-अलग स्थितियाँ दिखाई गई हैं, जिसके छह फलक 1 से 6 तक संख्यांकित हैं। यदि पासा '6' पर टिका हुआ है तो उस संख्या का चयन कीजिए जो पासे के शीर्ष पर होगी?



- Ans  1. 2  
 2. 1  
 3. 3  
 4. 4

Question ID : 26433040782  
 Status : Answered  
 Chosen Option : 2

Q.12 उस विकल्प का चयन करें जो दिए गए शब्दों के उस सही क्रम का निरूपण करता है जैसे कि वे एक अंग्रेजी शब्दकोश में दिखाई देंगे।

- 1.Sourced
- 2.Sorrow
- 3.Soulful
- 4.Soaking
- 5.Somewhere

Ans  1. 4,5,3,2,1  
 2. 4,5,2,3,1  
 3. 5,4,1,2,3  
 4. 5,4,3,2,1

Question ID : 26433040372  
Status : Answered  
Chosen Option : 2

Q.13 दिए गए संख्या युग्मों में दूसरी संख्या, पहली संख्या पर निश्चित गणितीय संक्रिया/संक्रियाएं करके प्राप्त की गई है। निम्नांकित विकल्पों में दिए गए संख्या युग्मों में से एक को छोड़कर शेष सभी में वही संक्रिया/संक्रियाएं अपनाई गई है/हैं। उस असंगत संख्या युग्म का चयन कीजिए।

Ans  1. 13 : 169  
 2. 21 : 431  
 3. 12 : 144  
 4. 15 : 225

Question ID : 26433040654  
Status : Answered  
Chosen Option : 2

Q.14 दी गई श्रृंखला को पूरा करने के लिए कौन-सा अक्षर समूह प्रश्न चिह्न (?) के स्थान पर आएगा?  
ANGE, DSBB, GXWY, ?

Ans  1. JCRV  
 2. JCSV  
 3. JBRV  
 4. JBSV

Question ID : 26433043518  
Status : Answered  
Chosen Option : 1

Q.15 \* गणितीय चिह्नों के उस सही संयोजन का चयन करें जिससे \* चिह्नों को प्रतिस्थापित करने पर दिया गया समीकरण संतुलित हो जाएगा।  
 $13 * 5 * 3 * 3 * 2$

Ans  1. -, =, +, -  
 2. =, +, +, ×  
 3. ×, =, ×, ×  
 4. +, =, ×, ×

Question ID : 26433040711  
Status : Answered  
Chosen Option : 4

Q.16 नीचे दिए गए समीकरण में \* चिह्नों को बदलने और समीकरण को संतुलित करने के लिए गणितीय चिह्नों के सही संयोजन का चयन कीजिए।

$$78 * 3 * 12 * 5 * 59 * 17 * 44$$

- Ans
- 1.  $\div, -, =, +, \times, -$
  - 2.  $\div, +, \times, -, +, =$
  - 3.  $=, -, \times, +, -, \times$
  - 4.  $+, =, -, +, \times, +$

Question ID : 26433040249  
Status : Answered  
Chosen Option : 2

Q.17 निम्नलिखित में से कौन सी संख्या, दी गई श्रृंखला में प्रश्न चिह्न (?) के स्थान पर आएगी?  
78, 112, 64, ?, 50, 140

- Ans
- 1. 116
  - 2. 134
  - 3. 108
  - 4. 126

Question ID : 26433040843  
Status : Answered  
Chosen Option : 4

Q.18 नीचे दिए गए समीकरण में \* चिह्नों को बदलने और समीकरण को संतुलित करने के लिए गणितीय चिह्नों के सही संयोजन का चयन कीजिए।

$$14 * 5 * 41 * 76 * 35$$

- Ans
- 1.  $\times, -, =, +$
  - 2.  $-, +, =, \times$
  - 3.  $+, \times, =, -$
  - 4.  $\times, +, -, =$

Question ID : 26433040217  
Status : Answered  
Chosen Option : 4

Q.19 दिए गए संयोजन की सही दर्पण छवि का चयन करें, जब दर्पण को MN पर दिखाए गए अनुसार रखा गया हो।

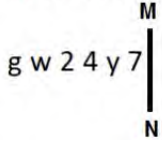
jar365

M  
|  
N

- Ans
- 1. 56E1e!
  - 2. 50E1e!
  - 3. 29E1e!
  - 4. 20E1e!

Question ID : 26433040169  
Status : Answered  
Chosen Option : 4

Q.20 जब दर्पण को दर्शाए गए तरीके से MN पर रखा जाता है तो दिए गए संयोजन की सही दर्पण छवि का चयन कीजिए।



Ans

1.  $\angle \vee \nabla \zeta \omega \beta$   
 2.  $\angle \vee \nabla \zeta \omega \beta$   
 3.  $\angle \vee \nabla \zeta \omega \beta$   
 4.  $\nabla \vee \nabla \zeta \omega \beta$

Question ID : 26433040560

Status : Answered

Chosen Option : 4

Q.21 दिए गए पैटर्न का ध्यानपूर्वक अध्ययन कीजिए और उस संख्या का चयन कीजिए जो उसमें प्रश्नवाचक चिह्न (?) को प्रतिस्थापित कर सके।

पहली पंक्ति: 73, 52, 75

दूसरी पंक्ति: 64, 41, 63

तीसरी पंक्ति: 68, 47, ?

(नोट: संख्या को उसके घटक अंकों में विभाजित किए बिना, पूर्ण संख्याओं पर गणितीय संक्रियाएं की जानी चाहिए। उदाहरण के लिए, 13 - 13 पर गणितीय संक्रियाएं जैसे कि जोड़ना/घटाना/गुणा करना आदि को 13 पर ही किया जा सकता है। 13 को 1 और 3 में तोड़कर और फिर 1 और 3 पर गणितीय संक्रियाओं को करने की अनुमति नहीं है।)

Ans

1. 71  
 2. 69  
 3. 65  
 4. 63

Question ID : 26433043330

Status : Not Attempted and Marked For Review

Chosen Option : --

Q.22 एक निश्चित कूट भाषा में, 'APPROACH' को '116161815138' और 'APPROVAL' को '11616181522112' लिखा जाता है। उसी भाषा में 'POOL' को कैसे लिखा जाएगा?

Ans

1. 16141412  
 2. 16151512  
 3. 16131312  
 4. 16171712

Question ID : 26433045045

Status : Answered

Chosen Option : 2

Q.23 दो कथनों के बाद दो निष्कर्ष I और II दिए गए हैं। कथनों को सत्य मानते हुए, भले ही वे सामान्य रूप से ज्ञात तथ्यों से भिन्न प्रतीत होते हों, निर्णय लीजिए कि कौन सा/से निष्कर्ष कथनों का तार्किक रूप से अनुसरण करता/करते है/हैं।

कथन:

कुछ आलू, प्याज हैं।

कुछ प्याज, टमाटर हैं।

निष्कर्ष:

I. कुछ टमाटर, आलू हैं।

II. कोई भी टमाटर, आलू नहीं है।

- Ans
- 1. केवल निष्कर्ष I अनुसरण करता है
  - 2. या तो निष्कर्ष I या II अनुसरण करता है
  - 3. निष्कर्ष I और II दोनों अनुसरण करते हैं
  - 4. केवल निष्कर्ष II अनुसरण करता है

Question ID : 26433045140

Status : Answered

Chosen Option : 2

Q.24 निम्नलिखित में से कौन सा अक्षर-समूह दी गई श्रृंखला को तार्किक रूप से पूर्ण बनाने के लिए इसमें प्रश्नवाचक चिह्न (?) को प्रतिस्थापित करेगा?  
XUR, WTQ, VSP, URO, ?

- Ans
- 1. SQO
  - 2. SPM
  - 3. TQN
  - 4. TRP

Question ID : 26433045157

Status : Answered

Chosen Option : 3

Q.25 उस विकल्प आकृति का चयन कीजिए जो नीचे दी गई आकृति में पैटर्न को पूरा करने के लिए प्रश्न चिह्न (?) को प्रतिस्थापित करेगी।



- Ans
- 1.
  - 2.
  - 3.
  - 4.

Question ID : 26433040328

Status : Answered

Chosen Option : 3

Section : Quantitative Aptitude

Q.1 एक परीक्षा के लिए 15 लड़के और कुछ लड़कियां उपस्थित हुईं। लड़कों का औसत स्कोर 26 था; लड़कियों का औसत स्कोर 36 था, जबकि संयुक्त औसत स्कोर 30 था। परीक्षा में कितनी लड़कियां शामिल हुईं?

- Ans  1. 10  
 2. 12  
 3. 9  
 4. 8

Question ID : 26433043924  
 Status : Answered  
 Chosen Option : 1

Q.2 ₹8,925 का ऋण दो समान अर्धवार्षिक किस्तों में चुकाया जाना है। यदि ब्याज अर्धवार्षिक रूप से 8% प्रति वर्ष की दर से संयोजित किया जाता है, तो प्रत्येक किस्त कितनी होगी?

- Ans  1. ₹4,654  
 2. ₹4,732  
 3. ₹4,564  
 4. ₹4,372

Question ID : 26433039532  
 Status : Answered  
 Chosen Option : 2

Q.3 एक फुटकर विक्रेता कमीजों पर इस प्रकार से छूट देता है - 3 खरीदें, 2 मुफ्त पाएं। छूट प्रतिशत क्या है?

- Ans  1. 30%  
 2. 35%  
 3. 50%  
 4. 40%

Question ID : 26433042431  
 Status : Answered  
 Chosen Option : 4

Q.4 1992 से 1996 तक एक कंपनी में विभिन्न प्रकार की कारों का उत्पादन (हज़ारों में) नीचे दर्शाया गया है।

वर्ष	कार का प्रकार				
	A	B	C	D	E
1992	160	60	84	100	76
1993	210	90	32	80	48
1994	130	30	44	95	85
1995	190	85	69	125	115
1996	260	95	120	80	120

वर्ष 1995 में प्रकार-A कार का उत्पादन, सभी वर्षों में उसके कुल उत्पादन का कितना प्रतिशत था?

- Ans  1. 18%  
 2. 20%  
 3. 24%  
 4. 15%

Question ID : 26433041435  
 Status : Answered  
 Chosen Option : 2



Q.5 एक समूह की औसत आयु में 4 वर्ष की वृद्धि तब हो जाती है जब उस समूह में 32 वर्ष की आयु वाले एक व्यक्ति के स्थान पर 56 वर्ष की आयु वाला कोई अन्य व्यक्ति शामिल हो जाता है। समूह के सदस्यों की संख्या ज्ञात कीजिए।

- Ans  1. 7  
 2. 6  
 3. 9  
 4. 8

Question ID : 26433038847  
Status : Answered  
Chosen Option : 2

Q.6 25 m लंबी सीढ़ी का पॉव इमारत के आधार से 7 m दूर है। यदि सीढ़ी का शीर्ष 4 m फिसल जाता है, तो सीढ़ी का पॉव कितनी दूरी तक खिसकेगा?

- Ans  1. 9 m  
 2. 8 m  
 3. 7 m  
 4. 6 m

Question ID : 26433041687  
Status : Answered  
Chosen Option : 2

Q.7 एक कक्षा में 29 लड़के और 21 लड़कियां हैं। गणित में लड़कों के औसत अंक 89 हैं, जबकि लड़कियों के औसत अंक 91 हैं। गणित में पूरी कक्षा के औसत अंक क्या हैं?

- Ans  1. 89.84  
 2. 91.84  
 3. 91  
 4. 89

Question ID : 26433041517  
Status : Answered  
Chosen Option : 1

Q.8 In a triangle ABC, if the three sides are  $a=5$ ,  $b=7$  and  $c=3$ , what is angle B?

- Ans  1. 1500  
 2. 600  
 3. 1200  
 4. 900

Question ID : 26433044154  
Status : Not Answered  
Chosen Option : --

Q.9 यदि  $x + y + z = 0$  है, तो  $\left(\frac{x^2}{yz}\right) + \left(\frac{y^2}{zx}\right) + \left(\frac{z^2}{xy}\right)$  का मान क्या होगा?

- Ans
- 1.  $\frac{x^2y^2z^2}{x}$
  - 2.  $\frac{3(x^2 + y^2 + z^2)}{xyz}$
  - 3. 3
  - 4.  $x^2 + y^2 + z^2$

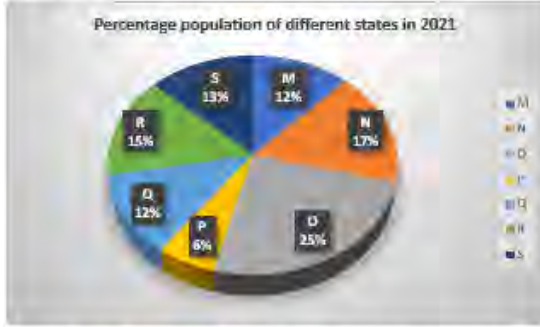
Question ID : 26433044377  
Status : Answered  
Chosen Option : 3

Q.10 एक शिष्य ने एक अंक को  $\frac{5}{3}$  के बजाय  $\frac{3}{5}$  से गुणा कर दिया। गणना में हुई प्रतिशत त्रुटि क्या है?

- Ans
- 1. 58
  - 2. 52
  - 3. 47
  - 4. 64

Question ID : 26433044070  
Status : Answered  
Chosen Option : 4

Q.11 निम्न पाई चार्ट वर्ष 2021 में विभिन्न राज्यों की जनसंख्या का प्रतिशत दर्शाता है।  
दिए गए राज्यों की कुल जनसंख्या 4879000 है।



निम्न तालिका विभिन्न राज्यों के लिंगवार जनसंख्या अनुपात को दर्शाती है:

राज्य	पुरुष	महिला
M	5	3
N	2	4
O	3	2
P	4	5
Q	2	3
R	4	5
S	4	5

उपरोक्त डेटा का अध्ययन करें और निम्नलिखित प्रश्न का उत्तर दें।

राज्य P में महिलाओं की संख्या का राज्य S में महिलाओं की संख्या से अनुपात कितना है?

- Ans
- 1.3 : 5
  - 2.6 : 11
  - 3.2 : 7
  - 4.6 : 13

Question ID : 26433045932  
Status : Answered  
Chosen Option : 4

Q.12 एक गोले का आयतन  $972\pi \text{ cm}^3$  है, तो इसकी त्रिज्या ज्ञात कीजिए।

- Ans
- 1.9 cm
  - 2.7 cm
  - 3.8 cm
  - 4.6 cm

Question ID : 26433042453  
Status : Answered  
Chosen Option : 1

Q.13 यदि  $mx^m - nx^n = 0$  है, तो  $x^n$  पदों में  $\frac{1}{x^m + x^n} + \frac{1}{x^m - x^n}$  का मान क्या है?

Ans

✓ 1.  $\frac{2mn}{x^n(n^2 - m^2)}$

✗ 2.  $\frac{2m}{x^n(m^2 - n^2)}$

✗ 3.  $\frac{2mn}{x^n(m^2 - n^2)}$

✗ 4.  $\frac{2mn}{x^n(n^2 + m^2)}$

Question ID : 26433044383

Status : Not Attempted and Marked For Review

Chosen Option : --

Q.14  $36 \text{ cm} \times 18 \text{ cm} \times 12 \text{ cm}$  विमाओं वाले धातु के एक ठोस घनाभ को पिघलाकर  $6 \text{ cm}$  भुजा वाले घन ढाले जाते हैं। इस प्रकार बने घनों की संख्या ज्ञात कीजिए।

Ans

✗ 1. 38

✗ 2. 34

✓ 3. 36

✗ 4. 40

Question ID : 26433041331

Status : Answered

Chosen Option : 3

Q.15 व्यंजक  $(36p^2 + 49q^2)(6p + 7q)(6p - 7q)$  का मान ज्ञात कीजिए।

Ans

✗ 1.  $36p^4 + 49q^4$

✗ 2.  $1296p^4 + 2401q^4$

✗ 3.  $36p^4 - 49q^4$

✓ 4.  $1296p^4 - 2401q^4$

Question ID : 26433041564

Status : Answered

Chosen Option : 4

Q.16 नीचे दिए गए प्रश्न का उत्तर देने के लिए दी गई तालिका का ध्यानपूर्वक अध्ययन करें।

निम्न तालिका वर्ष 2020 में पांच अलग-अलग शहरों की जनसंख्या के बारे में जानकारी देती है।

शहर	कुल जनसंख्या	पुरुषों का %	महिलाओं का %	बच्चों का %
P	46800	45%	35%	20%
Q	45400	35%	50%	15%
R	42000	48%	42%	10%
S	39250	42%	42%	16%
T	46200	40%	45%	15%

शहर R में, बच्चों में, लड़कों का लड़कियों से अनुपात 2 : 3 था और शहर P में, बच्चों में लड़कों का लड़कियों से अनुपात 5 : 4 था। शहर P और शहर R में मिलाकर लड़कियों (बच्चों के बीच) की कुल संख्या कितनी थी?

- Ans
- 1. 4610
  - 2. 4160
  - 3. 6860
  - 4. 6680

Question ID : 26433039541  
Status : Answered  
Chosen Option : 4

Q.17 A किसी कार्य को 12 दिन में पूरा कर सकता है, और B उसी कार्य को 36 दिन में पूरा कर सकता है। दोनों मिलकर कार्य को कितने दिन में पूरा करेंगे?

- Ans
- 1. 9
  - 2. 6
  - 3. 8
  - 4. 7

Question ID : 26433044119  
Status : Answered  
Chosen Option : 1

Q.18 11 मीटर त्रिज्या वाला एक स्तंभ 21 मीटर ऊँचा है। इसे बनाने में कितनी सामग्री का उपयोग किया गया था? (मान लीजिए  $\pi=22/7$ )

- Ans
- 1. 7986 m<sup>3</sup>
  - 2. 7996 m<sup>3</sup>
  - 3. 7989 m<sup>3</sup>
  - 4. 7886 m<sup>3</sup>

Question ID : 26433038723  
Status : Answered  
Chosen Option : 1

Q.19 15 और 24 का तृतीयानुपात क्या है?

Ans

1.  $37\frac{4}{5}$
2.  $38\frac{2}{5}$
3.  $37\frac{2}{5}$
4.  $38\frac{4}{5}$

Question ID : 26433042434

Status : Answered

Chosen Option : 2

Q.20 एक कक्षा में 70% विद्यार्थी लड़कियां हैं और 70% लड़कियों ने सॉकर को अपना पसंदीदा खेल चुना है। यदि 98 लड़कियों ने सॉकर को अपना पसंदीदा खेल चुना है, तो कक्षा में विद्यार्थियों की कुल संख्या क्या है?

Ans

1. 175
2. 180
3. 200
4. 225

Question ID : 26433043929

Status : Answered

Chosen Option : 3

Q.21 A man purchased a cell phone for ₹24,500 and sold it at a gain of 12.5% calculated on the selling price. The selling price of the cell phone was:

Ans

1. ₹25,500
2. ₹27,500
3. ₹28,000
4. ₹25,000

Question ID : 26433039160

Status : Answered

Chosen Option : 3

Q.22 एक थोक व्यापारी द्वारा बेची जा रही प्रत्येक वस्तु का अंकित मूल्य ₹300 था। थोक व्यापारी एक स्टॉक-क्लीयरेंस सेल की पेशकश कर रहा था, जिसमें प्रत्येक तीन वस्तुएँ खरीदने पर, एक वस्तु मुफ्त दी जा रही थी। इसके अलावा, ₹10,000 रुपये से अधिक की खरीदारी करने वाले किसी भी व्यक्ति को '3 खरीदे, 1 मुफ्त पाएं' योजना की देय राशि पर 10% की छूट दी जा रही थी। रमेश ने खरीदारी की जिसके लिए यह देय राशि ₹18,000 थी। इस लेन-देन के दौरान रमेश को कितनी प्रभावी छूट दी गई?

Ans

1. 32%
2. 31.5%
3. 32.5%
4. 32.75%

Question ID : 26433043940

Status : Not Answered

Chosen Option : --

Q.23 रमेश अपने घर से 40 km/h की चाल से गाड़ी चलाता है और 25 मिनट देरी से अपने कॉलेज पहुंचता है। अगले दिन वह अपनी गाड़ी की चाल 10 km/h बढ़ा देता है, फिर भी कॉलेज पहुँचने में उसे 10 मिनट की देरी हो जाती है। उसका कॉलेज उसके घर से कितनी दूर है?

- Ans
- 1. 55 km
  - 2. 45 km
  - 3. 60 km
  - 4. 50 km

Question ID : 26433042447  
Status : Answered  
Chosen Option : 4

Q.24 निम्नलिखित में से कौन सी संख्या 42 से पूर्णतः विभाज्य है?

- Ans
- 1. 25212
  - 2. 25244
  - 3. 25232
  - 4. 25242

Question ID : 26433038672  
Status : Answered  
Chosen Option : 4

Q.25  $9 - [10 - \{20 - (15 - \overline{9 - 3})\}]$  को सरल करें।

- Ans
- 1. 10
  - 2. 12
  - 3. 7
  - 4. 8

Question ID : 26433039225  
Status : Answered  
Chosen Option : 1

Section : General Awareness

Q.1 म्यूरिएटिक अम्ल क्लोराइड, उर्वरक और रंगों के उत्पादन में, इलेक्ट्रोप्लेटिंग में, और फोटोग्राफिक, कपड़ा और रबर उद्योगों में इस्तेमाल किए जाने वाले किस यौगिक का दूसरा नाम है?

- Ans
- 1. हाइड्रोक्लोरिक अम्ल
  - 2. सल्फ्यूरिक अम्ल
  - 3. नाइट्रिक अम्ल
  - 4. परक्लोरिक अम्ल

Question ID : 26433044814  
Status : Not Answered  
Chosen Option : --

Q.2 अम्ल या क्षार को पानी में मिलाने पर क्या होता है?

- Ans
- 1. प्रति लीटर आयतन आयनों ( $H_3O^+/OH^-$ ) की सांद्रता में कमी
  - 2. प्रति इकाई आयतन आयनों ( $H_2O^+/OH^-$ ) की सांद्रता में कमी
  - 3. प्रति इकाई आयतन आयनों ( $H_3O^+/OH^-$ ) की सांद्रता में कमी
  - 4. प्रति लीटर आयतन आयनों ( $H_3O^+/OH^-$ ) की सांद्रता में वृद्धि

Question ID : 26433039459  
Status : Not Answered  
Chosen Option : --

Q.3 इलाहाबाद की निम्नलिखित में से किस हिंदुस्तानी गायिका को उसकी प्रसिद्ध समकालीन गौहर जान के साथ, 1911 में दिल्ली दरबार में सम्राट जॉर्ज पंचम के लिए प्रदर्शन करने का सौभाग्य प्राप्त हुआ था?

- Ans  1. जानकी बाई  
 2. अल्लाह जिलाई बाई  
 3. अनुपमा  
 4. शोभा अभ्यंकर

Question ID : 26433042333  
Status : Not Answered  
Chosen Option : --

Q.4 हॉकी के मैदान का आयाम (लम्बाई-चौड़ाई) कितना होता है?

- Ans  1.  $100 \times 55$  m  
 2.  $91.4 \times 55$  m  
 3.  $90 \times 50$  m  
 4.  $100.3 \times 50$  m

Question ID : 26433044528  
Status : Not Answered  
Chosen Option : --

Q.5 निम्नलिखित में से कौन सा नृत्य मंदिरों को समर्पित किया जाता है और पहले सादिर के रूप में जाना जाता था?

- Ans  1. भरतनाट्यम्  
 2. कथक  
 3. मणिपुरी  
 4. कथकली

Question ID : 26433041967  
Status : Not Answered  
Chosen Option : --

Q.6 किस सब्जी में एंथोसायनिन नामक रसायन होता है जो अम्ल की उपस्थिति में गुलाबी/लाल हो जाता है, उदासीन होने पर बैंगनी हो जाता है और क्षारीय पदार्थों के साथ मिलाने पर नीला या हरा हो जाता है?

- Ans  1. अनार  
 2. मूली  
 3. लाल गोभी  
 4. लाल पत्ता सलाद

Question ID : 26433044865  
Status : Not Answered  
Chosen Option : --

Q.7 'ट्रेन टु पाकिस्तान' \_\_\_\_\_ द्वारा लिखित पुस्तक है, जिन्होंने राज्यसभा के सदस्य के रूप में भी कार्य किया है।

- Ans  1. मुल्क राज आनंद  
 2. खुशवंत सिंह  
 3. अनीता देसाई  
 4. विक्रम सेठ

Question ID : 26433038750  
Status : Answered  
Chosen Option : 1



Q.8 निम्नलिखित में से कौन-सी धातु, जिसका परमाणु क्रमांक 3 है, बहुत कम घनत्व वाली एक नरम, चांदी जैसी धातु है जो पानी के साथ तेजी से अभिक्रिया करती है और हवा में जल्द संक्षारित हो जाती है?

- Ans  1. लिथियम  
 2. रूबिडियम  
 3. सोडियम  
 4. पोटेशियम

Question ID : 26433044820  
Status : Answered  
Chosen Option : 1

Q.9 फरवरी 2022 में, राष्ट्रीय शैक्षिक अनुसंधान और प्रशिक्षण परिषद (NCERT) का निदेशक किसे नियुक्त किया गया?

- Ans  1. प्रोफेसर एम. सी. शर्मा  
 2. प्रोफेसर हृषिकेश सेनापति  
 3. प्रोफेसर दिनेश प्रसाद सकलानी  
 4. प्रोफेसर जे. एस राजपूत

Question ID : 26433041828  
Status : Answered  
Chosen Option : 3

Q.10 कौन-सा जल निकाय 1,55,58,000 km<sup>2</sup> के क्षेत्रफल में फैला है और वैश्विक महासागर का केवल 4.3% हिस्सा बनाता है?

- Ans  1. आर्कटिक महासागर  
 2. अटलांटिक महासागर  
 3. हिंद महासागर  
 4. दक्षिणी महासागर

Question ID : 26433044886  
Status : Not Answered  
Chosen Option : --

Q.11 \_\_\_\_\_ ने अपनी पत्नी (जो खुद एक नर्तकी हैं) और बेटे के साथ 1993 में 'सृजन (Srjan)' का निर्माण किया।

- Ans  1. देबा प्रसाद दास  
 2. पंकज चरण दास  
 3. केलुचरण महापात्रा  
 4. रघुनाथ दत्ता

Question ID : 26433044613  
Status : Not Answered  
Chosen Option : --

Q.12 निम्नलिखित में से कौन शीर्ष चार नागरिक पुरस्कारों अर्थात् पद्म श्री, पद्म भूषण, पद्म विभूषण और भारत रत्न के प्राप्तकर्ता हैं?

- Ans  1. उस्ताद बड़े गुलाम अली खाँ  
 2. पंडित भीमसेन जोशी  
 3. पंडित रविशंकर  
 4. उस्ताद बिस्मिल्लाह खाँ

Question ID : 26433041926  
Status : Not Answered  
Chosen Option : --

Q.13 मामे खान \_\_\_\_\_ के एक भारतीय पार्श्व और लोक गायक हैं।

- Ans
- 1. उत्तर प्रदेश
  - 2. केरल
  - 3. आंध्र प्रदेश
  - 4. राजस्थान

Question ID : 26433042260  
Status : Not Answered  
Chosen Option : --

Q.14 विवादास्पद उपन्यास 'लज्जा' की लेखिका कौन हैं?

- Ans
- 1. शोभा डे
  - 2. अरुंधति रॉय
  - 3. किरण बेदी
  - 4. तस्लीमा नसरीन

Question ID : 26433041917  
Status : Not Answered  
Chosen Option : --

Q.15 स्वतंत्रता पूर्व युग में भारतीय नृत्य की दुनिया में कदम रखने वाले अग्रणी योग सुंदर देसाई का जन्म 16 जुलाई, 1921 को \_\_\_\_\_ में हुआ था।

- Ans
- 1. गुजरात
  - 2. मध्य प्रदेश
  - 3. राजस्थान
  - 4. महाराष्ट्र

Question ID : 26433044638  
Status : Answered  
Chosen Option : 1

Q.16 'प्लेइंग टू विन' नामक आत्मकथा निम्नलिखित में से किस भारतीय खिलाड़ी ने लिखी है?

- Ans
- 1. सानिया मिर्जा
  - 2. साइना नेहवाल
  - 3. पी वी सिंधु
  - 4. कर्णम मल्लेश्वरी

Question ID : 26433041700  
Status : Not Answered  
Chosen Option : --

Q.17 भारतीय संविधान का कौन सा अनुच्छेद राज्यपाल की सभी कार्यपालिका शक्तियों से संबंधित है?

- Ans
- 1. अनुच्छेद 157
  - 2. अनुच्छेद 156
  - 3. अनुच्छेद 154
  - 4. अनुच्छेद 150

Question ID : 26433039645  
Status : Answered  
Chosen Option : 2

Q.18 मई 2021 में, एम. आर. विजयभास्कर बनाम किस मामले में, सर्वोच्च न्यायालय ने कहा कि न्यायाधीशों द्वारा की गयी मौखिक टिप्पणियों सहित न्यायालयों में चलने वाली कार्यवाहियों की रिपोर्टिंग भी वाक् और अभिव्यक्ति की स्वतंत्रता के अंतर्गत आती है?

- Ans
- 1. नियंत्रक और महालेखापरीक्षक
  - 2. मुख्य चुनाव आयुक्त
  - 3. लोकसभा अध्यक्ष
  - 4. संघ लोक सेवा आयोग के अध्यक्ष

Question ID : 26433044387  
Status : Not Answered  
Chosen Option : --

Q.19 भारत के किस राज्य में शेषाचलम बायोस्फीयर रिज़र्व स्थित है?

- Ans
- 1. आंध्र प्रदेश
  - 2. तमिलनाडु
  - 3. केरल
  - 4. कर्नाटक

Question ID : 26433039668  
Status : Answered  
Chosen Option : 1

Q.20 नवंबर 2021 में सर्वोच्च न्यायालय को सीबीआई द्वारा दिये गये हलफनामे के अनुसार, भारत के आठ राज्यों ने अपने क्षेत्र में जांच करने के लिए सीबीआई को दी गयी अपनी 'आम सहमति' वापस ले ली है। निम्नलिखित में से कौन-सा राज्य उनमें शामिल नहीं है?

- Ans
- 1. कर्नाटक
  - 2. केरल
  - 3. मिज़ोरम
  - 4. झारखंड

Question ID : 26433041817  
Status : Not Answered  
Chosen Option : --

Q.21 नर्तकी नटराज, \_\_\_\_\_, पद्म श्री प्राप्त करने वाले प्रथम ट्रांस व्यक्ति बन गई हैं।

- Ans
- 1. कथक नर्तकी
  - 2. ओडिसी नर्तकी
  - 3. मणिपुरी नर्तकी
  - 4. भरतनाट्यम नर्तकी

Question ID : 26433044640  
Status : Not Answered  
Chosen Option : --

Q.22 नूरान बहनें भारतीय संगीत की निम्नलिखित में से किस विधा के लिए प्रसिद्ध हैं?

- Ans
- 1. सूफी
  - 2. हिंदुस्तानी शास्त्रीय
  - 3. कव्वाली
  - 4. गज़ल

Question ID : 26433042168  
Status : Answered  
Chosen Option : 3

Q.23 निम्नलिखित में से किसे राजकोषीय घाटा कहा जा सकता है?

- Ans
- 1. राजस्व व्यय – राजस्व प्राप्तियां
  - 2. कुल व्यय – उधार के अलावा कुल प्राप्तियां
  - 3. पूंजीगत व्यय – पूंजीगत प्राप्तियां
  - 4. राजस्व व्यय + पूंजीगत व्यय – राजस्व प्राप्तियां

Question ID : 26433042048  
Status : Answered  
Chosen Option : 1

Q.24 फुटबॉल में खिलाड़ी को चेतावनी देने के लिए किस रंग का कार्ड इस्तेमाल किया जाता है?

- Ans
- 1. पीला
  - 2. हरा
  - 3. नीला
  - 4. लाल

Question ID : 26433042200  
Status : Answered  
Chosen Option : 1

Q.25 खाद्य श्रृंखला के किस स्तर में मिलीपीड, स्पिंगटेल, वुडलाइस, गोबर मक्खियां और घोंघा शामिल होते हैं जो मृत या सड़ने वाले पादपों या जन्तुओं से पोषण प्राप्त करते हैं?

- Ans
- 1. अपरदाहारी
  - 2. सर्वाहारी
  - 3. शाकाहारी
  - 4. मांसाहारी

Question ID : 26433044763  
Status : Answered  
Chosen Option : 1

## Combined Higher Secondary Level Examination 2021 Tier I

Roll Number	
Candidate Name	
Venue Name	
Exam Date	24/05/2022
Exam Time	12:30 PM - 1:30 PM
Subject	CHSL 2021 Tier I

Section : **English Language**

**Q.1** Select the most appropriate **ANTONYM** of the underlined word in the following sentence.

I felt terribly jaded after working all weekend.

- Ans**
- 1. refreshed
  - 2. spent
  - 3. vigorous
  - 4. gluttoned

Question ID : 26433042843  
Status : **Answered**  
Chosen Option : 1

**Q.2** Select the most appropriate meaning of the given idiom.  
Gear up for

- Ans**
- 1. Pass into
  - 2. Put on
  - 3. Start off
  - 4. Get ready for

Question ID : 26433039048  
Status : **Answered**  
Chosen Option : 4

**Q.3** Select the option that will improve the underlined part of the given sentence.  
One's family plays a very major role to continue the trends and age-old traditions.

- Ans**
- 1. passive role in making the trends
  - 2. significant role in enduring the trends
  - 3. futile part in making trends
  - 4. docile part in enduring trends

Question ID : 26433045397  
Status : **Answered**  
Chosen Option : 2

**Q.4** Select the **INCORRECTLY** spelt word.

- Ans**
- 1. Occular
  - 2. Phlegmatic
  - 3. Martinet
  - 4. Congenital

Question ID : 26433039067  
Status : **Marked For Review**  
Chosen Option : 2

**Q.5** Select the most appropriate **ANTONYM** of the highlighted word.  
The malice **he** developed for all caused a lot of damage.

- Ans  1. oppression  
 2. sympathy  
 3. grace  
 4. avarice

Question ID : 26433045494  
Status : Answered  
Chosen Option : 2

**Q.6** Select the correctly spelt word to fill in the blank.  
The people from sub-continent are very \_\_\_\_\_.

- Ans  1. supersctitious  
 2. superstitios  
 3. supersticious  
 4. superstitious

Question ID : 26433042950  
Status : Answered  
Chosen Option : 4

**Q.7** Select the option that expresses the given sentence in passive voice.  
Kiara will sign all the documents tomorrow.

- Ans  1. All the documents will be signed by Kiara tomorrow.  
 2. Kiara was to be signed by tomorrow for all the documents.  
 3. Kiara would have been signed tomorrow by all the documents.  
 4. Tomorrow Kiara will be signed by all the documents.

Question ID : 26433040070  
Status : Answered  
Chosen Option : 1

**Q.8** Select the option that can be used as a one-word substitute for the given group of words.  
Unable to speak distinctly or express oneself clearly

- Ans  1. Inarticulate  
 2. Inane  
 3. Inapt  
 4. Inarch

Question ID : 26433040103  
Status : Answered  
Chosen Option : 1

**Q.9** Select the most appropriate meaning of the given idiom.  
Call upon

- Ans  1. To follow  
 2. To stop  
 3. To order  
 4. To adjust

Question ID : 26433042936  
Status : Answered  
Chosen Option : 3

Q.10 Select the INCORRECTLY spelt word.

- Ans  1. Efficient  
 2. Layer  
 3. Feeld  
 4. Committee

Question ID : 26433039791  
Status : Answered  
Chosen Option : 3

Q.11 Select the most appropriate synonym of the word given in the brackets to fill in the blank.  
The university team won the match in the end with a \_\_\_\_\_ (cunning) move.

- Ans  1. random  
 2. quick  
 3. brilliant  
 4. slick

Question ID : 26433045437  
Status : Answered  
Chosen Option : 3

Q.12 Select the option that expresses the given sentence in active voice.  
A trip to the village temple was made by Bhavani yesterday.

- Ans  1. Bhavani tripped to the village temple yesterday.  
 2. Bhavani was going to make a trip to the temple yesterday.  
 3. Bhavani made a trip to the village temple yesterday.  
 4. Bhavani is going to make a trip to the temple today.

Question ID : 26433043027  
Status : Answered  
Chosen Option : 3

Q.13 Select the most appropriate option that can substitute the underlined segment in the given sentence.

He dreams big than his friends.

- Ans  1. most big  
 2. biggest  
 3. more big  
 4. bigger

Question ID : 26433042772  
Status : Answered  
Chosen Option : 4

Q.14 Select the most appropriate synonym of the given word.  
Abundant

- Ans  1. Plentiful  
 2. Scarce  
 3. Ephemeral  
 4. Abysmal

Question ID : 26433039970  
Status : Answered  
Chosen Option : 1

**Q.15** Sentences of a paragraph are given below in jumbled order. Arrange the sentences in the correct order to form a meaningful and coherent paragraph.

**A.** The first time that I was seated behind a curtain in a dining car, I felt as if the curtain had been dropped on my selfhood and could never adjust to the separate waiting rooms, separate eating places, separate rest rooms, partly because the separate was always unequal, and partly because the very idea of separation did something to my sense of dignity and self-respect.

**B.** One Sunday, we went to church in Simsbury, and we were the only Negroes there and on Sunday mornings I was the religious leader and spoke on any text I wanted to 107 boys.

**C.** Just before going to college I went to Simsbury, Connecticut, and worked for a whole summer on a tobacco farm to earn a little school money to supplement what my parents were doing.

**D.** After that summer in Connecticut, it was a bitter feeling going back to segregation and it was hard to understand why I could ride wherever I pleased on the train from New York to Washington and then had to change to a Jim Crow car at the nation's capital in order to continue the trip to Atlanta.

- Ans
- 1. CDBA
  - 2. BCDA
  - 3. ADBC
  - 4. CBDA

Question ID : 26433045609  
Status : Answered  
Chosen Option : 2

**Q.16** Select the option that can be used as a one-word substitute for the given group of words.

**A** small organised dissenting group within a larger one

- Ans
- 1. Faction
  - 2. Band
  - 3. Cluster
  - 4. Set

Question ID : 26433039900  
Status : Answered  
Chosen Option : 3

**Q.17** Select the option that expresses the given sentence in passive voice.  
**The boy kicked the ball high into the air.**

- Ans
- 1. The ball will be kicked high into the air by the boy.
  - 2. The boy kicks the ball high into the air.
  - 3. The ball was kicked high into the air by the boy.
  - 4. The boy had kicked the ball high into the air.

Question ID : 26433039708  
Status : Answered  
Chosen Option : 3

**Q.18** Select the most appropriate meaning of the idiom given in bold in the following sentence.

**At supper, everyone was** in high spirits.

- Ans
- 1. cheerful
  - 2. anxious
  - 3. nervous
  - 4. drunk

Question ID : 26433042804  
Status : Answered  
Chosen Option : 1



**Q.19** Select the denotation of the highlighted word.

The guile of the businessman is well known to his contemporaries.

- Ans
- 1. Courage
  - 2. Gentleness
  - 3. Slyness
  - 4. Shyness

Question ID : 26433045532  
Status : Answered  
Chosen Option : 1

**Q.20** Select the most appropriate option to fill in the blank.

A wise king's wisdom \_\_\_\_\_ the land like the sun.

- Ans
- 1. darkens
  - 2. illuminates
  - 3. spreads
  - 4. dims

Question ID : 26433043121  
Status : Answered  
Chosen Option : 2

**Comprehension:**

In the following passage, some words have been deleted. Read the passage carefully and select the most appropriate option to fill in each blank.

Novelists when they write novels tend to take an almost god-like attitude (1) \_\_\_\_\_ their subject, pretending to a total comprehension of the story, a man's life, (2) \_\_\_\_\_ they can therefore recount as God Himself might, nothing standing between them and the naked truth, the entire story meaningful in (3) \_\_\_\_\_ detail. I am as little able to do this as the novelist is, even though my story is more important to me than any novelist's is to him – for this is my story; it is the story of a man, not of an invented, or possible, or idealised or otherwise (4) \_\_\_\_\_ figure, but of a unique (5) \_\_\_\_\_ of flesh and blood.

**SubQuestion No : 21**

**Q.21** Select the most appropriate option to fill in blank number 1.

- Ans
- 1. despite
  - 2. under
  - 3. towards
  - 4. through

Question ID : 26433045653  
Status : Answered  
Chosen Option : 3

**Comprehension:**

In the following passage, some words have been deleted. Read the passage carefully and select the most appropriate option to fill in each blank.

Novelists when they write novels tend to take an almost god-like attitude (1) \_\_\_\_\_ their subject, pretending to a total comprehension of the story, a man's life, (2) \_\_\_\_\_ they can therefore recount as God Himself might, nothing standing between them and the naked truth, the entire story meaningful in (3) \_\_\_\_\_ detail. I am as little able to do this as the novelist is, even though my story is more important to me than any novelist's is to him – for this is my story; it is the story of a man, not of an invented, or possible, or idealised or otherwise (4) \_\_\_\_\_ figure, but of a unique (5) \_\_\_\_\_ of flesh and blood.

**SubQuestion No : 22**

**Q.22 Select the most appropriate option to fill in blank number 2.**

- Ans  1. whom  
 2. whose  
 3. which  
 4. who

Question ID : 26433045654  
 Status : Answered  
 Chosen Option : 3

**Comprehension:**

In the following passage, some words have been deleted. Read the passage carefully and select the most appropriate option to fill in each blank.

Novelists when they write novels tend to take an almost god-like attitude (1) \_\_\_\_\_ their subject, pretending to a total comprehension of the story, a man's life, (2) \_\_\_\_\_ they can therefore recount as God Himself might, nothing standing between them and the naked truth, the entire story meaningful in (3) \_\_\_\_\_ detail. I am as little able to do this as the novelist is, even though my story is more important to me than any novelist's is to him – for this is my story; it is the story of a man, not of an invented, or possible, or idealised or otherwise (4) \_\_\_\_\_ figure, but of a unique (5) \_\_\_\_\_ of flesh and blood.

**SubQuestion No : 23**

**Q.23 Select the most appropriate option to fill in blank number 3.**

- Ans  1. last  
 2. self  
 3. every  
 4. present

Question ID : 26433045655  
 Status : Answered  
 Chosen Option : 3

**Comprehension:**

In the following passage, some words have been deleted. Read the passage carefully and select the most appropriate option to fill in each blank.

Novelists when they write novels tend to take an almost god-like attitude (1) \_\_\_\_\_ their subject, pretending to a total comprehension of the story, a man's life, (2) \_\_\_\_\_ they can therefore recount as God Himself might, nothing standing between them and the naked truth, the entire story meaningful in (3) \_\_\_\_\_ detail. I am as little able to do this as the novelist is, even though my story is more important to me than any novelist's is to him – for this is my story; it is the story of a man, not of an invented, or possible, or idealised or otherwise (4) \_\_\_\_\_ figure, but of a unique (5) \_\_\_\_\_ of flesh and blood.

**SubQuestion No : 24**

**Q.24 Select the most appropriate option to fill in blank number 4.**

- Ans  1. absent  
 2. callous  
 3. profuse  
 4. ordinary

Question ID : 26433045656  
 Status : Answered  
 Chosen Option : 4

**Comprehension:**

In the following passage, some words have been deleted. Read the passage carefully and select the most appropriate option to fill in each blank.

Novelists when they write novels tend to take an almost god-like attitude (1) \_\_\_\_\_ their subject, pretending to a total comprehension of the story, a man's life, (2) \_\_\_\_\_ they can therefore recount as God Himself might, nothing standing between them and the naked truth, the entire story meaningful in (3) \_\_\_\_\_ detail. I am as little able to do this as the novelist is, even though my story is more important to me than any novelist's is to him – for this is my story; it is the story of a man, not of an invented, or possible, or idealised or otherwise (4) \_\_\_\_\_ figure, but of a unique (5) \_\_\_\_\_ of flesh and blood.

**SubQuestion No : 25**

**Q.25** Select the most appropriate option to fill in blank number 5.

- Ans  1. being  
 2. cripple  
 3. stance  
 4. organism

Question ID : 26433045657  
 Status : Answered  
 Chosen Option : 1

Section : **General Intelligence**

**Q.1** दिए गए संयोजन के सही दर्पण प्रतिबिंब का चयन करें जब दर्पण को MN पर दर्शाए गए अनुसार रखा जाता है।



- Ans  1. BpR782q  
 2. pR782q  
 3. BpR782  
 4. BpR78q2

Question ID : 26433040384  
 Status : Answered  
 Chosen Option : 1

**Q.2** उस विकल्प का चयन करें जो दिए गए शब्दों के उस सही क्रम का निरूपण करता है जैसे कि वे एक अंग्रेजी शब्दकोश में दिखाई देंगे।

1. Negotiation
2. Negate
3. Networking
4. Negligible
5. Newspaper

- Ans  1. 2,1,4,3,5  
 2. 4,1,2,3,5  
 3. 2,4,1,3,5  
 4. 4,2,1,3,5

Question ID : 26433040377  
 Status : Answered  
 Chosen Option : 3

Q.3 उस विकल्प का चयन कीजिए जो उन अक्षरों को निरूपित करता है, जिन्हें रिक्त स्थानों में बाएं से दाएं रखने पर अक्षर श्रृंखला पूरी हो जाएगी।

S \_ O Z Q T L O \_ Q U \_ O \_ Q V L O Z \_

Ans  1. L Z L Z Q

2. Z L Z Q L

3. L Z Q Z L

4. Z L Q L Z

Question ID : 26433040430

Status : Answered

Chosen Option : 1

Q.4 नीचे दिए गए समीकरण में \* चिह्नों को बदलने और समीकरण को संतुलित करने के लिए गणितीय चिह्नों के सही संयोजन का चयन कीजिए।

$42 \times 4 \times 69 \times 3 \times 29 \times 60 \times 5$

Ans  1. +, =, -, x, ÷, -

2. +, ÷, =, -, x, +

3. -, =, x, +, x, ÷

4. x, -, =, x, ÷, +

Question ID : 26433040253

Status : Answered

Chosen Option : 4

Q.5 दिए गए समीकरण में \* चिह्नों को क्रमिक रूप से बदलने और समीकरण को संतुलित करने के लिए गणितीय चिह्नों के सही संयोजन का चयन कीजिए।

$16 \times 4 \times 8 \times 10 \times 2 \times 24$

Ans  1. x, ÷, -, +, =

2. -, ÷, +, x, =

3. ÷, x, -, +, =

4. ÷, +, x, -, =

Question ID : 26433040607

Status : Answered

Chosen Option : 3

Q.6 दिए गए संख्या-युग्मों में दूसरी संख्या पहली संख्या पर कुछ गणितीय संक्रियाएँ करके प्राप्त की जाती है। एक संख्या को छोड़कर सभी संख्या-युग्मों में एक ही संक्रिया की गई है। उस असमान संख्या-युग्म को ज्ञात कीजिए।

Ans  1. 225 : 18

2. 256 : 19

3. 169 : 14

4. 196 : 17

Question ID : 26433040356

Status : Answered

Chosen Option : 3

Q.7 दिए गए संयोजन के सही दर्पण प्रतिबिंब का चयन करें जब दर्पण को MN पर दर्शाए गए अनुसार रखा जाता है।

hGY98W  
 $\begin{array}{c} M \\ | \\ N \end{array}$

Ans

- ✓ 1. W8eY᠒d  
 ✗ 2. 8W᠒eY᠒d  
 ✗ 3. 8eY᠒d  
 ✗ 4. W8eY᠒

Question ID : 26433040387  
 Status : Answered  
 Chosen Option : 1

Q.8 निम्नलिखित में से कौन-सी संख्या दी गई श्रृंखला में प्रश्न चिह्न (?) को प्रतिस्थापित करेगी?  
 286,303,320,371,422,507,?

Ans

- ✗ 1. 626  
 ✗ 2. 602  
 ✓ 3. 592  
 ✗ 4. 582

Question ID : 26433043261  
 Status : Answered  
 Chosen Option : 3

Q.9 एक निश्चित कूट भाषा में, 'SAMPLE' को 'RYJLGY' लिखा जाता है और 'MAPLE' को 'LYMHZ' लिखा जाता है। उस भाषा में 'PEOPLE' को कैसे लिखा जाएगा?

Ans

- ✗ 1. OBGLGY  
 ✗ 2. OCLLGL  
 ✗ 3. GCLLGY  
 ✓ 4. OCLLGY

Question ID : 26433043408  
 Status : Answered  
 Chosen Option : 4

Q.10 निम्नलिखित में से कौन-सा अक्षर-समूह दी गई श्रृंखला को पूरा करने के लिए प्रश्न चिह्न (?) को प्रतिस्थापित करेगा?  
 DRBZ, ABKX, ?, UVCT, RFLR

Ans

- ✗ 1. YDBE  
 ✗ 2. YDMC  
 ✓ 3. XLTV  
 ✗ 4. XUIV

Question ID : 26433044987  
 Status : Answered  
 Chosen Option : 3

Q.11 नीचे दिए गए समीकरण में \* चिह्नों को बदलने और समीकरण को संतुलित करने के लिए गणितीय चिह्नों के सही संयोजन का चयन कीजिए।

$$37*3*21*79*18*4*19$$

- Ans
- 1. -, -, =, x, +, ÷
  - 2. +, x, -, =, +, -
  - 3. =, -, x, +, -, x
  - 4. x, +, -, =, x, -

Question ID : 26433040243  
Status : Answered  
Chosen Option : 4

Q.12 एक निश्चित कूट भाषा में 'WORTH' को 'ZRRWK' और 'TRACK' को 'WUAFN' लिखा जाता है। उसी भाषा में 'FAITH' को कैसे लिखा जाएगा?

- Ans
- 1. HDIWL
  - 2. KDIVK
  - 3. IDIWK
  - 4. JDIWK

Question ID : 26433045073  
Status : Answered  
Chosen Option : 3

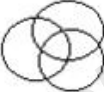



Q.13 दिए गए समीकरण में \* चिह्नों को क्रमिक रूप से बदलने और समीकरण को संतुलित करने के लिए गणितीय चिह्नों के सही संयोजन का चयन कीजिए।

$$25*5*10*2*8*60$$

- Ans
- 1. ÷, x, -, +, =
  - 2. -, +, ÷, x, =
  - 3. ÷, x, +, -, =
  - 4. x, ÷, -, +, =

Question ID : 26433040616  
Status : Answered  
Chosen Option : 2

Q.14 वेन आरेख का चयन करें, जो निम्नलिखित वर्गों के बीच संबंध को सर्वोत्तम रूप से दर्शाता है।  
बेड, बेडरूम, घर

- Ans
- 1. 
  - 2. 
  - 3. 
  - 4. 

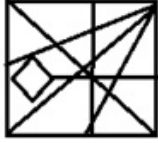
Question ID : 26433040145  
Status : Answered  
Chosen Option : 4

Q.15 उस विकल्प आकृति का चयन कीजिए जिसमें दी गई आकृति (X) उसके भाग के रूप में सन्निहित है।

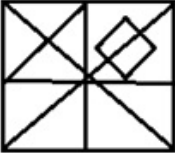


Ans

✓ 1.



✗ 2.



✗ 3.

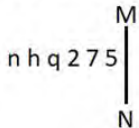


✗ 4.



Question ID : 26433045165  
Status : Answered  
Chosen Option : 1

Q.16 दिए गए संयोजन की सही दर्पण छवि का चयन करें, जब दर्पण को MN पर दिखाए गए अनुसार रखा गया हो।



Ans

✓ 1. 2 7 5 p h n

✗ 2. 2 7 5 p h n

✗ 3. 2 7 2 p h n

✗ 4. 2 7 5 p h n

Question ID : 26433040170  
Status : Answered  
Chosen Option : 1

Q.17 उस विकल्प का चयन करें जो पांचवें पद से उसी प्रकार संबंधित है जिस प्रकार दूसरा पद पहले पद से और चौथा पद तीसरे पद से संबंधित है।

AMOUNT : MOUNT :: BRIDGE : RIDGE :: BRIGHT : ?

Ans  1. KIGHT

2. RIGHT

3. NIGHT

4. SIGHT

Question ID : 26433045102

Status : Answered

Chosen Option : 2

Q.18 गणितीय चिह्नों के उस सही संयोजन का चयन कीजिए जिसके चिह्नों को दिए गए समीकरण में \* चिह्नों के स्थान पर क्रमिक रूप से रखने पर समीकरण संतुलित हो जाएगा।

$57*35*44*11*13*74$

Ans  1. ×, +, ÷, -, =

2. +, -, ×, ÷, =

3. +, -, ÷, ×, =

4. -, +, ÷, ×, =

Question ID : 26433043596

Status : Answered

Chosen Option : 4

Q.19 उस विकल्प का चयन करें जो पांचवीं संख्या से उसी प्रकार संबंधित है जिस प्रकार दूसरी संख्या पहली संख्या से संबंधित है और चौथी संख्या तीसरी संख्या से संबंधित है।

52 : 5 :: 100 : 7 :: 164 : ?

Ans  1. 8

2. 9

3. 11

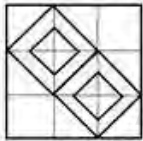
4. 7

Question ID : 26433045229

Status : Answered

Chosen Option : 2

Q.20 दी गई आकृति में कितने वर्ग हैं?



Ans  1. 12

2. 24

3. 9

4. 18

Question ID : 26433040410

Status : Answered

Chosen Option : 4



Q.21 उस विकल्प का चयन कीजिए, जो दिए गए शब्दों के उस सही क्रम को दर्शाता है, जैसा कि वे किसी अंग्रेजी शब्दकोश में दिखाई देंगे।

- 1.Dish
- 2.Disease
- 3.Discuss
- 4.Disjoin
- 5.Disgrace

Ans  1. 2, 3, 5, 1, 4  
 2. 2, 3, 1, 5, 4  
 3. 3, 2, 5, 1, 4  
 4. 3, 2, 1, 5, 4

Question ID : 26433040280  
Status : Answered  
Chosen Option : 3

Q.22 उस विकल्प का चयन कीजिए, जो पाँचवें पद से उसी प्रकार संबंधित है, जिस प्रकार दूसरा पद पहले पद से और चौथा पद तीसरे पद से संबंधित है।

DETAILS : TEDASLI :: EMPATHY : PMEAYHT :: FORMULA : ?

Ans  1. ROFMALU  
 2. RFOMALU  
 3. RFMALUO  
 4. ALUMROF

Question ID : 26433040255  
Status : Answered  
Chosen Option : 1

Q.23 नीचे दिए गए समीकरण में \* चिह्नों को बदलने और समीकरण को संतुलित करने के लिए गणितीय चिह्नों के सही संयोजन का चयन कीजिए।

$$91*15*5*18*37$$

Ans  1. +, =, x, -  
 2. =, ÷, x, +  
 3. -, =, +, -  
 4. +, -, =, x

Question ID : 26433040212  
Status : Answered  
Chosen Option : 2

Q.24 दिए गए समीकरण में \* चिह्नों को क्रमिक रूप से बदलने और समीकरण को संतुलित करने के लिए गणितीय चिह्नों के सही संयोजन का चयन कीजिए।

$$25*5*10*2*8*44$$

Ans  1. ÷, x, -, +, =  
 2. x, ÷, -, +, =  
 3. ÷, x, +, -, =  
 4. -, +, ÷, x, =

Question ID : 26433040619  
Status : Answered  
Chosen Option : 3

Q.25 दर्पण को 'PQ' पर दिखाए गए अनुसार रखे जाने पर दिए गए संयोजन की सही दर्पण छवि का चयन कीजिए।



- Ans
- 1. P B 5 9 F D
  - 2. P B 5 9 F D
  - 3. P B 5 9 F D
  - 4. P B 5 9 F D

Question ID : 26433045016  
Status : Answered  
Chosen Option : 3

Section : Quantitative Aptitude

Q.1 दी गई तालिका 2019 और 2014 के लोक सभा चुनावों में विभिन्न दलों के परिणाम दर्शाती है।

पार्टी का नाम	परिणाम 2019	परिणाम 2014
एजीपी	303	282
काँग्रेस पार्टी	52	43
सीएमके	23	0
एआईसीटी	22	34
कांता दल	16	2
शिव पार्टी	18	18

2019 में कांता दल, 2014 में काँग्रेस पार्टी और 2019 में शिव पार्टी के परिणाम का 2014 में एजीपी के परिणाम से अनुपात ज्ञात कीजिए।

- Ans
- 1. 283 : 77
  - 2. 145 : 77
  - 3. 77 : 141
  - 4. 77 : 282

Question ID : 26433045971  
Status : Answered  
Chosen Option : 4

Q.2 दो उम्मीदवारों के बीच हुए एक चुनाव में, रवि को कुल वैध मतों के 65% मत प्राप्त हुए। यदि मतों की कुल संख्या 6000 थी और 25% मत अवैध थे, तो अन्य उम्मीदवार सुशील को कितने वैध मत प्राप्त हुए?

- Ans
- 1. 1525
  - 2. 1775
  - 3. 1625
  - 4. 1575

Question ID : 26433042511  
Status : Answered  
Chosen Option : 4

Q.3 एक व्यक्ति शांत जल में 5 km/h की चाल से नाव चला सकता है। यदि धारा की चाल 2.5 km/h है, तो इसे धारा की विपरीत दिशा में समान दूरी तय करने के लिए धारा की दिशा में लगे समय से 4 घंटे अधिक लगते हैं। दूरी ज्ञात कीजिए।

- Ans
- 1. 12 km
  - 2. 15 km
  - 3. 10.5 km
  - 4. 7.5 km

Question ID : 26433039534  
Status : Answered  
Chosen Option : 2

Q.4 यदि एक बेलन की आधार त्रिज्या और ऊँचाई क्रमशः 4 cm और 5 cm है, तो बेलन का वक्र पृष्ठीय क्षेत्रफल ज्ञात कीजिए [ $\pi = 3.14$  का उपयोग कीजिए]।

- Ans
- 1. 125.6 cm<sup>2</sup>
  - 2. 119.6 cm<sup>2</sup>
  - 3. 138 cm<sup>2</sup>
  - 4. 129.8 cm<sup>2</sup>

Question ID : 26433044064  
Status : Answered  
Chosen Option : 1

Q.5 सरलीकरण करें:  $3p - [3p - \overline{p + q} - \{3p - (p - \overline{q - p})\}]$

- Ans
- 1.  $3p + 2q$
  - 2.  $p + 2q$
  - 3.  $3p - q$
  - 4.  $2p + 2q$

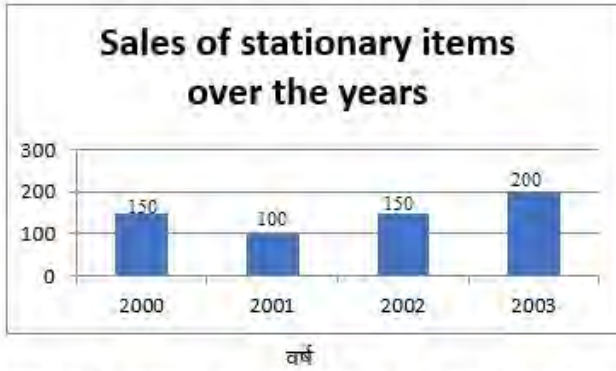
Question ID : 26433038660  
Status : Marked For Review  
Chosen Option : 4

Q.6 A और B मिलकर एक कार्य को 12 दिनों में कर सकते हैं, जबकि A अकेला उसी कार्य को 18 दिनों में पूरा कर सकता है। B अकेले उसी कार्य को पूरा करने में कितना समय लेगा?

- Ans
- 1. 36 दिन
  - 2. 12 दिन
  - 3. 24 दिन
  - 4. 6 दिन

Question ID : 26433041602  
Status : Answered  
Chosen Option : 1

Q.7



2002 की तुलना में, 2003 में प्रतिशत वृद्धि ज्ञात कीजिए।

- Ans
- 1. 54%
  - 2. 33.3%
  - 3. 24.45%
  - 4. 19.4%

Question ID : 26433045950  
Status : Answered  
Chosen Option : 2

Q.8 एक टेस्ट में, 50 विद्यार्थियों का औसत प्रप्तांक 66 है। कुल विद्यार्थियों में से 40% लड़कियाँ हैं और शेष लड़के हैं। लड़कों का औसत प्रप्तांक लड़कियों की तुलना में 20% कम है। लड़कियों का औसत प्रप्तांक क्या है?

- Ans
- 1. 80
  - 2. 75
  - 3. 70
  - 4. 65

Question ID : 26433038848  
Status : Answered  
Chosen Option : 2

Q.9 यदि एक घन का आयतन  $27 \text{ m}^3$  है, तो इसका पृष्ठीय क्षेत्रफल ( $\text{m}^2$  में) ज्ञात करें।

- Ans
- 1. 54
  - 2. 9
  - 3. 24
  - 4. 27

Question ID : 26433042570  
Status : Answered  
Chosen Option : 1

Q.10 एक दुकानदार अपने माल पर 30% अधिक मूल्य अंकित करता है और फिर अंकित मूल्य पर 10% की छूट देता है। इसके अलावा, वह एक दोषपूर्ण तराजू (बैलेंस) का उपयोग करता है जिसमें 870 g के वजन में 1 kg दिखाई देता है। उसका शुद्ध लाभ प्रतिशत क्या है?

- Ans
- 1. 34.48%
  - 2. 38.42%
  - 3. 38.24%
  - 4. 34.84%

Question ID : 26433039356  
Status : Answered  
Chosen Option : 1

Q.11 शोविक दो प्रकार की चीनी खरीदता है: पहला प्रकार ₹45 प्रति kg और दूसरा प्रकार ₹80 प्रति kg के मूल्य पर। शोविक को पहले प्रकार की चीनी को दूसरे प्रकार की चीनी के साथ किस अनुपात में मिलाना चाहिए ताकि मिश्रित चीनी के प्रत्येक kg को ₹72 प्रति kg में बेचने पर, उसे 20% का लाभ प्राप्त हो?

- Ans  1. 5 : 4  
 2. 4 : 3  
 3. 3 : 2  
 4. 3 : 4

Question ID : 26433043926  
 Status : Answered  
 Chosen Option : 2

Q.12  $\sin(-A) = ?$

- Ans  1.  $\sin A$   
 2.  $-\sin A$   
 3.  $-\cos A$   
 4.  $\cos A$

Question ID : 26433041550  
 Status : Answered  
 Chosen Option : 2

Q.13  $11 \div [1 + 1 \div \{1 + 1 \div (1 + 1 \div 3)\}]$  का मान \_\_\_\_\_ है।

- Ans  1. 1  
 2. 11  
 3. 7  
 4. 9

Question ID : 26433039152  
 Status : Answered  
 Chosen Option : 3

Q.14 एक व्यापारी अपने माल पर क्रय मूल्य से 45% अधिक मूल्य अंकित करता है। वह अपने ग्राहकों को 21% की छूट प्रदान करता है। उसका लाभ प्रतिशत ज्ञात करें। (निकटतम पूर्णांक में)

- Ans  1. 14%  
 2. 15%  
 3. 12%  
 4. 18%

Question ID : 26433038620  
 Status : Answered  
 Chosen Option : 2

Q.15 एक अर्धगोले का आयतन ज्ञात करें, जिसका व्यास 6 cm है। [ $\pi=22/7$  का प्रयोग कीजिए]

- Ans  1.  $48\pi \text{ cm}^3$   
 2.  $144\pi \text{ cm}^3$   
 3.  $18\pi \text{ cm}^3$   
 4.  $36\pi \text{ cm}^3$

Question ID : 26433041436  
 Status : Answered  
 Chosen Option : 3

Q.16 यदि  $a + b = 12$  और  $ab = 35$  है तो  $a^4 + b^4 - 10^3$  का मान ज्ञात कीजिए?

- Ans  1. 1226  
 2. 2126  
 3. 2226  
 4. 2026

Question ID : 26433041695  
 Status : Answered  
 Chosen Option : 4

Q.17 निम्नलिखित में से कौन-सी संख्या 7 से विभाज्य है?

- Ans  1. 3739  
 2. 3661  
 3. 3915  
 4. 3659

Question ID : 26433039512  
 Status : Answered  
 Chosen Option : 2

Q.18 एक आदमी P ने एक शहर के बाहरी इलाके में एक ज़मीन ₹4,32,000 में खरीदी। किसी कारण से, उसका मूल्य 25% प्रतिवर्ष गिरता रहा और 2 वर्ष बाद उसने यह ज़मीन Q को बेच दी। उस समय, शहर का विस्तार हुआ और बुनियादी ढांचे की नई परियोजनाएं आना शुरू हुईं। विस्तार के परिणाम स्वरूप, स्थावर संपदा (रियल एस्टेट) के मूल्य में 50% की बढ़ोतरी हुई। जब Q ने P से यह ज़मीन खरीदी, उस के दो वर्षों के बाद उस ज़मीन का मूल्य (₹ में) कितना होगा?

- Ans  1. ₹6,05,070  
 2. ₹5,46,750  
 3. ₹5,76,450  
 4. ₹5,57,450

Question ID : 26433042591  
 Status : Answered  
 Chosen Option : 2

Q.19 एक गांव की जनसंख्या 9,000 है। यदि वार्षिक जन्म दर 12.5% है और वार्षिक मृत्यु दर 2.5% है, तो तीन वर्ष बाद गांव की जनसंख्या की गणना कीजिए।

- Ans  1. 10959  
 2. 10755  
 3. 11979  
 4. 12256

Question ID : 26433038881  
 Status : Answered  
 Chosen Option : 3

Q.20 3 और 27 का मध्यानुपाती (mean proportion) ज्ञात कीजिए।

- Ans  1. 9  
 2. 10  
 3. 6  
 4. 5

Question ID : 26433042518  
 Status : Answered  
 Chosen Option : 1

Q.21 निम्न आंकड़ों का औसत क्या होगा?

1, 2, 3, 5, 17, 21 और 28

Ans  1. 9

2. 11

3. 12

4. 13

Question ID : 26433044077

Status : Answered

Chosen Option : 2

Q.22 एक नया मोबाइल बाजार में पेश किया गया है और इसका अंकित मूल्य, इसके मूल क्रय मूल्य से 25% अधिक रखा गया है। 20% का लाभ प्राप्त करने के लिए अंकित मूल्य पर कितनी छूट दी जानी चाहिए?

Ans  1. 10%

2. 2.50%

3. 4%

4. 5%

Question ID : 26433044214

Status : Answered

Chosen Option : 3

Q.23 यदि  $2a + b = 10$ ,  $2ab = 9$  और  $2a > b$  है, तो  $2a - b$  का मान ज्ञात करें।

Ans  1. 10

2. 6

3. 12

4. 8

Question ID : 26433042753

Status : Answered

Chosen Option : 4

Q.24 एक त्रिभुज ABC में, BC के समांतर एक सीधी रेखा AB और AC को क्रमशः बिंदु P और Q पर प्रतिच्छेद करती है। यदि  $AB = 6PB$  है तो  $PQ : BC$  ज्ञात कीजिए।

Ans  1. 5 : 6

2. 5 : 4

3. 3 : 4

4. 2 : 6

Question ID : 26433042635

Status : Answered

Chosen Option : 1

Q.25 एक कक्षा के 48 छात्रों की ऊँचाइयों को निम्न तालिका में दिखाया गया है।

ऊँचाई (cm में)	छात्रों की संख्या
150 तक	12
155 तक	16
160 तक	18
165 तक	33
170 तक	48

उन छात्रों का प्रतिशत क्या है जिनकी ऊँचाई 160 cm से अधिक है?

- Ans
- 1. 66.6%
  - 2. 37.5%
  - 3. 62.5%
  - 4. 33.3%

Question ID : 26433045914  
Status : Answered  
Chosen Option : 3

Section : General Awareness

Q.1 लोकसभा के अध्यक्ष और उपाध्यक्ष की अनुपस्थिति में, संसद के दोनों सदनों की संयुक्त बैठक की अध्यक्षता कौन करता है?

- Ans
- 1. लोकसभा का कोई भी वरिष्ठ सदस्य
  - 2. राज्यसभा का कोई भी वरिष्ठ सदस्य
  - 3. राज्यसभा के उपसभापति
  - 4. राज्यसभा के सभापति

Question ID : 26433039643  
Status : Answered  
Chosen Option : 1

Q.2 सर्वश्रेष्ठ ओरिजनल स्कोर के लिए ऑस्कर पुरस्कार जीतने वाले पहले भारतीय संगीतकार कौन हैं?

- Ans
- 1. रेसुल पूकुटी
  - 2. ए.आर. रहमान
  - 3. भानु अथैया
  - 4. महबूब खान

Question ID : 26433038770  
Status : Answered  
Chosen Option : 2

Q.3 किस कोशिका सिद्धांत ने सिद्ध किया कि वसा की अर्ध-द्रव प्रकृति समग्र द्विपरत के भीतर प्रोटीन के पार्श्व संचलन को सक्षम बनाती है?

- Ans
- 1. गॉल्जीकार्यों का मॉडल
  - 2. रिक्तिका सिद्धांत
  - 3. कोशिका सिद्धांत
  - 4. द्रव मोज़ेक मॉडल

Question ID : 26433039441  
Status : Answered  
Chosen Option : 4



Q.4 आमतौर पर किसी आर्थिक सूचकांक में वर्षों की श्रृंखला के किस वर्ष को आधार वर्ष कहा जाता है?

- Ans
- 1. दसवें वर्ष को
  - 2. अंतिम वर्ष को
  - 3. पहले वर्ष को
  - 4. बीसवें वर्ष को

Question ID : 26433042148  
Status : Answered  
Chosen Option : 2

Q.5 निम्नलिखित में से कौन-सी पुस्तक अरुंधती रॉय द्वारा नहीं लिखी गई है?

- Ans
- 1. कैपिटलिज़्म
  - 2. ऐन ऑर्डिनरी परशन्स गाइड टु एम्पायर
  - 3. प्राइवेट लाइफ ऑव एन इंडियन प्रिंस
  - 4. द गॉड ऑफ स्माल थिंग्स

Question ID : 26433041914  
Status : Not Answered  
Chosen Option : --

Q.6 निम्नलिखित में से स्थलीय ग्रह की पहचान करें।

- Ans
- 1. अरुण (यूरेनस)
  - 2. बृहस्पति
  - 3. वरुण) नेपच्यून
  - 4. बुध

Question ID : 26433039469  
Status : Answered  
Chosen Option : 2

Q.7 निम्नलिखित में से कौन-से देश, 1 से 17 जुलाई 2022 तक संयुक्त रूप से एफ.आई.एच. (FIH) महिला हॉकी विश्व कप का आयोजन करेंगे?

- Ans
- 1. भारत और श्रीलंका
  - 2. भारत और पाकिस्तान
  - 3. स्पेन और नीदरलैंड
  - 4. स्पेन और जर्मनी

Question ID : 26433044489  
Status : Answered  
Chosen Option : 2

Q.8 1997 के बुकर पुरस्कार की विजेता 'द गॉड ऑफ स्मॉल थिंग्स' निम्नलिखित में से किस भारतीय लेखक का पहला उपन्यास है?

- Ans
- 1. किरण देसाई
  - 2. अनीता देसाई
  - 3. अरुंधति रॉय
  - 4. झुम्पा लाहिड़ी

Question ID : 26433042305  
Status : Answered  
Chosen Option : 3

Q.9 निम्नलिखित में से किसने नवंबर 2021 में 'DBT-स्टार कॉलेज मेंटरशिप प्रोग्राम' शुरू किया?

- Ans
- 1. पर्यटन मंत्रालय
  - 2. पोत परिवहन मंत्रालय
  - 3. विज्ञान एवं प्रौद्योगिकी मंत्रालय
  - 4. भारी उद्योग एवं सार्वजनिक उद्यम मंत्रालय

Question ID : 26433038911  
Status : Not Answered  
Chosen Option : --

Q.10 निम्नलिखित में से कौन भारत सरकार द्वारा पद्म श्री और पद्म भूषण पुरस्कार से सम्मानित होने वाले सबसे कम उम्र के तालवादक हैं?

- Ans
- 1. ज़ाकिर हुसैन
  - 2. सर्वर साबरी
  - 3. शिवमणि
  - 4. टी. एच. विनायकराम

Question ID : 26433042169  
Status : Not Answered  
Chosen Option : --

Q.11 डॉ. सुनंदा नायर को एक \_\_\_\_\_ कलाकार, शिक्षक और प्रस्तावक के रूप में पहचाना जाता है।

- Ans
- 1. कुचिपुडी
  - 2. कथकली
  - 3. कथक
  - 4. मोहिनीअट्टम

Question ID : 26433038805  
Status : Not Answered  
Chosen Option : --

Q.12 एम्पीयर के संबंध में सही कथन की पहचान करें।

- Ans
- 1. दो कूलॉम आवेश प्रति सेकंड के प्रवाह से एक एम्पीयर बनता है
  - 2. एक कूलॉम आवेश प्रति मिनट के प्रवाह से एक एम्पीयर बनता है
  - 3. आधा कूलॉम आवेश प्रति सेकंड के प्रवाह से एक एम्पीयर बनता है
  - 4. एक कूलॉम आवेश प्रति सेकंड के प्रवाह से एक एम्पीयर बनता है

Question ID : 26433039387  
Status : Answered  
Chosen Option : 4

Q.13 मीनाक्षी श्रीनिवासन को निम्नलिखित में से किस नृत्य शैली के लिए 2011 में उस्ताद बिस्मिल्लाह खान युवा पुरस्कार से सम्मानित किया गया?

- Ans
- 1. मोहिनीअट्टम
  - 2. भरतनाट्यम
  - 3. कुचिपुडी
  - 4. सत्रीया

Question ID : 26433042340  
Status : Not Answered  
Chosen Option : --

Q.14 नीचे दिए गए चित्र में दिखाए गए ट्रैक एंड फील्ड इवेंट का नाम बताइए।



- Ans
- 1. पुटिंग दि शॉट
  - 2. चक्का फेंक
  - 3. हैमर थ्रो
  - 4. भाला फेंक

Question ID : 26433042204  
Status : Answered  
Chosen Option : 4

Q.15 श्री षण्मुखानंद राष्ट्रीय प्रतिष्ठा पुरस्कार कब स्थापित किया गया?

- Ans
- 1. 2003
  - 2. 2000
  - 3. 2001
  - 4. 2002

Question ID : 26433041957  
Status : Not Answered  
Chosen Option : --

Q.16 आवर्त सारणी में अधातुओं का स्थान क्या है?

- Ans
- 1. सारणी में सबसे नीचे
  - 2. बाईं तरफ
  - 3. दाईं तरफ
  - 4. सबसे ऊपरी आवर्त में

Question ID : 26433039415  
Status : Answered  
Chosen Option : 3

Q.17 हाल ही में, भारत के बड़े कस्बों और शहरों में तेजी से डाक पहुँचाने की सुविधा के लिए कुछ मेल चैनल (mail channels) शुरू किए गए हैं। निम्नलिखित में से कौन इन मेल चैनलों का हिस्सा नहीं है?

- Ans
- 1. राजधानी चैनल
  - 2. स्टेट चैनल
  - 3. ग्रीन चैनल
  - 4. मेट्रो चैनल

Question ID : 26433042360  
Status : Answered  
Chosen Option : 4

Q.18 पद्म श्री पुरस्कार से सम्मानित गोपाल प्रसाद दुबे को निम्नलिखित में से किस नृत्य में उनके योगदान के लिए पुरस्कृत किया गया?

- Ans
- 1. पंथी
  - 2. छाऊ
  - 3. मोहिनीअट्टम
  - 4. सत्रीया नृत्य

Question ID : 26433041788  
Status : Not Answered  
Chosen Option : --

Q.19 शमशाद बेगम, हिंदी फिल्मों के लिए पार्श्व गायन करने वाली पहली महिलाओं में से एक, को वर्ष में हिंदी फिल्म संगीत में उनके योगदान के लिए प्रतिष्ठित ओपी नैयर पुरस्कार से सम्मानित किया गया था।

- Ans
- 1. 2012
  - 2. 2009
  - 3. 2005
  - 4. 2001

Question ID : 26433042330  
Status : Not Answered  
Chosen Option : --

Q.20 निम्नलिखित मराठी लेखकों में से कौन आत्मकथा 'मज्या जलमाची चित्रकथा' के लेखक थे?

- Ans
- 1. सुनीता देशपांडे
  - 2. शिवाजी सावंत
  - 3. कुसुमाग्रज
  - 4. शांताबाई कृष्णाजी कांबले

Question ID : 26433042301  
Status : Not Answered  
Chosen Option : --

Q.21 स्वास्थ्य मंत्री ने फरवरी 2022 में सबसे बड़े वैश्विक टीकाकरण अभियान के गहन संस्करण 4.0 को फिर से लॉन्च किया। करोड़ों गर्भवती महिलाओं और बच्चों को कवर करने वाले इस मिशन का नाम क्या है?

- Ans
- 1. मिशन सुरक्षा
  - 2. मिशन आरोग्य
  - 3. मिशन शक्ति
  - 4. मिशन इंद्रधनुष

Question ID : 26433041819  
Status : Answered  
Chosen Option : 4

Q.22 आवर्त सारणी में सोडियम कहाँ स्थित होता है?

- Ans
- 1. सबसे ऊपरी आवर्त में
  - 2. दाईं तरफ
  - 3. बाईं तरफ
  - 4. सारणी में सबसे नीचे

Question ID : 26433039414  
Status : Answered  
Chosen Option : 3

Q.23 आइसोपेंटेन, जिसे \_\_\_\_\_ भी कहा जाता है, एक शाखित-श्रृंखला संतृप्त हाइड्रोकार्बन है जिसका रासायनिक सूत्र  $C_5H_{12}$  है।

- Ans
- 1. आइसोब्यूटेन
  - 2. 2-मिथाइलब्यूटेन
  - 3. डाइमिथाइलब्यूटेन
  - 4. ब्यूटाडाईन

Question ID : 26433044811  
Status : Answered  
Chosen Option : 2

Q.24 निम्नलिखित भारतीय शास्त्रीय संगीतकारों में से किसे सबसे पहले भारत के सर्वोच्च नागरिक सम्मान 'भारत रत्न' से सम्मानित किया गया था?

- Ans
- 1. रवि शंकर
  - 2. मदुरई षणमुखावदितु सुब्बुलक्ष्मी
  - 3. बिस्मिल्लाह खान
  - 4. लता मंगेशकर

Question ID : 26433042313  
Status : Not Answered  
Chosen Option : --

Q.25 निम्नलिखित में से किसने कबड्डी में अर्जुन पुरस्कार 2021 प्राप्त किया?

- Ans
- 1. अजय ठाकुर
  - 2. जसवीर सिंह
  - 3. तेजस्विनी बाई वी
  - 4. संदीप नरवाल

Question ID : 26433041846  
Status : Not Answered  
Chosen Option : --