

## Constable GD in CAPFs NIA SSF and Rifleman GD in Assam Rifles Examination 2021

Roll Number	<a href="http://www.exammix.com">www.exammix.com</a>
Candidate Name	
Venue Name	ION Digital Zone iDZ 2 Patliputra
Exam Date	16/11/2021
Exam Time :	4:00 PM - 5:30 PM
Subject	Constable GD 2021

### Section : Part A General Intelligence and Reasoning

Q.1 दिए गए विकल्पों में से उस संख्या का चयन करें, जो निम्नलिखित श्रेणी में प्रश्नवाचक चिह्न (?) के स्थान पर आ सकती है।

209, 205, 196, 180, ?, 119

- Ans
- 1. 165
  - 2. 160
  - 3. 155
  - 4. 149

Question ID : 65497828857

Status : Answered

Chosen Option : 3

Q.2 किसी कूट भाषा में, APRIL को  $\div \times \beta \alpha @$  और MARCH को  $\text{€} \div \beta @ \infty$  लिखा जाता है। उसी कूट भाषा में PARAM को किस प्रकार लिखा जाएगा?

- Ans
- 1.  $\beta \times \div @ \text{€}$
  - 2.  $\div \times \div \text{€} \beta$
  - 3.  $\div \beta \times \div \text{€}$
  - 4.  $\times \div \beta \div \text{€}$

Question ID : 65497828848

Status : Answered

Chosen Option : 4

Q.3 चार अक्षर-समूह दिए गए हैं, जिनमें से तीन किसी तरह से संगत हैं और एक असंगत है। उस अक्षर-समूह का चयन करें, जो अन्य से असंगत है।

- Ans
- 1. AEI
  - 2. IOU
  - 3. ZDK
  - 4. AEU

Question ID : 65497828868

Status : Answered

Chosen Option : 3

Q.4 उस विकल्प का चयन करें, जिसमें दी गई संख्याओं के बीच वही संबंध है, जो दिए गए समूह की संख्याओं के बीच है।

11, 4, 137

- Ans  1. 9, 8, 145  
 2. 10, 5, 148  
 3. 12, 7, 190  
 4. 15, 14, 205

Question ID : 65497828864

Status : **Not Attempted and Marked For Review**

Chosen Option : --

Q.5 एक ही पासे की तीन अलग-अलग स्थितियां दिखाई गई हैं। प्रतीक '&' वाले फलक के विपरीत वाले फलक पर कौन-सी संख्या होगी / कौन-सा प्रतीक होगा?



- Ans  1. #  
 2. \$  
 3. 9  
 4. %

Question ID : 65497828853

Status : **Answered**

Chosen Option : 4

Q.6 दिए गए विकल्पों में से उस संख्या का चयन कीजिए, जो निम्नलिखित श्रेणी में प्रश्नवाचक चिह्न (?) के स्थान पर आ सकती है।

14, 15, 24, 49, 98, 179, ?

- Ans  1. 290  
 2. 300  
 3. 312  
 4. 340

Question ID : 65497828870

Status : **Answered**

Chosen Option : 2

Q.7 एक निश्चित कूट भाषा में, ALARMING को 150 लिखा जाता है। उसी कूट भाषा में FLOATER को किस प्रकार लिखा जाएगा?

- Ans
- 1. 156
  - 2. 141
  - 3. 154
  - 4. 124

Question ID : 65497828869

Status : **Not Attempted and Marked For Review**

Chosen Option : --

Q.8 उस विकल्प का चयन करें, जो दिए गए शब्दों के उस क्रम को दर्शाता है, जिस क्रम में ये शब्द अंग्रेजी शब्दकोश में मौजूद होते हैं।

1. Pitted
2. Pivot
3. Pixie
4. Pivotal
5. Pity

- Ans
- 1. 2, 1, 4, 5, 3
  - 2. 1, 5, 4, 2, 3
  - 3. 1, 5, 2, 4, 3
  - 4. 1, 2, 3, 4, 5

Question ID : 65497828855

Status : **Answered**

Chosen Option : 3

Q.9 उस विकल्प का चयन कीजिए, जिसका तीसरी संख्या से वही संबंध है, जो दूसरी संख्या का पहली संख्या से है; और छठी संख्या का पांचवीं संख्या से है।

16 : 120 :: 18 : ? :: 22 : 231

- Ans
- 1. 134
  - 2. 513
  - 3. 153
  - 4. 531

Question ID : 65497828851

Status : **Not Attempted and Marked For Review**

Chosen Option : --

Q.10 सीमा ने एक फोटो की ओर इशारा करते हुए मुझसे कहा, "वह तुम्हारे पिता का पुत्र है।" फोटो में मौजूद व्यक्ति का मेरे साथ क्या संबंध है?

- Ans
- 1. पिताजी
  - 2. दादा/नाना
  - 3. चाचा/ताऊ/फूफा/मामा/भौसा
  - 4. भाई

Question ID : 65497828849

Status : **Answered**

Chosen Option : 4

Q.11 दिए गए कथनों और निष्कर्षों को ध्यानपूर्वक पढ़ें। कथनों में दी गई जानकारी को सत्य मानते हुए विचार करें, भले ही वह सामान्यतः ज्ञात तथ्यों से भिन्न प्रतीत होती हो, और तय करें कि दिए गए निष्कर्षों में से कौन से कथनों का तार्किक रूप से पालन करते हैं?

कथन:

कोई लड़का इंजीनियर नहीं है।  
कोई इंजीनियर ड्राइवर नहीं है।  
सभी लड़कियां लड़के हैं।

निष्कर्ष:

I. सभी लड़के ड्राइवर हैं।  
II. कोई लड़की इंजीनियर नहीं है।

- Ans
- 1. केवल निष्कर्ष I पालन करता है।
  - 2. केवल निष्कर्ष II पालन करता है।
  - 3. निष्कर्ष I और II दोनों ही पालन करते हैं।
  - 4. या तो निष्कर्ष I या II पालन करता है।

Question ID : 65497828863

Status : Answered

Chosen Option : 2

Q.12 एक निश्चित कूट भाषा में MORSEL को LESROM लिखा जाता है। उसी कूट भाषा में GATEWAY को किस प्रकार लिखा जाएगा?

- Ans
- 1. AWYETAG
  - 2. YAWTEAG
  - 3. YAWATEG
  - 4. YAWETAG

Question ID : 65497828861

Status : Answered

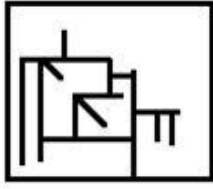
Chosen Option : 4

Q.13 उस विकल्प का चयन करें जिसमें दी गई आकृति सन्निहित है (आकृति को घुमाने की अनुमति नहीं है)।

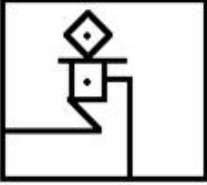


Ans

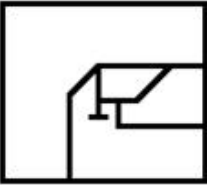
✓ 1.



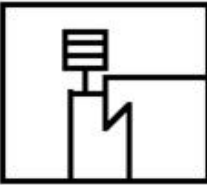
✗ 2.



✗ 3.



✗ 4.



Question ID : 65497828854

Status : Answered

Chosen Option : 1

Q.14 'क्रिकेट' का 'LBW' से वही संबंध है, जो 'शतरंज' का '\_\_\_\_\_' से है।

Ans ✗ 1. हिट विकेट

✗ 2. ड्यूस

✓ 3. चेकमेट

✗ 4. बैकस्ट्रोक

Question ID : 65497828860

Status : Answered

Chosen Option : 3

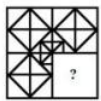
Q.15 उस विकल्प का चयन करें, जिसका तीसरे अक्षर-समूह से वही संबंध है, जो दूसरे अक्षर-समूह का पहले अक्षर-समूह से है।

HOST : FMQR :: DRON : ?

- Ans  1. BPML  
 2. BMPL  
 3. BPLM  
 4. BLMP

Question ID : 65497828847  
 Status : Answered  
 Chosen Option : 1

Q.16 दिए गए विकल्पों में से उस आकृति का चयन करें, जो निम्नांकित आकृति में प्रश्नवाचक चिह्न (?) के स्थान पर आ सकती है, और पैटर्न को पूरा कर सकती है (घुमाने की अनुमति नहीं है)।



- Ans  1.
- 2.
- 3.
- 4.

Question ID : 65497828858  
 Status : Answered  
 Chosen Option : 2

Q.17 अक्षरों के उस संयोजन का चयन करें, जिसे दी गई शृंखला के रिक्त स्थानों में क्रमवार रखे जाने पर शृंखला पूर्ण हो जाएगी।

D \_ \_ SHT \_ \_ RISH \_ \_ DRI \_ \_ TIDRIS \_ \_ I

- Ans  1. RITIDTSHHT  
 2. RIIDTISHHT  
 3. RDIITISHHT  
 4. RDIISHTIHT

Question ID : 65497828856  
 Status : Answered  
 Chosen Option : 1

Q.18 छह लड़कियां A, B, C, D, E और F दो ऊर्ध्वाधर पंक्तियों में खड़ी हैं; सभी लड़कियों का मुख उत्तर दिशा की ओर है। प्रत्येक पंक्ति में तीन लड़कियां हैं। E, D के ठीक पीछे है। F, A के बाईं ओर है। C, B के ठीक आगे है। A, D के ठीक आगे है। कौन सी दो लड़कियां पंक्तियों के अंतिम स्थानों पर खड़ी हैं?

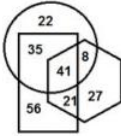
- Ans
- 1. A, F
  - 2. C, E
  - 3. A, B
  - 4. B, E

Question ID : 65497828862

Status : Not Answered

Chosen Option : --

Q.19 निम्नलिखित आरेख में, 'षट्भुज', 'इंजीनियरों' को निरूपित करता है, 'वृत्त', 'संगीत-प्रेमियों' को निरूपित करता है, और 'आयत', 'मॉर्निंग-वाँकरों' को निरूपित करता है। विभिन्न खंडों में दी गई संख्याएं, उस श्रेणी से संबंधित व्यक्तियों की संख्या को दर्शाती हैं।



कितने मॉर्निंग-वाँकर, संगीत प्रेमी हैं, लेकिन इंजीनियर नहीं हैं?

- Ans
- 1. 41
  - 2. 21
  - 3. 8
  - 4. 35

Question ID : 65497828867

Status : Answered

Chosen Option : 4

Q.20 यदि 21 मार्च 2007 को बुधवार है, तो 25 मई 2015 को सप्ताह का कौन सा दिन होगा?

- Ans
- 1. बुधवार
  - 2. सोमवार
  - 3. रविवार
  - 4. मंगलवार

Question ID : 65497828865

Status : Answered

Chosen Option : 2

Q.21 दिए गए विकल्पों में से उस अक्षर-समूह का चयन करें, जो निम्नलिखित शृंखला में प्रश्नवाचक चिह्न (?) के स्थान पर आ सकता है।

DOK, ENL, FMM, GLN, ?

Ans  1. GHP

2. HKO

3. GLO

4. HLP

Question ID : 65497828859

Status : Answered

Chosen Option : 2

Q.22 यदि 'A' का अर्थ 'जोड़ना' है, 'B' का अर्थ 'गुणा' है, 'C' का अर्थ 'घटाना' है, और 'D' का अर्थ 'भाग' है, तो निम्नलिखित व्यंजक का मान क्या होगा?

60 D 2 A 3 B 6 C 5 C (4 B 3)

Ans  1. 45

2. 41

3. 31

4. 35

Question ID : 65497828852

Status : Answered

Chosen Option : 3

Q.23 दिए गए संयोजन के सही दर्पण प्रतिबिंब का चयन कीजिए, जबकि दर्पण को इसकी दाईं ओर रखा गया है।

4 2 5 3 e f

Ans

1. 4 5 2 3 e f

2. 4 5 2 3 e f

3. 4 5 2 3 e f

4. 4 5 2 3 e f

Question ID : 65497828871

Status : Answered

Chosen Option : 3



- Q.24 (i) अनुपमा, भाव्या, चहल, दिलीप, सौरभ, वरुण और गोविंद, एक वृत्ताकार व्यवस्था में केंद्र की ओर मुख करके बैठे हैं और ताश खेल रहे हैं।  
 (ii) सौरभ अनुपमा और दिलीप के बगल में बैठा है।  
 (iii) गोविंद, वरुण और चहल के बीच में नहीं बैठा है।  
 (iv) वरुण, अनुपमा के दाईं ओर ठीक बगल में बैठा है।  
 व्यक्तियों का इनमें से कौन सा युग्म एक दूसरे के बगल में नहीं बैठा है?

Ans  1. दिलीप, सौरभ

2. भाव्या, अनुपमा

3. गोविंद, दिलीप

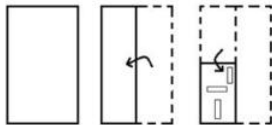
4. चहल, भाव्या

Question ID : 65497828850

Status : Not Answered

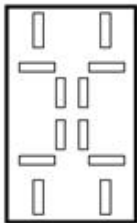
Chosen Option : --

- Q.25 कागज के एक टुकड़े को मोड़ने के क्रम और मुड़े हुए कागज को काटने के तरीके को निम्नलिखित आकृतियों में दर्शाया गया है। खोलने पर, यह कागज कैसा दिखाई देगा?

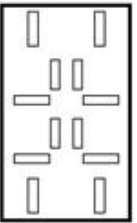


Ans


1.



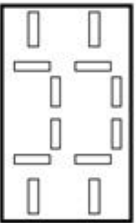
2.



3.



4.



Question ID : 65497828866

Status : Answered

Chosen Option : 1

Section : Part B General Knowledge and General Awareness

Q.1 निम्नलिखित में से कौन सा वनों की कटाई का परिणाम नहीं है?

- Ans
- 1. प्रकृति के समग्र संतुलन में गड़बड़ी
  - 2. पृथ्वी पर प्रदूषण के स्तर में वृद्धि
  - 3. भूजल के स्तर में कमी
  - 4. वायुमंडल में ऑक्सीजन के स्तर में वृद्धि

Question ID : 65497828881  
Status : Answered  
Chosen Option : 3

Q.2 महान फुटबॉल खिलाड़ी डिएगो माराडोना का नवंबर 2020 में निधन हो गया। उन्होंने निम्नलिखित में से किस देश का प्रतिनिधित्व किया था?

- Ans
- 1. फ्रांस
  - 2. अर्जेंटीना
  - 3. स्पेन
  - 4. ब्राज़ील

Question ID : 65497828876  
Status : Answered  
Chosen Option : 4

Q.3 अक्टूबर 2020 में, विश्व बैंक ने वित्त वर्ष 2020-21 में भारत के सकल घरेलू उत्पाद (GDP) में कितने प्रतिशत के संकुचन की उम्मीद की है?

- Ans
- 1. 9.5
  - 2. 9.6
  - 3. 9.8
  - 4. 9

Question ID : 65497828877  
Status : Answered  
Chosen Option : 1

Q.4 भारत की 2011 की जनगणना के अनुसार, देश में \_\_\_\_\_ सांविधिक कस्बे हैं।

- Ans
- 1. 4,041
  - 2. 1,362
  - 3. 10,756
  - 4. 7,935

Question ID : 65497828891  
Status : Answered  
Chosen Option : 3

Q.5 निम्नलिखित में से किस राज्य में अबोर पहाड़ियाँ स्थित हैं?

- Ans
- 1. पश्चिम बंगाल
  - 2. सिक्किम
  - 3. अरुणाचल प्रदेश
  - 4. असम

Question ID : 65497828878  
Status : Answered  
Chosen Option : 2

Q.6 सितंबर 2021 तक प्राप्त जानकारी के अनुसार, भारत ने 1960 में पैरालंपिक खेलों की शुरूआत के बाद से अब तक इसमें \_\_\_\_\_ पदक जीते हैं।

- Ans
- 1. 9 स्वर्ण, 10 रजत और 12 कांस्य
  - 2. 7 स्वर्ण, 11 रजत और 9 कांस्य
  - 3. 9 स्वर्ण, 12 रजत और 10 कांस्य
  - 4. 7 स्वर्ण, 9 रजत और 11 कांस्य

Question ID : 65497828895  
Status : Answered  
Chosen Option : 4

Q.7 बॉम्बे में पहली सूती कपड़ा मिल की स्थापना किस वर्ष की गई थी?

- Ans
- 1. 1845
  - 2. 1854
  - 3. 1867
  - 4. 1876

Question ID : 65497828873  
Status : Answered  
Chosen Option : 2

Q.8 संविधान (52वां संशोधन) अधिनियम, 1985 द्वारा जोड़ी गई भारतीय संविधान की \_\_\_\_\_ अनुसूची, दल-बदल के आधार पर, किसी व्यक्ति की संसद के किसी भी सदन या राज्य की विधान सभा या विधान परिषद के सदस्य होने से अयोग्यता से संबंधित है।

- Ans
- 1. पाँचवीं
  - 2. दसवीं
  - 3. तीसरी
  - 4. छठी

Question ID : 65497828874  
Status : Answered  
Chosen Option : 2

Q.9 केंद्रीय प्रदूषण नियंत्रण बोर्ड (CPCB) का गठन \_\_\_\_\_ के तहत किया गया था।

- Ans  1. राष्ट्रीय पर्यावरण न्यायाधिकरण अधिनियम, 1995  
 2. जल (प्रदूषण निवारण एवं नियंत्रण) अधिनियम 1974  
 3. वायु (प्रदूषण निवारण एवं नियंत्रण) अधिनियम, 1981  
 4. राष्ट्रीय पर्यावरण अपील प्रधिकरण अधिनियम, 1997

Question ID : 65497828888  
Status : Answered  
Chosen Option : 4

Q.10 निम्नलिखित में से कौन एक भारतीय बैडमिंटन खिलाड़ी है?

- Ans  1. आशीष कुमार  
 2. सतीश कुमार  
 3. विकास कृष्ण  
 4. B साई प्रणीत

Question ID : 65497828893  
Status : Answered  
Chosen Option : 2

Q.11 सोमालिया के नवनिर्वाचित प्रधान मंत्री, \_\_\_\_\_, ने सितंबर, 2020 में पदभार संभाला।

- Ans  1. अब्दी फराह शिरडन  
 2. मोहम्मद हुसैन रोबल  
 3. उमर शमारके  
 4. हसन अली खैरे

Question ID : 65497828882  
Status : Answered  
Chosen Option : 2

Q.12 अभिनेत्री कंगना रनौत ने \_\_\_\_\_ नामक फिल्मों के लिए 67वें राष्ट्रीय फिल्म पुरस्कार, 2019 में 'सर्वश्रेष्ठ अभिनेत्री' का पुरस्कार जीता।

- Ans  1. 'जजमेंटल है क्या' और 'मणिकर्णिका: द क्वीन ऑफ़ झांसी'  
 2. 'पंगा' और 'जजमेंटल है क्या'  
 3. 'मणिकर्णिका: द क्वीन ऑफ़ झांसी' और 'पंगा'  
 4. 'जजमेंटल है क्या' और 'सिमरन'

Question ID : 65497828892  
Status : Answered  
Chosen Option : 1

Q.13 इंपीरियल बैंक ऑफ इंडिया की स्थापना कब हुई थी?

- Ans
- 1. 1948
  - 2. 1947
  - 3. 1919
  - 4. 1921

Question ID : 65497828886  
Status : Answered  
Chosen Option : 1

Q.14 निम्न में से कौन सा बैंक फॉर्च्यून ग्लोबल 500 सूची 2021 में शामिल है?

- Ans
- 1. बैंक ऑफ बड़ौदा
  - 2. आईसीआईसीआई (ICICI) बैंक
  - 3. एचडीएफसी (HDFC) बैंक
  - 4. भारतीय स्टेट बैंक

Question ID : 65497828896  
Status : Answered  
Chosen Option : 2

Q.15 तलाजा गुफाएं (Talaja Caves) \_\_\_\_\_ राज्य में स्थित हैं।

- Ans
- 1. आंध्र प्रदेश
  - 2. मध्य प्रदेश
  - 3. महाराष्ट्र
  - 4. गुजरात

Question ID : 65497828890  
Status : Answered  
Chosen Option : 2

Q.16 प्रधान मंत्री नरेंद्र मोदी ने तीन घटनाओं के स्मरणोत्सव के सिलसिले में मार्च 2021 में बांग्लादेश का दौरा किया। निम्नलिखित में से कौन सी उनमें से एक नहीं है?

- Ans
- 1. भारत-बांग्लादेश भूमि सीमा समझौते (LBA) पर हस्ताक्षर के 10 वर्ष
  - 2. बांग्लादेश के स्वतंत्रता संग्राम के 50 वर्ष
  - 3. भारत और बांग्लादेश के बीच राजनयिक संबंधों की स्थापना के 50 वर्ष
  - 4. शेख मुजीबुर्रहमान की जन्म शतवार्षिकी

Question ID : 65497828889  
Status : Answered  
Chosen Option : 4

Q.17 मीर जाफ़र को वर्ष \_\_\_\_\_ में पुनः बंगाल के नवाब के रूप में प्रतिष्ठित किया गया था।

- Ans
- 1. 1647
  - 2. 1764
  - 3. 1674
  - 4. 1746

Question ID : 65497828884  
Status : Answered  
Chosen Option : 2

Q.18 मेगा फूड पार्क योजना का लक्ष्य, संग्रह केंद्रों और प्राथमिक प्रसंस्करण केंद्रों के नेटवर्क के माध्यम से खेत से प्रसंस्करण और फिर उपभोक्ता बाजारों तक सीधे जुड़ाव वाली एक प्रणाली प्रदान करना है। नवंबर 2020 में, नरेंद्र सिंह तोमर ने इनमें से किस राज्य में मेगा फूड पार्क का आभासी (वर्चुअल) उद्घाटन किया?

- Ans
- 1. पंजाब
  - 2. राजस्थान
  - 3. ओडिशा
  - 4. गुजरात

Question ID : 65497828875  
Status : Answered  
Chosen Option : 2

Q.19 11 जुलाई को प्रत्येक वर्ष \_\_\_\_\_ के रूप में मनाया जाता है।

- Ans
- 1. विश्व जल दिवस
  - 2. विश्व स्वास्थ्य दिवस
  - 3. विश्व जनसंख्या दिवस
  - 4. विश्व पर्यावरण दिवस

Question ID : 65497828894  
Status : Answered  
Chosen Option : 3

Q.20 शरीयतुल्ला खान अंग्रेजों के खिलाफ \_\_\_\_\_ का हिस्सा थे।

- Ans
- 1. वहाबी आंदोलन
  - 2. सन्यासी विद्रोह
  - 3. फ़कीर विद्रोह
  - 4. फराजी आंदोलन

Question ID : 65497828887  
Status : Answered  
Chosen Option : 2

Q.21 पीने के लिए शुद्ध और उपयुक्त जल को \_\_\_\_\_ के रूप में जाना जाता है।

- Ans  1. पेय जल  
 2. तनुकृत जल  
 3. सुवाह्य जल  
 4. नदी जल

Question ID : 65497828880  
Status : Answered  
Chosen Option : 1

Q.22 निम्नलिखित में से कौन सा कथन सत्य है?

- Ans  1. अम्ल, लाल लिटमस के रंग को बदलकर नीला कर देते हैं।  
 2. अम्ल, स्वाद में नमकीन होते हैं।  
 3. क्षार, नीले लिटमस के रंग को बदलकर लाल कर देते हैं।  
 4. क्षार, स्वाद में कड़वे होते हैं।

Question ID : 65497828883  
Status : Answered  
Chosen Option : 4

Q.23 गणेश चतुर्थी का धार्मिक त्योहार विशेष रूप से निम्नलिखित में से किस राज्य से संबंधित है?

- Ans  1. महाराष्ट्र  
 2. हरियाणा  
 3. पंजाब  
 4. उत्तर प्रदेश

Question ID : 65497828879  
Status : Answered  
Chosen Option : 1

Q.24 निम्नलिखित में से कौन इब्राहिम लोदी को पराजित करने के बाद पहला मुगल सम्राट बना?

- Ans  1. औरंगज़ेब  
 2. बाबर  
 3. नादिर शाह  
 4. शाहजहां

Question ID : 65497828872  
Status : Answered  
Chosen Option : 2

Q.25 नवंबर 2020 में, ट्विटर ने विश्वस्तर पर ' \_\_\_\_\_ ' नामक ऐसे ट्वीट्स की शुरुआत की ,जो 24 घंटे में गायब हो जाते हैं।

- Ans
- 1. फ्लीट्स
  - 2. मीड्स
  - 3. ग्रीट्स
  - 4. ब्लीट्स

Question ID : 65497828885  
Status : Answered  
Chosen Option : 1

Section : Part C Elementary Mathematics

Q.1 A किसी कार्य के  $\frac{2}{3}$  भाग को पूरा करने में 15 दिन का समय लेता है। B की मदद से, उन्होंने समूचे कार्य को 12 दिनों में पूरा कर लिया। अकेले B को इस कार्य को पूरा करने में कितने दिनों का समय लगता?

- Ans
- 1. 20 दिन
  - 2. 18 दिन
  - 3. 28 दिन
  - 4. 25 दिन

Question ID : 65497828901  
Status : Answered  
Chosen Option : 3

Q.2 एक निश्चित वार्षिक साधारण ब्याज की दर पर कोई धनराशि, 7 वर्ष में स्वयं से 70% अधिक हो जाती है। ₹8000 की धनराशि पर समान ब्याज दर पर 3 वर्ष में प्राप्त चक्रवृद्धि ब्याज ज्ञात कीजिए।

- Ans
- 1. ₹2,654
  - 2. ₹2,548
  - 3. ₹2,648
  - 4. ₹2,640

Question ID : 65497828903  
Status : Answered  
Chosen Option : 2



Q.3  $\left(\frac{7}{16} \div 10\frac{1}{2} \text{ of } 7\frac{1}{5}\right) \times 3\frac{3}{5} - 1\frac{1}{3} \times 1\frac{1}{8} \div \frac{1}{2} + \frac{3}{4}$  का मान ज्ञात करें।

- Ans
- 1.  $\frac{181}{24}$
  - 2.  $\frac{61}{8}$
  - 3.  $\frac{-179}{48}$
  - 4.  $\frac{-107}{48}$

Question ID : 65497828908

Status : Not Answered

Chosen Option : --

Q.4 एक दुकानदार एक वस्तु को उसके सूची मूल्य पर 16% की छूट देकर ₹1,638 में बेचता है। यदि उसने कोई छूट नहीं दी होती, तो उसे 30% का लाभ होता। वस्तु का क्रय मूल्य (₹ में) ज्ञात कीजिए।

- Ans
- 1. 1,500
  - 2. 1,425
  - 3. 1,400
  - 4. 1,450

Question ID : 65497828917

Status : Answered

Chosen Option : 4

Q.5 एक व्यापारी ने एक वस्तु का मूल्य इस प्रकार अंकित किया कि उसे उस वस्तु के क्रय मूल्य पर 28% का लाभ अर्जित हो। उसने इसे अंकित मूल्य पर 15% की छूट देकर बेच दिया। उसका वास्तविक लाभ प्रतिशत कितना था?

- Ans
- 1. 9%
  - 2. 12.5%
  - 3. 13%
  - 4. 8.8%

Question ID : 65497828912

Status : Answered

Chosen Option : 2

Q.6 एक कार अपनी यात्रा के पहले 41 km की दूरी 45 मिनट में तय करती है और शेष 23 km की दूरी 35 मिनट में तय करती है। कार की औसत चाल (m/sec में) ज्ञात करें।

Ans

✗ 1.  $16\frac{2}{3}$

✗ 2. 15

✓ 3.  $13\frac{1}{3}$

✗ 4. 16

Question ID : 65497828909

Status : Answered

Chosen Option : 2

Q.7 A, B और C साथ मिलकर किसी निश्चित कार्य को 10 दिन में कर सकते हैं। A, B से 20% अधिक कार्य-कुशल है, और C, B से 50% कम कार्य-कुशल है। B अकेले इसी कार्य को \_\_\_\_\_ में पूरा कर सकता है।

Ans

✗ 1. 25 दिन

✗ 2. 30 दिन

✓ 3. 27 दिन

✗ 4.  $22\frac{1}{2}$  दिन

Question ID : 65497828915

Status : Answered

Chosen Option : 2

Q.8 2021 में, एक क्रिकेट टीम 225 मैचों में से 80% मैच जीतना चाहती है। पहले से खेले जा चुके 120 मैचों में, सफलता दर 70% है। लक्ष्य तक पहुंचने के लिए शेष मैचों में सफलता दर कितनी होनी चाहिए?

Ans

✓ 1.  $91\frac{3}{7}\%$

✗ 2.  $89\frac{5}{7}\%$

✗ 3. 86%

✗ 4. 90%

Question ID : 65497828914

Status : Answered

Chosen Option : 4

Q.9 एक दुकानदार ने ₹1200 में 150 पेन के भाव पर पेन खरीदे, और ₹1620 में 180 पेन के भाव पर बेच दिए।  
उसका प्रतिशत लाभ या हानि ज्ञात कीजिए।

- Ans
- 1. 12% लाभ
  - 2. 14% लाभ
  - 3. 12.5% लाभ
  - 4. 12% हानि

Question ID : 65497828900  
Status : Answered  
Chosen Option : 3

Q.10 पांच संख्याएं हैं। पहली चार संख्याओं का औसत पांचवीं संख्या के  $\frac{5}{6}$  के बराबर है। यदि सभी पांच संख्याओं का औसत 26 है, तो पांचवीं संख्या ज्ञात कीजिए।

- Ans
- 1. 28
  - 2. 32
  - 3. 30
  - 4. 29

Question ID : 65497828911  
Status : Answered  
Chosen Option : 2

Q.11 एक निश्चित राशि पर 4% वार्षिक ब्याज की दर पर 2 वर्षों में प्राप्त चक्रवृद्धि ब्याज ₹1,530 है। समान राशि पर समान दर पर समान अवधि में प्राप्त साधारण ब्याज कितना (₹ में) होगा?

- Ans
- 1. 1,510
  - 2. 1,350
  - 3. 1,400
  - 4. 1,500

Question ID : 65497828920  
Status : Answered  
Chosen Option : 4

Q.12 यदि निम्न छह प्रेक्षणों:  $x + 2, x + 5, x + 8, x + 11, x + 14$  और  $x + 17$  का औसत 12.5 है, तो प्रथम तीन प्रेक्षणों का औसत कितना है?

- Ans
- 1. 6
  - 2. 3
  - 3. 8
  - 4. 9

Question ID : 65497828905  
Status : Answered  
Chosen Option : 2

Q.13 A की आय, B की आय से 70% अधिक है; और C की आय A और B की संयुक्त आय के 80% के बराबर है। A की आय, C की आय से कितने प्रतिशत कम है? (एक दशमलव स्थान तक पूर्णांकित करें)

- Ans
- 1. 20.4%
  - 2. 19.8%
  - 3. 21.3%
  - 4. 27.1%

Question ID : 65497828913  
Status : Answered  
Chosen Option : 2

Q.14 सोमू ने ₹10,000 की धनराशि एक साहूकार से 7% प्रति 6 महीने की दर से साधारण ब्याज पर उधार ली। 3 वर्ष बाद उसे साहूकार को कितनी धनराशि का भुगतान करना होगा?

- Ans
- 1. ₹13,000
  - 2. ₹12,500
  - 3. ₹14,200
  - 4. ₹12,100

Question ID : 65497828907  
Status : Answered  
Chosen Option : 2

Q.15  $8 - [88 \div 2 \text{ of } 11 - (22 - 72 \div 4)]$  का मान क्या होगा?

- Ans
- 1. 8
  - 2. 0
  - 3. 4
  - 4. 6

Question ID : 65497828899  
Status : Answered  
Chosen Option : 2

Q.16 2091, 3485 और 4879 का महत्तम समापवर्तक (HCF)  $x$  है।  $x$  के अंकों का योगफल ज्ञात कीजिए।

- Ans
- 1. 23
  - 2. 22
  - 3. 20
  - 4. 19

Question ID : 65497828910  
Status : Answered  
Chosen Option : 2

Q.17 यदि तीन संख्याएं 3 : 5 : 7 के अनुपात में हैं, और उनका लघुत्तम समापवर्त्य (LCM) 2415 है, तो दूसरी संख्या और पहली संख्या का अंतर कितना होगा?

- Ans
- 1. 92
  - 2. 46
  - 3. 69
  - 4. 23

Question ID : 65497828904  
Status : Not Answered  
Chosen Option : --

Q.18 75 लीटर के एक मिश्रण में दूध और पानी का अनुपात 3 : 2 है। यदि यह अनुपात 1 : 2 करना हो, तो कितना पानी मिलाना होगा?

- Ans
- 1. 65 लीटर
  - 2. 60 लीटर
  - 3. 90 लीटर
  - 4. 50 लीटर

Question ID : 65497828906  
Status : Not Answered  
Chosen Option : --

Q.19 एक समकोण त्रिभुज की भुजाओं की लंबाइयों का अनुपात 5 : 12 : 13 है और इसका परिमाण 90 cm है। त्रिभुज का क्षेत्रफल (cm<sup>2</sup> में) ज्ञात कीजिए।

- Ans
- 1. 780
  - 2. 702
  - 3. 270
  - 4. 540

Question ID : 65497828921  
Status : Not Answered  
Chosen Option : --

Q.20 18 संतरे को ₹151.20 में बेचने पर, एक व्यक्ति को 20% की हानि होती है। 30% का लाभ अर्जित करने के लिए, उसे ₹819 में कितने संतरे बेचने होंगे?

- Ans
- 1. 65
  - 2. 50
  - 3. 60
  - 4. 45

Question ID : 65497828918  
Status : Not Answered  
Chosen Option : --

Q.21 यदि ₹6225 की धनराशि को तीन हिस्सों में इस प्रकार बांटा जाए कि पहले हिस्से का 4 गुना, दूसरे हिस्से के 5 गुने के तथा तीसरे हिस्से के 7 गुने के बराबर है। पहले और दूसरे हिस्से के बीच (₹ में) अंतर कितना है?

- Ans
- 1. 450
  - 2. 300
  - 3. 525
  - 4. 600

Question ID : 65497828897  
Status : Not Answered  
Chosen Option : --

Q.22 दो ऊनी जैकेटों A और B के मूल्य 7 : 9 के अनुपात में हैं। यदि जैकेट A का मूल्य, जैकेट B के मूल्य से ₹380 कम है, तो जैकेट B का मूल्य (₹ में) ज्ञात कीजिए।

- Ans
- 1. 1,710
  - 2. 1,330
  - 3. 1,680
  - 4. 1,650

Question ID : 65497828919  
Status : Not Answered  
Chosen Option : --

Q.23 जब किसी वस्तु के विक्रय मूल्य में ₹164 की वृद्धि की जाती है तो 12% की हानि 8.5% के लाभ में बदल जाती है। वस्तु का क्रय मूल्य ज्ञात कीजिए।

- Ans
- 1. ₹760
  - 2. ₹800
  - 3. ₹850
  - 4. ₹840

Question ID : 65497828902  
Status : Not Answered  
Chosen Option : --

Q.24 एक नाव 52 मिनट के कुल समय में धारा की विपरीत दिशा में 10 km और धारा की दिशा में 11 km की दूरी तय कर सकती है। यदि धारा की चाल 5 km/h है, तो धारा की दिशा में नाव की चाल (km/h में) ज्ञात कीजिए।

- Ans
- 1. 30
  - 2. 20
  - 3. 35
  - 4. 25

Question ID : 65497828916  
Status : Not Answered  
Chosen Option : --

Q.25 जब एक तार को मोड़कर वृत्त बनाया जाता है तो यह  $18634 \text{ cm}^2$  का क्षेत्रफल घेरता है। इसी तार को एक आयत बनाने के लिए मोड़ा जाता है जिसकी भुजाएँ 5 : 6 के अनुपात में हैं। आयत की छोटी भुजा की लंबाई (cm) में ज्ञात कीजिए। (मान लीजिए  $\pi = \frac{22}{7}$ )

- Ans
- 1. 110
  - 2. 132
  - 3. 100
  - 4. 154

Question ID : 65497828898  
Status : Not Answered  
Chosen Option : --

Section : Part D English

Q.1 Select the most appropriate ANTONYM of the given word.

Criticise

- Ans
- 1. Approve
  - 2. Oppose
  - 3. Analyse
  - 4. Clarify

Question ID : 65497828934  
Status : Not Answered  
Chosen Option : --

Q.2 Select the most appropriate meaning of the given idiom.

Come to blows

- Ans
- 1. Get into a fight physically
  - 2. Insult someone
  - 3. Agree on a plan
  - 4. Return a favour

Question ID : 65497828939  
Status : Not Answered  
Chosen Option : --

Q.3 Select the option that will improve the underlined part of the given sentence. In case no improvement is needed, select 'No improvement required'.

My teacher said me that I would be famous one day.

- Ans
- 1. say to me
  - 2. told me
  - 3. asked me
  - 4. No improvement required

Question ID : 65497828940  
Status : Not Answered  
Chosen Option : --

Q.4 Select the most appropriate option to fill in the blank.

The man felt exhausted after climbing a \_\_\_\_\_ of stairs.

- Ans  1. flight  
 2. fleet  
 3. pack  
 4. heap

Question ID : 65497828941  
Status : Not Answered  
Chosen Option : --

Q.5 Select the option that can be used as a one-word substitute for the given group of words.

A volume containing several books previously published separately

- Ans  1. Omnibus  
 2. Thesaurus  
 3. Novel  
 4. Dictionary

Question ID : 65497828932  
Status : Not Answered  
Chosen Option : --

Q.6 Select the most appropriate meaning of the given idiom.

Cool as a cucumber

- Ans  1. Scared  
 2. Wise  
 3. Lazy  
 4. Calm

Question ID : 65497828938  
Status : Not Answered  
Chosen Option : --

Q.7 Select the INCORRECTLY spelt word.

- Ans  1. Erosion  
 2. Eratic  
 3. Erode  
 4. Eraser

Question ID : 65497828928  
Status : Not Answered  
Chosen Option : --



Q.8 Select the most appropriate option that can substitute the underlined segment in the given sentence. If there is no need to substitute it, select 'No substitution required'.

Wool and silk are materials those are the easiest to dye.

- Ans
- 1. No substitution required
  - 2. that are the easier
  - 3. that is easy
  - 4. that are the easiest

Question ID : 65497828922  
Status : Not Answered  
Chosen Option : --

Q.9 Select the most appropriate synonym of the given word.

Recommend

- Ans
- 1. Oppose
  - 2. Adhere
  - 3. Reward
  - 4. Approve

Question ID : 65497828925  
Status : Not Answered  
Chosen Option : --

Q.10 Select the most appropriate option to fill in the blank.

The Egyptians developed ways to prevent the dead body from \_\_\_\_\_.

- Ans
- 1. drooping
  - 2. decaying
  - 3. dying
  - 4. destroying

Question ID : 65497828927  
Status : Not Answered  
Chosen Option : --

Q.11 Select the most appropriate option that can substitute the underlined segment in the given sentence. If there is no need to substitute it, select 'No substitution required'.

Using a word processor for writing have a number of advantages.

- Ans
- 1. for writing having number
  - 2. for writing has a number
  - 3. No substitution required
  - 4. to write have a number

Question ID : 65497828923  
Status : Not Answered  
Chosen Option : --

Q.12 Select the most appropriate synonym of the given word.

Substitution

- Ans
- 1. Give
  - 2. Logical
  - 3. Exchange
  - 4. Hold

Question ID : 65497828931  
Status : Not Answered  
Chosen Option : --

Q.13 The following sentence has been split into four segments. Identify the segment that contains a grammatical error.

I saw some / children playing happily / below the shade / of a tree.

- Ans
- 1. children playing happily
  - 2. I saw some
  - 3. of a tree
  - 4. below the shade

Question ID : 65497828933  
Status : Not Answered  
Chosen Option : --

Q.14 Select the option that can be used as a one-word substitute for the given group of words.

A piece of land where fruit trees are grown

- Ans
- 1. Orchard
  - 2. Barnyard
  - 3. Meadow
  - 4. Pasture

Question ID : 65497828935  
Status : Not Answered  
Chosen Option : --

Q.15 Select the most appropriate ANTONYM of the given word.

Prudent

- Ans
- 1. Clever
  - 2. Wasteful
  - 3. Shrewd
  - 4. Cautious

Question ID : 65497828937  
Status : Not Answered  
Chosen Option : --

Q.16 Select the most appropriate option to fill in the blank.

She is on six months' \_\_\_\_\_ leave.

- Ans
- 1. material
  - 2. maternity
  - 3. paternal
  - 4. paternity

Question ID : 65497828929  
Status : Not Answered  
Chosen Option : --

Q.17 Parts of the given sentence have been given as options. One of them contains a grammatical error. Select the option that has the error.

Pray to the Almighty God with utmost devotion and help the needy and poored people.

- Ans
- 1. to the Almighty God
  - 2. help the needy
  - 3. with utmost devotion
  - 4. poored people

Question ID : 65497828930  
Status : Not Answered  
Chosen Option : --

Q.18 Select the option that can be used as a one-word substitute for the given group of words.

That which is lawful

- Ans
- 1. Illegal
  - 2. Proper
  - 3. Legal
  - 4. Valid

Question ID : 65497828926  
Status : Not Answered  
Chosen Option : --

Q.19 Select the INCORRECTLY spelt word.

- Ans
- 1. Quarantine
  - 2. Proceedure
  - 3. Commitment
  - 4. Bouquet

Question ID : 65497828936  
Status : Not Answered  
Chosen Option : --

**Q.20** The following sentence has been split into four segments. Identify the segment that contains a grammatical error.

The man turned to him with a look of disapprove.

- Ans  1. of disapprove  
 2. The man  
 3. turned to him  
 4. with a look

Question ID : 65497828924

Status : Not Answered

Chosen Option : --

**Comprehension:**

In the following passage, some words have been deleted. Read the passage carefully and select the most appropriate option to fill in each blank.

A giant plane carrying 43 passengers was (1) \_\_\_\_\_ to crash-land when its landing gear got (2) \_\_\_\_\_. Only the skill of the pilot was able to (3) \_\_\_\_\_ a major tragedy. Expert mechanics laboured (4) \_\_\_\_\_ hours before they could find the (5) \_\_\_\_\_ of the mechanical failure.

**SubQuestion No : 21**

**Q.21** Select the most appropriate option to fill in blank no.1.

- Ans  1. bumped  
 2. pushed  
 3. poked  
 4. forced

Question ID : 65497828943

Status : Not Answered

Chosen Option : --

**Comprehension:**

In the following passage, some words have been deleted. Read the passage carefully and select the most appropriate option to fill in each blank.

A giant plane carrying 43 passengers was (1) \_\_\_\_\_ to crash-land when its landing gear got (2) \_\_\_\_\_. Only the skill of the pilot was able to (3) \_\_\_\_\_ a major tragedy. Expert mechanics laboured (4) \_\_\_\_\_ hours before they could find the (5) \_\_\_\_\_ of the mechanical failure.

**SubQuestion No : 22**

**Q.22** Select the most appropriate option to fill in blank no.2.

- Ans  1. stuck  
 2. caught  
 3. fixed  
 4. glued

Question ID : 65497828944

Status : Not Answered

Chosen Option : --

**Comprehension:**

In the following passage, some words have been deleted. Read the passage carefully and select the most appropriate option to fill in each blank.

A giant plane carrying 43 passengers was (1) \_\_\_\_\_ to crash-land when its landing gear got (2) \_\_\_\_\_. Only the skill of the pilot was able to (3) \_\_\_\_\_ a major tragedy. Expert mechanics laboured (4) \_\_\_\_\_ hours before they could find the (5) \_\_\_\_\_ of the mechanical failure.

**SubQuestion No : 23**

**Q.23 Select the most appropriate option to fill in blank no.3.**

- Ans  1. prevent  
 2. restrict  
 3. forbid  
 4. limit

Question ID : 65497828945  
Status : Not Answered  
Chosen Option : --

**Comprehension:**

In the following passage, some words have been deleted. Read the passage carefully and select the most appropriate option to fill in each blank.

A giant plane carrying 43 passengers was (1) \_\_\_\_\_ to crash-land when its landing gear got (2) \_\_\_\_\_. Only the skill of the pilot was able to (3) \_\_\_\_\_ a major tragedy. Expert mechanics laboured (4) \_\_\_\_\_ hours before they could find the (5) \_\_\_\_\_ of the mechanical failure.

**SubQuestion No : 24**

**Q.24 Select the most appropriate option to fill in blank no.4.**

- Ans  1. for  
 2. at  
 3. from  
 4. over

Question ID : 65497828946  
Status : Not Answered  
Chosen Option : --

**Comprehension:**

In the following passage, some words have been deleted. Read the passage carefully and select the most appropriate option to fill in each blank.

A giant plane carrying 43 passengers was (1) \_\_\_\_\_ to crash-land when its landing gear got (2) \_\_\_\_\_. Only the skill of the pilot was able to (3) \_\_\_\_\_ a major tragedy. Expert mechanics laboured (4) \_\_\_\_\_ hours before they could find the (5) \_\_\_\_\_ of the mechanical failure.

**SubQuestion No : 25**

**Q.25 Select the most appropriate option to fill in blank no.5.**

- Ans  1. plan  
 2. motive  
 3. agency  
 4. cause

Question ID : 65497828947  
Status : Not Answered  
Chosen Option : --

Q.1 रिक्त स्थान को भरने के लिए सबसे उपयुक्त शब्द का चयन करें।

सफलता पाने के लिए कठोर \_\_\_\_\_ करना पड़ता है।

- Ans
- 1. श्रम
  - 2. अनुशासन
  - 3. आवागमन
  - 4. अध्ययन

Question ID : 65497828954  
Status : Answered  
Chosen Option : 1

Q.2 'खून का घूँट पीना' मुहावरे का सही अर्थ है-

- Ans
- 1. गुस्सा पचा जाना
  - 2. भयभीत होना
  - 3. घृणा करना
  - 4. अत्यंत क्रोधित होना

Question ID : 65497828959  
Status : Answered  
Chosen Option : 4

Q.3 दिये गये वाक्य में रेखांकित अंश को प्रतिस्थापित करने के लिए सबसे उपयुक्त विकल्प का चयन करें।

पृथ्वी का रूप गोल है।

- Ans
- 1. स्वरूप
  - 2. प्रकार
  - 3. आकार
  - 4. प्रारूप

Question ID : 65497828960  
Status : Answered  
Chosen Option : 3

Q.4 'धन से संबंध रखने वाला' वाक्यांश के लिए एक शब्द होगा-

- Ans
- 1. संपत्तिशास्त्र
  - 2. आर्थिक
  - 3. भौतिक
  - 4. अर्थशास्त्र

Question ID : 65497828966  
Status : Answered  
Chosen Option : 4

Q.5 दिए गए वाक्य में रेखांकित खंड को प्रतिस्थापित करने के लिए सबसे उपयुक्त विकल्प का चयन करें। यदि इसे प्रतिस्थापित करने की आवश्यकता नहीं है, तो विकल्प 'किसी बदलाव की आवश्यकता नहीं है' का चयन करें।

इस कार्य के विघ्न बन कर तुम आए हो।

- Ans
- 1. इस कार्य की
  - 2. किसी बदलाव की आवश्यकता नहीं है।
  - 3. इस कार्य में
  - 4. इस कार्य का

Question ID : 65497828955  
Status : Answered  
Chosen Option : 3

Q.6 'पसीना पसीना होना' मुहावरे का सही अर्थ है-

- Ans
- 1. भयभीत होना
  - 2. क्रोधित होना
  - 3. शर्मिंदा होना
  - 4. प्यासा होना

Question ID : 65497828963  
Status : Answered  
Chosen Option : 1

Q.7 'कृपण' का विलोम शब्द होगा-

- Ans
- 1. सरल
  - 2. कर्मठ
  - 3. कठोर
  - 4. दाता

Question ID : 65497828958  
Status : Answered  
Chosen Option : 4

Q.8 दिए गए वाक्य का वह भाग ज्ञात करें जिसमें कोई त्रुटि है। यदि कोई त्रुटि नहीं है, तो 'कोई त्रुटि नहीं है' चुनें।

कभी-कभी, आकाश में दिखाई देने वाला उल्कापतन एक विलक्षण घटना है।

- Ans
- 1. उल्कापतन एक विलक्षण घटना है।
  - 2. कोई त्रुटि नहीं है।
  - 3. कभी-कभी, आकाश में
  - 4. दिखाई देने वाला

Question ID : 65497828948  
Status : Answered  
Chosen Option : 2

Q.9 दिए गए शब्द के समानार्थी शब्द का चयन करें।

बाण

- Ans
- 1. तनय
  - 2. अगम
  - 3. नाराच
  - 4. दहन

Question ID : 65497828952

Status : Answered

Chosen Option : 3

Q.10 सही वर्तनी वाले शब्द का चयन करें।

- Ans
- 1. स्थायीत्व
  - 2. इस्थायित्व
  - 3. स्थाईत्व
  - 4. स्थायित्व

Question ID : 65497828956

Status : Answered

Chosen Option : 4

Q.11 दिये गये वाक्य के किस भाग में त्रुटि है?

उसने अवाज देकर पूछा।

- Ans
- 1. उसने
  - 2. पूछा।
  - 3. अवाज
  - 4. देकर

Question ID : 65497828964

Status : Answered

Chosen Option : 3

Q.12 'पंकज' किसका पर्यायवाची है?

- Ans
- 1. कमल
  - 2. आँख
  - 3. वस्त्र
  - 4. किरण

Question ID : 65497828965

Status : Answered

Chosen Option : 1



Q.13 दिये गये वाक्यांश के लिए एक शब्द दीजिये।

खेतों में, मेंड़ों से बनाए गए छोटे-छोटे, वर्गाकार या आयताकार भाग

- Ans
- 1. नहर
  - 2. नाली
  - 3. क्यारी
  - 4. परनाला

Question ID : 65497828950  
Status : Answered  
Chosen Option : 1

Q.14 दिए गए शब्द का विलोम चुनें।

जातीय

- Ans
- 1. सजातीय
  - 2. प्रजातीय
  - 3. अजातीय
  - 4. विजातीय

Question ID : 65497828949  
Status : Answered  
Chosen Option : 4

Q.15 सही वर्तनी वाले शब्द का चयन करें।

- Ans
- 1. सुपनखा
  - 2. शुपर्णखा
  - 3. सूर्पनखा
  - 4. शूर्पणखा

Question ID : 65497828957  
Status : Answered  
Chosen Option : 3

Q.16 रिक्त स्थान को भरने के लिए सबसे उपयुक्त विकल्प का चयन करें।

शिशु \_\_\_\_\_ और अबोध होता है।

- Ans
- 1. भिज्ञ
  - 2. अल्पज्ञ
  - 3. बहुज्ञ
  - 4. अज्ञ

Question ID : 65497828962  
Status : Answered  
Chosen Option : 4

Q.17 दिये गये वाक्यांश के लिए एक शब्द दीजिये।

अपने पास रखी हुई, दूसरे की वस्तु

- Ans
- 1. धरनी
  - 2. धनञ्ज
  - 3. धराऊ
  - 4. धरोहर

Question ID : 65497828953

Status : Answered

Chosen Option : 4

Q.18 रिक्त स्थान को भरने के लिए सबसे उपयुक्त विकल्प का चयन करें।

शिक्षक दिवस पर छात्रों ने शिक्षक को पुस्तक \_\_\_\_\_ की।

- Ans
- 1. दान
  - 2. हस्तगत
  - 3. प्रदान
  - 4. भेंट

Question ID : 65497828967

Status : Answered

Chosen Option : 4

Q.19 दिये गये वाक्य में रेखांकित अंश को प्रतिस्थापित करने के लिए सबसे उपयुक्त विकल्प का चयन करें।

मोहन के गए पर वह उठ बैठा।

- Ans
- 1. दौड़ने पर
  - 2. जाने पर
  - 3. उठने पर
  - 4. मरने पर

Question ID : 65497828961

Status : Answered

Chosen Option : 2

Q.20 दिए गए वाक्य का वह भाग ज्ञात करें जिसमें कोई त्रुटि है। यदि कोई त्रुटि नहीं है, तो 'कोई त्रुटि नहीं है' चुनें।

महेश जी बता रहे थे कि उनका भतीजा अपने लक्ष्य पर नजर रखते हैं।

- Ans
- 1. कोई त्रुटि नहीं है।
  - 2. कि उनका भतीजा
  - 3. अपने लक्ष्य पर नजर रखते हैं।
  - 4. महेश जी बता रहे थे

Question ID : 65497828951

Status : Answered

Chosen Option : 3

**Comprehension:**

दिए गए अनुच्छेद में कुछ शब्द हटा दिए गए हैं। दिए गए विकल्पों की सहायता से रिक्त स्थान भरें। प्रत्येक संख्या के लिए सबसे उपयुक्त विकल्प का चयन करें-

भारत के गाँव (1) \_\_\_\_\_ के मनोरम स्थल हैं। वहाँ का निवासी प्रकृति की (2) \_\_\_\_\_ में ही पल रहा है परन्तु (3) \_\_\_\_\_ दृष्टि से पिछड़े हुए गाँवों की स्थिति अत्यन्त ही (4) \_\_\_\_\_ है क्योंकि वहाँ के लोग (5) \_\_\_\_\_ पर ही निर्भर रहते हैं।

**SubQuestion No : 21**

**Q.21** गद्यांश के रिक्त स्थान (1) के लिए सर्वाधिक उपयुक्त शब्द होगा-

- Ans
- 1. राज्य
  - 2. प्रकृति
  - 3. त्रिलोक
  - 4. शहरों

Question ID : 65497828969

Status : Answered

Chosen Option : 2

**Comprehension:**

दिए गए अनुच्छेद में कुछ शब्द हटा दिए गए हैं। दिए गए विकल्पों की सहायता से रिक्त स्थान भरें। प्रत्येक संख्या के लिए सबसे उपयुक्त विकल्प का चयन करें-

भारत के गाँव (1) \_\_\_\_\_ के मनोरम स्थल हैं। वहाँ का निवासी प्रकृति की (2) \_\_\_\_\_ में ही पल रहा है परन्तु (3) \_\_\_\_\_ दृष्टि से पिछड़े हुए गाँवों की स्थिति अत्यन्त ही (4) \_\_\_\_\_ है क्योंकि वहाँ के लोग (5) \_\_\_\_\_ पर ही निर्भर रहते हैं।

**SubQuestion No : 22**

**Q.22** गद्यांश के रिक्त स्थान (2) के लिए सर्वाधिक उपयुक्त शब्द होगा-

- Ans
- 1. साथ
  - 2. गोद
  - 3. हाथ
  - 4. छाँव

Question ID : 65497828970

Status : Answered

Chosen Option : 2

**Comprehension:**

दिए गए अनुच्छेद में कुछ शब्द हटा दिए गए हैं। दिए गए विकल्पों की सहायता से रिक्त स्थान भरें। प्रत्येक संख्या के लिए सबसे उपयुक्त विकल्प का चयन करें-

भारत के गाँव (1) \_\_\_\_\_ के मनोरम स्थल हैं। वहाँ का निवासी प्रकृति की (2) \_\_\_\_\_ में ही पल रहा है परन्तु (3) \_\_\_\_\_ दृष्टि से पिछड़े हुए गाँवों की स्थिति अत्यन्त ही (4) \_\_\_\_\_ है क्योंकि वहाँ के लोग (5) \_\_\_\_\_ पर ही निर्भर रहते हैं।

**SubQuestion No : 23**

**Q.23** गद्यांश के रिक्त स्थान (3) के लिए सर्वाधिक उपयुक्त शब्द होगा-

- Ans
- 1. मानसिक
  - 2. शारीरिक
  - 3. राजनीतिक
  - 4. आर्थिक

Question ID : 65497828971

Status : Answered

Chosen Option : 4

**Comprehension:**

दिए गए अनुच्छेद में कुछ शब्द हटा दिए गए हैं। दिए गए विकल्पों की सहायता से रिक्त स्थान भरें। प्रत्येक संख्या के लिए सबसे उपयुक्त विकल्प का चयन करें-

भारत के गाँव (1) \_\_\_\_\_ के मनोरम स्थल हैं। वहाँ का निवासी प्रकृति की (2) \_\_\_\_\_ में ही पल रहा है परन्तु (3) \_\_\_\_\_ दृष्टि से पिछड़े हुए गाँवों की स्थिति अत्यन्त ही (4) \_\_\_\_\_ है क्योंकि वहाँ के लोग (5) \_\_\_\_\_ पर ही निर्भर रहते हैं।

**SubQuestion No : 24**

**Q.24** गद्यांश के रिक्त स्थान (4) के लिए सर्वाधिक उपयुक्त शब्द होगा-

- Ans
- 1. सम्पन्न
  - 2. दयनीय
  - 3. कठिन
  - 4. स्तरीय

Question ID : 65497828972

Status : Answered

Chosen Option : 2

**Comprehension:**

दिए गए अनुच्छेद में कुछ शब्द हटा दिए गए हैं। दिए गए विकल्पों की सहायता से रिक्त स्थान भरें। प्रत्येक संख्या के लिए सबसे उपयुक्त विकल्प का चयन करें-

भारत के गाँव (1) \_\_\_\_\_ के मनोरम स्थल हैं। वहाँ का निवासी प्रकृति की (2) \_\_\_\_\_ में ही पल रहा है परन्तु (3) \_\_\_\_\_ दृष्टि से पिछड़े हुए गाँवों की स्थिति अत्यन्त ही (4) \_\_\_\_\_ है क्योंकि वहाँ के लोग (5) \_\_\_\_\_ पर ही निर्भर रहते हैं।

**SubQuestion No : 25**

Q.25 गद्यांश के रिक्त स्थान (5) के लिए सर्वाधिक उपयुक्त शब्द होगा-

Ans  1. प्रकृति

2. कृषि

3. पंचायत

4. सरकार

Question ID : 65497828973

Status : Not Answered

Chosen Option : --