

Roll No:

Registration No:

Registered Photo

Exam Day Photo

Name:

Exam Date: 27-Nov-2021

[www.exammix.com](http://www.exammix.com)

Exam Time: 09:00-11:00

Post Name: SI Civil 2021

**GENERAL HINDI - GENERAL HINDI**

**Question No.1**

Marks: 2.50

Bookmark

इनमें स्त्रीलिंग शब्द कौन-सा है?

इनमें स्त्रीलिंग शब्द कौन-सा है?

- (A)  संपादन  
संपादन
- (B)  रचना (Correct Answer) (Chosen option)  
रचना
- (C)  समायोजन  
समायोजन
- (D)  सृजन  
सृजन

**Question No.2**

Marks: 2.50

Bookmark

'भ्रमर' शब्द का तद्भव रूप कौन-सा है?

'भ्रमर' शब्द का तद्भव रूप कौन-सा है?

- (A)  ब्यौरा  
ब्यौरा
- (B)  भ्रामक  
भ्रामक
- (C)  भौरा (Correct Answer) (Chosen option)  
भौरा
- (D)  भ्रमण  
भ्रमण

**Question No.3**

Marks: 2.50

Bookmark

सही वर्तनी वाला शब्द कौन-सा है?

सही वर्तनी वाला शब्द कौन-सा है?

- (A)  रुपरेका  
रुपरेका
- (B)  रूप्रेका  
रूप्रेका
- (C)  रुपरेखा

रूपरेखा

- (D)  रूपरेखा (Correct Answer) (Chosen option)  
रूपरेखा

Question No.4

Marks: 2.50

Bookmark

“इस करुणा कलित हृदय में, अब करुणा कलित रागिनी बजती” - इन पंक्तियों में ‘करुणा कलित’ अभिव्यक्ति में कौन-सा अलंकार है?

“इस करुणा कलित हृदय में, अब करुणा कलित रागिनी बजती” - इन पंक्तियों में ‘करुणा कलित’ अभिव्यक्ति में कौन-सा अलंकार है?

- (A)  श्रुत्यनुप्रास अलंकार  
श्रुत्यनुप्रास अलंकार
- (B)  छेकानुप्रास अलंकार (Correct Answer) (Chosen option)  
छेकानुप्रास अलंकार
- (C)  अंत्यनुप्रास अलंकार  
अंत्यनुप्रास अलंकार
- (D)  वृत्यानुप्रास अलंकार  
वृत्यानुप्रास अलंकार

Question No.5

Marks: 2.50

Bookmark

‘सूर्योदय’ का सही संधि-विच्छेद कौन-सा है?

‘सूर्योदय’ का सही संधि-विच्छेद कौन-सा है?

- (A)  सूर्य+दय  
सूर्य+दय
- (B)  सूर्यो+दय  
सूर्यो+दय
- (C)  सूर्या+उदय  
सूर्या+उदय
- (D)  सूर्य+उदय (Correct Answer) (Chosen option)  
सूर्य+उदय

Question No.6

Marks: 2.50

Bookmark

इनमें से कौन-सी बोली पहाड़ी बोली है?

इनमें से कौन-सी बोली पहाड़ी बोली है?

- (A)  मगही  
मगही
- (B)  बघेली  
बघेली
- (C)  भोजपुरी  
भोजपुरी
- (D)  कुमाऊँनी (Correct Answer) (Chosen option)  
कुमाऊँनी

Question No.7

Marks: 2.50

Bookmark

पूर्वी हिंदी का उद्भव किस अपभ्रंश से हुआ है?  
पूर्वी हिंदी का उद्भव किस अपभ्रंश से हुआ है?

- (A)  पैशाची अपभ्रंश  
पैशाची अपभ्रंश
- (B)  अर्धमागधी अपभ्रंश (Correct Answer) (Chosen option)  
अर्धमागधी अपभ्रंश
- (C)  शौरसेनी अपभ्रंश  
शौरसेनी अपभ्रंश
- (D)  नागरी अपभ्रंश  
नागरी अपभ्रंश

Question No.8

Marks: 2.50

Bookmark

“प्रभु जी तुम चंदन हम पानी” – यह उक्ति किस संत कवि की है?  
“प्रभु जी तुम चंदन हम पानी” – यह उक्ति किस संत कवि की है?

- (A)  तुलसीदास  
तुलसीदास
- (B)  कबीर  
कबीर
- (C)  दादू दयाल  
दादू दयाल
- (D)  रैदास (Correct Answer) (Chosen option)  
रैदास

Question No.9

Marks: 2.50

Bookmark

‘विद्युत’ शब्द का तद्भव रूप क्या है?  
‘विद्युत’ शब्द का तद्भव रूप क्या है?

- (A)  बीघा  
बीघा
- (B)  बूंद  
बूंद
- (C)  बींधना  
बींधना
- (D)  बिजली (Correct Answer) (Chosen option)  
बिजली

Question No.10

Marks: 2.50

Bookmark

“लड़का आया।” – इस वाक्य में क्रिया किस काल का बोध करा रही है?  
“लड़का आया।” – इस वाक्य में क्रिया किस काल का बोध करा रही है?

- (A)  अपूर्ण वर्तमान  
अपूर्ण वर्तमान

- (B)  सामान्य भूत (Correct Answer) (Chosen option)  
सामान्य भूत
- (C)  सामान्य वर्तमान  
सामान्य वर्तमान
- (D)  सामान्य भविष्यत्  
सामान्य भविष्यत्

**Question No.11**

Marks: 2.50

Bookmark

आठवाँ विश्व हिंदी सम्मेलन कहाँ संपन्न हुआ था?  
आठवाँ विश्व हिंदी सम्मेलन कहाँ संपन्न हुआ था?

- (A)  न्यूयॉर्क (अमेरिका) (Correct Answer) (Chosen option)  
न्यूयॉर्क (अमेरिका)
- (B)  पोर्ट ऑफ़ स्पेन (त्रिनिदाद)  
पोर्ट ऑफ़ स्पेन (त्रिनिदाद)
- (C)  नई दिल्ली (भारत)  
नई दिल्ली (भारत)
- (D)  पोर्ट लुई (मॉरिशस)  
पोर्ट लुई (मॉरिशस)

**Question No.12**

Marks: 2.50

Bookmark

इनमें कौन-सा शब्द स्त्रीलिंग नहीं है?  
इनमें कौन-सा शब्द स्त्रीलिंग नहीं है?

- (A)  गति  
गति
- (B)  पहुँच  
पहुँच
- (C)  पैठ  
पैठ
- (D)  स्थान (Correct Answer) (Chosen option)  
स्थान

**Question No.13**

Marks: 2.50

Bookmark

“क्या इस निरीह की रक्षा करने वाला कोई वीर बचा है?” – यह किस प्रकार का वाक्य है?  
“क्या इस निरीह की रक्षा करने वाला कोई वीर बचा है?” – यह किस प्रकार का वाक्य है?

- (A)  प्रश्नवाचक वाक्य (Correct Answer) (Chosen option)  
प्रश्नवाचक वाक्य
- (B)  विधानवाचक वाक्य  
विधानवाचक वाक्य
- (C)  निषेधवाचक वाक्य  
निषेधवाचक वाक्य
- (D)  संकेतवाचक वाक्य  
संकेतवाचक वाक्य

**Question No.14**

Marks: 2.50

Bookmark

“आज मुझे थोड़ी-सी फुरसत मिली है।” - इस वाक्य में ‘थोड़ी-सी’ किस प्रकार का विशेषण है?  
“आज मुझे थोड़ी-सी फुरसत मिली है।” - इस वाक्य में ‘थोड़ी-सी’ किस प्रकार का विशेषण है?

- (A)  संख्यावाचक विशेषण  
संख्यावाचक विशेषण
- (B)  परिमाणवाचक विशेषण (Correct Answer) (Chosen option)  
परिमाणवाचक विशेषण
- (C)  गुणवाचक विशेषण  
गुणवाचक विशेषण
- (D)  सार्वनामिक विशेषण  
सार्वनामिक विशेषण

**Question No.15**

Marks: 2.50

Bookmark

मराठी का संबंध किस अपभ्रंश से माना जाता है?  
मराठी का संबंध किस अपभ्रंश से माना जाता है?

- (A)  पैशाची अपभ्रंश  
पैशाची अपभ्रंश
- (B)  महाराष्ट्र अपभ्रंश (Correct Answer) (Chosen option)  
महाराष्ट्र अपभ्रंश
- (C)  मागधी अपभ्रंश  
मागधी अपभ्रंश
- (D)  शौरसेनी अपभ्रंश  
शौरसेनी अपभ्रंश

**Question No.16**

Marks: 2.50

Bookmark

“चोर वहाँ दीवार के पास खड़ा था।” - इस वाक्य में ‘वहाँ’ किस प्रकार का क्रियाविशेषण है?  
“चोर वहाँ दीवार के पास खड़ा था।” - इस वाक्य में ‘वहाँ’ किस प्रकार का क्रियाविशेषण है?

- (A)  रीतिवाचक क्रियाविशेषण  
रीतिवाचक क्रियाविशेषण
- (B)  परिमाणवाचक क्रियाविशेषण  
परिमाणवाचक क्रियाविशेषण
- (C)  स्थानवाचक क्रियाविशेषण (Correct Answer) (Chosen option)  
स्थानवाचक क्रियाविशेषण
- (D)  कालवाचक क्रियाविशेषण  
कालवाचक क्रियाविशेषण

**Question No.17**

Marks: 2.50

Bookmark

इनमें से कौन-सा शब्द ‘पराक्रम’ का पर्यायवाची शब्द नहीं है?  
इनमें से कौन-सा शब्द ‘पराक्रम’ का पर्यायवाची शब्द नहीं है?

- (A)  ताकत

ताकत

- (B)  पुरुषार्थ  
पुरुषार्थ
- (C)  शक्ति  
शक्ति
- (D)  गरिमा (Correct Answer) (Chosen option)  
गरिमा

Question No.18

Marks: 2.50

Bookmark

'Employee evaluation' (एम्प्लोयी इवेल्यूएशन) का हिंदी पर्याय क्या है?  
'Employee evaluation'(एम्प्लोयी इवेल्यूएशन) का हिंदी पर्याय क्या है?

- (A)  कर्मचारी सहायता  
कर्मचारी सहायता
- (B)  कर्मचारी मनोबल  
कर्मचारी मनोबल
- (C)  कर्मचारी सहभागिता  
कर्मचारी सहभागिता
- (D)  कर्मचारी मूल्यांकन (Correct Answer) (Chosen option)  
कर्मचारी मूल्यांकन

Question No.19

Marks: 2.50

Bookmark

इनमें से कौन-सा शब्द 'विहंग' शब्द का अर्थ नहीं है?  
इनमें से कौन-सा शब्द 'विहंग' शब्द का अर्थ नहीं है?

- (A)  बादल  
बादल
- (B)  पक्षी  
पक्षी
- (C)  विलास (Correct Answer) (Chosen option)  
विलास
- (D)  विमान  
विमान

Question No.20

Marks: 2.50

Bookmark

"भावों की मुक्ति छंदों की भी मुक्ति चाहती है..." - यह उक्ति किस रचनाकार की है?  
"भावों की मुक्ति छंदों की भी मुक्ति चाहती है..." - यह उक्ति किस रचनाकार की है?

- (A)  सूर्यकांत त्रिपाठी निराला (Correct Answer) (Chosen option)  
सूर्यकांत त्रिपाठी निराला
- (B)  महादेवी वर्मा  
महादेवी वर्मा
- (C)  अज्ञेय  
अज्ञेय
- (D)  जयशंकर प्रसाद

जयशंकर प्रसाद

## Question No.21

Marks: 2.50

Bookmark 

‘अनामिका’ के रचनाकार कौन हैं?

‘अनामिका’ के रचनाकार कौन हैं?

- (A)  महादेवी वर्मा  
महादेवी वर्मा
- (B)  जयशंकर प्रसाद  
जयशंकर प्रसाद
- (C)  सुमित्रानंदन पंत  
सुमित्रानंदन पंत
- (D)  सूर्यकांत त्रिपाठी निराला (Correct Answer) (Chosen option)  
सूर्यकांत त्रिपाठी निराला

## Question No.22

Marks: 2.50

Bookmark 

‘जो पढ़ा न गया हो’ – इस वाक्यांश के लिए सही शब्द कौन-सा है?

‘जो पढ़ा न गया हो’ – इस वाक्यांश के लिए सही शब्द कौन-सा है?

- (A)  अपठित (Correct Answer) (Chosen option)  
अपठित
- (B)  आस्तिक  
आस्तिक
- (C)  जटिल  
जटिल
- (D)  अपठनीय  
अपठनीय

## Question No.23

Marks: 2.50

Bookmark 

“नाक दबाने से मुँह खुलता है” – इस लोकोक्ति का अर्थ क्या है?

“नाक दबाने से मुँह खुलता है” – इस लोकोक्ति का अर्थ क्या है?

- (A)  एक ही बात पर भिन्न-भिन्न कथन  
एक ही बात पर भिन्न-भिन्न कथन
- (B)  मुँह के अनुसार बातें  
मुँह के अनुसार बातें
- (C)  ज्यादा बातें करना  
ज्यादा बातें करना
- (D)  कठोरता से कार्य सिद्ध होता है (Correct Answer) (Chosen option)  
कठोरता से कार्य सिद्ध होता है

## Question No.24

Marks: 2.50

Bookmark 

“आपसे अरसे के बाद मुलाकात हो रही है।” – इस वाक्य में किस प्रकार के क्रियाविशेषण का प्रयोग हुआ है?

“आपसे अरसे के बाद मुलाकात हो रही है।” – इस वाक्य में किस प्रकार के क्रियाविशेषण का प्रयोग हुआ है?

- (A)  स्थानवाचक  
स्थानवाचक
- (B)  **कालवाचक (Correct Answer) (Chosen option)**  
**कालवाचक**
- (C)  परिमाणवाचक  
परिमाणवाचक
- (D)  रीतिवाचक  
रीतिवाचक

**Case Study - 25 to 27**

7.50

**अनुच्छेद पढ़कर, दिए गए सवालों के सही जवाब चुनिए :-**

संयुक्त राष्ट्र विश्व जल विकास रिपोर्ट 2018 के अनुसार जलवायु परिवर्तन से पानी के वैश्विक चक्र पर भी असर पड़ेगा। इससे बारिश वाले इलाकों में ज्यादा पानी बरसेगा व सूखाग्रस्त इलाकों में और सूखा पड़ेगा। जलाशय, नहर, ट्रीटमेंट प्लांट नई चुनौतियों का मुकाबला नहीं कर पाएंगे। ज्यादा कीमत, जगह न मिलने, गाद की समस्या और पाबंदियों के चलते नए जलाशय का निर्माण भी मुश्किल है। इस रिपोर्ट में सुझाव दिया गया है कि पानी के बेहतर प्रबंधन के लिए प्रकृति पर आधारित उपायों पर जोर देना चाहिए, जैसे- पानी संग्रहण, भूमि की नमी बढ़ाना, झीलों और भू-जल स्तर में वृद्धि के प्रयास। बांध बनाने की अपेक्षा ये बेहतर विकल्प हैं। शोधकर्ताओं के मुताबिक ये प्राकृतिक विकल्प पानी को साफ़ भी करेंगे और उसकी आपूर्ति भी करेंगे। अमेरिका के न्यूयॉर्क शहर में पानी की समस्या से निपटने के लिए जलाशय की रक्षा, वन संरक्षण और वातावरण के अनुकूल खेती पर जोर दिया जा रहा है।

**अनुच्छेद पढ़कर, दिए गए सवालों के सही जवाब चुनिए :-**

संयुक्त राष्ट्र विश्व जल विकास रिपोर्ट 2018 के अनुसार जलवायु परिवर्तन से पानी के वैश्विक चक्र पर भी असर पड़ेगा। इससे बारिश वाले इलाकों में ज्यादा पानी बरसेगा व सूखाग्रस्त इलाकों में और सूखा पड़ेगा। जलाशय, नहर, ट्रीटमेंट प्लांट नई चुनौतियों का मुकाबला नहीं कर पाएंगे। ज्यादा कीमत, जगह न मिलने, गाद की समस्या और पाबंदियों के चलते नए जलाशय का निर्माण भी मुश्किल है। इस रिपोर्ट में सुझाव दिया गया है कि पानी के बेहतर प्रबंधन के लिए प्रकृति पर आधारित उपायों पर जोर देना चाहिए, जैसे- पानी संग्रहण, भूमि की नमी बढ़ाना, झीलों और भू-जल स्तर में वृद्धि के प्रयास। बांध बनाने की अपेक्षा ये बेहतर विकल्प हैं। शोधकर्ताओं के मुताबिक ये प्राकृतिक विकल्प पानी को साफ़ भी करेंगे और उसकी आपूर्ति भी करेंगे। अमेरिका के न्यूयॉर्क शहर में पानी की समस्या से निपटने के लिए जलाशय की रक्षा, वन संरक्षण और वातावरण के अनुकूल खेती पर जोर दिया जा रहा है।

**Question No.25**

Marks: 2.50

Bookmark 

संयुक्त राष्ट्र के विश्व जल विकास रिपोर्ट 2018 के अनुसार पानी के वैश्विक चक्र पर किसका असर पड़ेगा?  
संयुक्त राष्ट्र के विश्व जल विकास रिपोर्ट 2018 के अनुसार पानी के वैश्विक चक्र पर किसका असर पड़ेगा?

- (A)  बारिश का  
बारिश का
- (B)  सूखे का  
सूखे का
- (C)  **जलवायु परिवर्तन का (Correct Answer) (Chosen option)**  
**जलवायु परिवर्तन का**
- (D)  जल आपूर्ति का  
जल आपूर्ति का

**Question No.26**

Marks: 2.50

Bookmark 

रिपोर्ट में दिये गये सुझावों के अनुसार पानी के बेहतर प्रबंधन के लिए किन उपायों पर जोर देना चाहिए?



रिपोर्ट में दिये गये सुझावों के अनुसार पानी के बेहतर प्रबंधन के लिए किन उपायों पर जोर देना चाहिए?

- (A)  पानी संग्रहण  
पानी संग्रहण
- (B)  भूमि की नमी बढ़ाना  
भूमि की नमी बढ़ाना
- (C)  झीलों और भू-जल स्तर में वृद्धि के प्रयास  
झीलों और भू-जल स्तर में वृद्धि के प्रयास
- (D)  **ये सभी (1, 2 और 3) (Correct Answer)** (Chosen option)  
**ये सभी (1, 2 और 3)**

**Question No.27**

Marks: 2.50

Bookmark

अमेरिका के न्यूयॉर्क शहर में पानी की समस्या से निपटने के लिए किन पर जोर दिया जा रहा है?  
अमेरिका के न्यूयॉर्क शहर में पानी की समस्या से निपटने के लिए किन पर जोर दिया जा रहा है?

- (A)  जलाशय की रक्षा  
जलाशय की रक्षा
- (B)  वन संरक्षण  
वन संरक्षण
- (C)  वातावरण के अनुकूल खेती पर जोर  
वातावरण के अनुकूल खेती पर जोर
- (D)  **ये सभी (1, 2 और 3) (Correct Answer)** (Chosen option)  
**ये सभी (1, 2 और 3)**

**Question No.28**

Marks: 2.50

Bookmark

'गगनांचल' हिंदी पत्रिका के प्रकाशक कौन हैं?  
'गगनांचल' हिंदी पत्रिका के प्रकाशक कौन हैं?

- (A)  भारतीय भाषा परिषद  
भारतीय भाषा परिषद
- (B)  केंद्रीय हिंदी संस्थान  
केंद्रीय हिंदी संस्थान
- (C)  **भारतीय सांस्कृतिक संबंध परिषद (Correct Answer)** (Chosen option)  
**भारतीय सांस्कृतिक संबंध परिषद**
- (D)  प्रकाशन विभाग  
प्रकाशन विभाग

**Question No.29**

Marks: 2.50

Bookmark

'पंच की दुहाई' - मुहावरे का अर्थ क्या है?  
'पंच की दुहाई' - मुहावरे का अर्थ क्या है?

- (A)  **सहायता की पुकार (Correct Answer)** (Chosen option)  
**सहायता की पुकार**
- (B)  झगड़ा करना  
झगड़ा करना
- (C)  क्रोधित होना

क्रोधित होना

- (D)  प्यार करना  
प्यार करना

**Question No.30**

Marks: 2.50

Bookmark

‘प्राक्कथन’ शब्द में कौन-सा उपसर्ग है?

‘प्राक्कथन’ शब्द में कौन-सा उपसर्ग है?

- (A)  **प्राक् (Correct Answer)** (Chosen option)  
**प्राक्**
- (B)  प्र  
प्र
- (C)  कथन  
कथन
- (D)  प्रा  
प्रा

**Question No.31**

Marks: 2.50

Bookmark

“पूत सपूत, तो क्यों धन संचय? पूत कपूत, तो क्यों धन संचय” - इस पंक्ति में कौन-सा अलंकार है?

“पूत सपूत, तो क्यों धन संचय? पूत कपूत, तो क्यों धन संचय” - इस पंक्ति में कौन-सा अलंकार है?

- (A)  श्रुत्यनुप्रास अलंकार  
श्रुत्यनुप्रास अलंकार
- (B)  **लाटानुप्रास अलंकार (Correct Answer)** (Chosen option)  
**लाटानुप्रास अलंकार**
- (C)  अंत्यनुप्रास अलंकार  
अंत्यनुप्रास अलंकार
- (D)  वृत्यानुप्रास अलंकार  
वृत्यानुप्रास अलंकार

**Question No.32**

Marks: 2.50

Bookmark

हिंदी का प्रथम पत्र कौन-सा है?

हिंदी का प्रथम पत्र कौन-सा है?

- (A)  बनारस अखबार  
बनारस अखबार
- (B)  बिहार बंधु  
बिहार बंधु
- (C)  **उदन्त मार्तण्ड (Correct Answer)** (Chosen option)  
**उदन्त मार्तण्ड**
- (D)  मालवा अखबार  
मालवा अखबार

**Question No.33**

Marks: 2.50

Bookmark

“राम का भाई भरत है।” – इस वाक्य में कौन-सा कारक है?

“राम का भाई भरत है।” – इस वाक्य में कौन-सा कारक है?

- (A)  संप्रदान कारक  
संप्रदान कारक
- (B)  अपादान कारक  
अपादान कारक
- (C)  **संबंध कारक (Correct Answer)** (Chosen option)  
**संबंध कारक**
- (D)  अधिकरण कारक  
अधिकरण कारक

**Question No.34**

Marks: 2.50

Bookmark

दंत्य-वत्स्य अल्पप्राण अघोष वर्ण का उदाहरण कौन-सा है?

दंत्य-वत्स्य अल्पप्राण अघोष वर्ण का उदाहरण कौन-सा है?

- (A)  **त् (Correct Answer)** (Chosen option)  
**त्**
- (B)  ष्  
ष्
- (C)  च्  
च्
- (D)  ट्  
ट्

**Question No.35**

Marks: 2.50

Bookmark

‘सुप्त’ का विलोम शब्द क्या है?

‘सुप्त’ का विलोम शब्द क्या है?

- (A)  **जागृत (Correct Answer)** (Chosen option)  
**जागृत**
- (B)  सभ्य  
सभ्य
- (C)  विक्षुब्ध  
विक्षुब्ध
- (D)  सुस्त  
सुस्त

**Question No.36**

Marks: 2.50

Bookmark

‘यथासमय’ शब्द में कौन-सा समास है?

‘यथासमय’ शब्द में कौन-सा समास है?

- (A)  बहुब्रीहि समास  
बहुब्रीहि समास
- (B)  **अव्ययीभाव समास (Correct Answer)** (Chosen option)  
**अव्ययीभाव समास**

- (C)  द्विगु समास  
द्विगु समास
- (D)  कर्मधारय समास  
कर्मधारय समास

**Question No.37**

Marks: 2.50

Bookmark

'बुद्धिमान' शब्द में कौन-सा प्रत्यय है?  
'बुद्धिमान' शब्द में कौन-सा प्रत्यय है?

- (A)  बुद्धि  
बुद्धि
- (B)  आन  
आन
- (C)  मान (Correct Answer) (Chosen option)  
मान
- (D)  न  
न

**Question No.38**

Marks: 2.50

Bookmark

'वंद्य' का विलोम शब्द क्या है?  
'वंद्य' का विलोम शब्द क्या है?

- (A)  मंद्य  
मंद्य
- (B)  दंड्य  
दंड्य
- (C)  वंदनीय  
वंदनीय
- (D)  निंद्य (Correct Answer) (Chosen option)  
निंद्य

**Question No.39**

Marks: 2.50

Bookmark

भयानक रस का स्थायीभाव क्या होता है?  
भयानक रस का स्थायीभाव क्या होता है?

- (A)  निर्वेद  
निर्वेद
- (B)  शोक  
शोक
- (C)  भय (Correct Answer) (Chosen option)  
भय
- (D)  रति  
रति

**Question No.40**

Marks: 2.50

Bookmark

किस कृति के लिए अमरकांत को साहित्य अकादमी पुरस्कार प्राप्त हुआ?  
किस कृति के लिए अमरकांत को साहित्य अकादमी पुरस्कार प्राप्त हुआ?

- (A)  ग्राम सेविका  
ग्राम सेविका
- (B)  **इन्हीं हथियारों से (Correct Answer) (Chosen option)**  
**इन्हीं हथियारों से**
- (C)  सूखा पत्ता  
सूखा पत्ता
- (D)  दीवार और आँगन  
दीवार और आँगन

**BASIC LAW - CONSTITUTION AND GENERAL KNOWLEDGE - BASIC LAW - CONSTITUTION AND GENERAL KNOWLEDGE**

**Question No.1**

Marks: 2.50

Bookmark

Fundamental Rights are enshrined under which part of the Indian Constitution?  
भारतीय संविधान के किस भाग के तहत मौलिक अधिकार निहित हैं?

- (A)  **Part III (Correct Answer) (Chosen option)**  
**भाग III**
- (B)  Part II  
भाग II
- (C)  Part IV  
भाग IV
- (D)  Part V  
भाग V

**Question No.2**

Marks: 2.50

Bookmark

The substance which cannot be broken down into simpler substances by chemical or physical means are called \_\_\_\_\_.  
जिस पदार्थ को रासायनिक या भौतिक साधनों द्वारा सरल पदार्थों में नहीं तोड़ा जा सकता है, उसे \_\_\_\_\_ कहा जाता है।

- (A)  **Elements (Correct Answer) (Chosen option)**  
**तत्व**
- (B)  Particles  
कण
- (C)  Compounds  
यौगिक
- (D)  Mixtures  
मिश्रण

**Question No.3**

Marks: 2.50

Bookmark

In which year the National Judicial Appointments Commission Act was enacted by the Indian Parliament?  
भारतीय संसद द्वारा राष्ट्रीय न्यायिक नियुक्ति आयोग अधिनियम किस वर्ष में अधिनियमित किया गया था?

- (A)  2016  
2016
- (B)  2017  
2017
- (C)  **2014 (Correct Answer) (Chosen option)**  
**2014**
- (D)  2015  
2015

**Question No.4**

Marks: 2.50

Bookmark

Which type of land can't be acquired under New Land Acquisition Law unless it is for defence or emergency caused by natural calamity?

नए भूमि अधिग्रहण कानून के तहत किस प्रकार की भूमि का अधिग्रहण तब तक नहीं किया जा सकता जब तक कि यह रक्षा के लिए या प्राकृतिक आपदा के कारण उत्पन्न होने वाली आपात स्थिति के लिए न हो?

- (A)  Private land  
निजी भूमि
- (B)  Urban Land  
शहरी भूमि
- (C)  Industrial Land  
औद्योगिक भूमि
- (D)  **Multi-cropped, irrigated land (Correct Answer) (Chosen option)**  
**बहुफसली, सिंचित भूमि**

**Question No.5**

Marks: 2.50

Bookmark

In which of the following cases it was held that the power of judicial review over legislative action is an integral and essential feature of the Constitution and is part of its basic structure?

निम्नलिखित में से किस मामले में यह माना गया था कि विधायी कार्रवाई पर न्यायिक समीक्षा की शक्ति संविधान की एक अभिन्न और आवश्यक विशेषता है और इसकी मूल संरचना का हिस्सा है?

- (A)  Kesavananda Bharati's case  
केशवानंद भारती का मामला
- (B)  **Chandra Kumar's case (Correct Answer) (Chosen option)**  
**चंद्र कुमार का मामला**
- (C)  Sajjan Singh's case  
सज्जन सिंह का मामला
- (D)  Golak Nath's case  
गोलक नाथ का मामला

**Question No.6**

Marks: 2.50

Bookmark

Currently the motor vehicles running on compressed gaseous hydrogen fuel cell shall comply with corresponding \_\_\_\_ standard.

वर्तमान में संपीडित गैसीय हाइड्रोजन ईंधन सेल पर चलने वाले मोटर वाहन, समरूपी \_\_\_\_ मानक का अनुपालन करेंगे।

- (A)  European  
यूरोपियन
- (B)  Industry

इंडस्ट्री

- (C)  **ISO (Correct Answer)** (Chosen option)  
ISO
- (D)  BSI  
BSI

**Question No.7**

Marks: 2.50

Bookmark

As per budget 2020-21, government launched which scheme to be run by SHGs to provide holding capacity to farmers?

2020-21 के बजट के अनुसार, सरकार ने किसानों को धारण क्षमता प्रदान करने के लिए SHGs(एसएचजी) द्वारा संचालित कौन-सी योजना चलाई है?

- (A)  Kisan Credit Card Scheme  
किसान क्रेडिट कार्ड योजना
- (B)  Pradhan Mantri Fasal Bima Yojana  
प्रधानमंत्री फसल बीमा योजना
- (C)  **Village Storage Scheme (Correct Answer)** (Chosen option)  
ग्राम भंडारण योजना
- (D)  Soil Health Card Yojana  
मृदा स्वास्थ्य कार्ड योजना

**Question No.8**

Marks: 2.50

Bookmark

Which one of the following Parliamentary Committees has no representation from 'Rajya Sabha'?

निम्नलिखित में से किस संसदीय समिति में 'राज्य सभा' का कोई प्रतिनिधित्व नहीं है?

- (A)  Public Accounts Committee  
लोक लेखा समिति
- (B)  **Estimates Committee (Correct Answer)** (Chosen option)  
प्राक्कलन समिति
- (C)  Library Committee  
पुस्तकालय समिति
- (D)  Committee on Public Undertakings  
लोक उपक्रम समिति

**Question No.9**

Marks: 2.50

Bookmark

The High Court of Kerala recognised the right to internet access as a fundamental right forming a part of the right to privacy and the right to education under Article 21 of the Constitution of India in the case of \_\_\_\_\_.

केरल के उच्च न्यायालय ने \_\_\_\_\_ के मामले में भारत के संविधान के अनुच्छेद 21 के तहत निजता के अधिकार और शिक्षा के अधिकार के एक हिस्से के रूप में इंटरनेट के उपयोग के अधिकार को मौलिक अधिकार के रूप में मान्यता दी है।

- (A)  Hina Haneefa v. State of Kerala  
हिना हनीफा बनाम केरल राज्य
- (B)  Shafin Jahan v. Ashokan K.M.  
शफीन जहान बनाम अशोकन के.एम.
- (C)  Moopil Nair v. State of Kerala

मूपिल नायर बनाम केरल राज्य

- (D)  **Faheema Shirin v. State of Kerala (Correct Answer)** (Chosen option)  
फहीमा शिरीन बनाम केरल राज्य

**Question No.10**

Marks: 2.50

Bookmark

What is the maximum period of detention under the National Security Act?

राष्ट्रीय सुरक्षा अधिनियम के तहत निरुद्ध की जाने की अधिकतम अवधि कितनी है?

- (A)  24 months  
24 महीने
- (B)  6 months  
6 महीने
- (C)  **12 months (Correct Answer)** (Chosen option)  
**12 महीने**
- (D)  3 months  
3 महीने

**Question No.11**

Marks: 2.50

Bookmark

The annual report of the National Commission for Women together with a memorandum of action taken is to be laid by the Central Government \_\_\_\_\_.

राष्ट्रीय महिला आयोग की वार्षिक रिपोर्ट, की गई कार्रवाई के ज्ञापन के साथ, केंद्र सरकार द्वारा \_\_\_\_\_ रखी जानी होती है।

- (A)  before the Supreme Court of India  
भारत के सर्वोच्च न्यायालय के समक्ष
- (B)  before the Lok Sabha only  
केवल लोकसभा के समक्ष
- (C)  before the Rajya Sabha only  
केवल राज्यसभा के समक्ष
- (D)  **before each House of the Parliament (Correct Answer)** (Chosen option)  
**संसद के प्रत्येक सदन के समक्ष**

**Question No.12**

Marks: 2.50

Bookmark

The Chief Information Commissioner of India is appointed by the \_\_\_\_\_.

भारत के मुख्य सूचना आयुक्त की नियुक्ति \_\_\_\_\_ द्वारा की जाती है।

- (A)  Prime Minister  
प्रधानमंत्री
- (B)  Cabinet  
मंत्रिमंडल
- (C)  **President of India (Correct Answer)** (Chosen option)  
**भारत के राष्ट्रपति**
- (D)  Chief Justice of India  
भारत के मुख्य न्यायाधीश

**Question No.13**

Marks: 2.50

Bookmark



The act committed by the bank employees for unjust enrichment is called as

बैंक कर्मचारियों द्वारा अन्यायपूर्ण समृद्धिकरण के लिए किए गए कार्य को \_\_\_\_\_ कहा जाता है।

- (A)  Pharming fraud  
फार्मिंग फ्रॉड
- (B)  Phishing fraud  
फिशिंग फ्रॉड
- (C)  Scanning fraud  
स्कैनिंग फ्रॉड
- (D)  **Interloper fraud (Correct Answer) (Chosen option)**  
**इंटरलॉपर फ्रॉड**

**Question No.14**

Marks: 2.50

Bookmark

Which among the following terms is not mentioned in the preamble of the Indian Constitution?

निम्नलिखित कौन-सा शब्द भारतीय संविधान की प्रस्तावना में उल्लिखित नहीं है?

- (A)  Democratic  
लोकतांत्रिक
- (B)  Sovereign  
संप्रभु
- (C)  Republic  
गणतंत्र
- (D)  **Communist (Correct Answer) (Chosen option)**  
**साम्यवादी**

**Question No.15**

Marks: 2.50

Bookmark

To which Indian state do the Kolar mines belong to?

कोलार की खदानें किस भारतीय राज्य से संबंधित हैं?

- (A)  Telangana  
तेलंगाना
- (B)  Odisha  
ओडिशा
- (C)  Andhra Pradesh  
आंध्र प्रदेश
- (D)  **Karnataka (Correct Answer) (Chosen option)**  
**कर्नाटक**

**Question No.16**

Marks: 2.50

Bookmark

Which among the following is a folk dance from Rajasthan that is included in 'UNESCO's list of intangible cultural heritage'?

निम्नलिखित में से कौन सा राजस्थान का लोक नृत्य है जो 'यूनेस्को की अमूर्त सांस्कृतिक विरासत सूची' में शामिल है?

- (A)  **Kalbelia (Correct Answer) (Chosen option)**  
**कालबेलिया**
- (B)  Kathak

कथक

- (C)  Chhau  
छाऊ
- (D)  Kuchipudi  
कुचिपुड़ी

**Question No.17**

Marks: 2.50

Bookmark

Which of the following organisations published Global Gender Gap Report 2020?  
निम्नलिखित में से किस संगठन ने वैश्विक लैंगिक अंतराल रिपोर्ट 2020 प्रकाशित की?

- (A)  **World Economic Forum (Correct Answer) (Chosen option)**  
**विश्व आर्थिक मंच**
- (B)  World Bank  
विश्व बैंक
- (C)  Asian Development Bank  
एशियाई विकास बैंक
- (D)  International Monetary Funds  
अंतर्राष्ट्रीय मुद्रा कोष

**Question No.18**

Marks: 2.50

Bookmark

Which of the following diseases is commonly known as 'Pink eye'?  
निम्नलिखित में से किस बीमारी को आमतौर पर 'पिंक आई(गुलाबी आँख)' के रूप में जाना जाता है?

- (A)  **Conjunctivitis (Correct Answer) (Chosen option)**  
**नेत्र-शोथ**
- (B)  Tuberculosis  
क्षयरोग (टीबी)
- (C)  Typhoid  
आंत्र ज्वर
- (D)  Scabies  
दाद

**Question No.19**

Marks: 2.50

Bookmark

Which of the following is the Vision of LinkedIn?  
लिंक्डइन की परिकल्पना (विज़न) निम्नलिखित में से कौन-सी है?

- (A)  To provide Free Payment Services  
निःशुल्क भुगतान सेवाएँ प्रदान करना
- (B)  To create Opportunity for Creating Videos  
वीडियो बनाने के लिए अवसर पैदा करना
- (C)  **Create economic opportunity for every member of the global workforce (Correct Answer) (Chosen option)**  
**वैश्विक कार्यबल के प्रत्येक सदस्य के लिए आर्थिक अवसर पैदा करना**
- (D)  To reduce Internet Traffic  
इंटरनेट ट्रैफ़िक को कम करना

**Question No.20**

Marks: 2.50

Bookmark 

Which one of the following statements is correct regarding the provisions of Government of India Act, 1919?

भारत सरकार अधिनियम, 1919 के प्रावधानों के बारे में निम्नलिखित में से कौन-सा कथन सही है?

- (A)  Communal representation was provided for the first time  
पहली बार सांप्रदायिक प्रतिनिधित्व प्रदान किया गया था
- (B)  It introduced Civil service in India for the first time  
इसने भारत में पहली बार लोक (सिविल) सेवा की शुरुआत की
- (C)  Decentralisation was provided for the first time  
पहली बार विकेंद्रीकरण प्रदान किया गया था
- (D)  **Bicameral legislature introduced in India for the first time (Correct Answer) (Chosen option)**  
**भारत में पहली बार द्विसदनी विधानमंडल की शुरुआत हुई**

**Question No.21**

Marks: 2.50

Bookmark 

Which one of the following services was created as a third 'All India Service'?  
निम्नलिखित में से किस सेवा का गठन तीसरी 'अखिल भारतीय सेवा' के रूप में किया गया था?

- (A)  Indian Police Service  
भारतीय पुलिस सेवा
- (B)  **Indian Forest Service (Correct Answer) (Chosen option)**  
**भारतीय वन सेवा**
- (C)  Indian Administrative Service  
भारतीय प्रशासनिक सेवा
- (D)  Indian Foreign Service  
भारतीय विदेश सेवा

**Question No.22**

Marks: 2.50

Bookmark 

'Dr. Bhimrao Ambedkar University' is located in which of the following districts of Uttar Pradesh?

'डॉ. भीमराव अम्बेडकर विश्वविद्यालय' उत्तर प्रदेश के निम्नलिखित में से कौन-से जिले में स्थित है?

- (A)  Jhansi  
झाँसी
- (B)  **Agra (Correct Answer) (Chosen option)**  
**आगरा**
- (C)  Prayagraj  
प्रयागराज
- (D)  Fatehpur  
फ़तेहपुर

**Question No.23**

Marks: 2.50

Bookmark 

In windows, the shortcut key to rename a file is \_\_\_\_.

विंडोज़ में, किसी फ़ाइल का नाम बदलने की शॉर्टकट कुंजी (की) \_\_\_\_ है।

- (A)  F6  
F6
- (B)  F8  
F8

- (C)  F3  
F3
- (D)  **F2 (Correct Answer)** (Chosen option)  
**F2**

**Question No.24**

Marks: 2.50

Bookmark

Which of the following Articles of the Indian Constitution deals with 29 functional items of the Panchayats?

भारतीय संविधान का निम्नलिखित में से कौन-सा अनुच्छेद, पंचायतों के 29 कार्यात्मक मदों से संबंधित है?

- (A)  **243- G (Correct Answer)** (Chosen option)  
**243- G**
- (B)  243- O  
243- O
- (C)  243- K  
243- K
- (D)  243- D  
243- D

**Question No.25**

Marks: 2.50

Bookmark

When was the trademark act enacted?

ट्रेडमार्क अधिनियम कब अधिनियमित किया गया था?

- (A)  1958  
1958
- (B)  2012  
2012
- (C)  2006  
2006
- (D)  **1999 (Correct Answer)** (Chosen option)  
**1999**

**Question No.26**

Marks: 2.50

Bookmark

Banking is an example of which of the following sectors?

बैंकिंग निम्नलिखित में से किस क्षेत्र (सेक्टर) का उदाहरण है?

- (A)  Primary Sector  
प्राथमिक क्षेत्र
- (B)  Quaternary Sector  
चतुर्थ क्षेत्र
- (C)  Secondary Sector  
द्वितीयक क्षेत्र
- (D)  **Tertiary Sector (Correct Answer)** (Chosen option)  
**तृतीयक क्षेत्र**

**Question No.27**

Marks: 2.50

Bookmark

Whoever malignantly spreads infection of life threatening disease is punishable with imprisonment which may extend to \_\_\_ years.

जो कोई द्वेषभाव से किसी प्राणघातक रोग का संक्रमण फैलाता है, उसे कारावास की सजा दी जा सकती है, जो \_\_\_\_\_ वर्ष तक बढ़ सकती है।

- (A)  3  
3
- (B)  5  
5
- (C)  2 (Correct Answer) (Chosen option)  
2
- (D)  4  
4

**Question No.28**

Marks: 2.50

Bookmark

Who said in the constituent assembly that "a government which rests on popular vote can hardly ignore the Directive Principles while shaping its policy"?

संविधान सभा में किसने कहा कि "लोक-मत पर आश्रित सरकार अपने नीति निर्धारण में शायद ही निदेशक तत्त्वों की अनदेखी कर सकती है"?

- (A)  B.N. Rau  
बी.एन. राऊ
- (B)  K.T. Shah  
के.टी. शाह
- (C)  Jawaharlal Nehru  
जवाहरलाल नेहरू
- (D)  B.R. Ambedkar (Correct Answer) (Chosen option)  
बी.आर. अम्बेडकर

**Question No.29**

Marks: 2.50

Bookmark

First Portuguese factory was established in \_\_\_\_\_.

पहला पुर्तगाली कारखाना \_\_\_\_\_ में स्थापित किया गया था।

- (A)  Kochi  
कोच्चि
- (B)  Goa  
गोवा
- (C)  Bombay  
बॉम्बे
- (D)  Calicut (Correct Answer) (Chosen option)  
कैलिकट

**Question No.30**

Marks: 2.50

Bookmark

Possession of the land acquired can be taken by the government even before payment of compensation for projects which relate to:

- A) Maximum area required for defence of India  
B) Minimum area required for national security  
C) Minimum area required for emergency response to calamities or other emergencies.

निम्नलिखित में से किस/किन परियोजनाओं के लिए सरकार द्वारा मुआवजे के भुगतान से पहले अधिग्रहीत भूमि का कब्जा लिया जा सकता है?

- A) भारत की रक्षा के लिए आवश्यक अधिकतम क्षेत्र से संबंधित

- B) राष्ट्रीय सुरक्षा के लिए आवश्यक न्यूनतम क्षेत्र से संबंधित  
C) आपदाओं या अन्य आपात स्थितियों के लिए आपातकालीन प्रतिक्रिया के लिए आवश्यक न्यूनतम क्षेत्र से संबंधित
- (A)  A and C  
A और C
- (B)  C Only  
केवल C
- (C)  A and B  
A और B
- (D)  **B and C (Correct Answer)** (Chosen option)  
**B और C**

**Question No.31**

Marks: 2.50

Bookmark

The first Scheduled Areas and Scheduled Tribes Commission was set up in 1960 under the Chairmanship of:

1960 में किसकी अध्यक्षता में पहला अनुसूचित क्षेत्र और अनुसूचित जनजाति आयोग स्थापित किया गया था?

- (A)  **UN Dhebar (Correct Answer)** (Chosen option)  
**यू.एन. डेबर**
- (B)  BP Mandal  
बी.पी. मंडल
- (C)  DS Bhuria  
डी.एस. भूरिया
- (D)  BL Sahni  
बी.एल. साहनी

**Question No.32**

Marks: 2.50

Bookmark

In which year the 'Central Vigilance Commission' was created?

'केंद्रीय सतर्कता आयोग' किस वर्ष में बनाया गया था?

- (A)  **1964 (Correct Answer)** (Chosen option)  
**1964**
- (B)  1986  
1986
- (C)  1968  
1968
- (D)  1983  
1983

**Question No.33**

Marks: 2.50

Bookmark

How many Nyaya Panchayats are there in Uttar Pradesh for administrative convenience?

प्रशासनिक सुविधा के लिए उत्तर प्रदेश में कितनी न्याय पंचायतें हैं?

- (A)  **8135 (Correct Answer)** (Chosen option)  
**8135**
- (B)  9000  
9000
- (C)  9225

9225

- (D)  8148  
8148

**Question No.34**

Marks: 2.50

Bookmark

Which famous social reformer wrote the book 'Gulamgiri'?  
किस प्रसिद्ध समाज सुधारक ने 'गुलामगिरी' नामक पुस्तक लिखी?

- (A)  Sree Narayana Guru  
श्री नारायण गुरु
- (B)  Keshab Chandra Sen  
केशव चन्द्र सेन
- (C)  **Jyotirao Phule (Correct Answer)** (Chosen option)  
**ज्योतिराव फुले**
- (D)  Ayyankali  
अय्यंकाली

**Question No.35**

Marks: 2.50

Bookmark

With which of the following countries, India has the "Kalapani Territorial Dispute" ?  
भारत का "कालापानी क्षेत्रीय विवाद" निम्नलिखित में से किस देश के साथ है?

- (A)  Bangladesh  
बांग्लादेश
- (B)  Bhutan  
भूटान
- (C)  Pakistan  
पाकिस्तान
- (D)  **Nepal (Correct Answer)** (Chosen option)  
**नेपाल**

**Question No.36**

Marks: 2.50

Bookmark

Which is the first UAE-Israel peace deal?  
पहला यूएई-इज़रायल शांति समझौता कौन-सा है?

- (A)  Allon plan  
एलोन योजना
- (B)  Paris Peace Accord  
पेरिस शांति समझौता
- (C)  Egypt-Israel Peace Treaty  
मिस्र-इज़रायल शांति संधि
- (D)  **Abraham Accord (Correct Answer)** (Chosen option)  
**अब्राहम समझौता**

**Question No.37**

Marks: 2.50

Bookmark

Who fixes the date of election of the deputy Speaker of Lok Sabha?  
कौन लोकसभा के उपाध्यक्ष के चुनाव की तारीख तय करता है?

-

- (A) The Protem Speaker of Lok Sabha  
लोकसभा के अस्थाई अध्यक्ष
- (B)  **The Speaker of Lok Sabha (Correct Answer)** (Chosen option)  
**लोकसभा के अध्यक्ष**
- (C)  The Chairman of Rajya Sabha  
राज्यसभा के अध्यक्ष
- (D)  The President of India  
भारत के राष्ट्रपति

**Question No.38**

Marks: 2.50

Bookmark

The primary interpretation of the tax provision is based on:

- A) Literal Rule  
B) Golden Rule  
C) Mischief Rule

कर प्रावधान का प्राथमिक निर्वचन इस पर आधारित है:

- A) शाब्दिक (लिटरल) नियम  
B) स्वर्णिम (गोल्डन) नियम  
C) शरारत (मिसचीफ़) नियम

- (A)  **A (Correct Answer)** (Chosen option)

A

- (B)  B

B

- (C)  C

C

- (D)  None

कोई भी नहीं

**Question No.39**

Marks: 2.50

Bookmark

Who is the Chairman of the Inter-State Council set up under Article 263 of the Constitution of India?

भारतीय संविधान के अनुच्छेद 263 के तहत गठित अंतर-राज्य परिषद के अध्यक्ष कौन हैं?

- (A)  Union Minister of Home Affairs

केंद्रीय गृह मंत्रालय

- (B)  Speaker of Lok Sabha

लोकसभा के अध्यक्ष

- (C)  **Prime Minister of India (Correct Answer)** (Chosen option)

**भारत के प्रधानमंत्री**

- (D)  President of India

भारत के राष्ट्रपति

**Question No.40**

Marks: 2.50

Bookmark

Which of the following is mandatory for new project's EIA processing?

- A) Screening  
B) Scoping  
C) Public consultation



नई परियोजना के ईआईए (EIA) प्रसंस्करण के लिए निम्नलिखित में से कौन-सा अनिवार्य है?

- A) स्क्रीनिंग  
B) स्कोपिंग  
C) सार्वजनिक परामर्श

- (A)  A  
A  
(B)  B and C  
B और C  
(C)  C  
C  
(D)  A,B and C (Correct Answer) (Chosen option)  
A, B और C

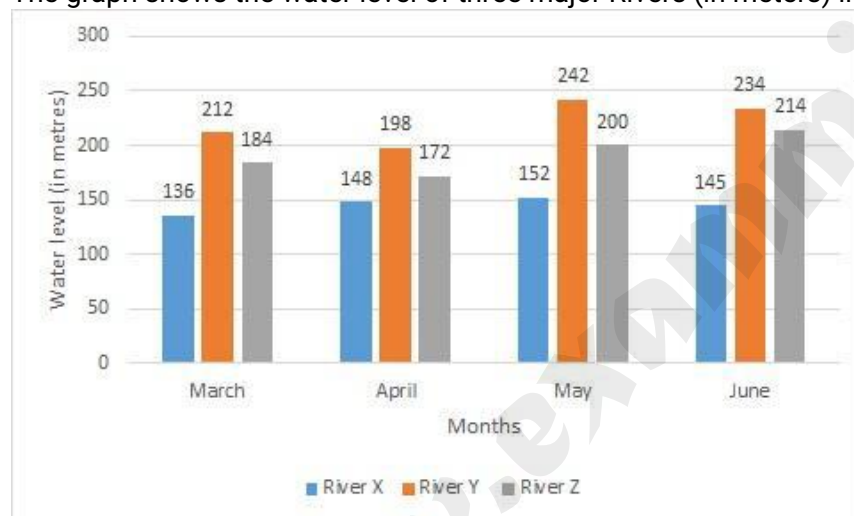
**NUMERICAL AND MENTAL ABILITY TEST - NUMERICAL AND MENTAL ABILITY TEST**

**Case Study - 1 to 2**

5.00

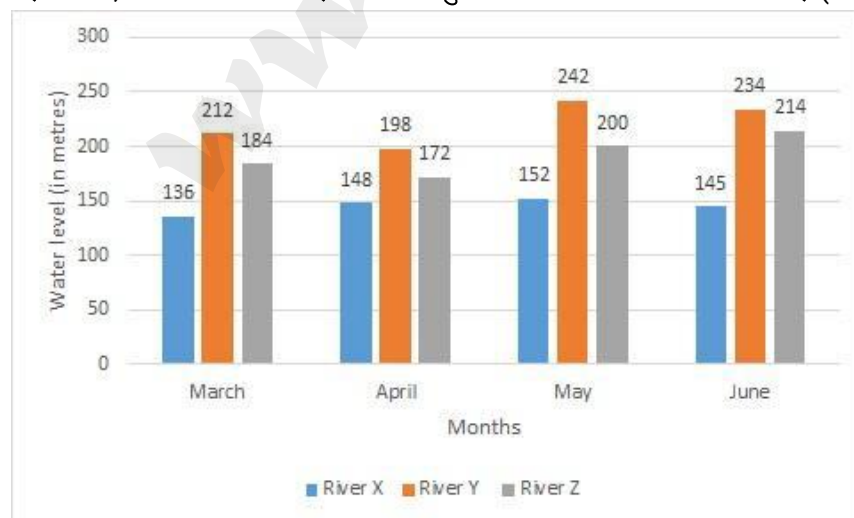
**Directions:** Study the following graph carefully and answer the questions that follow:

The graph shows the water level of three major Rivers (in meters) in four different Months



**दिशा-निर्देश:** निम्नलिखित आरेख का ध्यानपूर्वक अध्ययन कीजिए और बाद में दिए गए प्रश्नों के उत्तर दीजिए:

यह आरेख, चार अलग-अलग महीनों में तीन मुख्य नदियों के जल-स्तर को दर्शाता है (मीटर में)।



Question No.1

Marks: 2.50

Bookmark 

What is the average water level (in metres) of River Y in the given months?

दिए गए महीनों में नदी Y का औसत जल-स्तर कितना है? (मीटर में)

- (A)  222.5  
222.5
- (B)  **221.5 (Correct Answer)** (Chosen option)  
**221.5**
- (C)  223  
223
- (D)  224  
224

**Question No.2**

Marks: 2.50

Bookmark 

Find the ratio of the average water level of River X in the month March and May to that of the River Z in the same months.

मार्च और मई के महीने में नदी X के औसत जल-स्तर और इन्हीं महीनों में नदी Z के औसत जल-स्तर के बीच का अनुपात ज्ञात कीजिए।

- (A)  4 : 3  
4 : 3
- (B)  **3 : 4 (Correct Answer)** (Chosen option)  
**3 : 4**
- (C)  2 : 3  
2 : 3
- (D)  1 : 3  
1 : 3

**Question No.3**

Marks: 2.50

Bookmark 

Replace the question mark with an option that follows the same logic applied in the first pair.

AUCTION : BVDWKQP :: VENDORS : ??

प्रश्न-चिह्न को उस विकल्प से प्रतिस्थापित कीजिए, जो प्रथम युग्म में लागू तर्क का अनुसरण करता है।

AUCTION : BVDWKQP :: VENDORS : ??

- (A)  WFOGPST  
WFOGPST
- (B)  **WFOGQTU (Correct Answer)** (Chosen option)  
**WFOGQTU**
- (C)  WDMGQTY  
WDMGQTY
- (D)  WFPGPTV  
WFPGPTV

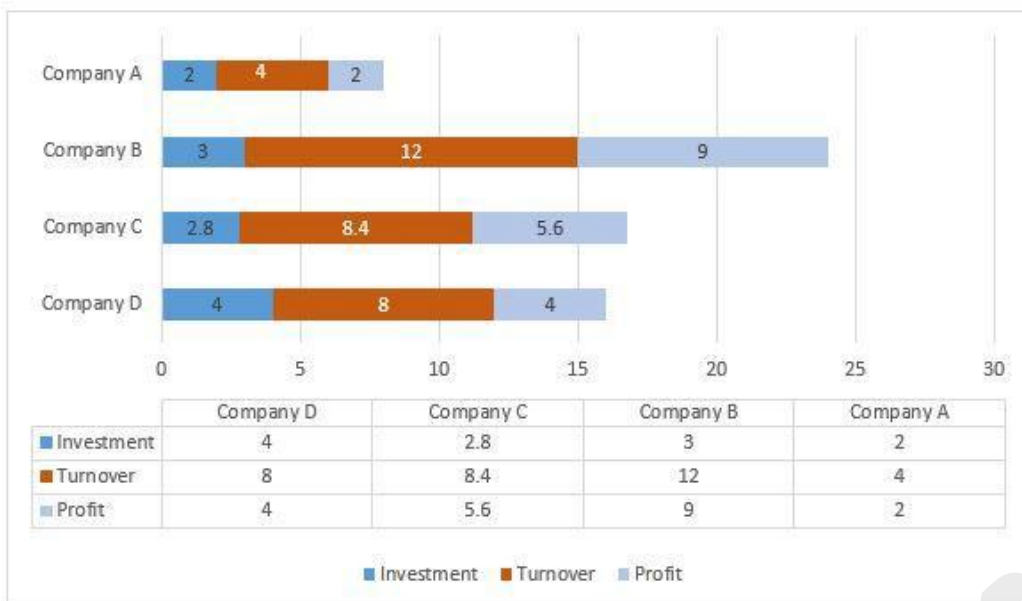
**Question No.4**

Marks: 2.50

Bookmark **Directions:**

Study the following Bar-chart and the data provided to answer the questions that follow: Investment, Turnover and Profit of four different companies A, B, C and D are given. (In Lakhs)

What percentage of turnover of company D is profit of company C. (Up to two decimals)



**दिशानिर्देश:**

दिए गए दण्ड आरेख (बार-चार्ट) और आंकड़ों का अध्ययन करें और नीचे दिए गए प्रश्नों का उत्तर दें। A, B, C और D, चार अलग-अलग कंपनियों के निवेश, टर्नओवर और लाभ दिए गए हैं। (लाख में) कंपनी D के टर्नओवर का कितना प्रतिशत, कंपनी C का लाभ है? (दो दशमलव स्थानों तक)



- (A)  **70% (Correct Answer)** (Chosen option)  
70%
- (B)  19%  
19%
- (C)  68%  
68%
- (D)  72%  
72%

**Question No.5**

Marks: 2.50

Bookmark

Find the volume of the cylinder whose radius is 31.5 cm and height is 16 cm. (use  $\pi=22/7$  and In  $\text{cm}^3$ )

31.5 cm त्रिज्या और 16 cm ऊंचाई वाले बेलन का आयतन ज्ञात कीजिए। (उपयोग करें  $\pi=22/7$  और  $\text{cm}^3$  में)

- (A)  47896  
47896
- (B)  **49896 (Correct Answer)** (Chosen option)  
**49896**
- (C)  46896  
46896
- (D)  48896  
48896

**Question No.6**

Marks: 2.50

Bookmark

A person invested Rs.32500 divided into two different schemes A and B at S.I of 12.5% and 15%. If the total amount of the simple interest earned in 2 years is Rs.9175, What was the amount invested in scheme A. (In Rs.)

एक व्यक्ति Rs.32500 को विभाजित करके दो भिन्न-भिन्न योजनाओं A और B में 12.5% और 15% के साधारण ब्याज पर निवेश करता है। यदि 2 वर्ष में साधारण ब्याज की कुल अर्जित राशि Rs.9175 है, तो योजना A में निवेशित राशि कितनी थी? (Rs. में)

- (A)  **11500 (Correct Answer)** (Chosen option)  
**11500**
- (B)  10500  
10500
- (C)  12500  
12500
- (D)  13500  
13500

**Question No.7**

Marks: 2.50

Bookmark

Find the sum of the G.P.:

8/7, 8/49, 8/343, 8/2401, ... to n terms.

गुणोत्तर श्रेणी (G.P) का योग ज्ञात कीजिए।

8/7, 8/49, 8/343, 8/2401, ... n पदों तक

- (A)   $\frac{6}{7}(1-(1/7)^n)$   
 $\frac{6}{7}(1-(1/7)^n)$
- (B)   **$\frac{4}{3}(1-(1/7)^n)$  (Correct Answer)** (Chosen option)  
 **$\frac{4}{3}(1-(1/7)^n)$**
- (C)   $(1-(1/7)^n)$   
 $(1-(1/7)^n)$
- (D)   $\frac{5}{7}(1-(1/7)^n)$   
 $\frac{5}{7}(1-(1/7)^n)$

**Question No.8**

Marks: 2.50

Bookmark

A truck, 1675 metres long is running at a speed of 121 km/hr. How many seconds will it take to cross a 1575 metres long train running in the same direction at a speed of 91 km/hr?

1675 मीटर लंबा एक ट्रक, 121 km/hr की चाल से चल रहा है। उसी दिशा में, 91 km/hr की चाल से चल रही 1575 मीटर लंबी रेलगाड़ी को पार करने में इसे कितने सेकंड का समय लेगा?

- (A)  360  
360
- (B)  **390 (Correct Answer)** (Chosen option)  
**390**
- (C)  380  
380
- (D)  370  
370

**Question No.9**

Marks: 2.50

Bookmark

Z sits to the South of Y and West of W. X sits to the North of W and East of Y. If everyone is facing North, which direction of Z, is X?

Z, Y के दक्षिण में और W के पश्चिम में बैठा है। X, W के उत्तर में और Y के पूर्व में बैठा है। यदि सब उत्तर की ओर अभिमुख हैं, तो X, Z की किस दिशा में है?

- (A)  South-East  
दक्षिण-पूर्व
- (B)  North-West  
उत्तर-पश्चिम
- (C)  South-West  
दक्षिण-पश्चिम
- (D)  **North-East (Correct Answer)** (Chosen option)  
**उत्तर-पूर्व**

**Question No.10**

Marks: 2.50

Bookmark

In this question, a statement is given followed by two conclusions numbered i and ii. You have to assume everything in the statement to be true, then consider the two conclusions together and decide which of them logically follows beyond a reasonable doubt from the information given in the statement.

Statement:

Rohan will announce his retirement after 2020 Olympics.

Conclusions:

- i) Rohan will participate in 2020 Olympics.  
ii) Rohan is a veteran player.

Choose the appropriate one from the following options

- (A) Only conclusion i follows  
(B) Only conclusion ii follows  
(C) Either i or ii follows  
(D) Neither i nor ii follows  
(E) Both i and ii follow.

इस प्रश्न में, एक कथन और उसके बाद i और ii से संख्यांकित दो निष्कर्ष दिए गए हैं। कथन में दी गई समस्त सूचना को सत्य मानते हुए एक साथ दोनों निष्कर्षों पर विचार करें और निर्धारित करें कि उनमें से कौन-सा निष्कर्ष कथन में दी गई सूचना का किसी उचित संदेह से परे तार्किक रूप से अनुसरण करता है।

कथन:

रोहन 2020 ओलंपिक्स के बाद अपने संन्यास की घोषणा करेगा।

निष्कर्ष:

- i) रोहन 2020 ओलंपिक्स में भाग लेगा।  
ii) रोहन एक अनुभवी खिलाड़ी है।

निम्नलिखित विकल्पों में से उपयुक्त विकल्प चुनें

- (A) केवल निष्कर्ष i अनुसरण करता है  
(B) केवल निष्कर्ष ii अनुसरण करता है  
(C) या तो i या तो ii अनुसरण करता है  
(D) न ही i और न ही ii अनुसरण करता है  
(E) i और ii दोनों अनुसरण करते हैं
- (A)  B  
B  
(B)  **D (Correct Answer)** (Chosen option)  
D  
(C)  A  
A  
(D)  C  
C

**Question No.11**

Marks: 2.50

Bookmark

When a number divided by 7239 gives the remainder 93. What will be the remainder when the same number divided by 57?

जब एक संख्या 7239 से विभाजित की जाती है तो शेषफल 93 बचता है। जब उसी संख्या को 57 से विभाजित किया जाएगा, तो शेषफल क्या होगा?

- (A)  **36 (Correct Answer)** (Chosen option)  
36  
(B)  32  
32  
(C)  30  
30  
(D)  34  
34

**Question No.12**

Marks: 2.50

Bookmark

A bucket contains liquid A and B in the ratio 14:15. 116 litre of the mixture is taken out and filled with 116 litre of B. Now the ratio changes to 7:8. Find the quantity of liquid B initially. (In litres)

एक बाल्टी में तरल A और B का अनुपात 14:15 है। 116 लीटर मिश्रण निकाला जाता है और 116 लीटर तरल B भरा जाता है। अब अनुपात बदलकर 7:8 हो जाता है। तरल B की प्रारंभिक मात्रा ज्ञात कीजिए। (लीटर में)

- (A)  1600  
1600  
(B)  1700  
1700  
(C)  1900  
1900  
(D)  **1800 (Correct Answer)** (Chosen option)  
1800

**Question No.13**

Marks: 2.50

Bookmark 

A can finish a work in 122 days and B can do the same work in 183 days. Working together, they will complete the same work in how many days?

A, किसी कार्य को 122 दिन में और B, उसी कार्य को 183 दिन में पूर्ण कर सकता है। एक-साथ कार्य करने पर वे उस कार्य को कितने दिन में पूर्ण करेंगे?

- (A)  71.2  
71.2
- (B)  67.2  
67.2
- (C)  69.2  
69.2
- (D)  **73.2 (Correct Answer)** (Chosen option)  
**73.2**

**Question No.14**

Marks: 2.50

Bookmark **Directions:**

Study the following Bar-chart and the data provided to answer the questions that follow: Investment, Turnover and Profit of four different companies A, B, C and D are given. (In Lakhs) Out of the given four companies which one has highest profit proportion? (Profit proportion = Profit/Investment)

**दिशा-निर्देश:**

दिए गए दण्ड आरेख (बार-चार्ट) और आंकड़ों का अध्ययन करें और नीचे दिए गए प्रश्नों का उत्तर दें।

A, B, C और D, चार अलग-अलग कंपनियों के निवेश, टर्नओवर और लाभ दिए गए हैं। (लाख में)

दी गई चार कंपनियों में से किसका लाभ अनुपात सबसे अधिक है? (लाभ अनुपात = लाभ/निवेश)

- (A)  **Company B (Correct Answer)** (Chosen option)  
**कंपनी B**
- (B)  Company D  
कंपनी D
- (C)  Company A  
कंपनी A
- (D)  Company C  
कंपनी C

**Question No.15**

Marks: 2.50

Bookmark 

A tradesman marks the price of his goods such that after allowing a discount of 20%, he earns a profit of 20%. What is the marked price of an article whose cost price is Rs.22300? (In Rs.)

एक व्यापारी अपने सामान का मूल्य इस प्रकार अंकित करता है कि 20% की छूट देने के बाद, वह 20% लाभ अर्जित करता है। जिस वस्तु का क्रय मूल्य Rs.22300 है, उसका अंकित मूल्य कितना होगा? (Rs. में)

- (A)  **33450 (Correct Answer)** (Chosen option)  
**33450**
- (B)  30450  
30450
- (C)  32450  
32450
- (D)  31450  
31450

## Question No.16

Marks: 2.50

Bookmark 

What is the difference between the compound interests on Rs. 26000 for 1 year at 10% per annum compounded yearly and half-yearly? (In Rs.)

Rs.26000 पर 1 वर्ष के लिए 10% की वार्षिक दर से वार्षिक और अर्धवार्षिक रूप में संयोजित चक्रवृद्धि ब्याज के बीच में अंतर कितना होगा?(Rs. में)

- (A)  63  
63
- (B)  61  
61
- (C)  **65 (Correct Answer) (Chosen option)**  
**65**
- (D)  59  
59

## Question No.17

Marks: 2.50

Bookmark 

Vivek bought a new plot which need to be fenced immediately, due to this the length as well as the breadth of the rectangular working place is reduced by 6%. Find the % decrease in the area.

विवेक ने एक नया प्लॉट खरीदा, जिस पर तुरंत बाड़ बनाने की आवश्यकता है, इस वजह से आयताकार कार्यक्षेत्र की लंबाई तथा चौड़ाई 6% कम हो जाती है। क्षेत्रफल में % कमी ज्ञात कीजिए।

- (A)  11.84%  
11.84%
- (B)  12.00%  
12.00%
- (C)  **11.64% (Correct Answer) (Chosen option)**  
**11.64%**
- (D)  11.00%  
11.00%

## Question No.18

Marks: 2.50

Bookmark 

Replace the question mark with an option that follows the same logic applied in the first pair.

WOOL : RJJG :: HOLY : ??

प्रश्न-चिह्न को उस विकल्प से प्रतिस्थापित कीजिए, जो प्रथम युग्म में लागू तर्क का अनुसरण करता है।

WOOL : RJJG :: HOLY : ??

- (A)  DJGY  
DJGY
- (B)  **CJGT (Correct Answer) (Chosen option)**  
**CJGT**
- (C)  CJGU  
CJGU
- (D)  DJGU  
DJGU

## Question No.19

Marks: 2.50

Bookmark 

The calendar for the year 2453 will be the same for the year:



वर्ष 2453 का कैलेंडर, वर्ष \_\_\_\_\_ के कैलेंडर के समान होगा।

- (A)  2459 (Correct Answer) (Chosen option)  
2459
- (B)  2456  
2456
- (C)  2454  
2454
- (D)  2457  
2457

**Question No.20**

Marks: 2.50

Bookmark

What will be written in the place of question mark in the given series?

A1D4M13S19?8

दी गई श्रृंखला में प्रश्नचिह्न के स्थान पर क्या लिखा जाएगा?

A1D4M13S19?8

- (A)  H (Correct Answer) (Chosen option)  
H
- (B)  G  
G
- (C)  I  
I
- (D)  J  
J

**Question No.21**

Marks: 2.50

Bookmark

Find the next term in given series.

REFRIGERATOR, RIGERA, EFRIGERATO, IGER, ?

दी गई श्रृंखला में अगला पद ज्ञात कीजिए।

REFRIGERATOR, RIGERA, EFRIGERATO, IGER, ?

- (A)  RIGERA  
RIGERA
- (B)  FRIGE  
FRIGE
- (C)  FRIGER  
FRIGER
- (D)  FRIGERAT (Correct Answer) (Chosen option)  
FRIGERAT

**Question No.22**

Marks: 2.50

Bookmark

A train of length 875 m travels at a speed of 180 kmph crosses a Tunnel in 64 seconds.

Find the length of the Tunnel? (In metres)

180 kmph की चाल से चलने वाली 875 m लंबी एक रेलगाड़ी, एक सुरंग को 64 सेकंड में पार करती है। सुरंग

की लंबाई (मीटर में) ज्ञात कीजिए।

- (A)  2525  
2525
- (B)  2125  
2125

- (C)  2725  
2725
- (D)  **2325 (Correct Answer)** (Chosen option)  
**2325**

**Question No.23**

Marks: 2.50

Bookmark 

A shopkeeper bought 340 kg of rice at the rate of Rs.125 per kg. He sold 80% of the total quantity at the rate of Rs.180 per kg. At what price per kg should he sell the remaining quantity to make 80% overall profit? (In Rs.)

एक दुकानदार, Rs.125 प्रति kg की दर से 340 kg चावल खरीदता है। वह, कुल मात्रा का 80% चावल, Rs.180 प्रति kg की दर से बेच देता है। कुल 80% लाभ प्राप्त करने के लिए उसे शेष मात्रा को प्रति kg किस मूल्य पर बेचना चाहिए? (Rs. में)

- (A)  420  
420
- (B)  **405 (Correct Answer)** (Chosen option)  
**405**
- (C)  425  
425
- (D)  415  
415

**Question No.24**

Marks: 2.50

Bookmark 

Akash started a business with Rs.30,000 and is joined afterwards by Babu with Rs.72,000. After how many months did Babu join if the profits at the end of the year are divided equally? (In Rs.)

आकाश ने Rs.30,000 से एक व्यवसाय शुरू किया और बाद में Rs.72,000 के साथ इसमें बाबू शामिल हो गया। यदि वर्ष के अंत में लाभ को बराबर विभाजित किया गया, तो बाबू कितने महीनों के बाद शामिल हुआ? (Rs. में)

- (A)  **7 (Correct Answer)** (Chosen option)  
**7**
- (B)  4  
4
- (C)  6  
6
- (D)  5  
5

**Question No.25**

Marks: 2.50

Bookmark **Directions:**

Study the following Bar-chart and the data provided to answer the questions that follow: Investment, Turnover and Profit of four different companies A, B, C and D are given. (In Lakhs)

What is the gain percentage of Company B?

**दिशा-निर्देश:**

दिए गए दण्ड आरेख (बार-चार्ट) और आंकड़ों का अध्ययन करें और नीचे दिए गए प्रश्नों का उत्तर दें।

A, B, C और D, चार अलग-अलग कंपनियों के निवेश, टर्नओवर और लाभ दिए गए हैं। (लाख में)

कंपनी B का लाभ प्रतिशत कितना है?

- (A)  250%  
250%

- (B)  300% (Correct Answer) (Chosen option)  
300%
- (C)  150%  
150%
- (D)  200%  
200%

**Question No.26**

Marks: 2.50

Bookmark 

A shopkeeper has 3 different qualities of Oil. 506 litres of 1<sup>st</sup> quality, 529 litres of 2<sup>nd</sup> quality and 575 litres of 3<sup>rd</sup> quality. Find the least possible number of bottles of equal size in which different Oil of different qualities can be filled without mixing?

एक दुकानदार के पास विभिन्न गुणवत्ताओं वाले 3 तेल हैं। पहली गुणवत्ता वाला 506 लीटर, दूसरी गुणवत्ता वाला 529 लीटर और तीसरी गुणवत्ता वाला 575 लीटर है। समान आमाप की बोतलों की न्यूनतम संभावित संख्या ज्ञात कीजिए, जिसमें विभिन्न गुणवत्ता वाले विभिन्न तेल को बिना मिश्रित किए भरा जा सके?

- (A)  49  
49
- (B)  68  
68
- (C)  65  
65
- (D)  70 (Correct Answer) (Chosen option)  
70

**Question No.27**

Marks: 2.50

Bookmark 

Solve:

$$(\sqrt{31.36} \div \sqrt{7.84} \times \sqrt{70.56} \div \sqrt{7.84}) \times (\sqrt{31.36} \div \sqrt{7.84} \times \sqrt{70.56} \div \sqrt{7.84}) = ?$$

हल करें:

$$(\sqrt{31.36} \div \sqrt{7.84} \times \sqrt{70.56} \div \sqrt{7.84}) \times (\sqrt{31.36} \div \sqrt{7.84} \times \sqrt{70.56} \div \sqrt{7.84}) = ?$$

- (A)  42  
42
- (B)  38  
38
- (C)  12  
12
- (D)  36 (Correct Answer) (Chosen option)  
36

**Question No.28**

Marks: 2.50

Bookmark 

The average height of 41 telecom towers is 278 m. If the average height of first 20 telecom towers is 278 m and that of last 20 telecom towers is 278 m, then what is the height of 21<sup>st</sup> telecom tower? (In m)

41 टेलीकॉम टावरों की औसत ऊँचाई 278 m है। यदि पहले 20 टावरों की औसत ऊँचाई 278 m और आखिरी 20 टेलीकॉम टावरों की औसत ऊँचाई 278 m है, तो 21वें टेलीकॉम टावर की ऊँचाई कितनी होगी? (m में)

- (A)  298  
298
- (B)  288  
288

- (C)  278 (Correct Answer) (Chosen option)  
278
- (D)  268  
268

**Case Study - 29 to 30**

5.00

**Directions:** In the following questions, few statements are given and these statements are followed by two conclusions numbered i and ii. You have to take the given statements to be true even if they seem to be at variance from commonly known facts. Read the conclusions and then decide which of the given conclusions logically follows from the given statements, disregarding commonly known facts.

Choose,

- (A) Only (i) conclusion follows  
(B) Only (ii) conclusion follows  
(C) Neither (i) nor (ii) follows  
(D) Both (i) and (ii) follow  
(E) Either (i) or (ii) follows

**दिशा-निर्देश:** इस प्रश्न में, कुछ कथन दिए गए हैं और उसके बाद i और ii से संख्यांकित दो निष्कर्ष दिए गए हैं। आपको कथनों में दी गई समस्त जानकारी को सत्य मानना है, भले ही वे सामान्यतः ज्ञात तथ्यों से भिन्न प्रतीत होते हों। निष्कर्षों को पढ़ें तथा सामान्यतः ज्ञात तथ्यों को नज़रंदाज़ करते हुए निर्णय लें कि उनमें से कौन से निष्कर्ष, कथनों में दी गई जानकारी का तार्किक रूप से अनुसरण करते हैं।

चुनिए:

- (A) केवल निष्कर्ष (i) अनुसरण करता है  
(B) केवल निष्कर्ष (ii) अनुसरण करता है  
(C) न ही (i) और न ही (ii) अनुसरण करता है  
(D) (i) और (ii) दोनों अनुसरण करते हैं  
(E) या तो (i) या तो (ii) अनुसरण करता है

**Question No.29**

Marks: 2.50

Bookmark 

Statements:

Some herbivores are carnivores.  
Some carnivores are omnivores.

Conclusions:

- i) Some herbivores are omnivores.  
ii) Some carnivores are herbivores.

कथन:

कुछ शाकाहारी, मांसाहारी हैं।  
कुछ मांसाहारी, सर्वाहारी हैं।

निष्कर्ष:

- i) कुछ शाकाहारी, सर्वाहारी हैं।  
ii) कुछ मांसाहारी, शाकाहारी हैं।

- (A)  A  
A
- (B)  B (Correct Answer) (Chosen option)  
B
- (C)  C  
C

(D)  E  
E

**Question No.30**

Marks: 2.50

Bookmark

Statements:

Some sweets are snacks.

All snacks are crisps.

All sweets are tasty.

Conclusions:

i) Some sweets are crisps.

ii) Some tasty are snacks.

कथन:

कुछ मिठाइयां, नाश्ते हैं।

सभी नाश्ते, खस्ता हैं।

सभी मिठाइयां, स्वादिष्ट हैं।

निष्कर्ष:

i) कुछ मिठाइयां, खस्ता हैं।

ii) कुछ स्वादिष्ट, नाश्ते हैं।

(A)  A  
A

(B)  B  
B

(C)  C  
C

(D)  **D (Correct Answer)** (Chosen option)  
D

**Question No.31**

Marks: 2.50

Bookmark

If the cost price of 2140 articles is equal to the selling price of 1712 articles, then what is the gain %?

यदि 2140 वस्तुओं का क्रय मूल्य, 1712 वस्तुओं के विक्रय मूल्य के बराबर है, तो लाभ% कितना है?

(A)  **25 (Correct Answer)** (Chosen option)  
25

(B)  15  
15

(C)  30  
30

(D)  20  
20

**Question No.32**

Marks: 2.50

Bookmark

Each question given below consists of a statement, followed by two arguments numbered I and II. You have to decide which of the arguments is a 'strong' argument and which is a 'weak' argument.

Give answer:

- (A) If only argument I is strong
- (B) If only argument II is strong
- (C) If either I or II is strong
- (D) If neither I nor II is strong and
- (E) If both I and II are strong.

Statement:

Should kids have homework?

Arguments:

I. Yes, homework teaches kids to work independently and develop self-discipline.

II. No, homework spoils the individuality of the kids.

नीचे दिए गए प्रत्येक प्रश्न में एक कथन है, जिसके बाद I और II से संख्यांकित दो तर्क दिए गए हैं। आपको यह निर्णय लेना है कि कौन-सा तर्क एक 'प्रबल' तर्क है और कौन-सा तर्क 'दुर्बल' तर्क है।

उत्तर दीजिए:

- (A) यदि केवल तर्क I प्रबल है
- (B) यदि केवल तर्क II प्रबल है
- (C) यदि या तो I या तो II प्रबल है
- (D) यदि न तो I प्रबल है तथा न ही II प्रबल है और
- (E) यदि I और II दोनों प्रबल हैं।

कथन:

क्या बच्चों को गृहकार्य मिलना चाहिए?

तर्क:

I. हाँ, गृहकार्य बच्चों को अकेले कार्य करना और आत्म-अनुशासन विकसित करना सिखाता है।

II. नहीं, गृहकार्य बच्चों के व्यक्तित्व को बिगाड़ देता है।

- (A)  E
- (B)  **A (Correct Answer)** (Chosen option)
- (C)  C
- (D)  B

**Question No.33**

Marks: 2.50

Bookmark

Select the appropriate set of sequence of mathematical operators to replace all \* sign in the following equation and hence to balance it.

$$13 * 2 * 6 * 25$$

निम्नलिखित समीकरण में सभी \* को प्रतिस्थापित करने तथा इसे संतुलित करने के लिए गणितीय संकारकों के अनुक्रम के उपयुक्त समुच्चय का चयन कीजिए।

$$13 * 2 * 6 * 25$$

- (A)  - × =
- (B)  **+ × = (Correct Answer)** (Chosen option)

- (C)  - ÷ =  
- ÷ =
- (D)  × + =  
× + =

**Question No.34**

Marks: 2.50

Bookmark

In a division sum, the divisor is 14 times the quotient and 28 times the remainder. If the remainder is 6 then the find the dividend.

भाग के किसी प्रश्न में भाजक, भागफल का 14 गुना और शेषफल का 28 गुना है। यदि शेषफल 6 है तो भाज्य ज्ञात कीजिए।

- (A)  2322  
2322
- (B)  2222  
2222
- (C)  **2022 (Correct Answer) (Chosen option)**  
**2022**
- (D)  2122  
2122

**Question No.35**

Marks: 2.50

Bookmark

Pipe A can fill a tank in 804 minutes and Pipe B can empty the same tank in 1005 minutes. If both pipes are opened together, how many hours will it take to fill the empty tank?

पाइप A एक टैंक को 804 मिनट में भर सकता है और पाइप B उसी टैंक को 1005 मिनट में खाली कर सकता है। यदि दोनों पाइपों को एक साथ खोला जाय, तो खाली टैंक को भरने में कितने घंटे लगेंगे?

- (A)  69  
69
- (B)  71  
71
- (C)  **67 (Correct Answer) (Chosen option)**  
**67**
- (D)  65  
65

**Question No.36**

Marks: 2.50

Bookmark

Rearrange the letters in the question and find the option opposite to the rearranged word.

R N S I P O

प्रश्न में दिए गए अक्षरों को पुनर्व्यवस्थित कीजिए और वह विकल्प ज्ञात कीजिए जिसका अर्थ पुनर्व्यवस्थित शब्द के विपरीत है।

R N S I P O

- (A)  **RELEASE (Correct Answer) (Chosen option)**  
**RELEASE**
- (B)  CONFINEMENT  
CONFINEMENT
- (C)  JAIL  
JAIL

- (D)  LOCKUP  
LOCKUP

**Question No.37**

Marks: 2.50

Bookmark

What is the sum of the first 16 terms of an A.P whose 12<sup>th</sup> and 8<sup>th</sup> terms are 19.75 and 15.75 respectively?

जिस समांतर श्रेणी का 12वां और 8 वां पद क्रमशः 19.75 और 15.75 है, उस समांतर श्रेणी के पहले 16 पदों का योग कितना होगा?

- (A)  290  
290
- (B)  270  
270
- (C)  280  
280
- (D)  **260 (Correct Answer)** (Chosen option)  
**260**

**Question No.38**

Marks: 2.50

Bookmark

If  $\times$  means  $-$ ,  $+$  means  $\times$ ,  $-$  means  $\div$  and  $\div$  means  $+$ , then,  
 $45 \times 6 + 5 \div 12 - 4 = ?$

यदि  $\times$  का अर्थ  $-$  है,  $+$  का अर्थ  $\times$  है,  $-$  का अर्थ  $\div$  है और  $\div$  का अर्थ  $+$  है, तो,  
 $45 \times 6 + 5 \div 12 - 4 = ?$

- (A)  23  
23
- (B)  15  
15
- (C)  21  
21
- (D)  **18 (Correct Answer)** (Chosen option)  
**18**

**Question No.39**

Marks: 2.50

Bookmark

Choose the correct water image of the given image from the following options.

निम्नलिखित विकल्पों में से दिए गए चित्र के सही जल प्रतिबिंब का चयन कीजिए।

- (A)
- (B)
- (C)  **■ (Correct Answer)** (Chosen option)  
**■**
- (D)

**Question No.40**

Marks: 2.50

Bookmark

Find the value of X in the given image.



दी गई आकृति में X का मान ज्ञात कीजिए।

- (A)  149  
149
- (B)  **139 (Correct Answer)** (Chosen option)  
**139**
- (C)  159  
159
- (D)  169  
169

**MENTAL APTITUDE - INTELLIGENCE - TEST OF REASONING - MENTAL APTITUDE - INTELLIGENCE - TEST OF REASONING**

**Question No.1**

Marks: 2.50

Bookmark

Find the next term in the given series.

33.5, 33.75, 34.25, 35, 36, ?

दी गई श्रेणी में अगली संख्या ज्ञात कीजिए।

33.5, 33.75, 34.25, 35, 36, ?

- (A)  36.5  
36.5
- (B)  37.5  
37.5
- (C)  **37.25 (Correct Answer)** (Chosen option)  
**37.25**
- (D)  36.75  
36.75

**Question No.2**

Marks: 2.50

Bookmark

In a row of 65 persons facing North, Person A is 17th from the right side. After shifting him FOURTH to the right from the existing position, what is his position from the left side now?

उत्तर की ओर अभिमुख 65 व्यक्तियों की एक पंक्ति में, व्यक्ति A दाईं ओर से 17वां है। उसे मौजूदा स्थान से दाईं ओर चौथे स्थान पर स्थानांतरित करने के बाद, अब बाईं ओर से उसका स्थान कौन-सा है?

- (A)  55  
55
- (B)  54  
54
- (C)  **53 (Correct Answer)** (Chosen option)  
**53**
- (D)  51  
51

**Question No.3**

Marks: 2.50

Bookmark

How many even numbers are there in the sequence which are immediately followed by an odd number?

2 6 3 5 4 7 8 9 4 1 2 5 6 3 2 5 8 7 4 1 5 9 6 3

दिए गए अनुक्रम में ऐसी कितनी सम संख्याएँ हैं, जिनके ठीक बाद एक विषम संख्या है?

2 6 3 5 4 7 8 9 4 1 2 5 6 3 2 5 8 7 4 1 5 9 6 3

- (A)  Ten (Correct Answer) (Chosen option)  
दस
- (B)  Nine  
नौ
- (C)  Eight  
आठ
- (D)  Seven  
सात

**Question No.4**

Marks: 2.50

Bookmark

Which of the following numbers in the Venn Diagram represents females who are neither politicians nor house wives ?

वेन आरेख में निम्नलिखित में से कौन-सी संख्या उन महिलाओं को दर्शाती है जो न तो राजनीतिज्ञ हैं और न ही गृहिणियां हैं?

- (A)  8  
8
- (B)  12  
12
- (C)  14  
14
- (D)  20 (Correct Answer) (Chosen option)  
20

**Question No.5**

Marks: 2.50

Bookmark

If all the vowels are removed in the English alphabet series, which letter will be the second to the left of the tenth letter from the right?

यदि अंग्रेजी वर्णमाला अनुक्रम में से सभी स्वरों को निकाल दिया जाता है, तो दाईं ओर से दसवें अक्षर के बाईं ओर दूसरा अक्षर कौन-सा होगा?

- (A)  L  
L
- (B)  J  
J
- (C)  K  
K
- (D)  M (Correct Answer) (Chosen option)  
M

**Question No.6**

Marks: 2.50

Bookmark

The Subject 'Criminal Law' comes under which of the following Lists of the Indian Constitution?

विषय 'आपराधिक कानून', भारतीय संविधान की निम्नलिखित सूची में से किसके अंतर्गत आता है?

- (A)  State List  
राज्य सूची
- (B)  Central list  
केंद्रीय सूची
- (C)  Union List (Chosen option)

संघ सूची

- (D)  **Concurrent List (Correct Answer)**  
समवर्ती सूची

**Question No.7**

Marks: 2.50

Bookmark

Which of the following articles of the Indian Constitution deals with National Commission for Scheduled Castes?

भारतीय संविधान के निम्नलिखित में से कौन सा अनुच्छेद राष्ट्रीय अनुसूचित जाति आयोग से संबंधित है?

- (A)  **Article 338 (Correct Answer)** (Chosen option)  
अनुच्छेद 338
- (B)  Article 348  
अनुच्छेद 348
- (C)  Article 350  
अनुच्छेद 350
- (D)  Article 5  
अनुच्छेद 5

**Question No.8**

Marks: 2.50

Bookmark

Find the next number in the series.

2, 5, 12, 31, 86, ?

श्रेणी में अगली संख्या ज्ञात करें।

2, 5, 12, 31, 86, ?

- (A)  **249 (Correct Answer)** (Chosen option)  
249
- (B)  248  
248
- (C)  250  
250
- (D)  247  
247

**Question No.9**

Marks: 2.50

Bookmark

A box containing the denominations of fifty paise coins, two rupee coins and ten rupee coins amount to Rs.1,875. There are equal number of coins in all denominations. What is the value of ten rupee coins in the box? (In Rs.)

एक बॉक्स में पचास पैसे, दो रुपये और दस रुपये के मूल्यवर्गों के सिक्कों का मूल्य Rs.1,875 है। सभी मूल्यवर्गों में समान संख्या में सिक्के हैं। बॉक्स में दस रुपये के सिक्कों का मूल्य कितना है? (Rs. में)

- (A)  1400  
1400
- (B)  1300  
1300
- (C)  **1500 (Correct Answer)** (Chosen option)  
1500
- (D)  1600  
1600

## Question No.10

Marks: 2.50

Bookmark 

In this question, a passage is given followed by a statement. Read the passage carefully and judge the statement based on the given passage.

The majority of the Antarctic continent is covered by permanent ice and snow leaving less than 1% available for colonisation by plants. Most of this ice and snow-free lands are found along the Antarctic Peninsula, its associated islands and in coastal regions around the edge of the Antarctic continent. Even in the most inhospitable ice-free habitats, such as inland mountains and nunataks, life can still be found. There are no trees or shrubs, and only two species of flowering plants are found: Antarctic hair grass and Antarctic pearlwort. The vegetation is predominantly made up of lower plant groups (mosses, liverworts, lichens and fungi) that are specially adapted to surviving in extreme environments – in particular tolerating low temperatures and dehydration. There are around 100 species of mosses, 25 species of liverworts, 300 to 400 species of lichens and 20 species of macro-fungi. The greatest diversity of species is found along the western side of the Antarctic Peninsula where the climate is generally warmer and wetter than elsewhere in the Antarctic continent.

**Statement:**

Antarctic continent is completely covered by permanent ice leaving no space for vegetation.

Choose the appropriate one from the following options

- A - The statement is definitely true.
- B - The statement is probably true.
- C - The statement cannot be determined.
- D - The statement is definitely false.

इस प्रश्न में, गद्यांश के बाद एक कथन दिया गया है। गद्यांश को ध्यान से पढ़ें और दिए गए गद्यांश के आधार पर कथन का आकलन करें।

अंटार्कटिका का अधिकांश भाग स्थायी बर्फ और हिमपात से ढका है, जिसके कारण पौधों द्वारा उपनिवेशन के लिए उपलब्ध क्षेत्र 1% से भी कम है। इस बर्फ और हिमपात से मुक्त भूमि का अधिकांश भाग, अंटार्कटिक प्रायद्वीप, इसके संबंधित द्वीपों और अंटार्कटिका के किनारे के आसपास के तटीय क्षेत्रों में पाया जाता है। यहां तक कि सबसे दुर्गम बर्फ-मुक्त प्राकृतवास में, जैसे अंतर्देशीय पर्वत और नुनातक, अभी भी जीवन पाया जा सकता है। यहां कोई पेड़ या झाड़ियाँ नहीं हैं, और फूलों के पौधों की केवल दो प्रजातियाँ पाई जाती हैं: अंटार्कटिक हेयर ग्रास और अंटार्कटिक पर्लवोर्ट। वनस्पति प्रवर्धन मुख्यतः निम्न कोटि पादप समूहों (काई, लिवरवॉर्ट्स, शैवाल और कवक) से निर्मित है, जो विशेष रूप से कम तापमान और निर्जलीकरण को सहन करने हेतु चरम वातावरण में जीवित रहने के लिए अनुकूलित होती हैं। यहां काई की लगभग 100 प्रजातियाँ, लीवरवॉर्ट की 25 प्रजातियाँ, शैवाल की 300 से 400 प्रजातियाँ और स्थूल-कवक की 20 प्रजातियाँ हैं। अंटार्कटिक प्रायद्वीप के पश्चिमी भाग में प्रजातियों की सबसे बड़ी विविधता पाई जाती है जहाँ जलवायु आमतौर पर अंटार्कटिका में अन्य स्थानों की तुलना में गर्म और आर्द्र होती है।

**कथन:**

अंटार्कटिका स्थायी बर्फ द्वारा पूरी तरह से ढका हुआ है, जिससे वनस्पति प्रवर्धन के लिए कोई स्थान नहीं बचा है।

निम्नलिखित विकल्पों में से उपयुक्त विकल्प चुनें

- A - कथन निश्चित रूप से सत्य है।
- B - कथन संभवतः सत्य है।
- C - कथन निर्धारित नहीं किया जा सकता है।
- D - कथन निश्चित रूप से असत्य है।

- (A)  A
- A
- (B)  B
- B

(C)  **D (Correct Answer)** (Chosen option)

**D**

(D)  C  
C

**Question No.11**

Marks: 2.50

Bookmark

What is the full form of 'DSP' in Police organization?

पुलिस संगठन में 'डीएसपी' ('DSP') का पूर्ण रूप क्या है?

- (A)  Director Superintendent of Police  
डायरेक्टर सुपरिंटेंडेंट ऑफ पुलिस
- (B)  **Deputy Superintendent of Police (Correct Answer)** (Chosen option)  
**डेप्युटी सुपरिंटेंडेंट ऑफ पुलिस**
- (C)  Deemed Superintendent of Police  
डीम्ड सुपरिंटेंडेंट ऑफ पुलिस
- (D)  Direct Superintendent of Police  
डाइरेक्ट सुपरिंटेंडेंट ऑफ पुलिस

**Question No.12**

Marks: 2.50

Bookmark

Pointing to a girl, a boy said, "She is the daughter of mother of my mother's daughter's son." How is the boy related to the girl?

एक लड़की को इंगित करते हुए, एक लड़का कहता है, "वह मेरी माँ की बेटी के बेटे की माँ की बेटी है।" लड़के का उस लड़की के साथ क्या संबंध है?

- (A)  Cousin  
कज़िन
- (B)  Brother  
भाई
- (C)  **Uncle (Correct Answer)** (Chosen option)  
**अंकल**
- (D)  Nephew  
नेफ्यू

**Question No.13**

Marks: 2.50

Bookmark

If in the word **HABITUALLY**, all the consonants are replaced by the next letter in the alphabet and all the vowels are replaced by the previous letter then all the letters are arranged alphabetically, which will be the fourth letter from the left?

यदि शब्द **HABITUALLY** में, सभी व्यंजनों को वर्णमाला में उनके अगले अक्षरों से प्रतिस्थापित किया जाता है और सभी स्वरों को वर्णमाला में उनके पिछले अक्षरों से प्रतिस्थापित किया जाता है, फिर सभी अक्षरों को वर्णानुक्रम में लिखा जाता है, तो बाईं ओर से चौथा अक्षर कौन-सा होगा?

- (A)  I  
I
- (B)  Z  
Z
- (C)  T  
T
- (D)  **M (Correct Answer)** (Chosen option)  
**M**

## Question No.14

Marks: 2.50

Bookmark 

Which one of the following images numbered as (1), (2), (3), (4) will be the next image for the given series?

निम्नलिखित में से (1), (2), (3), (4) के रूप में संख्यांकित कौन-सी छवि दी गई श्रेणी के लिए अगली छवि होगी?

- (A)  3  
3
- (B)  1  
1
- (C)  4  
4
- (D)  2 (Correct Answer) (Chosen option)  
2

## Question No.15

Marks: 2.50

Bookmark 

Who among the following is an officer normally be assigned with the duties of station writer in rural and town police stations?

निम्नलिखित में से कौन-सा एक अधिकारी है जिसे आम तौर पर ग्रामीण और शहर के पुलिस स्टेशनों में स्टेशन लिपिक(राइटर) के कर्तव्य अभिहस्तांकित किए जाते हैं?

- (A)  The Inspector General of Police  
पुलिस महानिरीक्षक
- (B)  Inspector of Police  
पुलिस निरीक्षक
- (C)  Head Constable (Correct Answer) (Chosen option)  
हैड कांस्टेबल (प्रधान सिपाही)
- (D)  Assistant Superintendent of Police  
सहायक पुलिस अधीक्षक

## Question No.16

Marks: 2.50

Bookmark 

If \$ = 5, @ = 23, # = 108, & = 9, != 6, then \$ × # ÷ ! + @ - & = ?  
यदि \$ = 5, @ = 23, # = 108, & = 9, != 6 है, तो \$ × # ÷ ! + @ - & = ?

- (A)  104 (Correct Answer) (Chosen option)  
104
- (B)  132  
132
- (C)  125  
125
- (D)  118  
118

## Question No.17

Marks: 2.50

Bookmark 

Vijay's only son Sivesh's mother Anandhi's sister Ambiga's mother is Amutha. How is Vijay's wife related to Amutha?

विजय के इकलौते पुत्र सिवेश की माँ आनंदी की बहन अम्बिगा की माँ अमुथा है। विजय की पत्नी का अमुथा से क्या संबंध है?

- (A)  Son  
पुत्र
- (B)  Mother in law  
सास
- (C)  **Daughter (Correct Answer)** (Chosen option)  
**पुत्री**
- (D)  Father in law  
ससुर

**Question No.18**

Marks: 2.50

Bookmark

In a certain code language,

'560' means 'children eat snacks';  
'708' means 'these children play' and  
'367' means 'these prepare snacks'.

Which of the following digits stands for 'snacks'?  
एक निश्चित कूट भाषा में,

'560' का अर्थ है 'children eat snacks';  
'708' का अर्थ है 'these children play' और  
'367' का अर्थ है 'these prepare snacks'.

निम्नलिखित में से किस अंक का अर्थ 'snacks' है?

- (A)  5  
5
- (B)  0  
0
- (C)  7  
7
- (D)  **6 (Correct Answer)** (Chosen option)  
**6**

**Question No.19**

Marks: 2.50

Bookmark

A man walks 4km towards East; turns right and walks 3km and turns another right and walks 4km. He then turns right and walks 3km; takes a left turn and walks 2km. He then walks 6km towards South; turns left and walks 2km and finally turns right and walks 3km. How far is he from the starting point?

एक व्यक्ति पूर्व दिशा की ओर 4 km चलता है; दाएँ मुड़ता है और 3 km चलता है और फिर से दाएँ मुड़ता है और 4 km चलता है। फिर वह दाएँ मुड़ता है और 3 km चलता है; बाएँ मुड़ता है और 2 km चलता है। फिर वह दक्षिण दिशा में 6 km चलता है; बाएँ मुड़ता है और 2 km चलता है और अंततः दाएँ मुड़ता है और 3 km चलता है। वह आरंभिक बिंदु से कितनी दूर है?

- (A)  6km  
6km
- (B)  12km  
12km
- (C)  8km  
8km
-

- (D) **9km (Correct Answer)** (Chosen option)  
9km

**Question No.20**

Marks: 2.50

Bookmark

B is in the middle of a row where he is 17th from the right. What is the total number of persons in the row ?

B पंक्ति के मध्य में है जहां वह दाईं ओर से 17वां है। पंक्ति में कुल कितने व्यक्ति हैं?

- (A)  **33 (Correct Answer)** (Chosen option)  
33
- (B)  30  
30
- (C)  31  
31
- (D)  29  
29

**Question No.21**

Marks: 2.50

Bookmark

Choose the alternative which is an odd word/number/letter pair out of the given alternatives.

वह विकल्प चुनें, जो दिए गए विकल्पों में से एक असंगत शब्द/संख्या/अक्षर युग्म हो।

- (A)  Boon  
Boon
- (B)  **Abuse (Correct Answer)** (Chosen option)  
**Abuse**
- (C)  Benefit  
Benefit
- (D)  Asset  
Asset

**Question No.22**

Marks: 2.50

Bookmark

Which of the following terms in the preamble of the Indian Constitution best describes the phrase "Sense of Brotherhood"?

भारतीय संविधान की उद्देशिका में निम्नलिखित में से कौन-सा शब्द "सेंस ऑफ़ ब्रदरहुड" वाक्यांश का सबसे अच्छा वर्णन करता है?

- (A)  Liberty  
स्वतंत्रता
- (B)  Democratic  
लोकतांत्रिक
- (C)  **Fraternity (Correct Answer)** (Chosen option)  
**बंधुत्व**
- (D)  Republic  
गणतंत्र

**Question No.23**

Marks: 2.50

Bookmark

Read the following statements and answer the following question.



M5N means M is the mother of N  
M4N means M is the father of N  
M6N means M is the son of N  
M8N means M is the daughter of N

In the equation **P5Q4R8S**, How is P related to S?  
निम्नलिखित कथनों को ध्यानपूर्वक पढ़ें और दिए गए प्रश्न का उत्तर दें।

M5N का अर्थ है, M, N की माँ है  
M4N का अर्थ है, M, N का पिता है  
M6N का अर्थ है, M, N का बेटा है  
M8N का अर्थ है, M, N की बेटी है

समीकरण **P5Q4R8S** में, P का S के साथ क्या संबंध है?

- (A)  **Mother-in-law (Correct Answer)** (Chosen option)  
सास
- (B)  Aunt  
आंट
- (C)  Mother  
माँ
- (D)  Father  
पिता

**Question No.24**

Marks: 2.50

Bookmark

Find the odd image out in the given series.  
दी गई श्रेणी में असंगत छवि ज्ञात कीजिए।

- (A)  1  
1
- (B)  2  
2
- (C)  **4 (Correct Answer)** (Chosen option)  
4
- (D)  3  
3

**Question No.25**

Marks: 2.50

Bookmark

Read the information carefully and answer the following question.

A+B means A is the father of B  
A-B means A is the mother of B  
A\*B means A is the sister of B  
A/B means A is the brother of B

In the given expression **M/N\*O+P**, If P is female then how is P related to M?  
निम्नलिखित जानकारी को ध्यानपूर्वक पढ़ें और नीचे दिए गए प्रश्नों का उत्तर दें।

A+B का अर्थ है A, B का पिता है।  
A-B का अर्थ है A, B की माँ है।

A\*B का अर्थ है A,B की बहन है।

A/B का अर्थ है A, B का भाई है।

दिए गए व्यंजक **M/N\*O+P** में, यदि P महिला है तो P का M से क्या संबंध है?

- (A)  Cousin  
कजिन
- (B)  Niece (Correct Answer) (Chosen option)  
नीस
- (C)  Nephew  
नेप्पू
- (D)  Sister  
बहन

**Question No.26**

Marks: 2.50

Bookmark

Which of the following numbers in the Venn Diagram represents meat, eggs and prawns but not fish?

वेन आरेख में निम्नलिखित में से कौन-सी संख्या मांस, अंडों और झींगों को दर्शाती है परन्तु मछलियों को नहीं?

- (A)  15 (Correct Answer) (Chosen option)  
15
- (B)  2  
2
- (C)  8  
8
- (D)  7  
7

**Question No.27**

Marks: 2.50

Bookmark

In this question, relationship between different elements is shown in the statement. This statement is followed by two conclusions:

Statement:

$$F < I \leq G = H < T > E \geq R > S$$

Conclusions:

- i)  $E < G$   
ii)  $H > R$

Choose the appropriate one from the following options

- (A) Only conclusion i follows  
(B) Only conclusion ii follows  
(C) Either i or ii follows  
(D) Neither i nor ii follows  
(E) Both i and ii follow

इस प्रश्न में, कथन में विभिन्न तत्वों के बीच संबंध दिखाया गया है। इस कथन के बाद दो निष्कर्ष हैं:

कथन:

$$F < I \leq G = H < T > E \geq R > S$$

निष्कर्ष:

- i)  $E < G$   
ii)  $H > R$

निम्नलिखित विकल्पों में से एक उपयुक्त चुनें

- (A) केवल निष्कर्ष i अनुसरण करता है।  
(B) केवल निष्कर्ष ii अनुसरण करता है।  
(C) या तो i या ii अनुसरण करता है।  
(D) न तो i और न ही ii अनुसरण करता है।  
(E) i और ii दोनों अनुसरण करते हैं।

(A)  C  
C

(B)  **D (Correct Answer)** (Chosen option)  
D

(C)  A  
A

(D)  B  
B

**Question No.28**

Marks: 2.50

Bookmark

Replace the question mark with an option that follows the same logic applied in the first pair.

7:36::11: ?

प्रश्न-चिह्न को उस विकल्प से प्रतिस्थापित करें, जो पहले युग्म में प्रयुक्त तर्क का अनुसरण करता है।

7:36::11: ?

(A)  141  
141

(B)  110  
110

(C)  **100 (Correct Answer)** (Chosen option)  
100

(D)  121  
121

**Question No.29**

Marks: 2.50

Bookmark

How many squares are there in the given figure?

दी गई आकृति में कितने वर्ग हैं?

(A)  20  
20

(B)  18  
18

(C)  **21 (Correct Answer)** (Chosen option)  
21

(D)  24  
24

**Question No.30**

Marks: 2.50

Bookmark 

In a dice, each face is numbered as follows:

- 1) 5 is opposite to 6
- 2) 1 is opposite to 3
- 3) 2 is opposite to 4

Which of the following is definitely false?

- A) 4 is not adjacent to 5 and 6
- B) 4 is adjacent to 5
- C) 6 is adjacent to 1
- D) 5 is adjacent to 1

एक पासे में, प्रत्येक फलक की संख्या इस प्रकार है:

- 1) 5, 6 के विपरीत है
- 2) 1, 3 के विपरीत है
- 3) 2, 4 के विपरीत है

निम्नलिखित में से कौन-सा निश्चित रूप से गलत है?

- A) 4, 5 और 6 के सन्निकट नहीं है
- B) 4, 5 के सन्निकट है
- C) 6, 1 के सन्निकट है
- D) 5, 1 के सन्निकट है

(A)  **A (Correct Answer)** (Chosen option)

**A**

(B)  D

D

(C)  B

B

(D)  C

C

### Question No.31

Marks: 2.50

Bookmark

Which one of the following alternatives will perfectly complete the given figure?

निम्नलिखित विकल्पों में से कौन-सा विकल्प दी गई आकृति को पूर्णतः पूरा करेगा?

(A)

(B)

(C)  **(Correct Answer)** (Chosen option)

**■**

(D)

### Question No.32

Marks: 2.50

Bookmark

A lady started from her house and walked 5km in North direction; took a right turn and walked 7km in that direction and finally walked 3km and reached the destination after taking a left. In which direction is the house from the destination?

एक महिला अपने घर से चलना आरंभ करती है और उत्तर दिशा की ओर 5 km चलती है; दाएँ मुड़ती है और उस दिशा में 7 km चलती है और अंततः 3 km चल कर बाएँ मुड़ने के बाद गंतव्य तक पहुँचती है। उसका घर, गंतव्य से किस दिशा में है?

(A)  North-East  
उत्तर-पूर्व

- (B)  North-West  
उत्तर-पश्चिम
- (C)  **South-West (Correct Answer)** (Chosen option)  
**दक्षिण-पश्चिम**
- (D)  South-East  
दक्षिण-पूर्व

**Question No.33**

Marks: 2.50

Bookmark

Four of the following five are alike in a certain way and so form a group. Which is the one that does not belong to that group?

Enough, Sufficient, Blame, Adequate, Plenty

निम्नलिखित पांच में से चार, एक निश्चित रूप से समान हैं अतः एक समूह बनाते हैं। इनमें से कौन-सा उस समूह से संबंधित नहीं है?

Enough, Sufficient, Blame, Adequate, Plenty

- (A)  Enough  
Enough
- (B)  Adequate  
Adequate
- (C)  Plenty  
Plenty
- (D)  **Blame (Correct Answer)** (Chosen option)  
**Blame**

**Question No.34**

Marks: 2.50

Bookmark

Find the wrong term in the given series.

12, 84, 92, 640, 652, 4564

दी गई श्रेणी में गलत संख्या ज्ञात कीजिए।

12, 84, 92, 640, 652, 4564

- (A)  **640 (Correct Answer)** (Chosen option)  
**640**
- (B)  84  
84
- (C)  92  
92
- (D)  652  
652

**Question No.35**

Marks: 2.50

Bookmark

Replace the question mark with an option that follows the same logic applied in the first pair.

Wobbly : Stable :: Reliable : ??

प्रश्न-चिह्न को उस विकल्प से प्रतिस्थापित कीजिए, जो प्रथम युग्म में लागू तर्क का अनुसरण करता है।

Wobbly : Stable :: Reliable : ??

- (A)  Dependable  
Dependable
- (B)  **Corrupt (Correct Answer)** (Chosen option)  
**Corrupt**

- (C)  Faithful  
Faithful
- (D)  Good  
Good

**Question No.36**

Marks: 2.50

Bookmark

Which of the following sections of the Indian Penal Code deals with the "Right of Private defence of the body extends to causing death"?

भारतीय दंड संहिता की निम्नलिखित में से कौन-सी धारा "शरीर की निजी प्रतिरक्षा के अधिकार का विस्तार किसी की मृत्यु कारित करने तक होता है" से संबंधित है?

- (A)  IPC 72  
IPC 72
- (B)  **IPC 100 (Correct Answer)** (Chosen option)  
**IPC 100**
- (C)  IPC 304 B  
IPC 304 B
- (D)  IPC 498 A  
IPC 498 A

**Question No.37**

Marks: 2.50

Bookmark

In a certain code language, if PERSON is coded as NOSREP, then how is CIRCUS coded in that language?

एक निश्चित कूट भाषा में, यदि PERSON को NOSREP के रूप में कूटबद्ध किया जाता है, तो उस भाषा में CIRCUS को कैसे कूटबद्ध किया जाएगा?

- (A)  RCIUSC  
RCIUSC
- (B)  RICSUC  
RICSUC
- (C)  ICCRSU  
ICCRSU
- (D)  **SUCRIC (Correct Answer)** (Chosen option)  
**SUCRIC**

**Question No.38**

Marks: 2.50

Bookmark

Article 350A and 350B of the Indian Constitution specifically deals with which of the following Minorities?

भारतीय संविधान के अनुच्छेद 350A और 350B विशेष रूप से निम्नलिखित में से किन अल्पसंख्यकों से संबंधित हैं?

- (A)  Religious Minorities  
धार्मिक अल्पसंख्यक
- (B)  Ethnic Minorities  
जातीय अल्पसंख्यक
- (C)  Racial Minorities  
नस्लीय अल्पसंख्यक
- (D)  **Linguistic Minorities (Correct Answer)** (Chosen option)  
**भाषाई अल्पसंख्यक**

**Question No.39**

Marks: 2.50

Bookmark

Find the next number in the series.

795, 699, 573, 417, 231, ?

श्रेणी में अगली संख्या ज्ञात करें।

795, 699, 573, 417, 231, ?

- (A)  14  
14
- (B)  17  
17
- (C)  16  
16
- (D)  **15 (Correct Answer)** (Chosen option)  
**15**

**Question No.40**

Marks: 2.50

Bookmark

Suppose the first and the second letters of the word **INTERCEPTION** changed places, also the third and the fourth, the fifth and the sixth, and so on. In the new word, thus formed, which letter would be the 7th from the left?

मान लीजिए शब्द **INTERCEPTION** में पहला तथा दूसरा अक्षर स्थान बदल लेते हैं, तीसरा तथा चौथा अक्षर स्थान बदल लेते हैं, पांचवां तथा छठा अक्षर स्थान बदल लेते हैं, और इसी प्रकार आगे के अक्षर स्थान बदलते हैं। इस प्रकार निर्मित नए शब्द में, बाएँ से 7वां अक्षर कौन-सा होगा?

- (A)  **P (Correct Answer)** (Chosen option)  
**P**
- (B)  T  
T
- (C)  N  
N
- (D)  C  
C

Save & Print