



GOVT. OF NCT OF DELHI
Delhi Subordinate Services Selection Board
FC-18, Institutional Area, Karkardooma, Delhi – 110092.
www.dsssb.delhigovt.nic.in

	www.exammix.com
Test Date	19/11/2019
Test Time	12:30 PM - 2:30 PM
Subject	Assistant Teacher Nursery

Section : Mental Ability

Q.1 इस प्रश्न में, दो कथन I और II के दो निष्कर्ष दिए गए हैं। यह मानते हुए कि कथन में सभी जानकारी सत्य है, दो निष्कर्षों का एक साथ विश्लेषण करें और निर्धारित करें कि क्या उनमें से कोई भी तार्किक रूप से और निश्चित रूप से दी गई जानकारी का अनुसरण करता है।

कथन:

- I. सभी टेबल कुर्सियां हैं।
- II. सभी कुर्सियां अलमारियां हैं।

निष्कर्ष:

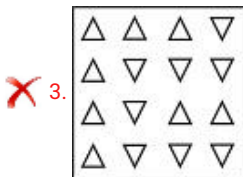
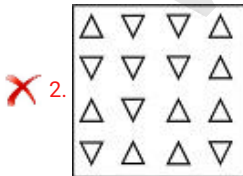
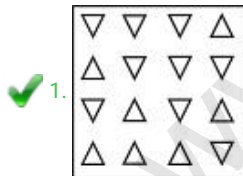
- I. कुछ अलमारियां कुर्सियां हैं।
- II. कुछ अलमारियां टेबल हैं।

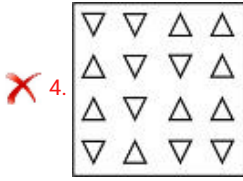
- Ans
1. न तो I और ना ही II अनुसरण करता है
 2. केवल निष्कर्ष II अनुसरण करता है
 3. I और II दोनों अनुसरण करते हैं
 4. केवल निष्कर्ष I अनुसरण करता है

Question ID : 71939920027

Q.2 दिए गए विकल्पों में से, तीन एक निश्चित तरीके से समान हैं। हालाँकि, एक विकल्प अन्य तीन की तरह नहीं है। उस विकल्प का चयन करें जो बाकी से अलग है।

Ans





Question ID : 71939920034

Q.3 निम्नलिखित अक्षर श्रृंखला में लुप्त पद को ज्ञात करें:

JL, OQ, _____, YA

- Ans
- 1. SU
 - 2. TU
 - 3. SV
 - 4. TV

Question ID : 71939920017

Q.4 यदि A, कोई वस्तु B की तुलना में महंगा है; D वस्तु A की तुलना में महंगा है; और B, C से महंगा है, इनमें से कौन सा सबसे महंगा है?

- Ans
- 1. C
 - 2. A
 - 3. D
 - 4. B

Question ID : 71939920024

Q.5 एक कार 50 km उत्तर की ओर जाती है, फिर वह पश्चिम की ओर मुड़ती है और 140 km की दूरी तय करती है, फिर वह उत्तर की ओर जाती है और 90 km की यात्रा करती है, फिर वह पूर्व की ओर मुड़ती है और 80 km की यात्रा करती है, फिर वह उत्तर की ओर मुड़ती है और 20 km की यात्रा करती है, उसके बाद वह दाईं ओर मुड़ती है और 60 km की दूरी तय करती है। वह अपने प्रारंभिक बिंदु के संबंध में अब कहाँ है?

- Ans
- 1. 190 km उत्तर
 - 2. 160 km उत्तर
 - 3. 160 km दक्षिण
 - 4. 190 km दक्षिण

Question ID : 71939920033

Q.6 मनोज, प्रणय, ईशा, वसीम, टीना और दीक्षा केंद्र की ओर देखते हुए घेरा बनाकर बैठे हैं। मनोज, ईशा के सामने बैठा है, जो दीक्षा के दाएं है और जो प्रणय या वसीम के बगल में नहीं है। ईशा, प्रणय और दीक्षा के बीच में बैठी है। वसीम के बाईं ओर कौन बैठा है?

- Ans
- 1. प्रणय
 - 2. ईशा
 - 3. टीना
 - 4. मनोज

Question ID : 71939920025

Q.7 इशिका ने फिरोज से कहा, "तुम मेरे बेटे की पत्नी के ससुर हो।" फिरोज़, इशिका से कैसे संबंधित है?

- Ans
- 1. फिरोज इशिका का ससुर हैं

2. फिरोज इशिका का जीजा है
 3. फिरोज इशिका का पिता हैं
 4. फिरोज इशिका का पति हैं

Question ID : 71939920023

Q.8 निम्नलिखित संख्या श्रृंखला को पूरा करें:

252, 280, 310, 342, _____.

- Ans 1. 374
 2. 378
 3. 372
 4. 376

Question ID : 71939920028

Q.9 निम्नलिखित संख्या श्रृंखला में लुप्त संख्या को ज्ञात करें।

60, 180, _____, 420, 540

- Ans 1. 260
 2. 320
 3. 300
 4. 240

Question ID : 71939920029

Q.10 उस विकल्प का चयन करें जो तीसरे पद से उसी प्रकार से संबंधित है जिस प्रकार से पहला पद दूसरे पद से संबंधित है।

IVD : OBJ :: NSF : ?

- Ans 1. RWJ
 2. TWJ
 3. TYL
 4. RYL

Question ID : 71939920021

Q.11 निशिता ने अपनी यात्रा पूर्व की ओर शुरू की। 3 km चलने के बाद वह दाईं ओर मुड़ गई तथा 4 km तक चली। फिर, वह अपने बाईं ओर मुड़कर 5 km तक चली। निशिता अभी जहाँ खड़ी है उसके संबंध में उसकी प्रारंभिक बिंदु किस दिशा में है?

- Ans 1. दक्षिण-पश्चिम
 2. उत्तर-पश्चिम
 3. दक्षिण-पूर्व
 4. उत्तर-पूर्व

Question ID : 71939920032

Q.12 दिए गए विकल्पों में, 3 अक्षर जोड़े एक दूसरे से संबंधित हैं और एक जोड़ी अलग से संबंधित है। उस जोड़ी को ज्ञात करें अलग तरह से संबंधित है।

- Ans 1. KY : PD

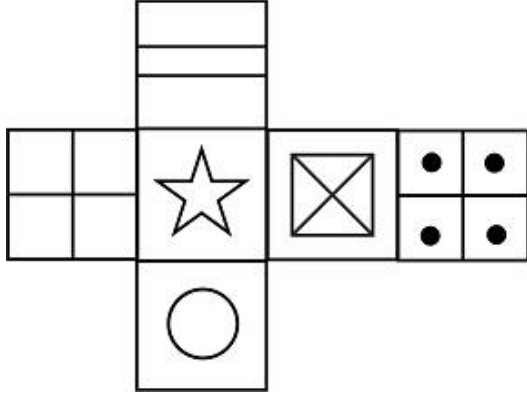
✓ 2. NT: SA

✗ 3. CF: HK

✗ 4. OU: TZ

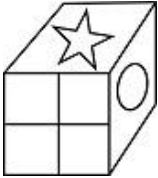
Question ID : 71939920019

Q.13 उत्तर आकृति में किस घन को प्रश्न आकृति में प्रकट घन के आधार पर नहीं बनाया जा सकता है?



Ans

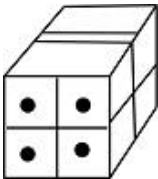
✗ 1.



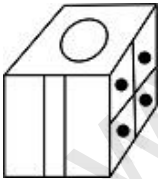
✗ 2.



✗ 3.



✓ 4.

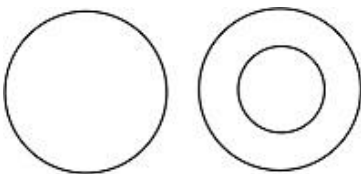


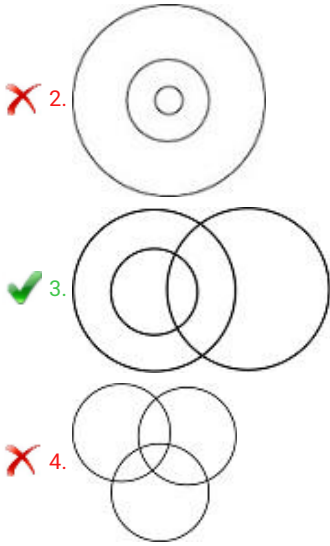
Question ID : 71939920036

Q.14 निम्नलिखित में से कौन-सा वेन आरेख माताओं, महिलाओं और चिकित्सकों के बीच के संबंध को सबसे अच्छा दर्शाता है?

Ans

✗ 1.





Question ID : 71939920030

Q.15 इस प्रश्न में, एक कथन दिया गया है, उसके बाद दो तर्क I और II दिए गए हैं। दो तर्कों का एक साथ विश्लेषण करें और निर्धारित करें कि उनमें से कौन सा अनुसरण करता है।

कथन: भारत एक विकासशील देश है।

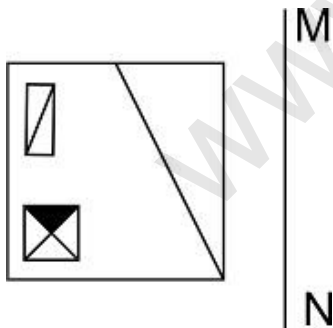
तर्क:

- I) शिक्षा विकास के लिए एक महत्वपूर्ण अभियान है।
 II) रोग और खराब स्वास्थ्य भारत में एक चुनौती है।

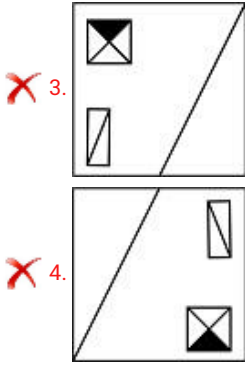
- Ans
- 1. केवल तर्क I अनुसरण करता है
 - 2. या तो I या II अनुसरण करता है
 - 3. I और II दोनों अनुसरण करते हैं
 - 4. केवल तर्क II अनुसरण करता है

Question ID : 71939920026

Q.16 यदि एक दर्पण को रेखा MN पर रखा गया है, तो कौन सी उत्तर आकृति दी गई आकृति का सही दर्पण प्रतिबिंब होगा?



- Ans
- 1.
 - 2.



Question ID : 71939920035

Q.17 उस विकल्प का चयन करें जो तीसरे पद से उसी प्रकार से संबंधित है जिस प्रकार से पहला पद दूसरे पद से संबंधित है।

सर्जन : प्रचालन :: न्यायाधीश : ?

- Ans
- 1. न्यायालय
 - 2. सुनवाई
 - 3. वकील
 - 4. अपराधी


Question ID : 71939920020

Q.18 यदि STEAM को 21-22-7-3-15 के रूप में कोडित किया जाता है, तो JUNK को किस प्रकार कोडित किया जाता है?

- Ans
- 1. 12-23-15-13
 - 2. 10-21-14-11
 - 3. 11-22-15-12
 - 4. 12-23-16-13

Question ID : 71939920022

Q.19 प्रश्न में दिया गया वेन आरेख निम्नलिखित में से किस विकल्प में दी गई वस्तुओं के बीच के संबंध को दर्शाता है?



- Ans
- 1. कारें, साइकलें और वाहनों
 - 2. पिताओं, राजमिस्त्रीओं और महिलाओं
 - 3. सेब, बैंगन और सब्जियां
 - 4. फूल, पत्ते और जड़ें

Question ID : 71939920031

Q.20 निम्नलिखित श्रृंखला में गलत पद ज्ञात करें:

MPS, KMO, HJL, DFH, BDF

- Ans
- 1. DFH
 - 2. HJL
 - 3. MPS
 - 4. KMO

Question ID : 71939920018

Section : General Awareness

Q.1 निम्नलिखित में से कौन सा रेगिस्तानी मृदा के बारे में सच नहीं है?

- Ans
- 1. एरिड और सेमी-एरीड स्थितियों के तहत देखा गया।
 - 2. नमक की कम मात्रा।
 - 3. नाइट्रोजन अपर्याप्त है और फॉस्फेट सामान्य है।
 - 4. नमी और धरण की कमी।

Question ID : 71939920045

Q.2 _____ महासागर में गर्त की सबसे बड़ी संख्या है।

- Ans
- 1. उत्तरध्रुवीय
 - 2. अटलांटिक
 - 3. प्रशांत
 - 4. हिंद

Question ID : 71939920046

Q.3 "माय अनफॉरगेटेबल मेमोरीज" _____ की आत्मकथा है।

- Ans
- 1. नरेंद्र मोदी
 - 2. राहुल गांधी
 - 3. अरविंद केजरीवाल
 - 4. ममता बनर्जी

Question ID : 71939920050

Q.4 संविधान का अनुच्छेद 19 सभी नागरिकों को _____ अधिकारों की गारंटी देता है।

- Ans
- 1. तीन
 - 2. छह
 - 3. पांच
 - 4. चार

Question ID : 71939920054

Q.5 संयुक्त राष्ट्र जनसंख्या कोष (UNFPA) का मुख्यालय _____ में स्थित है।

- Ans
- 1. न्युयॉर्क
 - 2. जिनेवा

3. वॉशिंगटन डी. सी.

4. पेरिस

Question ID : 71939920051

Q.6 _____ का नियम कहता है कि एक बंद सतह के माध्यम से एक विद्युत क्षेत्र का शुद्ध प्रवाह संलग्न विद्युत आवेश के लिए आनुपातिक है।

Ans 1. कूलॉम

2. बॉयल

3. गाउस

4. हुक

Question ID : 71939920041

Q.7 शैवाल में एक बड़े, गैर-प्रेरक (स्थिर) मादा गामेट और एक छोटे, अभिप्रेरित पुरुष गामेट के बीच संलयन को _____ कहा जाता है।

Ans 1. जूसपोर

2. आइसोगेमस

3. ऊगेमस

4. अनीसोगेमस

Question ID : 71939920042

Q.8 चेरों _____ का एक लोक नृत्य है।

Ans 1. सिक्किम

2. मिज़ोरम

3. महाराष्ट्र

4. नागालैंड

Question ID : 71939920037

Q.9 14 वां संवैधानिक संशोधन ने भारतीय संघ में _____ को शामिल किया।

Ans 1. दादरा और नगर हवेली

2. गोवा

3. दमन और दीव

4. पुदुच्चेरी

Question ID : 71939920053

Q.10 इस प्रसिद्ध व्यक्तित्व को 1915 में नाइटहुड से सम्मानित किया गया था लेकिन 1919 में जलियाँवाला बाग हत्याकांड के विरोध के रूप में इसे वापस कर दिया। वह कौन था?

Ans 1. महात्मा गांधी

2. एनी बेसेंट

3. अरविन्द घोष

4. रविंद्रनाथ टैगोर

Question ID : 71939920052

Q.11 मद्रास की संधि पर ब्रिटिश और _____ के बीच हस्ताक्षर किए गए थे।

- Ans
- 1. टीपू सुल्तान
 - 2. शिवाजी महाराज
 - 3. शाह आलम II
 - 4. हैदर अली

Question ID : 71939920047

Q.12 अपनी टेस्ट क्रिकेट टीम की कप्तानी करने वाले सबसे युवा भारतीय खिलाड़ी _____ हैं।

- Ans
- 1. महेंद्र सिंह धोनी
 - 2. मंसूर अली खान पटौदी
 - 3. राहुल द्रविड़
 - 4. सचिन तेंदुलकर

Question ID : 71939920056

Q.13 निम्नलिखित में से कौन सा तात्विक गैस का उदाहरण नहीं है?

- Ans
- 1. कार्बन डाईऑक्साइड
 - 2. हाइड्रोजन
 - 3. ऑक्सीजन
 - 4. नाइट्रोजन

Question ID : 71939920043

Q.14 प्राथमिक भूमि विकास बैंक _____ स्तर पर संचालित होता है।

- Ans
- 1. जिला
 - 2. राज्य
 - 3. नगर
 - 4. राष्ट्रीय

Question ID : 71939920039

Q.15 बजट 2019 में घोषणा के अनुसार, एस्पिरेशनल डिस्ट्रिक्ट्स प्रोग्राम देश के _____ सबसे पिछड़े जिलों को लक्षित विकास प्रदान कर रहा है।

- Ans
- 1. 112
 - 2. 110
 - 3. 115
 - 4. 120

Question ID : 71939920040

Q.16 प्रसिद्ध काकोरी ट्रेन डकैती _____ को हुई थी।

- Ans
- 1. 10 अप्रैल 1928
 - 2. 9 अगस्त 1925
 - 3. 15 मार्च 1929

✗ 4. 20 मई 1927

Question ID : 71939920049

Q.17 _____ ने साउथ एशियन फुटबॉल फेडरेशन U-18 चैम्पियनशिप 2019 जीता।

- Ans
- 1. भारत
 - 2. बांग्लादेश
 - 3. भूटान
 - 4. नेपाल

Question ID : 71939920055

Q.18 तापी नदी अपना पानी _____ में निर्वहन करती है।

- Ans
- 1. बंगाल की खाड़ी
 - 2. हिंद महासागर
 - 3. अंडमान सागर
 - 4. अरब सागर

Question ID : 71939920044

Q.19 बृहदेश्वर मंदिर _____ वंश के साथ जुड़ा हुआ है।

- Ans
- 1. चोल
 - 2. चालुक्य
 - 3. सोलंकी
 - 4. पल्लव

Question ID : 71939920048

Q.20 _____ एक प्रकार का धार्मिक गीत है जिसे अक्सर एक नवविवाहित दुल्हन या एक अविवाहित लड़की के लिए गाया जाता है, जिसकी निकट भविष्य में शादी होने की उम्मीद है।

- Ans
- 1. लाड़ीशाह
 - 2. झूरी
 - 3. आंचलियाँ
 - 4. चक्री

Question ID : 71939920038

Section : Arithmetic Ability

Q.1 $54/9 \times 36/4/3$ का मूल्य ज्ञात करें।

- Ans
- 1. 18
 - 2. 15
 - 3. 12
 - 4. 24

Question ID : 71939920057

Q.2 एक रेलगाड़ी 90 kmph की गति से चल रही है जबकि दूसरी रेलगाड़ी 30 m/s की गति से चल रही है। वे एक ही बिंदु से चलना शुरू करती हैं। 1 मिनट के बाद उनके बीच की दूरी ज्ञात करें।

- Ans
- 1. 300 m
 - 2. 200 m
 - 3. 360 m
 - 4. 240 m

Question ID : 71939920069

Q.3 दो कारें एक साथ रेस में दौड़ना शुरू करती हैं। एक कार 180 kmph की रफ्तार से चलती है और दूसरी 40 m/s से। समय अंतर क्या होगा जिसमें कारें 90 kms की दौड़ को पूरी करती हैं?

- Ans
- 1. 750 सेकंड
 - 2. 360 सेकंड
 - 3. 540 सेकंड
 - 4. 450 सेकंड

Question ID : 71939920070

Q.4 एक बाइक की कीमत 3 बार बढ़ने के बाद बढ़कर 100000 रुपए हो जाती है। पहली वृद्धि 25%, दूसरी 12.50% और तीसरी 11.11% रही। बाइक का वास्तविक मूल्य ज्ञात करें।

- Ans
- 1. 48000 रुपए
 - 2. 64000 रुपए
 - 3. 32000 रुपए
 - 4. 100000 रुपए

Question ID : 71939920064

Q.5 A और B दोनों को मिलाकर उसके पास 3500 रुपए है। यदि A की $\frac{1}{2}$ राशि B की राशि के $\frac{2}{3}$ के बराबर है तो A के पास कितनी राशि है?

- Ans
- 1. 500 रुपए
 - 2. 1500 रुपए
 - 3. 2000 रुपए
 - 4. 2500 रुपए

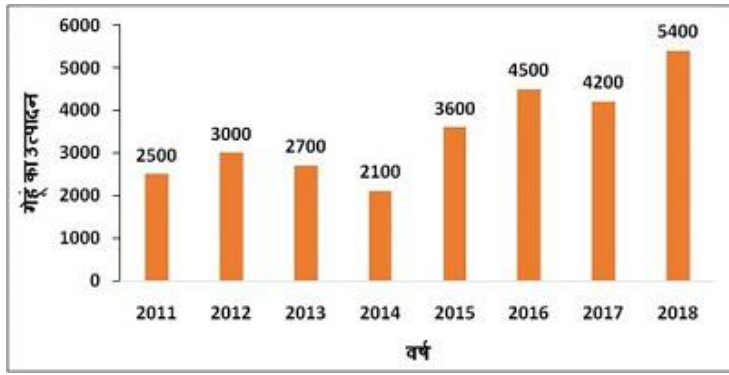
Question ID : 71939920067

Q.6 एक परिवार में एक दंपति और उनके 4 बच्चे थे। 7 वर्ष पहले, परिवार की औसत आयु 25 वर्ष थी। एक वर्ष पहले, पत्नी और बच्चों की औसत आयु 28 वर्ष थी। पति की वर्तमान आयु ज्ञात करें।

- Ans
- 1. 42 वर्ष
 - 2. 48 वर्ष
 - 3. 47 वर्ष
 - 4. 37 वर्ष

Question ID : 71939920062

Q.7 बार चार्ट निर्धारित समय के लिए गेहूं (टन में) का उत्पादन दर्शाता है। उच्चतम 2 उत्पादनों और निम्नतम 2 उत्पादनों में कितना अंतर है?



- Ans
- 1. 3300 टन
 - 2. 5300 टन
 - 3. 4500 टन
 - 4. 4000 टन

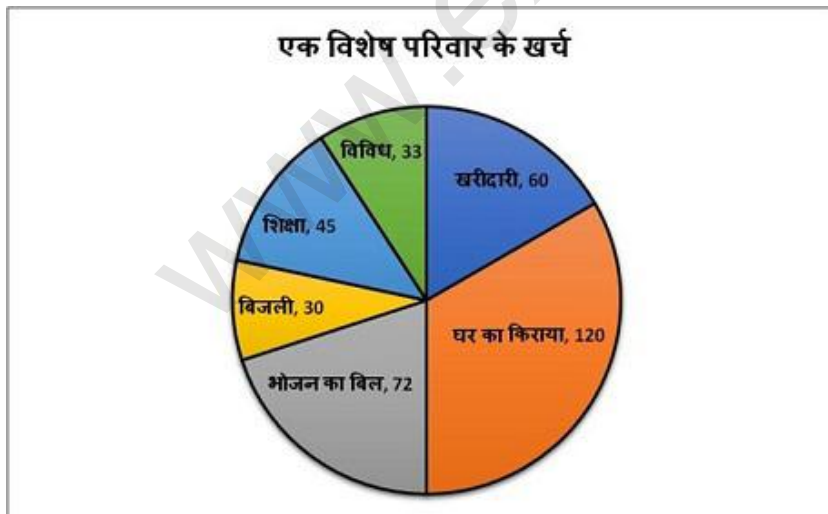
Question ID : 71939920075

Q.8 साधारण ब्याज पर 5 वर्ष में 30000 रुपए का मूलधन 36000 रुपए हो जाता है, 2 वर्ष के लिए उतने ही मूलधन पर चक्रवृद्धि ब्याज क्या होगा?

- Ans
- 1. 2446 रुपए
 - 2. 2444 रुपए
 - 3. 2442 रुपए
 - 4. 2448 रुपए

Question ID : 71939920068

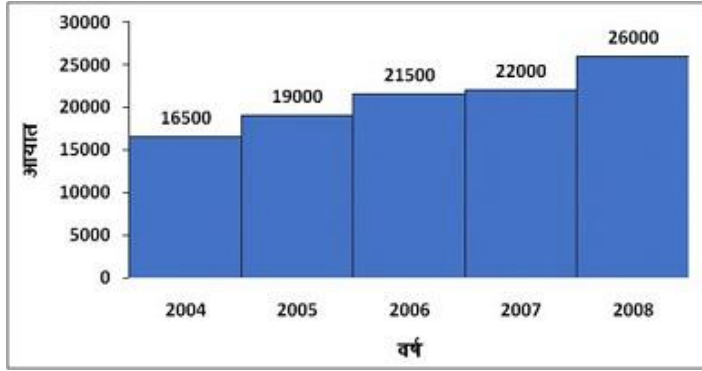
Q.9 पाई चार्ट एक महीने के लिए किसी विशेष परिवार के विभिन्न प्रकार के खर्चों को दर्शाता है। महीने के लिए बिजली पर खर्च होने वाली राशि 4500 रुपए है। परिवार द्वारा खर्च की गई कुल राशि कितनी है?



- Ans
- 1. 90000 रुपए
 - 2. 54000 रुपए
 - 3. 45000 रुपए
 - 4. 49500 रुपए

Question ID : 71939920074

Q.10 आयतचित्र एक खास समय की अवधि में कोयले (टन में) की आयात को दर्शाता है। इस अवधि के लिए आयात की औसत राशि कितनी है?



- Ans
- 1. 23000 टन
 - 2. 20000 टन
 - 3. 21000 टन
 - 4. 22000 टन

Question ID : 71939920076

Q.11 एक दुकानदार लागत पर 540% लाभ कमाता है। यदि लागत में 60% की वृद्धि होती है जबकि विक्रय मूल्य समान रहता है, तो विक्रय मूल्य के नए लाभ का अनुपात ज्ञात करें।

- Ans
- 1. 3:4
 - 2. 2:3
 - 3. 7:9
 - 4. 13:14

Question ID : 71939920065

Q.12 एक पार्क समलम्ब के आकार का है। पार्क के समानांतर छोटे आकार को ज्ञात करें यदि इसका क्षेत्रफल 450 sq m है, जबकि लंबरूप ऊंचाई 12 m है और समानांतर पक्षों में से एक 50% अन्य की तुलना में अधिक है?

- Ans
- 1. 30 m
 - 2. 36 m
 - 3. 25 m
 - 4. 40 m

Question ID : 71939920073

Q.13 10 से गुणा करने पर किस संख्या का वर्ग 30, 36 और 40 से पूरी तरह से विभाजित हो जाएगा?

- Ans
- 1. 18
 - 2. 8
 - 3. 6
 - 4. 12

Question ID : 71939920059

Q.14 10011001 बाइनरी को दशमलव में बदलें।

- Ans
- 1. 154

2. 152

3. 153

4. 151

Question ID : 71939920058

Q.15 एक किसान अपने फार्म में मुर्गियों और घोड़ों को रखता है। कुल मिलाकर उसके पास 35 जानवर हैं, जबकि पैरों की कुल संख्या 100 है। उसके पास कितने घोड़े हैं?

Ans 1. 20

2. 15

3. 18

4. 10

Question ID : 71939920061

Q.16 यदि एक घन के सभी पक्षों में 10% की वृद्धि होती है तो घन के आयतन में कितने प्रतिशत की वृद्धि होगी?

Ans 1. 30 प्रतिशत

2. 21 प्रतिशत

3. 33.10 प्रतिशत

4. 31 प्रतिशत

Question ID : 71939920072

Q.17 यदि $\frac{5}{8}$ से विभाजित होने वाली संख्या को $\frac{5}{8}$ से गुणा किया जाए, तो त्रुटि प्रतिशत क्या है?

Ans 1. 120 प्रतिशत

2. 39 प्रतिशत

3. 144 प्रतिशत

4. 156 प्रतिशत

Question ID : 71939920063

Q.18 7:8:9:10 के अनुपात में A, B, C और D के बीच धनराशि वितरित की जानी है। यदि C, B से 500 रूपए अधिक प्राप्त करता है, तो D कितना प्राप्त करता है?

Ans 1. 3500 रूपए

2. 5000 रूपए

3. 4500 रूपए

4. 4000 रूपए

Question ID : 71939920066

Q.19 यदि $a+b=70$ और $a-b = 30$ है, तो ab का मूल्य कितना है?

Ans 1. 1000

2. 250

3. 500

4. 750

Question ID : 71939920060

Q.20 A 60 दिनों में एक काम कर सकता है और वह B से तीन गुना कुशल है। वे एक साथ कितने दिनों में काम पूरा कर पाएंगे, यदि A हर तीसरे दिन B के साथ मिलकर काम करता है?

- Ans
- 1. 120
 - 2. 60
 - 3. 90
 - 4. 30

Question ID : 71939920071

Section : General English

Q.1 Select the option that best expresses the meaning of the idiom or phrase given below.

Out on a limb

- Ans
- 1. To be in agreement with
 - 2. Do something risky
 - 3. To admire someone very much
 - 4. Do something unexpectedly

Question ID : 71939920090

Q.2 Select the word that is opposite in meaning (ANTONYM) to the word given below.

Veteran

- Ans
- 1. Novice
 - 2. Dull
 - 3. Bright
 - 4. Noble

Question ID : 71939920086

Q.3 Select the word that is closest in meaning (SYNONYM) to the word given below.

Deride

- Ans
- 1. Inspire
 - 2. Blame
 - 3. Defend
 - 4. Mock

Question ID : 71939920085

Q.4 Select the word that fills in the blank correctly and completes the sentence meaningfully.

Cognition can be _____ as the first step in the sequence of events leading from the external stimulus to the behaviour of the individual.

- Ans
- 1. see
 - 2. has see
 - 3. seen

4. saw

Question ID : 71939920082

Q.5 Select the word that is spelled correctly.

- Ans 1. Bibliophole
 2. Bibliophile
 3. Bibliophile
 4. Biblophile

Question ID : 71939920088

Q.6 Select the word that is spelled correctly.

- Ans 1. Cinic
 2. Synic
 3. Cynic
 4. Sinic

Question ID : 71939920087

Q.7 Select the word that fills in the blank correctly and completes the sentence meaningfully.

The highly technical civilisation of the 20th Century is like a plane in flight, _____ by its forward motion.

- Ans 1. supported
 2. is supporting
 3. support
 4. supporting

Question ID : 71939920081

Q.8 The questions below consist of a set of labelled parts of a sentence. Out of four options given, select the most logical order of the parts which form a coherent sentence.

The only difference between
P: ribbon impregnated with
Q: the first operation and regular
R: every day typing is that a special
S: hectograph ink is needed

- Ans 1. RSPQ
 2. PQRS
 3. QRPS
 4. SQRP

Question ID : 71939920084

Q.9 The sentence below has been divided into three parts. Select the part of the sentence that has an error. If the sentence has no error, select the option 'No Error'.

Further study and experimentation/ indicated that acids release/ hydrogen ions to water solution.

- Ans 1. No Error

- 2. Further study and experimentation
- 3. indicated that acids release
- 4. hydrogen ions to water solution

Question ID : 71939920078

Q.10 Select the option that best expresses the meaning of the idiom or phrase given below.

In the nick of time

- Ans
- 1. To not have time
 - 2. To solve two problems at a time
 - 3. At the last moment
 - 4. From the beginning

Question ID : 71939920089

Q.11 The sentence below has been divided into three parts. Select the part of the sentence that has an error. If the sentence has no error, select the option 'No Error'.

Rail services is out of/ question because of their/ initial high capital cost.

- Ans
- 1. question because of their
 - 2. No Error
 - 3. initial high capital cost.
 - 4. Rail services is out of

Question ID : 71939920077

Q.12 Select the most appropriate 'one word' for the expressions given below.

A person difficult to please

- Ans
- 1. Altruist
 - 2. Fastidious
 - 3. Parasite
 - 4. Centenarian

Question ID : 71939920091

Q.13 The questions below consist of a set of labelled parts of a sentence. Out of four options given, select the most logical order of the parts which form a coherent sentence.

The Chittagong armoury raid

P: was an attempt to raid the armoury of

Q: Chittagong armoury in the Bengal

R: police and auxiliary forces from the

S: Presidency of British India

- Ans
- 1. SQRP
 - 2. PRQS
 - 3. QSPR
 - 4. RSQP

Question ID : 71939920083

Q.14 Select the word segment that substitutes (replaces) the bracketed word segment correctly and completes the sentence meaningfully. If there is no need to substitute it, select "No Correction"

Stonehenge (have capture) the hearts of people from pre-historic times due to its unique structure.

- Ans
- 1. has captured
 - 2. have captured
 - 3. No correction
 - 4. has capture

Question ID : 71939920080

Q.15 Select the word segment that substitutes (replaces) the bracketed word segment correctly and completes the sentence meaningfully. If there is no need to substitute it, select "No Correction"

Venture capitalists are the newest breed of entrepreneurs who are usually wealthy enough (to started) their own business.

- Ans
- 1. to start
 - 2. by start
 - 3. No correction
 - 4. by started

Question ID : 71939920079

Comprehension:

Read the following passage carefully and choose the best answer to each question out of the four alternatives and click the button corresponding to it.

Goa is a state on the south-western coast of India within the region known as the Konkan, separated from the Deccan highlands of the state of Karnataka by the Western Ghats. It is bounded by Maharashtra to the north and Karnataka to the east and south, with the Arabian Sea forming its western coast. It is India's smallest state by area and the fourth-smallest by population. Goa has the highest GDP per capita among all Indian states, two and a half times that of the country. It was ranked the best-placed state by the Eleventh Finance Commission for its infrastructure and ranked on top for the best quality of life in India by the National Commission on Population based on the 12 Indicators. Panaji is the state's capital, while Vasco da Gama is its largest city. The historic city of Margao still exhibits the cultural influence of the Portuguese, who first landed in the early 16th century as merchants and conquered it soon thereafter. Goa is a former Portuguese province; the Portuguese overseas territory of Portuguese India existed for about 450 years until it was annexed by India in 1961.

SubQuestion No : 16

Q.16 Goa is bounded by which state in the north?

- Ans
- 1. Karnataka
 - 2. Arabian Sea
 - 3. Maharashtra
 - 4. Tamil Nadu

Question ID : 71939920094

Comprehension:

Read the following passage carefully and choose the best answer to each question out of the four alternatives and click the button corresponding to it.

Goa is a state on the south-western coast of India within the region known as the Konkan, separated from the Deccan highlands of the state of Karnataka by the Western Ghats. It is bounded by Maharashtra to the north and Karnataka to the east and south, with the Arabian Sea forming its western coast. It is India's smallest state by area and the fourth-smallest by

population. Goa has the highest GDP per capita among all Indian states, two and a half times that of the country. It was ranked the best-placed state by the Eleventh Finance Commission for its infrastructure and ranked on top for the best quality of life in India by the National Commission on Population based on the 12 Indicators. Panaji is the state's capital, while Vasco da Gama is its largest city. The historic city of Margao still exhibits the cultural influence of the Portuguese, who first landed in the early 16th century as merchants and conquered it soon thereafter. Goa is a former Portuguese province; the Portuguese overseas territory of Portuguese India existed for about 450 years until it was annexed by India in 1961.

SubQuestion No : 17

Q.17 Within which region is Goa located?

- Ans
- 1. Hooghly
 - 2. Eastern
 - 3. Malabar
 - 4. Konkan

Question ID : 71939920093

Comprehension:

Read the following passage carefully and choose the best answer to each question out of the four alternatives and click the button corresponding to it.

Goa is a state on the south-western coast of India within the region known as the Konkan, separated from the Deccan highlands of the state of Karnataka by the Western Ghats. It is bounded by Maharashtra to the north and Karnataka to the east and south, with the Arabian Sea forming its western coast. It is India's smallest state by area and the fourth-smallest by population. Goa has the highest GDP per capita among all Indian states, two and a half times that of the country. It was ranked the best-placed state by the Eleventh Finance Commission for its infrastructure and ranked on top for the best quality of life in India by the National Commission on Population based on the 12 Indicators. Panaji is the state's capital, while Vasco da Gama is its largest city. The historic city of Margao still exhibits the cultural influence of the Portuguese, who first landed in the early 16th century as merchants and conquered it soon thereafter. Goa is a former Portuguese province; the Portuguese overseas territory of Portuguese India existed for about 450 years until it was annexed by India in 1961.

SubQuestion No : 18

Q.18 What is the Capital of Goa?

- Ans
- 1. Panaji
 - 2. Vellore
 - 3. Margao
 - 4. Konkan

Question ID : 71939920096

Comprehension:

Read the following passage carefully and choose the best answer to each question out of the four alternatives and click the button corresponding to it.

Goa is a state on the south-western coast of India within the region known as the Konkan, separated from the Deccan highlands of the state of Karnataka by the Western Ghats. It is bounded by Maharashtra to the north and Karnataka to the east and south, with the Arabian Sea forming its western coast. It is India's smallest state by area and the fourth-smallest by population. Goa has the highest GDP per capita among all Indian states, two and a half times that of the country. It was ranked the best-placed state by the Eleventh Finance Commission for its infrastructure and ranked on top for the best quality of life in India by the National Commission on Population based on the 12 Indicators. Panaji is the state's capital, while Vasco da Gama is its largest city. The historic city of Margao still exhibits the cultural influence of the Portuguese, who first landed in the early 16th century as merchants and conquered it soon thereafter. Goa is a former Portuguese province; the Portuguese overseas territory of Portuguese India existed for about 450 years until it was annexed by India in 1961.

SubQuestion No : 19

Q.19 Which city exhibits the cultural influence of the Portuguese?

- Ans
- 1. Vasco da Gama

- 2. Vellore
- 3. Panaji
- 4. Margoa

Question ID : 71939920097

Comprehension:

Read the following passage carefully and choose the best answer to each question out of the four alternatives and click the button corresponding to it.

Goa is a state on the south-western coast of India within the region known as the Konkan, separated from the Deccan highlands of the state of Karnataka by the Western Ghats. It is bounded by Maharashtra to the north and Karnataka to the east and south, with the Arabian Sea forming its western coast. It is India's smallest state by area and the fourth-smallest by population. Goa has the highest GDP per capita among all Indian states, two and a half times that of the country. It was ranked the best-placed state by the Eleventh Finance Commission for its infrastructure and ranked on top for the best quality of life in India by the National Commission on Population based on the 12 Indicators. Panaji is the state's capital, while Vasco da Gama is its largest city. The historic city of Margao still exhibits the cultural influence of the Portuguese, who first landed in the early 16th century as merchants and conquered it soon thereafter. Goa is a former Portuguese province; the Portuguese overseas territory of Portuguese India existed for about 450 years until it was annexed by India in 1961.

SubQuestion No : 20

Q.20 Which of the following statements about Goa is correct?

- Ans
- 1. It is bounded by Maharashtra to the South
 - 2. Its is the largest state by area
 - 3. It is the fourth smallest by population
 - 4. none of the above

Question ID : 71939920095

Section : General Hindi

Q.1 निम्नलिखित प्रश्न में, चार विकल्पों में से, उस विकल्प का चयन करें जो दिए गए मुहावरे का सही अर्थ वाला विकल्प है।

अपने पैरों पर खड़ा होना

- Ans
- 1. अपने सहारे अपना कार्य करना
 - 2. होश आना
 - 3. हाथ-पैर सही होना
 - 4. सबसे अलग रहना

Question ID : 71939920110

Q.2 निम्नलिखित प्रश्न में, चार विकल्पों में से, उस विकल्प का चयन करें जो दिए गए संधि-विच्छेद की संधि का सही विकल्प हो।

राम + ईश्वर

- Ans
- 1. रामेश्वर
 - 2. रामैश्वर
 - 3. रामश्वर
 - 4. रामिश्वर

Question ID : 71939920100

Q.3 निम्नलिखित प्रश्न में, चार विकल्पों में से, उस विकल्प का चयन करें जो विराम चिह्न युक्त वाक्य का सही विकल्प हो।

- Ans
- 1. क्या करता? क्या न करता? कुछ भी समझ में नहीं आ रहा था।
 - 2. क्या करता, क्या न करता, कुछ भी समझ में नहीं आ रहा था।
 - 3. क्या करता क्या न करता कुछ भी समझ में नहीं आ रहा था।
 - 4. क्या करता क्या न करता कुछ भी समझ में नहीं आ रहा था।

Question ID : 71939920112

Q.4 निम्नलिखित प्रश्न में, चार विकल्पों में से, उस विकल्प का चयन करें जो सही वाक्य भेद का विकल्प हो।

कुछ लोग इसलिए दान करते हैं, कि उनका नाम हो।

- Ans
- 1. मिश्र वाक्य
 - 2. निषेधवाचक वाक्य
 - 3. सरल वाक्य
 - 4. संयुक्त वाक्य

Question ID : 71939920108

Q.5 निम्नलिखित प्रश्न में, चार विकल्पों में से, उस विकल्प का चयन करें जो दिए गए मुहावरे का सही अर्थ वाला विकल्प है।

खटाई में पड़ना

- Ans
- 1. नष्ट-भ्रष्ट कर देना
 - 2. बहुत दुखी होना
 - 3. खट्टा होना
 - 4. काम में अड़चन आना

Question ID : 71939920109

Q.6 निम्नलिखित प्रश्न में, चार विकल्पों में से, उस विकल्प का चयन करें जो दिए गए शब्द के लिए बहुवचन शब्द का सबसे अच्छा विकल्प है।

धातु

- Ans
- 1. धातुयें
 - 2. धातूये
 - 3. धातुएँ
 - 4. धातुओ

Question ID : 71939920106

Q.7 निम्नलिखित प्रश्न में, चार विकल्पों में से, उस विकल्प का चयन करें जो विलोम शब्द का सबसे अच्छा विकल्प है।

कनिष्ठ

- Ans
- 1. कृतज्ञ
 - 2. आस्था
 - 3. कंजूस

✓ 4. वरिष्ठ

Question ID : 71939920102

Q.8 निम्न विकल्पों में से निर्देशानुसार वाच्य परिवर्तन का विकल्प चुनिए।

में साइकिल से विद्यालय गया। (कर्मवाच्य)

- Ans
- ✓ 1. मेरे द्वारा साइकिल से विद्यालय जाया गया।
 - ✗ 2. साइकिल से मैं विद्यालय गया।
 - ✗ 3. विद्यालय में साइकिल से गया।
 - ✗ 4. विद्यालय साइकिल से मेरे द्वारा जाया गया।

Question ID : 71939920107

Q.9 निम्नलिखित प्रश्न में, चार विकल्पों में से, उस विकल्प का चयन करें जो दिए गए शब्द का सही स्त्रीलिंग वाला शब्द है।

संन्यासी

- Ans
- ✗ 1. संन्यसीनी
 - ✗ 2. संन्याशिनी
 - ✓ 3. संन्यासिनी
 - ✗ 4. संन्यसिरिन

Question ID : 71939920105

Q.10 निम्नलिखित प्रश्न में, चार विकल्पों में से, उस विकल्प का चयन करें जो समानार्थी शब्द का सही विकल्प नहीं है।

किनारा

- Ans
- ✓ 1. अमी
 - ✗ 2. कगार
 - ✗ 3. तीर
 - ✗ 4. कूल

Question ID : 71939920103

Q.11 निम्नलिखित प्रश्न में, चार विकल्पों में से, उस सही विकल्प का चयन करें जो वाक्यांशों के लिए एक शब्द का विकल्प हो।

साथ काम करने वाला

- Ans
- ✗ 1. सर्वज्ञ
 - ✗ 2. सहचर
 - ✗ 3. सहपाठी
 - ✓ 4. सहकर्मी

Question ID : 71939920104

Q.12 निम्नलिखित प्रश्न में, चार विकल्पों में से, उस सही विकल्प का चयन करें जो प्रत्यय से बना शब्द है।

- Ans
- ✗ 1. नासमझ
 - ✗ 2. प्रतिशत

3. सख्ती

4. विश्राम

Question ID : 71939920099

Q.13 निम्नलिखित प्रश्न में, चार विकल्पों में से, उस विकल्प का चयन करें जो दिए गए वाक्यांश के लिए सही लोकोक्ति वाला विकल्प है।

अढ़ाई हाथ की ककड़ी, नौ हाथ का बीज

Ans 1. अनहोनी बात

2. अपनी परिस्थिति से संतुष्ट रहना

3. बहुत बोलना

4. अवगुण बताना

Question ID : 71939920111

Q.14 निम्नलिखित प्रश्न में, चार विकल्पों में से, उस विकल्प का चयन करें जो उपसर्ग से बना है।

Ans 1. आंतरिक

2. अपवाद

3. महँगाई

4. आयोजक

Question ID : 71939920098

Q.15 निम्नलिखित प्रश्न में, चार विकल्पों में से, उस विकल्प का चयन करें जो रिक्त स्थान के लिए उपयुक्त शब्द का सही विकल्प है।

शीलयुक्त व्यवहार प्रत्येक व्यक्ति के लिए _____ है।

Ans 1. अहितकर

2. अनुपयोगी

3. हितकर

4. दुरुपयोगी

Question ID : 71939920101

Comprehension:

नीचे दिए गये गद्यांश को ध्यानपूर्वक पढ़ें और चार विकल्पों में से प्रत्येक प्रश्न का सर्वोत्तम उत्तर चुनें।

वह माह नवम्बर की शुरुआत थी और टॉम कैनेडी भी अन्य अफसरों की तरह से शरदकालीन लम्बे दौरे पर विविध पुलिस स्टेशनों के निरीक्षण हेतु बाहर था। सर्दियों के दिनों में कैप का जीवन एक लम्बे पिकनिक के सामान हुआ करता था। भारत की कष्टदायक गर्मियों के बाद इन दिनों की ताज़गी आनंदवर्धक होती थी, परंतु कर्त्तव्य की कभी अवहेलना नहीं होती थी, क्योंकि अपने अधीनस्थ पदाधिकारियों के कार्यों और गतिविधियों के निरीक्षण के अतिरिक्त सुपरिटेण्डेंट से अपेक्षा की जाती थी कि वह पूरे जिले की स्थिति की वाकफियत हासिल करे, विशेषकर ग्रामीण क्षेत्रों में पनपने वाले क्राइम की। उसको इस दौरे के मध्य शिकार के उत्तम अवसर मिला करते थे। येलोपुर में चूँकि कुछ अच्छे जंगल थे। अतः कैनेडी यहाँ बेहतर शिकार की आशा में आया था।

SubQuestion No : 16

Q.16 इनमें से कौन-सा 'हासिल' शब्द का पर्यायवाची नहीं है?

Ans 1. प्राप्त

2. लब्ध

3. गँवाना

4. उपलब्धि

Question ID : 71939920117

Comprehension:

नीचे दिए गये गद्यांश को ध्यानपूर्वक पढ़ें और चार विकल्पों में से प्रत्येक प्रश्न का सर्वोत्तम उत्तर चुनें।

वह माह नवम्बर की शुरुआत थी और टॉम कैनेडी भी अन्य अफसरों की तरह से शरदकालीन लम्बे दौरे पर विविध पुलिस स्टेशनों के निरीक्षण हेतु बाहर था। सर्दी के दिनों में कैंप का जीवन एक लम्बे पिकनिक के सामान हुआ करता था। भारत की कष्टदायक गर्मियों के बाद इन दिनों की ताज़गी आनंदवर्धक होती थी, परंतु कर्त्तव्य की कभी अवहेलना नहीं होती थी, क्योंकि अपने अधीनस्थ पदाधिकारियों के कार्यों और गतिविधियों के निरीक्षण के अतिरिक्त सुपरिटेण्डेंट से अपेक्षा की जाती थी कि वह पूरे जिले की स्थिति की वाकफियत हासिल करे, विशेषकर ग्रामीण क्षेत्रों में पनपने वाले क्राइम की। उसको इस दौरे के मध्य शिकार के उत्तम अवसर मिला करते थे। येलोपुर में चूँकि कुछ अच्छे जंगल थे। अतः कैनेडी यहाँ बेहतर शिकार की आशा में आया था।

SubQuestion No : 17

Q.17 सर्दी के दिनों में कैंप टॉम कैनेडी को अच्छे व्यों लगा करते थे?

- Ans
- 1. कोई भी काम न होने के कारण
 - 2. मौसम का आनंद मिलने के कारण
 - 3. कष्टदायक होने के कारण
 - 4. पिकनिक के समान होने के कारण

Question ID : 71939920115

Comprehension:

नीचे दिए गये गद्यांश को ध्यानपूर्वक पढ़ें और चार विकल्पों में से प्रत्येक प्रश्न का सर्वोत्तम उत्तर चुनें।

वह माह नवम्बर की शुरुआत थी और टॉम कैनेडी भी अन्य अफसरों की तरह से शरदकालीन लम्बे दौरे पर विविध पुलिस स्टेशनों के निरीक्षण हेतु बाहर था। सर्दी के दिनों में कैंप का जीवन एक लम्बे पिकनिक के सामान हुआ करता था। भारत की कष्टदायक गर्मियों के बाद इन दिनों की ताज़गी आनंदवर्धक होती थी, परंतु कर्त्तव्य की कभी अवहेलना नहीं होती थी, क्योंकि अपने अधीनस्थ पदाधिकारियों के कार्यों और गतिविधियों के निरीक्षण के अतिरिक्त सुपरिटेण्डेंट से अपेक्षा की जाती थी कि वह पूरे जिले की स्थिति की वाकफियत हासिल करे, विशेषकर ग्रामीण क्षेत्रों में पनपने वाले क्राइम की। उसको इस दौरे के मध्य शिकार के उत्तम अवसर मिला करते थे। येलोपुर में चूँकि कुछ अच्छे जंगल थे। अतः कैनेडी यहाँ बेहतर शिकार की आशा में आया था।

SubQuestion No : 18

Q.18 टॉम कैनेडी बाहर क्यों था?

- Ans
- 1. मौसम के मज़े के लिए
 - 2. पिकनिक के लिए
 - 3. निरीक्षण हेतु
 - 4. खान-पान हेतु

Question ID : 71939920114

Comprehension:

नीचे दिए गये गद्यांश को ध्यानपूर्वक पढ़ें और चार विकल्पों में से प्रत्येक प्रश्न का सर्वोत्तम उत्तर चुनें।

वह माह नवम्बर की शुरुआत थी और टॉम कैनेडी भी अन्य अफसरों की तरह से शरदकालीन लम्बे दौरे पर विविध पुलिस स्टेशनों के निरीक्षण हेतु बाहर था। सर्दी के दिनों में कैंप का जीवन एक लम्बे पिकनिक के सामान हुआ करता था। भारत की कष्टदायक गर्मियों के बाद इन दिनों की ताज़गी आनंदवर्धक होती थी, परंतु कर्त्तव्य की कभी अवहेलना नहीं होती थी, क्योंकि अपने अधीनस्थ पदाधिकारियों के कार्यों और गतिविधियों के निरीक्षण के अतिरिक्त सुपरिटेण्डेंट से अपेक्षा की जाती थी कि वह पूरे जिले की स्थिति की वाकफियत हासिल करे, विशेषकर ग्रामीण क्षेत्रों में पनपने वाले क्राइम की। उसको इस दौरे के मध्य शिकार के उत्तम अवसर मिला करते थे। येलोपुर में चूँकि कुछ अच्छे जंगल थे। अतः कैनेडी यहाँ बेहतर शिकार की आशा में आया था।

SubQuestion No : 19

Q.19 इस अनुच्छेद का कोई उपयुक्त शीर्षक:

Ans

- 1. निरिक्षण का कार्य
- 2. शरदकालीन दौरे का मज़ा
- 3. शिकार का आनंद
- 4. कर्तव्य

Question ID : 71939920118

Comprehension:

नीचे दिए गये गद्यांश को ध्यानपूर्वक पढ़ें और चार विकल्पों में से प्रत्येक प्रश्न का सर्वोत्तम उत्तर चुनें।

वह माह नवम्बर की शुरुआत थी और टॉम कैनेडी भी अन्य अफसरों की तरह से शरदकालीन लम्बे दौरे पर विविध पुलिस स्टेशनों के निरिक्षण हेतु बाहर था। सर्दियों के दिनों में कैप का जीवन एक लम्बे पिकनिक के सामान हुआ करता था। भारत की कष्टदायक गर्मियों के बाद इन दिनों की ताज़गी आनंदवर्धक होती थी, परंतु कर्तव्य की कभी अवहेलना नहीं होती थी, क्योंकि अपने अधीनस्थ पदाधिकारियों के कार्यों और गतिविधियों के निरिक्षण के अतिरिक्त सुपरिटेण्डेंट से अपेक्षा की जाती थी कि वह पूरे जिले की स्थिति की वाकफियत हासिल करे, विशेषकर ग्रामीण क्षेत्रों में पनपने वाले क्राइम की। उसको इस दौरे के मध्य शिकार के उत्तम अवसर मिला करते थे। येलोपुर में चूँकि कुछ अच्छे जंगल थे। अतः कैनेडी यहाँ बेहतर शिकार की आशा में आया था।

SubQuestion No : 20

Q.20 कैनेडी किस आशा में आए थे?

- Ans**
- 1. आराम के
 - 2. बहुत काम के
 - 3. अच्छे शिकार की
 - 4. बहुत क्राइम की

Question ID : 71939920116

Section : Discipline1

Q.1 जिन बच्चों ने हिंसा का अनुभव किया है वे स्वास्थ्य और व्यवहार संबंधी समस्याओं को _____ प्रदर्शित करते हैं।

- Ans**
- 1. हमेशा
 - 2. कभी नहीं
 - 3. इसकी अधिक संभावना है कि वे
 - 4. की संभावना कम है कि वे

Question ID : 71939920133

Q.2 छोटे बच्चों की ध्यान अवधि (3 से 6 वर्ष) है:

- Ans**
- 1. 15-20 मिनट
 - 2. 35-40 मिनट
 - 3. 45-50 मिनट
 - 4. 25-30 मिनट

Question ID : 71939920128

Q.3 बच्चों की इंद्रियों और मांसपेशियों को शामिल करना, _____ बच्चों के सक्रिय होने और तलाशने की आवश्यकता को संतुष्ट करता है।

- Ans**
- 1. नियम के साथ खेल

2. दिखावा करना (प्रिटेड) खेल
 3. कार्यात्मक खेल
 4. रचनात्मक खेल

Question ID : 71939920134

Q.4 किस आयु वर्ग के बच्चे एक या दो विशेषताओं, क्रमबद्धता, पैटर्न की पहचान, पैटर्न बनाने, तर्क और समस्या समाधान के अनुसार सॉर्टिंग और वर्गीकरण में कौशल का विकास प्रदर्शित करते हैं?

- Ans 1. 1 वर्ष से 3 वर्ष
 2. 3 वर्ष से 4 वर्ष
 3. 5 वर्ष से 6 वर्ष
 4. 2 वर्ष से 4 वर्ष

Question ID : 71939920131

Q.5 किस उम्र में देखभालकर्ता (केयरगिवर) बच्चों को छोटी कहानी और छंद (राइम) सुनने और कल्पना करने, कल्पनाशील नाटक में लिप्त होने और सरल समस्या हल करने की गतिविधियों के लिए अवसर प्रदान करना चाहिए?

- Ans 1. 9 महीने से 12 महीने
 2. 2.5 वर्ष से 4 वर्ष
 3. 2 वर्ष से 3 वर्ष
 4. 1 वर्ष से 2 वर्ष

Question ID : 71939920130

Q.6 कौन सा कथन सही है?

1. शिशुशिक्षा को भारत में शिक्षा के अधिकार द्वारा अनिवार्य प्रावधान के रूप में मान्यता प्राप्त नहीं है।
2. शिक्षा का अधिकार राज्यों से तीन वर्ष से ऊपर के बच्चों के लिए मुफ्त प्री-स्कूल शिक्षा प्रदान करने का आग्रह करता है।

- Ans 1. दोनों कथन सही हैं।
 2. केवल कथन 2 सही है; कथन 1 गलत है।
 3. दोनों कथन गलत हैं।
 4. केवल कथन 1 सही है; कथन 2 गलत है।

Question ID : 71939920120

Q.7 अर्ली चाइल्डहुड केयर एंड एजुकेशन कार्यक्रम यह मानता है कि बच्चे खेल और _____ के माध्यम से सर्वश्रेष्ठ सीखते हैं।

- Ans 1. पढ़ाने से सीखने
 2. दिखा कर सीखने
 3. रटना सीखने
 4. करके सीखने

Question ID : 71939920121

Q.8 किस आयु समूह से संबंधित एक बच्चा शरीर के अंगों और अपने वातावरण में और उसके आसपास अन्य सामान्य वस्तुओं का नाम बता सकेगा?

Ans

- 1. 3 से 5 वर्ष
- 2. 2 से 3 वर्ष
- 3. 6 से 8 वर्ष
- 4. 1 से 2 वर्ष

Question ID : 71939920129

Q.9 अर्ली चाइल्डहुड केयर एंड एजुकेशन (ECCE) पाठ्यचर्या फ्रेमवर्क के अनुसार, अर्ली चाइल्डहुड केयर एंड एजुकेशन (ECCE) निम्नलिखित में से किस तत्व को एक सुरक्षात्मक और सक्षम वातावरण में धरता है?

1. देखभाल
2. स्वास्थ्य
3. पोषण
4. खेल
5. बीमा
6. प्रारंभिक शिक्षा

- Ans
- 1. केवल 1, 3 और 4
 - 2. केवल 1, 2, 3, 4 और 6
 - 3. केवल 1, 2, 3 और 5
 - 4. केवल 1, 2, 3, 5 और 6

Question ID : 71939920125

Q.10 अर्ली चाइल्डहुड केयर एंड एजुकेशन (ECCE) के लिए कौन सा मंत्रालय नोडल विभाग है?

- Ans
- 1. महिला और बाल विकास मंत्रालय (MWCD)
 - 2. समाज कल्याण मंत्रालय (MSW)
 - 3. शिक्षा मंत्रालय (MOE)
 - 4. मानव संसाधन मंत्रालय (HRM)

Question ID : 71939920122

Q.11 UNICEF के अनुसार, प्रारंभिक बचपन को गर्भाधान से _____ वर्ष की आयु तक की अवधि के रूप में परिभाषित किया गया है।

- Ans
- 1. आठ
 - 2. दस
 - 3. सात
 - 4. छह

Question ID : 71939920119

Q.12 _____ प्राथमिक देखभालकर्ता (केयरगिवर) और बच्चे के बीच अद्वितीय और स्थायी बंधन को संदर्भित करता है, वे अपने जीवन के बाकी समय के लिए एक दूसरे के लिए विशेष हैं।

- Ans
- 1. लगाव
 - 2. लेन-देन
 - 3. परस्पर निर्भरता
 - 4. सहयोग

Question ID : 71939920126

Q.13 किस आयु वर्ग के बच्चों को अकेले और अन्य बच्चों के साथ खेलने के लिए अन्वेषण के लिए अवसरों की आवश्यकता होती है?

- Ans
- 1. जन्म से 3 महीने
 - 2. 7 महीने से 1 वर्ष
 - 3. 1 वर्ष से 2 वर्ष
 - 4. 4 महीने से 6 महीने

Question ID : 71939920138

Q.14 मानव मस्तिष्क जन्म के बाद तीव्र गति से बढ़ता है और बच्चे के 2 वर्ष का होने तक उसके वयस्क वजन का _____ प्रतिशत तक पहुंच जाता है।

- Ans
- 1. 55
 - 2. 85
 - 3. 75
 - 4. 95

Question ID : 71939920135

Q.15 _____ की कमी (VAD) अंधापन का कारण बनता है और बच्चों को आम बाल्यावस्था के घातक के लिए अतिसंवेदनशील बनाता है: खसरा, दस्त, मलेरिया और निमोनिया।

- Ans
- 1. कैल्सियम
 - 2. प्रोटीन
 - 3. विटामिन A
 - 4. विटामिन K

Question ID : 71939920136

Q.16 6 वर्ष से कम उम्र के सभी बच्चों के लिए इनमें से कौन प्रदान-कर्ता है और बचपन की शिक्षा की गुणवत्ता के लिए सार्वभौमिक पहुंच के लिए प्रतिबद्ध है?

- Ans
- 1. राष्ट्रीय अर्ली चाइल्डहुड केयर एंड एजुकेशन (ECCE) नीति 2013
 - 2. निःशुल्क एवं अनिवार्य शिक्षा विधेयक (RTE) अधिनियम 2010
 - 3. शिक्षा पर राष्ट्रीय नीति
 - 4. सभी के लिए शिक्षा (EFA)

Question ID : 71939920123

Q.17 किस उम्र में बच्चे हाथ और उंगलियों पर नियंत्रण हासिल करते हैं?

- Ans
- 1. 12 महीने से 18 महीने
 - 2. 1 वर्ष से 2 वर्ष
 - 3. 9 महीने से 12 महीने
 - 4. 2 वर्ष से 3 वर्ष

Question ID : 71939920137

Q.18 _____ बच्चों की बुद्धिमत्ता के विकास को संदर्भित करता है जो उन्हें अपने वातावरण और यह जानने की आवश्यकता में सक्षम बनाता है कि उनके आसपास क्या है, यह कैसे काम करता है, और यह कैसा महसूस होता है।

- Ans
- 1. संवादात्मक उम्र

- 2. सवाल करने की उम्र
- 3. प्रायोगिक उम्र
- 4. खोजपूर्ण उम्र

Question ID : 71939920132

Q.19 लगभग 1.4 मिलियन आंगनवाड़ी केंद्रों के नेटवर्क के माध्यम से 37 मिलियन से अधिक बच्चों को शामिल करते हुए कौन सा कार्यक्रम एक केंद्र प्रायोजित और राज्य प्रशासित ECCE कार्यक्रम है?

- Ans
- 1. एकीकृत बाल विकास सेवा (ICDS) कार्यक्रम
 - 2. ग्रामीण क्षेत्रों में महिलाओं और बच्चों का विकास (DWCRA)
 - 3. सर्व शिक्षा अभियान (SSA)
 - 4. राष्ट्रीय सामाजिक सहायता कार्यक्रम (NSAP)

Question ID : 71939920124

Q.20 बच्चों को प्रवीण बनने के लिए प्रोत्साहित किया जाना चाहिए:

- Ans
- 1. कोई भी भाषा - या तो उनकी मातृभाषा या औपचारिक विद्यालय भाषा लेकिन अंग्रेजी कभी नहीं
 - 2. या तो विद्यालय की भाषा या अंग्रेजी
 - 3. पहले औपचारिक विद्यालय की भाषा
 - 4. पहले अपनी मातृभाषा या घर की भाषा

Question ID : 71939920127

Section : Discipline2

Q.1 बाल विहार (किंडरगार्टन) शिक्षक अपने छात्रों को दिशात्मक शब्दों के साथ अपनी भौतिक दुनिया का वर्णन करने के लिए पढ़ा रही है: सामने, पीछे, इसके ऊपर, के पास, नीचे आदि। इस अभ्यास के माध्यम से कौन सी प्रमुख गणित अवधारणा सिखाई जा रही है?

- Ans
- 1. ज्यामिति
 - 2. अंकगणित
 - 3. संख्या प्रणाली
 - 4. माप और डेटा व्याख्या

Question ID : 71939920147

Q.2 किस आयु वर्ग से संबंधित बच्चों को बड़बड़ाने की शुरुआत दिखानी चाहिए, यानी "बाबा" और "दीदी" जैसे अक्षरों जैसे बोली की दोहराई गई श्रृंखला?

- Ans
- 1. 1 महीने से 6 महीने
 - 2. 7 से 11 महीने
 - 3. 12 महीने से 24 महीने
 - 4. 24 महीने से 36 महीने

Question ID : 71939920158

Q.3 मिहिर अपने ग्रेड 1 के छात्रों को गोलाकार पहियों और आयताकार दरवाजों जैसी रोजमर्रा की वस्तुओं के आकार की पहचान करने के लिए सिखा रहा है। यह गतिविधि निम्न में से किसके विकास में इन बच्चों की मदद करेगी?

- Ans
- 1. गणितीय अवधारणाएँ

- 2. वैज्ञानिक अवधारणाएँ
- 3. भाषा की अवधारणाएँ
- 4. भौगोलिक अवधारणाएँ

Question ID : 71939920149

Q.4 बच्चों में मौखिक भाषा के विकास की इष्टतम अवधि है:

- Ans
- 1. जीवन के पहले वर्ष के दौरान
 - 2. जीवन के पहले तीन वर्षों में
 - 3. 2 से 8 वर्ष की आयु तक
 - 4. 3 से 6 वर्ष की आयु तक

Question ID : 71939920140

Q.5 बच्चों के बीच शिष्टजन कर्मी सामाजिक कौशल किस अवधि में प्रभावी रूप से विकसित होते हैं?

- Ans
- 1. जीवन के 1-2 वर्षों के दौरान
 - 2. जीवन के 9-11 वर्षों के दौरान
 - 3. जीवन के 3-5 वर्षों के दौरान
 - 4. जीवन के 7-9 वर्षों के दौरान

Question ID : 71939920145

Q.6 _____ प्रतीकों की एक प्रणाली है जिसका उपयोग संचार करने के लिए किया जाता है।

- Ans
- 1. संवाद
 - 2. एक पुस्तक
 - 3. भाषा
 - 4. गणित

Question ID : 71939920155

Q.7 मस्तिष्क क्षेत्र जो भाषा की समझ और संज्ञानात्मक प्रसंस्करण को नियंत्रित करता है उसे निम्न के रूप में जाना जाता है:

- Ans
- 1. सिल्वियन फिशर
 - 2. ब्रॉडमैन क्षेत्र
 - 3. वर्निक का एरिया
 - 4. ब्रोका का एरिया

Question ID : 71939920157

Q.8 _____ एक अभ्यास है जो डेटा व्याख्या के क्षेत्र में बच्चों के सीखने को सुदृढ़ करेगा।

- Ans
- 1. विभिन्न वस्तुओं को छूना और ज़ोर से गिनना
 - 2. उपयुक्त भाषा का उपयोग करके विभिन्न वस्तुओं की तुलना करना
 - 3. वस्तुओं की साइड की अलग-अलग संख्या गिनना
 - 4. चीजों को संग्रह से दूर ले जाने के बारे में चित्र बनाना

Question ID : 71939920151

Q.9 बाल विकास और सीखने इसके द्वारा वर्णित है:

- Ans
- 1. सभी बच्चों में समान विकास
 - 2. सभी बच्चों के बीच सीखने की मानक गति
 - 3. वैयक्तिक भिन्नता
 - 4. क्षेत्रीय और जातीय अंतर

Question ID : 71939920141

Q.10 गरिमा अपनी 5 वर्ष की बेटी के साथ कौन सी गतिविधि करती है जिससे बच्चे को गणितीय अवधारणाओं को विकसित करने में मदद मिलेगी?

- Ans
- 1. किराने की दुकान से खरीदी गई वस्तुओं की संख्या की गिनती करना
 - 2. फल और सब्जियों के चित्र बनाना
 - 3. शाकवाटिका (किचन गार्डन) में बीज बोना
 - 4. चित्र पुस्तकें जोर से पढ़ना

Question ID : 71939920153

Q.11 _____ संचार, सूचनाओं के आदान-प्रदान, पठन कौशल के विकास, समझ के साथ पढ़ने और बाद के वर्षों में अकादमिक सफलता के लिए महत्वपूर्ण भूमिका निभाता है।

- Ans
- 1. गणित
 - 2. भाषा
 - 3. संगीत
 - 4. भूगोल

Question ID : 71939920154

Q.12 खाना बनाते समय रंजीत रसोई में सामग्री गिनकर अपनी माता की मदद करता है। यह गतिविधि से रंजीत की _____ को मजबूत होने की सबसे अधिक संभावना है।

- Ans
- 1. साहित्यिक कौशल
 - 2. भौगोलिक अवधारणाएँ
 - 3. गणितीय अवधारणाएँ
 - 4. तर्क कौशल

Question ID : 71939920148

Q.13 अर्ली चाइल्डहुड पाठ्यचर्या के एक सिद्धांत के अनुसार, एक डोमेन में परिवर्तन या विकास दूसरे डोमेन के विकास को _____ ।

- Ans
- 1. सुगम या बाधित करता है
 - 2. ज्यादातर बाधित करता है लेकिन शायद ही कभी सुगम करे
 - 3. हमेशा बाधित करता है
 - 4. ज्यादातर सुगम करता है लेकिन शायद ही कभी बाधित करे

Question ID : 71939920143

Q.14 जीवन के प्रारंभिक वर्षों के दौरान, बच्चे संवेदी या व्यवहारिक प्रतिक्रियाओं से निम्न की ओर आगे बढ़ते हैं:

- Ans
- 1. आगमनात्मक तर्क
 - 2. ठोस सीख

3. प्रतीकात्मक या प्रतिनिधित्वात्मक ज्ञान

4. ज्ञान संबंधी सीख

Question ID : 71939920144

Q.15 बच्चे जिज्ञासु होते हैं और सीखने की _____ इच्छा रखते हैं।

Ans 1. शिक्षात्मक

2. सामाजिक

3. सांस्कृतिक

4. सहज

Question ID : 71939920142

Q.16 साक्षरता के लिए निम्नलिखित में से किसको निर्माण नींव के रूप में माना जाता है - क्षमता:

1. बोलने की

2. सुनने की

3. गाने की

4. चित्र बनाने की

5. समझने की

Ans 1. केवल 1, 2, 3 और 4

2. केवल 2, 3, 4 और 5

3. केवल 1, 2, 3 और 5

4. केवल 1, 2, 4 और 5

Question ID : 71939920156

Q.17 निम्नलिखित में से कौन सा एक अभ्यास है जो बच्चों के कार्डिनल और क्रमिक संख्याओं के सीखने को सुदृढ़ करेगा?

Ans 1. एक कमरे में रखी जाने वाली वस्तुओं के अग्र-भाग या साइड की संख्या

2. एक बोरी दौड़ में छात्रों की सापेक्ष स्थिति

3. अब और पांच मिनट पहले शाखा पर बैठे पक्षियों की संख्या

4. कुणाल के घर और विद्यालय से आने-जाने के लिए उसके द्वारा तय की गई दूरी और लिया गया समय

Question ID : 71939920152

Q.18 _____ में, बच्चे विभिन्न सामग्रियों का उपयोग करना सीखते हैं, एक योजना के आधार पर चीजों को एक साथ रखते हैं, अपने लक्ष्य तक पहुंचने की रणनीतियों का विकास और उपयोग करते हैं।

Ans 1. रचनात्मक खेल

2. दिखावा करना (प्रिंटेंड) खेल

3. नियम के साथ खेल

4. कार्यात्मक खेल

Question ID : 71939920139

Q.19 निम्नलिखित में से कौन सा कौशल बच्चों में गणितीय अवधारणाओं को विकसित करने में मदद करेगा?

Ans 1. शब्दावली

2. क्रमबद्धता

3. कहानी सुनाना

4. स्वर-विज्ञान

Question ID : 71939920150

Q.20 निम्नलिखित में से कौन सा अर्ली चाइल्डहुड केयर एंड एजुकेशन कार्यक्रम का एक उद्देश्य है?

- Ans
- 1. प्रत्येक बच्चे में प्रतिस्पर्धात्मकता, उत्कृष्टता और देशभक्ति का विकास करना
 - 2. प्रत्येक बच्चे को उनकी पसंद की उच्च शिक्षा के लिए सक्षम करना
 - 3. प्रत्येक बच्चे की क्षमता के अनुसार-प्रत्येक बच्चे की शारीरिक और मोटर विकास के लिए एक स्वस्थ नींव सक्षम करना
 - 4. प्रत्येक बच्चे को उसकी पसंद के प्रतिस्पर्धी खेल के लिए तैयार करना

Question ID : 71939920146

Section : Discipline3

Q.1 यह सुनिश्चित किया जाना चाहिए कि 3 से 6 वर्ष की आयु के बच्चों के लिए अर्ली चाइल्डहुड पहल निम्न के लिए प्रभाव्यता दर्शाता है:

1. परिवार और घर के मूल्य
2. सामाजिक और सांस्कृतिक पृष्ठभूमि
3. उनका तात्कालिक वातावरण
4. समकालीन विश्व के सामने आने वाली समस्याएं

- Ans
- 1. केवल 1, 2 और 4
 - 2. केवल 2, 3 और 4
 - 3. केवल 1, 2 और 3
 - 4. सभी 4

Question ID : 71939920166

Q.2 समाज - वैयक्तिक और संस्थाएं, सामाजिक कानून, रीति-रिवाज जिनके द्वारा मानव व्यवहार को विनियमित किया जाता है, निम्न को गठित करता है:

- Ans
- 1. भौतिक वातावरण
 - 2. भौगोलिक वातावरण
 - 3. मनोवैज्ञानिक वातावरण
 - 4. सामाजिक वातावरण

Question ID : 71939920164

Q.3 इनमें से कौन सा बच्चे के सामाजिक वातावरण का एक हिस्सा है?

- Ans
- 1. त्योहारों
 - 2. मौसम
 - 3. पृथ्वी
 - 4. पानी

Question ID : 71939920165

Q.4 विकासोत्तम शिक्षाशास्त्र के अनुसार, भाषा को किस क्रम में प्रक्रियाओं द्वारा सीखना चाहिए?

1. बोलना 2. सुनना 3. लिखना 4. पढ़ना

- Ans
- 1. बोलना-पढ़ना-सुनना-लिखना
 - 2. पढ़ना-लिखना-सुनना-बोलना
 - 3. सुनना-बोलना-पढ़ना-लिखना
 - 4. पढ़ना-सुनना-लिखना-बोलना

Question ID : 71939920168

Q.5 वाग्बाधा से निम्न परेशानी होती है:

- Ans
- 1. शब्दों और काल का गलत उपयोग
 - 2. सही ध्वनि उत्पादन और चयन
 - 3. शब्दों और काल का गलत उपयोग, वाक्य बनाने में समस्याएं
 - 4. ध्वनियों और शब्दों का समय जो समग्र अबाध भाषण को प्रभावित करता है

Question ID : 71939920159

Q.6 इनमें से कौन सा एक शिक्षक का अवलोकन करने वाला शिक्षक या शिक्षण अवलोकन का एक तरीका है?

- Ans
- 1. यह प्रेक्षित शिक्षक और पर्यवेक्षक शिक्षकों को अपने अभ्यास को लगातार विकसित करने और बेहतर बनाने में मदद करता है।
 - 2. यह संगठन में एक पदानुक्रम बनाता है जिसका उपयोग प्रबंधन द्वारा पदोन्नति से संबंधित निर्णयों के लिए किया जा सकता है।
 - 3. यह शिक्षकों पर अवलोकन के दौरान बेहतर प्रदर्शन करने का दबाव बनाता है इसलिए ध्यान बहुत कम विषयों पर होता है।
 - 4. शिक्षण अवलोकन के माध्यम से एकत्र किया गया डेटा अक्सर अविश्वसनीय होता है।

Question ID : 71939920175

Q.7 प्रबोध, प्रेक्षित शिक्षक, अपने साथियों के साथ एक अवलोकन के बाद की चर्चा में हैं, जो केवल यह कह रहे हैं कि कक्षा उतनी प्रभावी नहीं थी जितनी उन्होंने अपेक्षा की थी। वह अपने साथियों से रचनात्मक प्रतिक्रिया प्राप्त करने के लिए क्या कह सकता है?

- Ans
- 1. वह कौन सी एक क्रिया है जो आपने मुझे करते देखा, या करने में असफल रहा, जिसने आपकी अपेक्षा के अनुरूप मेरी कक्षा को 'उतना प्रभावी नहीं' बनाया?
 - 2. यदि कमरे में हर कोई आपकी आलोचना करने लगे तो आपको कैसा लगेगा? बस मेरी बारी का इंतज़ार करो!
 - 3. क्या आप सब मेरी आलोचना करना बंद कर सकते हैं और देख सकते हैं कि आप सभी कैसे सिखाते हैं? क्या आप जानते हैं कि आपके छात्र आपके पीछे क्या कहते हैं?
 - 4. छोटे बच्चों को पढ़ाने के लिए एक रचनात्मक और परिवर्तनात्मक तरीके का उपयोग करने में आपकी समस्या क्या है?

Question ID : 71939920178

Q.8 प्रतिनिधित्व के विकास के साथ-साथ अमूर्त विचार में _____ योगदान देता है।

- Ans
- 1. विज्ञान
 - 2. संगीत
 - 3. खेल
 - 4. भाषा

Question ID : 71939920161

Q.9 भारत में अर्ली चाइल्डहुड केयर एंड एजुकेशन के बारे में निम्नलिखित में से कौन सा सत्य नहीं है?

- Ans
- 1. यह विभिन्न गतिविधियों के माध्यम से व्यक्तिगत बच्चों की सीखने और भावनात्मक जरूरतों को पूरा करता है।
 - 2. यह एक कार्यक्रम है जो अप्रत्यक्ष रूप से आत्म नियंत्रण को बढ़ावा देता है और इस तरह से बातचीत के माध्यम से बच्चों में आंतरिक अनुशासन बढ़ता है।
 - 3. यह पढ़ने, लिखने और संख्या के काम के विकास की नींव रखता है।
 - 4. यह जानने के लिए परीक्षण आयोजित करने का कार्यक्रम है कि बच्चे कैसे सीख रहे हैं और विकसित हो रहे हैं।

Question ID : 71939920172

Q.10 बाहरी खेल गतिविधियों के लिए इनमें से कौन सी एक आदर्श सामग्री है?

- Ans
- 1. जानवर का खिलौना
 - 2. एक जार में पत्थर
 - 3. एक तालाब में बतख का तैरना
 - 4. दीवार पर चार्ट की संख्या

Question ID : 71939920171

Q.11 किसी भी प्रीस्कूल देखभाल और शिक्षा केंद्र में खेलने के उपकरण और सामग्री की पर्याप्त और विविध आपूर्ति होनी चाहिए:

- Ans
- 1. माता-पिता और समुदाय द्वारा दान दिया गया
 - 2. विकासात्मक और आयु अनुरूप हो
 - 3. बाजार में आसानी से उपलब्ध हो
 - 4. सस्ता और किफायती

Question ID : 71939920174

Q.12 शिक्षक अवलोकन में भाग लेकर कक्षा प्रबंधन से संघर्ष करने वाला शिक्षक अपने कौशल में कैसे सुधार कर सकता है?

- Ans
- 1. वह कक्षा की प्रगति में बाधा डालने के अवसर का उपयोग कर सकता है और यह दिखा सकता है कि वह एकमात्र ऐसा नहीं है जो कक्षा प्रबंधन के साथ संघर्ष करता है।
 - 2. वह कक्षा प्रबंधन को बेहतर तरीके से संभालने के लिए इंटरनेट पर तरीकों को खोजने के लिए समय का उपयोग कर सकता है।
 - 3. वह एक सुरक्षित और समावेशी सीखने के माहौल में एक सहकर्मी का निरीक्षण कर सकता है और समझ सकता है कि कक्षा में व्यवहार की समस्याओं, साथ ही अवसरों को कैसे संभालना है।
 - 4. कक्षा को बेहतर ढंग से प्रबंधित करने में मदद करने के लिए वह सीधे प्रधान अध्यापक को एक सह-शिक्षक नियुक्त करने के लिए कह सकता है।

Question ID : 71939920177

Q.13 शिक्षक अवलोकन के दौरान पर्यवेक्षक शिक्षकों को क्या सावधानी बरतनी चाहिए?

- Ans
- 1. वैकल्पिक दृष्टिकोण के लिए खुले रहें।
 - 2. यदि प्रेक्षित शिक्षक आपकी राय में अच्छा काम नहीं कर रहा है तो विषय को स्वयं पढ़ाने का प्रस्ताव दें।
 - 3. जब भी आपका प्रश्न हो, तब कक्षा को रोकना।
 - 4. निरीक्षण किए गए शिक्षक की खुलकर आलोचना करना।

Question ID : 71939920176

Q.14 क्लाइम्बर, झूले, खेल के मैदान, खेल उपकरण, साइकिल, कूद रस्सी, गेंद और जंगम वस्तु (मूवेबल आइटम), सभी निम्न के उदाहरण हैं:

- Ans
- 1. अपशिष्ट पदार्थ जिसे फेंकने की आवश्यकता है
 - 2. अन्तर्वासी (इनडोर) अध्ययन सामग्री
 - 3. पुनर्नवीनीकरण सामग्री
 - 4. बाहरी खेल की सामग्री

Question ID : 71939920170

Q.15 4 से 6 वर्ष के बच्चों द्वारा प्रदर्शित भाषण विकास में कौन सी महत्वपूर्ण स्थिति हैं?

- Ans
- 1. बड़बड़ाना, अर्थात्, अक्षरों की तरह बोली की दोहराए गई श्रृंखला
 - 2. सटीक भाषण ध्वनि उत्पादन
 - 3. छंद (राइम) और शब्दों में तुकबंदी और ध्वनियों के बारे में जागरूकता
 - 4. बोधगम्य बोली

Question ID : 71939920160

Q.16 _____ को हर बच्चे को उसकी पूरी क्षमता तक पहुँचाने का अवसर प्रदान करके अच्छी तरह से विकसित किया गया है।

- Ans
- 1. राष्ट्रीय आय
 - 2. मानव पूंजी
 - 3. संस्कृति
 - 4. राष्ट्र की उत्पादकता

Question ID : 71939920163

Q.17 अन्तर्वासी (इनडोर) खेल गतिविधियों के लिए इनमें से कौन सी आदर्श सामग्री नहीं है?

- Ans
- 1. ब्लॉक
 - 2. मोतियों की माला
 - 3. स्टैकिंग कप
 - 4. पेड़

Question ID : 71939920169

Q.18 इनमें से कौन सा कल्पनाशील खेल या नाटकीय खेल की सामग्री के लिए एक आदर्श सामग्री नहीं है?

- Ans
- 1. सेन्ड पिट
 - 2. गुड़िया
 - 3. पुराने चश्मे की फ्रेम
 - 4. कठपुतली

Question ID : 71939920173

Q.19 अर्ली चाइल्डहुड केयर का एक बुनियादी पहलू यह है कि शिशुओं और बच्चों को _____ की आवश्यकता होती है जो उन्हें अपनी सभी इंद्रियों का उपयोग करके सक्रिय होने के अवसर प्रदान करते हैं।

- Ans
- 1. चर उत्तेजना
 - 2. मल्टीसेंसरी रूपांतर
 - 3. उत्तेजक प्रतिवेश
 - 4. सुरक्षित वातावरण

Question ID : 71939920162

Q.20 किस आयु वर्ग के बच्चों को पता लगाने, स्पर्श करने, स्वाद लेने, सूंघने और पर्यावरण के लिए प्रतिक्रिया देने के अवसरों की आवश्यकता होती है?

- Ans
- 1. 9 से 18 महीने
 - 2. 4 महीने से 6 महीने
 - 3. जन्म से 3 महीने
 - 4. 7 से 12 महीने

Question ID : 71939920167

Section : Discipline4

Q.1 एक युवा बच्चा जिसे नियमित रूप से बाहर रखा जाता है, छेड़ा जाता है, या एक ही उम्र या बड़े साथियों द्वारा तंग किया जाता है, वह विकसित कर सकता है:

- Ans
- 1. झूठा आत्मविश्वास
 - 2. सहिष्णुता तंत्र
 - 3. कम आत्म सम्मान
 - 4. उच्च आत्म सम्मान

Question ID : 71939920188

Q.2 निम्नलिखित में से कौन सा पाठ की प्रकृति को प्रभावित कर सकता है, जिससे पाठ शिक्षक की सीखने की सामान्य शैली से अनभिज्ञ हो सकता है?

- Ans
- 1. कक्षा में एक शिक्षक की उपस्थिति
 - 2. कक्षा में भाग लेने वाले छात्रों की संख्या
 - 3. दिन का वह समय जब कक्षा आयोजित की जा रही हो
 - 4. प्रेक्षित और पर्यवेक्षक शिक्षक की सापेक्ष वरिष्ठता

Question ID : 71939920181

Q.3 उच्च गुणवत्ता वाले प्रारंभिक बाल्यावस्था कार्यक्रमों और सेवाओं की पहचान करने के लिए समावेशी की जो परिभाषित विशेषताओं का उपयोग किया जा सकता है, वह है:

- Ans
- 1. स्वीकृत और इनाम
 - 2. शर्म और अलगाव
 - 3. पहुंच, भागीदारी और समर्थन
 - 4. विलय, विसर्जित और आत्मसात

Question ID : 71939920192

Q.4 _____ ने व्यावहारिक सीखने के सिद्धांत का प्रस्ताव दिया।

- Ans
- 1. इवान पावलोव
 - 2. एडवर्ड टॉल्मन
 - 3. एरिक एरिकसन
 - 4. वोल्फगैंग कोह्लर

Question ID : 71939920187

Q.5 जॉ प्याज़े संज्ञानात्मक विकास की पहली अवस्था के अनुसार:

- Ans
- 1. बच्चा परिकल्पना बनाकर तर्क कर सकता है
 - 2. बच्चे नकल और खेल के माध्यम से सीखते हैं
 - 3. बच्चा सामान्य गुणों के अनुसार वस्तुओं को वर्गीकृत करने के लिए छोड़ देता है
 - 4. बच्चा सजगता और हाथ-आँख समन्वय विकसित करना शुरू करता है

Question ID : 71939920182

Q.6 अर्ली चाइल्डहुड केयर एंड एजुकेशन (ECCE) कक्षा की व्यवस्था _____ होनी चाहिए, ताकि इसे पाठ योजनाओं और गतिविधियों के लिए समायोजित किया जा सके, जैसे कि गाने, कहानी सुनाने के लिए बड़े समूह और ड्राइंग जैसी गतिविधियों के लिए छोटे समूह।

- Ans
- 1. कठोर
 - 2. स्थिर
 - 3. लचीला
 - 4. अपरिवर्तनशील

Question ID : 71939920196

Q.7 प्रारंभिक _____ जन्म के समय शुरू होता है और यह किसी के लिंग के अनुसार सामाजिक-सांस्कृतिक भूमिका सीखने की प्रक्रिया है।

- Ans
- 1. सामाजिक भेदभाव
 - 2. लैंगिक समाजीकरण
 - 3. सामाजिक विभाजन
 - 4. लैंगिक संवेदीकरण

Question ID : 71939920191

Q.8 यदि वे ऐसा महसूस करते हैं कि पर्यवेक्षक शिक्षक अवलोकन की अपनी प्रतिक्रिया के साथ पूरी तरह से ईमानदार नहीं हो सकते हैं तो:

- Ans
- 1. रचनात्मक प्रतिक्रिया साझा करने से प्रेरित शिक्षक को विद्यालय में बेहतर समझ प्राप्त करने में मदद मिलेगी।
 - 2. यदि वह फीडबैक पर काम करता है तो प्रेरित शिक्षक उनसे आगे निकल जाएगा।
 - 3. उनकी टिप्पणी एक सहयोगी के साथ उनके संबंध को नुकसान पहुंचा सकती है।
 - 4. उनकी टिप्पणी से एक सहयोगी को अपने शिक्षण में सुधार करने में मदद मिल सकती है।

Question ID : 71939920180

Q.9 कम उम्र में बच्चों की विशेष शिक्षा आवश्यकताओं का _____ उन्हें बाद के जीवन में चुनौतियों का सामना करने में मदद करने के लिए महत्वपूर्ण है।

- Ans
- 1. पहचान
 - 2. मूल्यांकन
 - 3. पदोन्नति
 - 4. अलगवाव

Question ID : 71939920189

Q.10 कुपोषित बच्चे:

1. संज्ञानात्मक कार्य के परीक्षणों पर अधिक खराब स्कोर करते हैं
2. खराब साइकोमोटर विकास है
3. गतिविधि का स्तर कम होता है
4. उनके वातावरण में अधिक बार बातचीत करते हैं
5. सामान्य दरों पर कौशल हासिल करते हैं

- Ans
- 1. केवल 2, 3 और 5
 - 2. केवल 1, 2 और 4
 - 3. केवल 1, 2 और 3
 - 4. केवल 2, 3 और 4

Question ID : 71939920193

Q.11 लगभग _____ पर, बच्चे एक "सामाजिक मुस्कान," दूसरों के लिए पहली सामाजिक प्रतिक्रिया देते हैं।

- Ans
- 1. 2 सप्ताह
 - 2. 1 सप्ताह
 - 3. 2 महीने
 - 4. 6 महीने

Question ID : 71939920185

Q.12 भारत में अर्ली चाइल्डहुड केयर एंड एजुकेशन (ECCE) शिक्षकों और देखभालकर्ता (केयरगिवर) को निम्न के लिए प्रशिक्षित किया जाता है:

- Ans
- 1. सक्रिय रूप से लैंगिक पूर्वाग्रह को कक्षा से बाहर रखना
 - 2. कक्षा में लैंगिक पूर्वाग्रह को सक्रिय रूप से बढ़ावा देना
 - 3. कक्षा में लैंगिक पूर्वाग्रह को अनदेखा करना
 - 4. कक्षा में लैंगिक पूर्वाग्रह को सहन करना

Question ID : 71939920190

Q.13 _____ का अर्थ है मानसिक प्रक्रियाएँ अर्थात् सीखना, याद रखना, विचार करना और समस्या का हल निकालना।

- Ans
- 1. मूल्यांकन
 - 2. अनुभूति
 - 3. आकलन
 - 4. प्रशिक्षण

Question ID : 71939920184

Q.14 निम्नलिखित में से कौन प्रस्तावित करता है कि बच्चे अपनी स्मृति में सूचना और ज्ञान को तीन अलग-अलग लेकिन परस्पर संबंधित विधियों जैसे क्रिया-आधारित, छवि आधारित और भाषा/प्रतीक आधारित में प्रस्तुत करते हैं?

- Ans
- 1. यूरी ब्रान्फेनब्रेनर
 - 2. प्याज़े
 - 3. वाइगोत्सकी
 - 4. जेरोम ब्रूनर

Question ID : 71939920186

Q.15 बाल विहार (किंडरगार्टन) की शिक्षाशास्त्र पुस्तक के लेखक कौन हैं?

- Ans
- 1. मारिया मांटेसरी
 - 2. गिजुभाई बडेखा
 - 3. फ्रेडरिक अगस्त प्रोबेल
 - 4. जॉ प्याज़े

Question ID : 71939920197

Q.16 _____ में दोनों चेतन और निर्जीव सभी बाहरी भौतिक परिवेश होते हैं जिन्हें भोजन, वस्त्र और आश्रय प्रदान करने के लिए हेरफेर करना पड़ता है।

- Ans
- 1. मनोवैज्ञानिक वातावरण
 - 2. सामाजिक वातावरण
 - 3. सांस्कृतिक वातावरण
 - 4. भौतिक वातावरण

Question ID : 71939920194

Q.17 एरिक एरिकसन के मनोसामाजिक विकास के चरणों के अनुसार, चरण के सफल समापन पर पूर्व-किशोरावस्था के वर्षों के दौरान कौन से बुनियादी गुण प्राप्त किए जाते हैं?

- Ans
- 1. विश्वस्तता
 - 2. क्षमता
 - 3. बुद्धिमत्ता
 - 4. उद्देश्य

Question ID : 71939920183

Q.18 जब आप अपने सह-शिक्षक या पर्यवेक्षक द्वारा अवलोकन किए जा रहे हैं, तो ध्यान अक्सर निम्न पर होगा:

- Ans
- 1. कक्षा में कौन शोर मचा रहा था।
 - 2. कक्षा में उपस्थित अन्य शिक्षकों के साथ बच्चों ने किस तरह से प्रतिक्रिया व्यक्त की।
 - 3. आपने पाठ के विभिन्न पहलुओं को कितनी अच्छी तरह से किया है।
 - 4. कितने बच्चे उठे और कक्षा के दौरान बाथरूम जाने का ब्रेक मांगा।

Question ID : 71939920179

Q.19 विशेष शिक्षा आवश्यकताओं वाले बच्चे के _____ के क्षेत्रों की पहचान करना महत्वपूर्ण है, और उन पर निर्माण करने के लिए साधन प्रदान करना है।

- Ans
- 1. शक्ति
 - 2. दुर्बलता
 - 3. समावेश
 - 4. मुसीबत

Question ID : 71939920195

Q.20 अर्ली चाइल्डहुड केयर एंड एजुकेशन (ECCE) है:

- Ans
- 1. पाठ्यक्रम-बद्ध कार्यक्रम
 - 2. बाल-केन्द्रित कार्यक्रम
 - 3. शिक्षक-केन्द्रित कार्यक्रम

✗ 4. औपचारिक 'शिक्षण' कार्यक्रम

Question ID : 71939920198

Section : Discipline5

Q.1 _____ से तात्पर्य "एक कक्षा का समूहीकरण है जिसमें विभिन्न आयु और पहचाने गए आयु स्तरों के छात्रों को प्रभावी निर्देश प्रदान करने के उद्देश्य से एक ही कक्षा में एक साथ रखा जाता है।"

- Ans
- ✓ 1. बहु-आयु समूह
 - ✗ 2. सामाजिक शिक्षा
 - ✗ 3. बहुभाषी कक्षा
 - ✗ 4. समावेशी कक्षा

Question ID : 71939920202

Q.2 अर्ली चाइल्डहुड केयर एंड एजुकेशन (ECCE) कार्यक्रम की अवधि होनी चाहिए:

- Ans
- ✓ 1. 4 घंटे
 - ✗ 2. 2 घंटे
 - ✗ 3. 8 घंटे
 - ✗ 4. 6 घंटे

Question ID : 71939920201

Q.3 बाल अधिकारों पर अभिसमय (कन्वेंशन) का _____ बच्चे के शिक्षा के अधिकार को स्थापित करता है।

- Ans
- ✓ 1. अनुच्छेद 29
 - ✗ 2. अनुच्छेद 21
 - ✗ 3. अनुच्छेद 101
 - ✗ 4. अनुच्छेद 3

Question ID : 71939920209

Q.4 एक बच्चा जिसको एक उच्च स्तर की जिज्ञासा है, अच्छी तरह से विकसित कल्पना है, और अधिकतम जानकारी याद रख सकता है और बनाए रख सकता है, वह:

- Ans
- ✓ 1. प्रतिभाशाली बच्चे
 - ✗ 2. सामान्य बच्चा
 - ✗ 3. विकलांग बच्चा
 - ✗ 4. मंदबुद्धि बालक

Question ID : 71939920205

Q.5 डिस्लेक्सिया एक _____ विकार है।

- Ans
- ✗ 1. भौतिक
 - ✓ 2. विकासात्मक
 - ✗ 3. संवेदी क्षति
 - ✗ 4. व्यवहार

Question ID : 71939920204

Q.6 समन्वित बाल विकास योजना (ICDS) _____ और 6 वर्ष से कम उम्र के छोटे बच्चों को सेवा प्रदान करते है।

- Ans
- 1. विशेष आवश्यकता वाले बच्चे
 - 2. किशोरों
 - 3. वंचित और BPL परिवारों के बच्चे और महिलाएं
 - 4. गर्भवती महिलाओं, माताओं

Question ID : 71939920216

Q.7 _____ माता-पिता उचित और पोषण करते हैं, और उच्च, स्पष्ट अपेक्षाएं निर्धारित करते हैं।

- Ans
- 1. आधिकारिक
 - 2. पुरस्कृत
 - 3. सत्तावादी
 - 4. असंबद्ध

Question ID : 71939920217

Q.8 दीवार पर बच्चों की कलाकृति और परियोजनाओं का प्रदर्शन निम्नलिखित सभी कार्य करता है, सिवाय:

- Ans
- 1. माता-पिता भी अपने बच्चों पर गर्व महसूस करते हैं और विद्यालय की गतिविधियों में अधिक सक्रिय रुचि लेते हैं।
 - 2. बच्चों के बीच सीखने को पुष्ट करता है।
 - 3. बच्चों के आत्म-सम्मान को बढ़ावा देता है क्योंकि उन्हें लगता है कि उनके काम को महत्व दिया गया है।
 - 4. इस तरह की सामग्री की बिक्री विद्यालय के लिए आवश्यक धन कमा सकती है।

Question ID : 71939920213

Q.9 निम्नलिखित में से किसने देखा कि बच्चे सामाजिक और सांस्कृतिक अनुभवों में सक्रिय रूप से लगे हुए हैं और सीखने और विकास की प्रक्रिया में बच्चों और अधिक अनुभवी अन्य लोगों के बीच सक्रिय बातचीत होती है?

- Ans
- 1. जेरोम ब्रूनर
 - 2. लिव वाइगोत्सकी
 - 3. यूरी ब्रान्फेनब्रेनर
 - 4. जॉं प्याज़े

Question ID : 71939920212

Q.10 परवरिश की किस शैली में संचार अवसर होता है और बच्चे की समझ के स्तर के लिए उपयुक्त है, अपेक्षाएं और लक्ष्य उच्च हैं, लेकिन स्पष्ट रूप से कहा गया है?

- Ans
- 1. पुरस्कृत
 - 2. सत्तावादी
 - 3. असंबद्ध
 - 4. आधिकारिक

Question ID : 71939920214

Q.11 परिवार, सहकर्मी समूहों, आस-पड़ोस, चर्चों, संगठनों, व्यवसायों, मास मीडिया और अन्य सामाजिक बलों के बड़े पैमाने पर चल रहे, अनौपचारिक पाठ्यचर्या, जो हमारे पूरे जीवन भर में हम सभी को "शिक्षित" करते हैं, उसे कहा जाता है:

- Ans
- 1. कोवर्ट पाठ्यचर्या
 - 2. फैटम पाठ्यचर्या
 - 3. अपरोक्ष पाठ्यचर्या
 - 4. सोसिटल पाठ्यचर्या

Question ID : 71939920199

Q.12 _____ देखभाल वातावरण के लिए प्रासंगिक स्थानीय और पारिवारिक संस्कृति लाने में मदद करता है, जो छोटे बच्चों को घर से देखभाल की सेटिंग में परिवर्तनकाल में मदद करता है।

- Ans
- 1. माता-पिता को शामिल करना
 - 2. सामाजिक स्व-सहायता समूहों के साथ काम करना
 - 3. सामुदायिक कार्यकर्ताओं के साथ काम करना
 - 4. स्थानीय नेताओं को शामिल करना

Question ID : 71939920211

Q.13 एक सिखने वाला विकलांग छात्र यह सभी है, सिवाय:

- Ans
- 1. जटिल अवधारणाओं को समझने में सक्षम है
 - 2. एक कम सहिष्णुता स्तर और एक उच्च निराशा स्तर है
 - 3. आसानी से विचलित होता है
 - 4. खराब श्रवण स्मृति है - अल्पावधि और दीर्घावधि दोनों

Question ID : 71939920208

Q.14 विशेष आवश्यकताओं वाले बच्चों के लिए इनमें से कौन सी उपयुक्त शिक्षण रणनीति नहीं है?

- Ans
- 1. ठोस वस्तुओं और घटनाओं को प्रदान करना
 - 2. अमूर्त नियम और अवधारणाएं सिखाना
 - 3. मौखिक निर्देश देना
 - 4. बहुत सारी विशिष्ट प्रशंसा देना

Question ID : 71939920207

Q.15 अर्ली चाइल्डहुड केयर एंड एजुकेशन (ECCE) कार्यक्रम की सिफारिश है कि माता-पिता को:

- Ans
- 1. औपचारिक सीखने को प्रोत्साहित करना
 - 2. ECCE शिक्षकों और देखभालकर्ता (केयरगिवर) के साथ उनके विकास को साझा करना और उनकी योजना बनाना
 - 3. घर पर खोज और प्रयोग को हतोत्साहित करें
 - 4. बच्चों को प्रतियोगिता के लिए प्रेरित करना

Question ID : 71939920218

Q.16 _____ में संरचित जानकारी शामिल है ताकि जटिल विचारों को पहले एक सरलीकृत स्तर पर पढ़ाया जा सके जहां बच्चे ठोस अनुभवों के माध्यम से अधिक सीखते हैं, और फिर बाद में और अधिक जटिल स्तरों पर फिर से दोहराया जाता है।

- Ans
- 1. हिडेन पाठ्यचर्या
 - 2. अपरोक्ष पाठ्यचर्या
 - 3. स्पाइरल पाठ्यचर्या

✗ 4. फैंटम पाठ्यचर्या

Question ID : 71939920200

Q.17 _____ डायने बुमिंड द्वारा पहचानी जाने वाली परवरिश शैलियों में से एक है।

- Ans
- ✗ 1. दिशात्मक
 - ✓ 2. सत्तावादी
 - ✗ 3. सभ्य
 - ✗ 4. एकतंत्रीय

Question ID : 71939920210

Q.18 _____ का उद्देश्य बच्चों और उनके परिवारों को कार्यक्रम प्रदान करने वाले वयस्कों को बच्चों के सीखने और विकास के बारे में उपयोगी जानकारी देना है।

- Ans
- ✗ 1. शिक्षा
 - ✓ 2. आकलन
 - ✗ 3. पाठ्यचर्या
 - ✗ 4. सर्किल टाइम

Question ID : 71939920203

Q.19 बाल अधिकारों पर अभिसमय (कन्वेंशन) का अनुच्छेद 18 बताता है कि राज्यों को यह सुनिश्चित करने के लिए सभी उचित उपाय करने चाहिए कि बच्चे:

- Ans
- ✗ 1. गरीबी रेखा से नीचे के लोगों को मुफ्त भोजन या भोजन कूपन मिलता है।
 - ✗ 2. बच्चों को विद्यालय में मध्याह्न भोजन मिलता है।
 - ✗ 3. अल्पसंख्यक समुदायों को पर्याप्त देखभाल और सीखने के अवसर प्राप्त होते हैं।
 - ✓ 4. कामकाजी माता-पिता को बाल देखभाल सेवाओं और सुविधाओं से लाभ पाने का अधिकार है, जिसके लिए वे पात्र हैं।

Question ID : 71939920215

Q.20 ध्यानाभाव एवं अतिसक्रियता विकार (ADHD) बच्चा:

- Ans
- ✗ 1. अक्सर एक स्वतंत्र शिक्षार्थी होता है।
 - ✗ 2. विस्तारित समय के लिए किसी समस्या या मुद्दे पर ध्यान केंद्रित करने की क्षमता है।
 - ✗ 3. जटिल अवधारणाओं को समझने में सक्षम है।
 - ✓ 4. स्थिर बैठने में कठिनाई है, ध्यान देना और कक्षा के कार्य पर ध्यान केंद्रित करना।

Question ID : 71939920206