

Examination for Selection Posts Phase VIII 2020 06th Nov 2020 S3

Roll Number	
Candidate Name	www.exammix.com
Venue Name	
Exam Date	06/11/2020
Exam Time	4:00 PM - 5:00 PM
Subject	Examination for Selection Posts Phase VIII 2020 Higher Secondary level

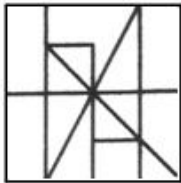
Section : General Intelligence

Q.1 उस विकल्प का चयन करें, जिसमें दी गई आकृति (x) सन्निहित (embedded) है, (रोटेशन (घुमाने) की अनुमति नहीं है)।

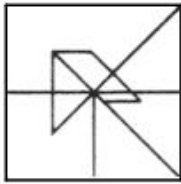


Ans

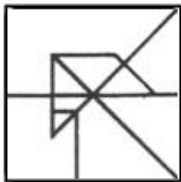
✓ 1.



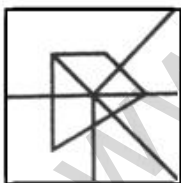
✗ 2.



✗ 3.



✗ 4.







Question ID : 8161614735

Status : Answered

Chosen Option : 1

Q.2 वह विकल्प चुनें जो दिए गए शब्दों का सही क्रम दर्शाता है, जिस क्रम में वे अंग्रेजी शब्दकोश में होने चाहिए।

1. Sophisticated
2. Southeastern
3. Songwriter
4. Soubriquet
5. Sousaphone

Ans  1. 1, 3, 2, 5, 4
 2. 1, 3, 2, 4, 5
 3. 3, 1, 4, 5, 2
 4. 3, 1, 5, 4, 2

Question ID : 8161614715

Status : Answered

Chosen Option : 2





Q.3 दो कथन के बाद दो निष्कर्ष I और II दिए गए हैं। यह मानते हुए कि कथन सत्य हैं, भले ही ये सामान्य रूप से ज्ञात तथ्यों से असंगत प्रतीत होते हों, निर्धारित करें कि दिए गए निष्कर्षों में से कौन-सा/से, कथनों का तार्किक रूप से अनुसरण करता है/ करते हैं।

कथन:

1. कुछ कुर्सियां, स्टूल हैं।
2. सभी फ्रेम, स्टूल हैं।

निष्कर्ष:

- I. कुछ स्टूल, फ्रेम हैं।
- II कुछ स्टूल, कुर्सियां हैं।

Ans  1. न तो निष्कर्ष I और न ही II अनुसरण करता है।
 2. केवल निष्कर्ष I अनुसरण करता है।
 3. निष्कर्ष I और II दोनों अनुसरण करते हैं।
 4. केवल निष्कर्ष II अनुसरण करता है।

Question ID : 8161614728

Status : Answered

Chosen Option : 3

Q.4 राम, मोहन का पुत्र और रमेश का भाई है। श्रेया, श्वेता की पुत्री और राम की बहन है। श्वेता, मोहन से किस प्रकार संबंधित है?

Ans  1. बहन
 2. पिता
 3. पुत्री
 4. पत्नी

Question ID : 8161614726

Status : Answered

Chosen Option : 2

Q.5 किसी निश्चित कूट भाषा में, STRIVE को DWLREF और MEDALS को JFVZQD लिखा जाता है, तो उसी भाषा में SLAVE को किस प्रकार लिखा जाएगा?

- Ans
- ☒ 1. DZQFE
 - ☒ 2. DZQEF
 - ☒ 3. DQZEF
 - ☒ 4. DQZFE

Question ID : 8161614719
Status : Answered
Chosen Option : 3

Q.6 दिए गए संयोजन (combination) के दाईं ओर दर्पण रखने पर प्राप्त सही दर्पण प्रतिबिंब चुनें।

TECHNICALPOWER

- Ans
- ☒ 1. TECHNICALPOWER
 - ☒ 2. TECHNICALPOWER
 - ☒ 3. REWOLATINHCET
 - ☒ 4. REWOLATINHCET

Question ID : 8161614736
Status : Answered
Chosen Option : 3

Q.7 निम्न दी गई श्रृंखला में, कौन-सी संख्या प्रश्नवाचक चिह्न (?) की जगह पर आएगी।

3, 8, 15, 25, 40, 62, 95, ?

- Ans
- ☒ 1. 141
 - ☒ 2. 111
 - ☒ 3. 144
 - ☒ 4. 114

Question ID : 8161614730
Status : Answered
Chosen Option : 4

Q.8 उस विकल्प का चयन करें, जो तीसरी संख्या से ठीक उसी प्रकार संबंधित है, जिस प्रकार दूसरी संख्या, पहली संख्या से और छठी संख्या पाँचवीं संख्या से संबंधित है।

21 : 112 :: 36 : ? :: 51 : 272

- Ans
- ☒ 1. 192
 - ☒ 2. 72
 - ☒ 3. 252
 - ☒ 4. 198

Question ID : 8161614731
Status : Not Answered
Chosen Option : --

Q.9 उस विकल्प का चयन करें, जो तीसरे अक्षर-समूह से ठीक उसी प्रकार संबंधित है, जिस प्रकार दूसरा अक्षर-समूह पहले अक्षर-समूह से संबंधित है।

FRAME : CUWQZ :: RICOH : _____.

- Ans
- ☒ 1. OKYRC
 - ☒ 2. OLXSC
 - ☒ 3. OKXRC
 - ☒ 4. OLYSC

Question ID : 8161614712

Status : Answered

Chosen Option : 4

Q.10 किसी निश्चित कूट भाषा में, MUSICAL को XQREQWH लिखा जाता है, तो उसी भाषा में REPLACE को किस प्रकार लिखा जाएगा?

- Ans
- ☒ 1. UAWHIFYJ
 - ☒ 2. WAUHJYF
 - ☒ 3. WAUHFYJ
 - ☒ 4. UAWHJYF

Question ID : 8161614718

Status : Not Answered

Chosen Option : --

Q.11 अक्षरों के उस संयोजन का चयन करें, जिसे दी गई अक्षर-श्रृंखला के रिक्त स्थानों में, क्रमिक रूप से रखे जाने पर श्रृंखला पूर्ण होगी।

kb_fg_k_df_tkbd_gtkbdf_t

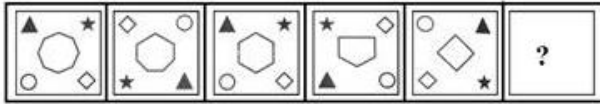
- Ans
- ☒ 1. t, d, b, g, f, g
 - ☒ 2. d, t, b, g, f, g
 - ☒ 3. t, d, g, b, g, f
 - ☒ 4. d, t, g, f, b, g

Question ID : 8161614725

Status : Answered

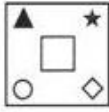
Chosen Option : 2

Q.12 उस आकृति का चयन करें, जो निम्न आकृति श्रेणी में आगे आएगी।



Ans

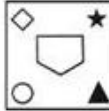
✗ 1.



✗ 2.



✗ 3.



✓ 4.



Question ID : 8161614733

Status : Answered

Chosen Option : 4

Q.13 संख्या और चिन्हों के उस परस्पर अंतर्बदल का चयन करें, जो दिए गए समीकरण को संतुलित करेगा।

$$5 \div 10 \times 12 + 14 - 7 = 88$$

Ans

✗ 1. 5 और 7, + और -

✗ 2. 14 और 7, × और ÷

✓ 3. 10 और 5, - और ×

✗ 4. 5 और 12, + और -

Question ID : 8161614732

Status : Not Answered

Chosen Option : --

Q.14 यदि किसी निश्चित कूट भाषा में DRIVER को 74 और SPIRIT को 89 लिखा जाता है, तो RENAME को किस प्रकार लिखा जाएगा?

Ans

✓ 1. 54

✗ 2. 50

✗ 3. 51

✗ 4. 52

Question ID : 8161614721

Status : Answered

Chosen Option : 1

Q.15 उस विकल्प का चयन करें, जो तीसरे अक्षर-समूह से ठीक उसी प्रकार संबंधित है, जिस प्रकार दूसरा अक्षर-समूह पहले अक्षर-समूह से संबंधित है।

CONTROL : FTUGOJE :: PROVOKE : _____.

- Ans
- ☒ 1. SWVFFLX
 - ☒ 2. SWVEFLX
 - ☒ 3. SWVELFX
 - ☒ 4. SVWELFX

Question ID : 8161614713

Status : Answered

Chosen Option : 3

Q.16 सही विकल्प का चयन करें, जो निम्न शब्दों का तार्किक और सार्थक क्रम विन्यास दर्शाता है।

1. कुत्ता
2. भैंस
3. कछुआ
4. मच्छर
5. बाघ

- Ans
- ☒ 1. 2, 5, 3, 1, 4
 - ☒ 2. 4, 1, 5, 3, 2
 - ☒ 3. 2, 3, 5, 1, 4
 - ☒ 4. 4, 3, 1, 5, 2

Question ID : 8161614714

Status : Answered

Chosen Option : 4

Q.17 एक ही पासे की तीन भिन्न-भिन्न स्थितियों को दर्शाया गया है।



वह संख्या ज्ञात करें जो संख्या 4 वाले फलक के विपरीत फलक पर होगी।

- Ans
- ☒ 1. 2
 - ☒ 2. 3
 - ☒ 3. 6
 - ☒ 4. 1

Question ID : 8161614734

Status : Answered

Chosen Option : 1

Q.18 किसी निश्चित कूट भाषा में, ARTICLE को 71451122203 लिखा जाता है, तो उसी कूट भाषा में FABULOUS को किस प्रकार लिखा जाएगा?

- Ans
- ☒ 1. 2022171423437
 - ☒ 2. 2123151423436
 - ☒ 3. 8342314172321
 - ☒ 4. 2123171423438

Question ID : 8161614723

Status : Not Answered

Chosen Option : --

Q.19 उस अक्षर का चयन करें, जो निम्न श्रेणी में प्रश्नवाचक चिह्न (?) के स्थान पर आएगा।

F, J, G, K, H, L, I, ?

- Ans
- ☒ 1. P
 - ☒ 2. F
 - ☒ 3. N
 - ☒ 4. M

Question ID : 8161614724

Status : Answered

Chosen Option : 4

Q.20 दो कथन के बाद चार निष्कर्ष I, II, III और IV दिए गए हैं। यह मानते हुए कि कथन सत्य हैं, भले ही ये सामान्य रूप से ज्ञात तथ्यों से असंगत प्रतीत होते हों, निर्धारित करें कि दिए गए निष्कर्षों में से कौन-सा/से, कथनों का तार्किक रूप से अनुसरण करता है/ करते हैं।

कथन:

- 1) सभी चटाइयां, बैन हैं।
- 2) कुछ खाट, बैन हैं।

निष्कर्ष:

- I. सभी चटाइयां, खाट हैं।
- II. सभी खाट, चटाइयां हैं।
- III. कुछ बैन, खाट हैं।
- IV. सभी बैन, चटाइयां हैं।

- Ans
- ☒ 1. निष्कर्ष II और III दोनों अनुसरण करते हैं।
 - ☒ 2. केवल निष्कर्ष IV अनुसरण करता है।
 - ☒ 3. केवल निष्कर्ष III अनुसरण करता है।
 - ☒ 4. केवल निष्कर्ष I अनुसरण करता है।

Question ID : 8161614729

Status : Answered

Chosen Option : 3

Q.21 निम्न जानकारी को ध्यान से पढ़ें और नीचे दिए गए प्रश्न का उत्तर दें:

'A + B' का अर्थ है कि 'A, B का पिता है'।

'A - B' का अर्थ है कि 'A, B का पति है'।

'A × B' का अर्थ है कि 'A, B की पुत्री है'।

'A ÷ B' का अर्थ है कि 'A, B की बहन है'।

यदि $P + M \div Q \times N \times T - U$ है, तो P, N से किस प्रकार संबंधित है?

Ans

✓ 1. पति

✗ 2. भाई

✗ 3. चाचा

✗ 4. पुत्र

Question ID : 8161614727

Status : Not Answered

Chosen Option : --

Q.22 यदि किसी निश्चित कूट भाषा में ACTION को 2621865 और CAMPER को 6247109 लिखा जाता है, तो SOLUTE को किस प्रकार लिखा जाएगा?

Ans

✗ 1. 10434210

✗ 2. 81633120

✓ 3. 10633210

✗ 4. 81363120

Question ID : 8161614722

Status : Answered

Chosen Option : 1

Q.23 किसी निश्चित कूट भाषा में, FUTILE को EGTVSUHKMDF लिखा जाता है, तो उसी भाषा में HELPFUL को किस प्रकार लिखा जाएगा?

Ans

✗ 1. GIDFKMQREGTVKM

✗ 2. IJDFKMOQEGTVKM

✓ 3. GIDFKMOQEGTVKM

✗ 4. GIDFKMOQEGTVMN

Question ID : 8161614720

Status : Answered

Chosen Option : 4

Q.24 जिस प्रकार 'आदर करना (Respect)', 'अपमान करना (Offend)' से संबंधित है, उसी प्रकार 'नाजुक (Fragile)', '_____', से संबंधित है।

- Ans
- ☒ 1. कमजोर (Feeble)
 - ☒ 2. दृढ़ (Firm)
 - ☒ 3. कोमल (Delicate)
 - ☒ 4. बाधा (Obstruction)

Question ID : 8161614717
Status : Answered
Chosen Option : 3

Q.25 यदि जिस प्रकार 'जोड़ (Joints)', 'गठिया (Arthritis)' से संबंधित है, तो ठीक उसी प्रकार '_____', 'राइमाइटिस' से संबंधित है।

- Ans
- ☒ 1. मूत्राशय
 - ☒ 2. उदर
 - ☒ 3. नाक
 - ☒ 4. आंत

Question ID : 8161614716
Status : Answered
Chosen Option : 2

Section : English Language

Q.1 Select the most appropriate antonym of the given word.

ENLIVEN

- Ans
- ☒ 1. dishearten
 - ☒ 2. create
 - ☒ 3. brighten
 - ☒ 4. withhold

Question ID : 8161614746
Status : Answered
Chosen Option : 3

Q.2 Select the most appropriate one-word substitution for the given words.

A disease that is found in a particular place and is difficult to get rid of

- Ans
- ☒ 1. Chronic
 - ☒ 2. Infection
 - ☒ 3. Pandemic
 - ☒ 4. Endemic

Question ID : 8161614750
Status : Answered
Chosen Option : 3

Q.3 Select the most appropriate option to fill in the blank in the given sentence.

Will someone please help me lift _____ heavy box?

- Ans
- ☒ 1. this
 - ☐ 2. these
 - ☐ 3. those
 - ☐ 4. them

Question ID : 8161614743
Status : Answered
Chosen Option : 2

Q.4 Select the most appropriate meaning of the following idiom.

Be on a high alert

- Ans
- ☒ 1. Be watchful and ready to take action
 - ☐ 2. Be known widely for your actions
 - ☐ 3. Be very much in demand for something
 - ☐ 4. Likely to face problems due to a wrong action

Question ID : 8161614748
Status : Answered
Chosen Option : 4

Q.5 Select the most appropriate meaning of the following idiom.

See eye to eye

- Ans
- ☐ 1. Have different ideas
 - ☐ 2. Encourage someone
 - ☐ 3. Understand the reason
 - ☒ 4. Have similar views

Question ID : 8161614747
Status : Not Answered
Chosen Option : --

Q.6 Select the most appropriate option to substitute the underlined segment in the given sentence. If there is no need to substitute it, select 'no substitution'.

The market was crowded with shoppers and I was feel very uncomfortable.

- Ans
- ☐ 1. am feeling
 - ☐ 2. no substitution
 - ☒ 3. was feeling
 - ☐ 4. was felt

Question ID : 8161614742
Status : Not Answered
Chosen Option : --

Q.7 Select the correct indirect form of the given sentence.

Mother said to Ravi, "Get me the newspaper."

- Ans ☒ 1. Mother told Ravi to get her the newspaper.
☐ 2. Mother said Ravi to get me the newspaper.
☐ 3. Mother said to Ravi to got her the newspaper.
☐ 4. Mother asks Ravi to get her the newspaper.

Question ID : 8161614740
Status : Answered
Chosen Option : 1

Q.8 Select the most appropriate one-word substitution for the given words.

A large bedroom for a number of people in a school or institution

- Ans ☒ 1. Dormitory
☐ 2. Observatory
☐ 3. Mansion
☐ 4. Cloakroom

Question ID : 8161614749
Status : Answered
Chosen Option : 4

Q.9 Select the most appropriate synonym of the given word.

SURVEY

- Ans ☐ 1. request
☒ 2. examine
☐ 3. ignore
☐ 4. trial

Question ID : 8161614745
Status : Answered
Chosen Option : 2

Q.10 Select the correct passive form of the given sentence.

I am learning a new language this year.

- Ans ☐ 1. A new language is going to be learnt by me this year.
☒ 2. A new language is being learnt by me this year.
☐ 3. A new language was being learnt by me this year.
☐ 4. A new language has been learnt by me this year.

Question ID : 8161614739
Status : Answered
Chosen Option : 4

Q.11 Select the correct indirect form of the given sentence.

Sumit said to the assistant, "Why are you taking a printout of this document?"

- Ans
- ☒ 1. Sumit asked the assistant why are they taking a printout of that document.
 - ☒ 2. Sumit asked the assistant why he was taking a printout of that document.
 - ☒ 3. Sumit ask the assistant why he is taking a printout of this document.
 - ☒ 4. Sumit asks to the assistant why he was taking a printout of that document.

Question ID : 8161614741

Status : Answered

Chosen Option : 4

Q.12 Identify the segment in the sentence which contains the grammatical error.

The diagrams should be draw and label neatly.

- Ans
- ☒ 1. The diagrams
 - ☒ 2. should be
 - ☒ 3. neatly
 - ☒ 4. draw and label

Question ID : 8161614737

Status : Not Answered

Chosen Option : --

Q.13 Identify the word that is misspelt.

- Ans
- ☒ 1. Arrogence
 - ☒ 2. Grammar
 - ☒ 3. Appeal
 - ☒ 4. Illumination

Question ID : 8161614751

Status : Answered

Chosen Option : 2

Q.14 Select the correct passive form of the given sentence.

Rosy paints beautiful landscapes.

- Ans
- ☒ 1. Beautiful landscapes are being painted by Rosy.
 - ☒ 2. Beautiful landscapes is being painted by Rosy.
 - ☒ 3. Beautiful landscapes were painted by Rosy.
 - ☒ 4. Beautiful landscapes are painted by Rosy.

Question ID : 8161614738

Status : Not Answered

Chosen Option : --

Q.15 Given below are four sentences which are jumbled. Pick the option that gives the correct order.

- A. Sew the two rectangular pieces together all the way to make a double layer.
- B. Finally sew the elastic straps to the mask along the long edges.
- C. Now make three evenly spaced pleats in the sewn rectangles.
- D. In order to make a face mask, take 2 rectangular pieces of cotton fabric that measure about 7 inches by 9 inches.

- Ans
- ☒ 1. ADCB
 - ☒ 2. ACBD
 - ☒ 3. DACB
 - ☒ 4. DABC

Question ID : 8161614744

Status : Answered

Chosen Option : 3

Comprehension:

In the following passage, some words have been deleted. Fill in the blanks with the help of the alternatives given. Select the most appropriate option for each number.

I went out and bought all sorts of small gifts and then headed to the more expensive outlets (1)_____ the mall. I picked up little things, things I knew my mother would (2)_____ I took them home and wrapped each one (3)_____ using all kinds of packing material. Then I made a card for each one. After doing that, I (4)_____ the gift off outside my mother's doorway and called her, pretending to (5)_____ about her health. She was bubbling over. She told me someone had left a gift for her and signed it 'Secret Santa'.

SubQuestion No : 16

Q.16 Select the most appropriate word to fill in blank no. 1.

- Ans
- ☒ 1. with
 - ☒ 2. to
 - ☒ 3. in
 - ☒ 4. for

Question ID : 8161614753

Status : Answered

Chosen Option : 3

Comprehension:

In the following passage, some words have been deleted. Fill in the blanks with the help of the alternatives given. Select the most appropriate option for each number.

I went out and bought all sorts of small gifts and then headed to the more expensive outlets (1)_____ the mall. I picked up little things, things I knew my mother would (2)_____ I took them home and wrapped each one (3)_____ using all kinds of packing material. Then I made a card for each one. After doing that, I (4)_____ the gift off outside my mother's doorway and called her, pretending to (5)_____ about her health. She was bubbling over. She told me someone had left a gift for her and signed it 'Secret Santa'.

SubQuestion No : 17

Q.17 Select the most appropriate word to fill in blank no. 2.

- Ans
- ☒ 1. love
 - ☒ 2. loves
 - ☒ 3. loved
 - ☒ 4. loving

Question ID : 8161614754

Status : Answered

Chosen Option : 1

Comprehension:

In the following passage, some words have been deleted. Fill in the blanks with the help of the alternatives given. Select the most appropriate option for each number.

I went out and bought all sorts of small gifts and then headed to the more expensive outlets (1)_____ the mall. I picked up little things, things I knew my mother would (2)_____ I took them home and wrapped each one (3)_____ using all kinds of packing material. Then I made a card for each one. After doing that, I (4)_____ the gift off outside my mother's doorway and called her, pretending to (5)_____ about her health. She was bubbling over. She told me someone had left a gift for her and signed it 'Secret Santa'.

SubQuestion No : 18

Q.18 Select the most appropriate word to fill in blank no. 3.

- Ans**
- ☒ 1. severely
 - ☒ 2. differently
 - ☒ 3. openly
 - ☒ 4. closely

Question ID : **8161614755**

Status : **Answered**

Chosen Option : **2**

Comprehension:

In the following passage, some words have been deleted. Fill in the blanks with the help of the alternatives given. Select the most appropriate option for each number.

I went out and bought all sorts of small gifts and then headed to the more expensive outlets (1)_____ the mall. I picked up little things, things I knew my mother would (2)_____ I took them home and wrapped each one (3)_____ using all kinds of packing material. Then I made a card for each one. After doing that, I (4)_____ the gift off outside my mother's doorway and called her, pretending to (5)_____ about her health. She was bubbling over. She told me someone had left a gift for her and signed it 'Secret Santa'.

SubQuestion No : 19

Q.19 Select the most appropriate word to fill in blank no. 4.

- Ans**
- ☒ 1. am dropping
 - ☒ 2. dropped
 - ☒ 3. was dropped
 - ☒ 4. drops

Question ID : **8161614756**

Status : **Answered**

Chosen Option : **2**

Comprehension:

In the following passage, some words have been deleted. Fill in the blanks with the help of the alternatives given. Select the most appropriate option for each number.

I went out and bought all sorts of small gifts and then headed to the more expensive outlets (1)_____ the mall. I picked up little things, things I knew my mother would (2)_____ I took them home and wrapped each one (3)_____ using all kinds of packing material. Then I made a card for each one. After doing that, I (4)_____ the gift off outside my mother's doorway and called her, pretending to (5)_____ about her health. She was bubbling over. She told me someone had left a gift for her and signed it 'Secret Santa'.

SubQuestion No : 20

Q.20 Select the most appropriate word to fill in blank no. 5.

- Ans ☒ 1. enquire
☒ 2. request
☒ 3. withhold
☒ 4. examine

Question ID : 8161614757

Status : Answered

Chosen Option : 1

Comprehension:

Read the given passage and answer the questions that follow.

The small Texas school that I went to had a tradition carried out every year during the eighth-grade graduation: a beautiful gold and green jacket (the school colours) was awarded to the student who had maintained the grade for eight years.

The scholarship jacket — a beautiful gold and green jacket had a big gold S on the left front side and your name written in gold letters on the pocket.

My oldest sister, Rosie, had won the jacket a few years back, and I fully expected to also. I had been a straight 'A' student since the first grade and in the eighth grade had looked forward very much to owning that jacket.

My father was a farm labourer who couldn't earn enough money to feed eight children, so when I was six I was given to my grandparents to raise. We couldn't participate in sports at school because there were registration fees, uniform costs, and trips out of town; so, even though our family was quite agile and athletic there would never be a school sports jacket for us. This one, the scholarship jacket, was our only chance.

Another hour of sweating in basketball was coming up and I was walking up to the gym.

Then I remembered my P.E. shorts and I had to walk all the way back and get them.

I was almost back at my classroom door when I heard voices raised in anger as if in some sort of argument.

I recognised the voices: Mr. Schmidt, my history teacher, and Mr. Boone, my math teacher, seemed to be arguing about me. I heard them say 'Martha' and I couldn't believe it. "Martha has a straight A-plus average and you know it." That was Mr. Schmidt and he sounded very angry. "I refuse to do it! I don't care who Joann's father is, her grades don't even begin to compare to Martha's," he continued. My heart sank.

SubQuestion No : 21

Q.21 The narrator's 'heart sank'. She was worried because:

- Ans ☒ 1. she heard Mr. Boone say that her grades were not good
☒ 2. they were both arguing about her performance in sports
☒ 3. Mr. Boone, the math teacher was arguing in her favour
☒ 4. Mr. Schmidt, the history teacher, was having to defend her though she was the best student

Question ID : 8161614763

Status : Not Answered

Chosen Option : --

Comprehension:

Read the given passage and answer the questions that follow.

The small Texas school that I went to had a tradition carried out every year during the eighth-grade graduation: a beautiful gold and green jacket (the school colours) was awarded to the student who had maintained the grade for eight years.

The scholarship jacket — a beautiful gold and green jacket had a big gold S on the left front side and your name written in gold letters on the pocket.

My oldest sister, Rosie, had won the jacket a few years back, and I fully expected to also. I had been a straight 'A' student since the first grade and in the eighth grade had looked forward very much to owning that jacket.

My father was a farm labourer who couldn't earn enough money to feed eight children, so when I was six I was given to my grandparents to raise. We couldn't participate in sports at school because there were registration fees, uniform costs, and trips out of town; so, even though our family was quite agile and athletic there would never be a school sports jacket for us. This one, the scholarship jacket, was our only chance.

Another hour of sweating in basketball was coming up and I was walking up to the gym. Then I remembered my P.E. shorts and I had to walk all the way back and get them.

I was almost back at my classroom door when I heard voices raised in anger as if in some sort of argument.

I recognised the voices: Mr. Schmidt, my history teacher, and Mr. Boone, my math teacher, seemed to be arguing about me. I heard them say 'Martha' and I couldn't believe it. "Martha has a straight A-plus average and you know it." That was Mr. Schmidt and he sounded very angry. "I refuse to do it! I don't care who Joann's father is, her grades don't even begin to compare to Martha's," he continued. My heart sank.

SubQuestion No : 22

Q.22 The narrator says, "I looked forward very much to owning that jacket," because:

- Ans
- ☒ 1. it was a beautiful jacket
 - ☒ 2. the jacket had the school name on it
 - ☒ 3. she had been an A grade student for 8 years
 - ☒ 4. she wanted to prove to her teachers that she was good

Question ID : 8161614761

Status : Not Answered

Chosen Option : --

Comprehension:

Read the given passage and answer the questions that follow.

The small Texas school that I went to had a tradition carried out every year during the eighth-grade graduation: a beautiful gold and green jacket (the school colours) was awarded to the student who had maintained the grade for eight years.

The scholarship jacket — a beautiful gold and green jacket had a big gold S on the left front side and your name written in gold letters on the pocket.

My oldest sister, Rosie, had won the jacket a few years back, and I fully expected to also. I had been a straight 'A' student since the first grade and in the eighth grade had looked forward very much to owning that jacket.

My father was a farm labourer who couldn't earn enough money to feed eight children, so when I was six I was given to my grandparents to raise. We couldn't participate in sports at school because there were registration fees, uniform costs, and trips out of town; so, even though our family was quite agile and athletic there would never be a school sports jacket for us. This one, the scholarship jacket, was our only chance.

Another hour of sweating in basketball was coming up and I was walking up to the gym. Then I remembered my P.E. shorts and I had to walk all the way back and get them.

I was almost back at my classroom door when I heard voices raised in anger as if in some sort of argument.

I recognised the voices: Mr. Schmidt, my history teacher, and Mr. Boone, my math teacher, seemed to be arguing about me. I heard them say 'Martha' and I couldn't believe it. "Martha has a straight A-plus average and you know it." That was Mr. Schmidt and he sounded very angry. "I refuse to do it! I don't care who Joann's father is, her grades don't even begin to compare to Martha's," he continued. My heart sank.

SubQuestion No : 23

Q.23 Complete the following sentence.

The school honoured the best student in eighth grade with:

- Ans
- ☐ 1. a green jacket with the name in green
 - ☐ 2. a green jacket with a gold pocket
 - ☐ 3. a golden jacket with an S in green
 - ☒ 4. a gold and green jacket with a gold S

Question ID : 8161614759

Status : Not Answered

Chosen Option : --

Comprehension:

Read the given passage and answer the questions that follow.

The small Texas school that I went to had a tradition carried out every year during the eighth-grade graduation: a beautiful gold and green jacket (the school colours) was awarded to the student who had maintained the grade for eight years.

The scholarship jacket — a beautiful gold and green jacket had a big gold S on the left front side and your name written in gold letters on the pocket.

My oldest sister, Rosie, had won the jacket a few years back, and I fully expected to also. I had been a straight 'A' student since the first grade and in the eighth grade had looked forward very much to owning that jacket.

My father was a farm labourer who couldn't earn enough money to feed eight children, so when I was six I was given to my grandparents to raise. We couldn't participate in sports at school because there were registration fees, uniform costs, and trips out of town; so, even though our family was quite agile and athletic there would never be a school sports jacket for us. This one, the scholarship jacket, was our only chance.

Another hour of sweating in basketball was coming up and I was walking up to the gym. Then I remembered my P.E. shorts and I had to walk all the way back and get them.

I was almost back at my classroom door when I heard voices raised in anger as if in some sort of argument.

I recognised the voices: Mr. Schmidt, my history teacher, and Mr. Boone, my math teacher, seemed to be arguing about me. I heard them say 'Martha' and I couldn't believe it. "Martha has a straight A-plus average and you know it." That was Mr. Schmidt and he sounded very angry. "I refuse to do it! I don't care who Joann's father is, her grades don't even begin to compare to Martha's," he continued. My heart sank.

SubQuestion No : 24

Q.24 Which of the following statements are true?

- a) Grandfather was a farm labourer
- b) Father couldn't earn enough money to feed eight
- c) The family could not pay for sports activities
- d) The family was small
- e) Martha was a bright student

- Ans
- ☒ 1. b, d and e
 - ☒ 2. a, c and d
 - ☒ 3. a, b and d
 - ☒ 4. b, c and e

Question ID : 8161614762

Status : Not Answered

Chosen Option : --

Comprehension:

Read the given passage and answer the questions that follow.

The small Texas school that I went to had a tradition carried out every year during the eighth-grade graduation: a beautiful gold and green jacket (the school colours) was awarded to the student who had maintained the grade for eight years.

The scholarship jacket — a beautiful gold and green jacket had a big gold S on the left front side and your name written in gold letters on the pocket.

My oldest sister, Rosie, had won the jacket a few years back, and I fully expected to also. I had been a straight 'A' student since the first grade and in the eighth grade had looked forward very much to owning that jacket.

My father was a farm labourer who couldn't earn enough money to feed eight children, so when I was six I was given to my grandparents to raise. We couldn't participate in sports at school because there were registration fees, uniform costs, and trips out of town; so, even though our family was quite agile and athletic there would never be a school sports jacket for us. This one, the scholarship jacket, was our only chance.

Another hour of sweating in basketball was coming up and I was walking up to the gym.

Then I remembered my P.E. shorts and I had to walk all the way back and get them.

I was almost back at my classroom door when I heard voices raised in anger as if in some sort of argument.

I recognised the voices: Mr. Schmidt, my history teacher, and Mr. Boone, my math teacher, seemed to be arguing about me. I heard them say 'Martha' and I couldn't believe it. "Martha has a straight A-plus average and you know it." That was Mr. Schmidt and he sounded very angry. "I refuse to do it! I don't care who Joann's father is, her grades don't even begin to compare to Martha's," he continued. My heart sank.

SubQuestion No : 25

Q.25 Complete the following sentence.

The narrator was brought up by her:

- Ans**
- ☒ 1. parents
 - ☒ 2. grandparents
 - ☒ 3. sister
 - ☒ 4. teachers

Question ID : 8161614760

Status : **Not Answered**

Chosen Option : --

Section : **Quantitative Aptitude**

Q.1 निम्नलिखित पाई आरेख में, विभिन्न संस्थानों (P, Q, R, S, T, V, X) में प्रवेश परीक्षा के लिए नामांकित अभ्यर्थियों, और (पहले से नामांकित अभ्यर्थियों में से) परीक्षा उत्तीर्ण करने वाले अभ्यर्थियों का वितरण दर्शाया गया है।

चार्ट का अध्ययन करें और दिए गए प्रश्न का उत्तर दें।



संस्थान P और Q से उत्तीर्ण अभ्यर्थियों की कुल संख्या T और R संस्थानों में नामांकित अभ्यर्थियों की कुल संख्या से _____ अधिक है।

- Ans
- ☒ 1. 485
 - ☒ 2. 580
 - ☒ 3. 445
 - ☒ 4. 456

Question ID : 8161614788

Status : Not Answered

Chosen Option : --

Q.2 अगर $x^4 - 3x^2 - 1 = 0$ हो, तो $\left(x^6 - 3x^2 + \frac{3}{x^2} - \frac{1}{x^6} + 1\right)$ का मान ज्ञात करें।

- Ans
- ☒ 1. 54
 - ☒ 2. 51
 - ☒ 3. 28
 - ☒ 4. 26

Question ID : 8161614781

Status : Not Answered

Chosen Option : --

Q.3 एक व्यक्ति किसी वस्तु को 8% की हानि पर बेचता है। अगर उसने इस वस्तु को 10.5% के लाभ पर बेचा होता तो उसे ₹74 अधिक प्राप्त होते। वस्तु का क्रय मूल्य (₹ में) कितना है?

- Ans
- ☒ 1. 100
 - ☒ 2. 400
 - ☒ 3. 500
 - ☒ 4. 300

Question ID : 8161614771

Status : Answered

Chosen Option : 2

Q.4 एक कक्षा में कुल 88 विद्यार्थी हैं, लड़कियों की संख्या, लड़कों की संख्या से 20% अधिक है। लड़कों की औसत ऊंचाई 164 cm है और लड़कियों की औसत ऊंचाई कक्षा के सभी लड़कों और लड़कियों की औसत ऊंचाई से 4 cm कम है। कक्षा में सभी छात्रों की औसत ऊंचाई (cm में) कितनी होगी?

- Ans
- ☒ 1. 163.2
 - ☒ 2. 155.2
 - ☒ 3. 159.2
 - ☒ 4. 150

Question ID : 8161614767

Status : Not Answered

Chosen Option : --

Q.5 एक स्पोर्ट स्टोर अपनी वस्तुओं पर 10% की छूट (बट्टा) देता है। स्टोर, क्रेडिट कार्ड से भुगतान करने वाले ग्राहकों को घटे मूल्य पर 5% और छूट प्रदान करता है। अगर एक ग्राहक ₹100 की एक गैद खरीदना चाहता है और क्रेडिट कार्ड के द्वारा भुगतान करता है तो ग्राहक द्वारा चुकता की जाने वाली धनराशि (₹ में) कितनी होगी?

- Ans
- ☒ 1. 92.50
 - ☒ 2. 85.50
 - ☒ 3. 95
 - ☒ 4. 82.50

Question ID : 8161614768

Status : Answered

Chosen Option : 2

Q.6 समान चाल से चलती एक 540 m लम्बी रेलगाड़ी एक प्लेटफार्म को 55 सेकंड में पार करती है और प्लेटफार्म पर खड़े एक व्यक्ति को 36 सेकंड में पार करती है। तो प्लेटफार्म की लम्बाई (m में) कितनी है?

- Ans
- ☒ 1. 325
 - ☒ 2. 285
 - ☒ 3. 450
 - ☒ 4. 400

Question ID : 8161614778

Status : Answered

Chosen Option : 2

Q.7 एक दुकानदार 6% लाभ पर टेलीविजन और 9% लाभ पर फ्रिज बेचकर ₹5,100 का लाभ प्राप्त करता है। हालांकि अगर दुकानदार 9% लाभ पर टेलीविजन और 6% हानि पर फ्रिज बेचता है तो उसे पूर्ण लेनदेन पर ₹1,800 का लाभ प्राप्त होता है। फ्रिज का क्रय मूल्य (₹ में) कितना है?

- Ans
- ☒ 1. 35,000
 - ☒ 2. 40,000
 - ☒ 3. 37,500
 - ☒ 4. 30,000

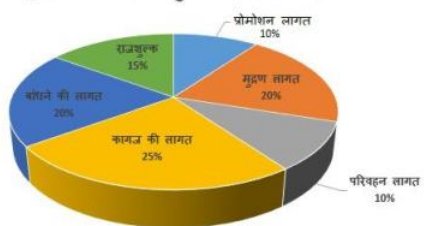
Question ID : 8161614772

Status : Not Answered

Chosen Option : --

Q.8 दिए गए पाई आरेख में एक पुस्तक के प्रकाशन में हुए खर्च का प्रतिशत वितरण दर्शाया गया है। आरेख का अध्ययन करें और दिए गए प्रश्न का उत्तर दें।

पुस्तक के प्रकाशन में हुए खर्च (प्रतिशत में)



अगर 2500 प्रतियाँ प्रकाशित की गई हैं और उनकी मुद्रण लागत राशि ₹160,000 है, तो एक पुस्तक का विक्रय मूल्य कितना होना चाहिए जिससे प्रकाशक 25% लाभ अर्जित कर सके?

- Ans
- ☒ 1. ₹420
 - ☒ 2. ₹370
 - ☒ 3. ₹400
 - ☒ 4. ₹350

Question ID : 8161614787

Status : Not Answered

Chosen Option : --

Q.9 70 को $x\%$ से घटाने पर प्राप्त परिणाम, 60 को $x\%$ से बढ़ाने के समान है, तो 91 का $x\%$ कितना होगा?

- Ans
- ☒ 1. 6
 - ☒ 2. 7
 - ☒ 3. 5
 - ☒ 4. 8

Question ID : 8161614769

Status : Answered

Chosen Option : 2

Q.10 एक वृत्त, एक आयत के परिगत है। आयत की भुजाएँ 4 : 3 के अनुपात में हैं। अगर आयत का क्षेत्रफल 192 cm^2 हो, तो वृत्त की परिधि (cm में) कितनी होगी?

- Ans
- ☒ 1. 15π
 - ☒ 2. 20π
 - ☒ 3. 10π
 - ☒ 4. 12π

Question ID : 8161614780

Status : Answered

Chosen Option : 1

Q.11 अगर $2\cos^2\theta - 5\cos\theta + 2 = 0$, $0^\circ < \theta < 90^\circ$ हो, तो $\frac{1}{(\operatorname{cosec}\theta + \cot\theta)}$ का मान ज्ञात करें।

Ans

✓ 1. $\frac{\sqrt{3}}{3}$

✗ 2. $2\sqrt{3}$

✗ 3. $\frac{1}{3}$

✗ 4. $\sqrt{3}$

Question ID : 8161614785

Status : Not Answered

Chosen Option : --

Q.12 दिया गया दंड आरेख विभिन्न राज्यों में पर्यटकों की संख्या को दर्शाता है। आरेख का अध्ययन करें और दिए गए प्रश्न का उत्तर दें।



निम्नलिखित में से किस राज्य में पर्यटकों की संख्या कुल संख्या के 10% से कम है?

Ans

✓ 1. कर्नाटक, राजस्थान और हरियाणा

✗ 2. कर्नाटक, राजस्थान, हरियाणा और असम

✗ 3. केवल राजस्थान

✗ 4. कर्नाटक और राजस्थान

Question ID : 8161614786

Status : Answered

Chosen Option : 4

Q.13 आठ वर्ष पहले, A और B की आयु का अनुपात 9 : 10 था। अब से 4 वर्ष बाद, उनकी आयु का अनुपात 12 : 13 हो जाएगा। अगर C की आयु A की वर्तमान आयु से 4 वर्ष कम हो, तो C की वर्तमान आयु (वर्ष में) कितनी है?

Ans

✗ 1. 52

✗ 2. 48

✗ 3. 44

✓ 4. 40

Question ID : 8161614773

Status : Not Answered

Chosen Option : --

Q.14 10, 23, 15 और 33, प्रत्येक में x जोड़ने पर प्राप्त योग समानुपाती क्रम में होता है। $(x + 5)$ का मान कितना है?

- Ans
- ☒ 1. 1
 - ☒ 2. 5
 - ☒ 3. 8
 - ☒ 4. 3

Question ID : 8161614774

Status : Answered

Chosen Option : 3

Q.15 दो व्यक्ति A और B किसी कार्य को क्रमशः 10 और 15 दिनों में पूरा करते हैं। दोनों ने साथ मिलकर कार्य शुरू किया लेकिन कार्य पूरा होने से 5 दिन पूर्व A ने कार्य छोड़ दिया। इसके बाद B अकेले शेष कार्य को पूरा करता है। पूरा कार्य संपन्न होने में कितने दिन लगेंगे?

- Ans
- ☒ 1. 9
 - ☒ 2. 12
 - ☒ 3. 10
 - ☒ 4. 8

Question ID : 8161614777

Status : Answered

Chosen Option : 1

Q.16 यदि $14331433 \times 1423 \times 1425$ को 12 से भाग दिया जाता है, तो शेषफल कितना होगा?

- Ans
- ☒ 1. 1
 - ☒ 2. 3
 - ☒ 3. 0
 - ☒ 4. 2

Question ID : 8161614764

Status : Answered

Chosen Option : 2

Q.17 एक व्यक्ति अपनी कुल राशि ₹25,000 का एक भाग 10% वार्षिक साधारण ब्याज पर और शेष धनराशि 12% वार्षिक साधारण ब्याज दर पर निवेश करता है। 2 वर्षों के बाद कुल ₹5,640 साधारण ब्याज प्राप्त हुआ। दोनों राशियों के बीच अंतर (₹ में) कितना है?

- Ans
- ☒ 1. 7,000
 - ☒ 2. 10,000
 - ☒ 3. 8,000
 - ☒ 4. 9,000

Question ID : 8161614775

Status : Not Answered

Chosen Option : --

Q.18 ΔABC में, AD , $\angle A$ का समद्विभाजक है और यह BC को बिंदु D पर प्रतिच्छेदित करता है। अगर $BC = a$, $AC = b$ और $AB = c$ हो, तो BD _____ के बराबर होगी।

- Ans
- ☒ 1. $\frac{a(c-b)}{c+b}$
- ☒ 2. $\frac{ac}{b+c}$
- ☒ 3. $\frac{a(c+b)}{c-b}$
- ☒ 4. $\frac{ab}{b+c}$

Question ID : 8161614784

Status : Not Answered

Chosen Option : --

Q.19 X और Y साथ मिलकर एक कार्य को 12 दिनों में पूरा कर सकते हैं। अगर Y अकेले उस कार्य को 15 दिनों में पूरा कर सकता है तो X को अकेले उस कार्य को पूरा करने में कितने दिन लगेंगे?

- Ans
- ☒ 1. 50
- ☒ 2. 60
- ☒ 3. 30
- ☒ 4. 45

Question ID : 8161614776

Status : Answered

Chosen Option : 2

Q.20 दो कर्मियों A और B को नियोजक द्वारा प्रति सप्ताह कुल ₹13,455 का भुगतान किया जाता है। अगर कर्मि A को, B को भुगतान की गई राशि का 125% भुगतान किया जाता है तो B को प्रति सप्ताह कुल कितना भुगतान किया जाता है?

- Ans
- ☒ 1. ₹11,000
- ☒ 2. ₹10,000
- ☒ 3. ₹5,980
- ☒ 4. ₹7,500

Question ID : 8161614770

Status : Answered

Chosen Option : 1

Q.21 n अवलोकनों का औसत 40 है। यदि 50 और 60, दो अवलोकनों को उसमें जोड़ा जाता है, तो सभी अवलोकनों का औसत 41 हो जाएगा। तो n का मान कितना है?

- Ans
- ☒ 1. 28
- ☒ 2. 40
- ☒ 3. 42
- ☒ 4. 32

Question ID : 8161614766

Status : Not Answered

Chosen Option : --

Q.22 एक कार 11 घंटे तक चलती है। कार प्रथम 100 km की दूरी एक निश्चित चाल से तय करती है और इसके बाद चाल में 15 km/h वृद्धि के साथ यह शेष 280 km की दूरी तय करती है। कार को प्रथम 100 km की दूरी तय करने में कितना समय (घंटे में) लगा?

- Ans
- ☒ 1. 7
 - ☒ 2. 11
 - ☒ 3. 4
 - ☒ 4. 10

Question ID : 8161614779

Status : Not Answered

Chosen Option : --

Q.23 $\triangle ABC$ में, बिंदु D पर $BD \perp AC$ है, E, BC पर एक बिंदु इस प्रकार है कि $\angle BEA = x^\circ$ है। अगर $\angle EAC = 36^\circ$ और $\angle EBD = 40^\circ$ हो, तो x का मान कितना होगा?

- Ans
- ☒ 1. 86°
 - ☒ 2. 78°
 - ☒ 3. 72°
 - ☒ 4. 68°

Question ID : 8161614783

Status : Not Answered

Chosen Option : --

Q.24 अगर $(a+b-3)^2 + (b+c-2)^2 + (c+a-5)^2 = 0$ हो, तो $\sqrt{(b+c)^a + (c+a)^b}$ का मान ज्ञात करें।

- Ans
- ☒ 1. 2
 - ☒ 2. 0
 - ☒ 3. 3
 - ☒ 4. 1

Question ID : 8161614782

Status : Not Answered

Chosen Option : --

Q.25 अगर 6 अंकों की संख्या $479xyz$, 7, 11 और 13 से पूरी तरह विभाज्य हो तो अंक x, y और z का गुणनफल कितना होगा?

- Ans
- ☒ 1. 794
 - ☒ 2. 1001
 - ☒ 3. 252
 - ☒ 4. 479

Question ID : 8161614765

Status : Not Answered

Chosen Option : --

Section : General Awareness

Q.1 निम्नलिखित में से किस भारतीय नेता ने 'इंडिया डिवाइडेड' नामक पुस्तक की रचना की?

- Ans
- ☒ 1. जवाहरलाल नेहरू
 - ☒ 2. अबुल कलाम आजाद
 - ☒ 3. वल्लभभाई पटेल
 - ☒ 4. राजेंद्र प्रसाद

Question ID : 8161614807

Status : Answered

Chosen Option : 1

Q.2 अक्टूबर 2019 में केंद्र सरकार ने प्रतिभासंपन्न छात्र/छात्राओं के लिए नवाचारी शिक्षा को बढ़ावा देने हेतु एक पहल की शुरुआत की थी। इस पहल को _____ नाम दिया गया है।

- Ans
- ☒ 1. अर्पित
 - ☒ 2. अर्जुन
 - ☒ 3. शिक्षा
 - ☒ 4. ध्रुव

Question ID : 8161614812

Status : Answered

Chosen Option : 4

Q.3 निम्नलिखित में से कौन सा राज्य, पारंपरिक रूप से 'कांदांगी साड़ी' से संबंधित है, जिसे 2019 में भौगोलिक संकेत (GI) टैग प्राप्त हुआ था?

- Ans
- ☒ 1. गुजरात
 - ☒ 2. राजस्थान
 - ☒ 3. तमिलनाडु
 - ☒ 4. उत्तराखंड

Question ID : 8161614791

Status : Answered

Chosen Option : 3

Q.4 निम्नलिखित में से किस राज्य में कोलडिहवा नामक प्राक्-ऐतिहासिक स्थल स्थित है?

- Ans
- ☒ 1. उत्तर प्रदेश
 - ☒ 2. आंध्र प्रदेश
 - ☒ 3. मध्य प्रदेश
 - ☒ 4. तेलंगाना

Question ID : 8161614803

Status : Answered

Chosen Option : 4

Q.5 प्राचीन भारतीय संस्कृति के संदर्भ में 'नागर', 'वेसर' और 'द्रविड़' शब्द /नाम _____ से संबंधित है।

- Ans ☒ 1. मंदिर वास्तुकला की शैलियां
☒ 2. नृत्य शैलियां
☒ 3. किलों के प्रकार
☒ 4. वाद्य यंत्र

Question ID : 8161614790
 Status : Answered
 Chosen Option : 1

Q.6 निम्नलिखित में से किस विद्वान को 'खरोष्ठी' लिपि पढ़ने का श्रेय दिया जाता है?

- Ans ☒ 1. एच.टी. कोलेब्रूक
☒ 2. जेम्स प्रिंसेप
☒ 3. आर.पी. कांग्ले
☒ 4. विलियम जोन्स

Question ID : 8161614806
 Status : Answered
 Chosen Option : 2

Q.7 निम्नलिखित में से किस ने, दक्षिण अमेरिका की सबसे ऊंची चोटी माउंट अकोंकागुवा पर चढ़ाई करने वाली सबसे युवा महिला का रिकॉर्ड अपने नाम दर्ज किया है?

- Ans ☒ 1. स्वर्णलता दलाई
☒ 2. काम्या कार्तिकेयन
☒ 3. अरुणिमा सिन्हा
☒ 4. मालावत् पूर्ण

Question ID : 8161614792
 Status : Answered
 Chosen Option : 3

Q.8 रक्षा अनुसंधान एवं विकास संगठन (डी.आर.डी.ओ.) द्वारा विकसित किए जा रहे रक्षा संबंधी उपकरणों के संदर्भ में, 'प्रनाश' एक _____ का नाम है।

- Ans ☒ 1. मिसाइल
☒ 2. बुलेट-प्रूफ हेलमेट
☒ 3. असावट राइफल
☒ 4. बुलेट-प्रूफ जैकेट

Question ID : 8161614793
 Status : Answered
 Chosen Option : 3

Q.9 वृक्षारोपण को बढ़ावा देने के लिए निम्नलिखित में से किस राज्य की सरकार ने 'प्यार का पौधा' अभियान शुरू किया है?

- Ans ☒ 1. बिहार
☐ 2. मध्य प्रदेश
☐ 3. राजस्थान
☐ 4. उत्तर प्रदेश

Question ID : 8161614794
Status : Answered
Chosen Option : 3

Q.10 निम्नलिखित में से कौन सा, विद्युत चालकता (electric conductance) को मापने का एस.आई. व्युत्पन्न मात्रक है?

- Ans ☐ 1. टेसला
☒ 2. साइमन्स
☐ 3. फराड
☐ 4. हेनरी

Question ID : 8161614798
Status : Answered
Chosen Option : 1

Q.11 फरवरी 2020 में भारत के आधिकारिक दौरे पर आए मार्सेलो रीबेलो डी साउसा किस देश के राष्ट्रपति हैं?

- Ans ☐ 1. नार्वे
☐ 2. फिजी
☐ 3. स्विटजरलैंड
☒ 4. पुर्तगाल

Question ID : 8161614808
Status : Answered
Chosen Option : 3

Q.12 निम्नलिखित में से किस राज्य में क्लाउडेड लेपर्ड राष्ट्रीय उद्यान स्थित है?

- Ans ☐ 1. सिक्किम
☒ 2. त्रिपुरा
☐ 3. नागालैंड
☐ 4. मेघालय

Question ID : 8161614800
Status : Answered
Chosen Option : 1

Q.13 निम्नलिखित में से कौन सा, हाइड्रोजन का समस्थानिक नहीं है?

- Ans ☒ 1. लिथियम
☒ 2. प्रोटियम
☒ 3. ट्रिटियम
☒ 4. ड्यूटेरियम

Question ID : 8161614796
Status : Answered
Chosen Option : 1

Q.14 उदयपुर के नाथवाड़ा में स्थित ऐतिहासिक श्रीनाथजी मंदिर _____ को समर्पित है।

- Ans ☒ 1. भगवान श्रीकृष्ण
☒ 2. भगवान ब्रह्मा
☒ 3. भगवान शिव
☒ 4. भगवान हनुमान

Question ID : 8161614789
Status : Answered
Chosen Option : 2

Q.15 निम्नलिखित में से कौन सी दवा, मलेरिया के उपचार हेतु भारत में बड़े पैमाने पर उपयोग की जाती है?

- Ans ☒ 1. ईथामब्यूटॉल
☒ 2. रिफामपिसिन
☒ 3. हाइड्रोक्सीक्लोरोक्वीन
☒ 4. पिराजिनामाइड

Question ID : 8161614797
Status : Answered
Chosen Option : 3

Q.16 निम्नलिखित में से किस राज्य के साथ बिहार की सीमा नहीं लगती है?

- Ans ☒ 1. झारखंड
☒ 2. पश्चिम बंगाल
☒ 3. मध्य प्रदेश
☒ 4. उत्तर प्रदेश

Question ID : 8161614799
Status : Answered
Chosen Option : 1

Q.17 निम्नलिखित में से किस शहर को महाराजा रणजीत सिंह ने 1799 में अपनी राजधानी बनाया था?

- Ans ☒ 1. अमृतसर
☒ 2. लाहौर
☒ 3. जालंधर
☒ 4. कराची

Question ID : 8161614804
Status : Answered
Chosen Option : 1

Q.18 भारतीय परिषद अधिनियम 1909 लागू होने के समय भारत का वायसराय निम्नलिखित में से कौन था?

- Ans ☒ 1. लॉर्ड मिंटो
☒ 2. जॉन मार्ले
☒ 3. एडविन सैमुएल मांटेग्यू
☒ 4. लॉर्ड चेम्सफोर्ड

Question ID : 8161614805
 Status : Answered
 Chosen Option : 1

Q.19 भारतीय संविधान का कौन सा अनुच्छेद, राज्य की लोक सेवाओं में कार्यपालिका से न्यायपालिका को अलग करने हेतु कदम उठाने के लिए राज्य को निर्देशित करता है।

- Ans ☒ 1. अनुच्छेद 51
☒ 2. अनुच्छेद 50
☒ 3. अनुच्छेद 45
☒ 4. अनुच्छेद 48

Question ID : 8161614810
 Status : Answered
 Chosen Option : 1

Q.20 फरवरी 2020 में केंद्रीय मंत्रिमंडल ने _____ भारतीय विधि आयोग के गठन को अनुमोदित कर दिया।

- Ans ☒ 1. 24वें
☒ 2. 22वें
☒ 3. 23वें
☒ 4. 21वें

Question ID : 8161614811
 Status : Answered
 Chosen Option : 1

Q.21 निम्नलिखित में से किस भारतीय एथलीट को वर्ष 2019 का वर्ल्ड गेम्स एथलीट चुना गया था?

- Ans ☒ 1. एम.सी. मैरी कॉम
☒ 2. दीपक पूनिया
☒ 3. बजरंग पूनिया
☒ 4. रानी रामपाल

Question ID : 8161614813
 Status : Answered
 Chosen Option : 4

Q.22 निम्नलिखित में से कौन सी, संस्कृत के एक महान कवि और नाट्यकार कालिदास की रचना नहीं है?

- Ans ☒ 1. विक्रमोर्वशी
☒ 2. मालविकाग्निमित्रम्
☒ 3. मेघदूतम्
☒ 4. किरातार्जुनीयम्

Question ID : 8161614809
 Status : Not Answered
 Chosen Option : --

Q.23 केंद्रीय चावल अनुसंधान संस्थान का मुख्यालय निम्नलिखित में से किस शहर में स्थित है?

- Ans
- ☒ 1. गांधीनगर
 - ☒ 2. कटक
 - ☒ 3. करनाल
 - ☒ 4. अमृतसर

Question ID : 8161614801

Status : Not Answered

Chosen Option : --

Q.24 हमारे सौर मंडल के आठ ग्रहों में कितने ग्रहों का अपना कोई चंद्रमा नहीं है?

- Ans
- ☒ 1. 3
 - ☒ 2. 4
 - ☒ 3. 5
 - ☒ 4. 2

Question ID : 8161614795

Status : Not Answered

Chosen Option : --

Q.25 निम्नलिखित में से किस राज्य में 'दिपोर बिल' नामक रामसर नमभूमि स्थल स्थित है?

- Ans
- ☒ 1. असम
 - ☒ 2. छत्तीसगढ़
 - ☒ 3. पश्चिम बंगाल
 - ☒ 4. ओडिशा

Question ID : 8161614802

Status : Not Answered

Chosen Option : --