

ITBP Constable Tradesmen Exam 19th Mar 2021

Roll No	www.exammix.com
Participant Name	www.exammix.com
Tests Center Name	iON Digital Zone iDZ
Test Date	19/03/2021
Subject	Constable Tradesmen

Section : General Awareness Or General Knowledge

Q.1 सूफी संत ख्वाजा मोइनुद्दीन चिश्ती का मकबरा कहाँ स्थित है?

- Ans
- 1. आगरा
 - 2. दिल्ली
 - 3. अजमेर
 - 4. मुंबई

Question ID : 63068032483
Chosen Option : 3

Q.2 औरंगाबाद में स्थित प्रसिद्ध 'बीबी का मकबरा' का निर्माण _____ ने अपनी पत्नी की याद में किया था।

- Ans
- 1. औरंगज़ेब
 - 2. जहाँगीर
 - 3. अकबर
 - 4. शाहजहाँ

Question ID : 63068032484
Chosen Option : 1

Q.3 किसान रेल, जैसा कि केंद्रीय बजट 2020-21 में प्रस्तावित है, भारतीय रेलवे द्वारा शुरू की जाने वाली एक योजना है, जिससे:

- Ans
- 1. किसानों के जल्दी खराब होने वाले उत्पादों को अधिक शीघ्रता से परिवहन सुविधा प्रदान करने में मदद मिल सके।
 - 2. किसानों को नई दिल्ली जाने का अवसर प्राप्त हो सके।
 - 3. भारत के किसानों के संघीकरण में आसानी हो।
 - 4. किसानों को रियायती दर पर तीर्थयात्रा पर जाने में मदद मिल सके।

Question ID : 63068032499
Chosen Option : 1

Q.4 आठ बार के ओलंपिक स्वर्ण पदक विजेता 'उसैन बोल्ट' निम्नलिखित में से किस खेल से जुड़े हैं?

- Ans
- 1. शूटिंग
 - 2. बास्केटबॉल
 - 3. ट्रैक और फ़िल्ड
 - 4. गोल्फ़

Question ID : 63068032501

Chosen Option : 3

Q.5 भारत के उपराष्ट्रपति का कार्यकाल कितना होता है?

- Ans
- 1. तीन वर्ष
 - 2. पाँच वर्ष
 - 3. चार वर्ष
 - 4. दो वर्ष

Question ID : 63068032488

Chosen Option : 2

Q.6 'द रेस ऑफ माय लाइफ' किस खिलाड़ी की आत्मकथा है?

- Ans
- 1. नारायण कार्तिकेयन
 - 2. पी टी उषा
 - 3. मिल्खा सिंह
 - 4. ध्यानचंद

Question ID : 63068032495

Chosen Option : 3

Q.7 भारतीय राजनीतिक प्रणाली का प्रकार क्या है?

- Ans
- 1. राजतंत्र
 - 2. तानाशाही
 - 3. साम्यवाद
 - 4. लोकतंत्र

Question ID : 63068032520

Chosen Option : 4

Q.8 13 अप्रैल 1919 को, जलियांवाला बाग में लोग किसका विरोध करने के लिए एकत्रित हुए थे?

- Ans
- 1. रॉलेट अधिनियम (रॉलेट ऐक्ट)
 - 2. सती और महिला शिशु हत्या अधिनियम का निषेध (प्रॉहिबिशन ऑफ़ सती ऐंड फ़ीमेल इन्फैंटीसाइड ऐक्ट)
 - 3. विनियमन अधिनियम (रेगुलेंटिंग ऐक्ट)
 - 4. सांप्रदायिक निर्णय अधिनियम (कम्युनल अवॉर्ड ऐक्ट)

Question ID : 63068032497

Chosen Option : 1

Q.9 भारत में प्रतिभूति बाज़ार को विनियमित और नियंत्रित कौन करता है?

- Ans
- 1. भारतीय रिज़र्व बैंक
 - 2. विश्व बैंक
 - 3. अंतरराष्ट्रीय मुद्रा कोष
 - 4. भारतीय प्रतिभूति और विनियम बोर्ड

Question ID : 63068032498

Chosen Option : 4

Q.10 निम्नलिखित में से किस राष्ट्रीय आंदोलन को 'अगस्त क्रांति' के रूप में भी जाना जाता है?

- Ans
- 1. खिलाफत आंदोलन
 - 2. स्वराज आंदोलन
 - 3. भारत छोड़ो आंदोलन
 - 4. सविनय अवज्ञा आंदोलन

Question ID : 63068032487

Chosen Option : 3

Q.11 अरावली पर्वत श्रृंखला, जिसे 'अरावली रेंज' के नाम से भी जाना जाता है, प्रमुख तौर पर निम्नलिखित में से किस राज्य में स्थित है?

- Ans
- 1. आंध्र प्रदेश
 - 2. ओडिशा
 - 3. राजस्थान
 - 4. छत्तीसगढ़

Question ID : 63068032486

Chosen Option : 3

Q.12 मानव शरीर का सामान्य औसत तापमान क्या है?

- Ans
- 1. 39 °C
 - 2. 37 °C
 - 3. 28 °C
 - 4. 33 °C

Question ID : 63068032485

Chosen Option : 2

Q.13 निम्नलिखित में से कौन सी सबसे हल्की गैस है?

- Ans
- 1. हीलियम
 - 2. ऑक्सीजन
 - 3. नाइट्रोजन
 - 4. हाइड्रोजन

Question ID : 63068032496

Chosen Option : 1

Q.14 भारत सरकार द्वारा राष्ट्रीय प्रतीक को कब अपनाया गया था?

- Ans
- 1. 15 अगस्त, 1950
 - 2. 26 जनवरी, 1950
 - 3. 23 मार्च, 1950
 - 4. 2 अक्टूबर, 1950

Question ID : 63068032500

Chosen Option : 2

Q.15 हेज़ा रोग, _____ के कारण होता है।

- Ans
- 1. जीवाणु
 - 2. कवक/फफूंद
 - 3. प्रोटोज़ोआ
 - 4. विषाणु

Question ID : 63068032489

Chosen Option : 1

Section : Elementary Mathematics

Q.1 यदि 108 का 200% = x है, तो $\sqrt[3]{x}$ का मान ज्ञात कीजिए।

- Ans
- 1. 18
 - 2. 216
 - 3. 16
 - 4. 6

Question ID : 63068032539

Chosen Option : 4

Q.2 राम और श्याम एक कार्य को एक साथ मिलकर 12 दिनों में समाप्त कर सकते हैं। राम इसी काम को अकेले 18 दिनों में समाप्त कर सकता है। श्याम इसी काम को अकेले कितने दिनों में समाप्त कर सकता है?

- Ans
- 1. 40 दिन
 - 2. 25 दिन
 - 3. 30 दिन
 - 4. 36 दिन

Question ID : 63068032538

Chosen Option : 4

Q.3 180 किमी/घंटा की चाल निम्नलिखित में से किस चाल के बराबर है?

- Ans
- 1. 10 मी/सेकंड
 - 2. 50 मी/सेकंड
 - 3. 5 मी/सेकंड
 - 4. 180000 मी/सेकंड

Question ID : 63068032536

Chosen Option : 2

Q.4 सबसे छोटी से छोटी चार अंकों की संख्या कौन सी है जो 8, 24 और 34 से पूर्णतः विभाज्य हो?

- Ans
- 1. 1026
 - 2. 1224
 - 3. 1148
 - 4. 1382

Question ID : 63068032522

Chosen Option : 2

Q.5 एक लड़का विद्यालय 10 किमी/घंटा की चाल से जाता है। वह 15 किमी/घंटा की चाल से वापस आता है। पूरी यात्रा के लिए उसकी औसत चाल है:

- Ans
- 1. 12.5 किमी/घंटा
 - 2. 14 किमी/घंटा
 - 3. 12 किमी/घंटा
 - 4. 13 किमी/घंटा

Question ID : 63068032537

Chosen Option : 3

Q.6 एक विद्यालय के 1080 विद्यार्थियों में लड़कों और लड़कियों का अनुपात 5 : 4 है। दस लड़कों ने विद्यालय छोड़ दिया क्योंकि उनके परिवार दूसरे राज्यों में शिफ्ट हो गए। विद्यालय में कितनी लड़कियों को भर्ती किया जाना चाहिए ताकि यह अनुपात 1 : 1 हो जाए?

- Ans
- 1. 110
 - 2. 10
 - 3. 130
 - 4. 120

Question ID : 63068032523

Chosen Option : 1

Q.7 पहली 5 धनात्मक सम संख्याओं का औसत कितना है?

- Ans
- 1. 4
 - 2. 3
 - 3. 6
 - 4. 5

Question ID : 63068032533

Chosen Option : 3

Q.8 एक गाँव में, कुल जनसंख्या की $\frac{2}{9}$ जनसंख्या अशिक्षित थी। यदि अशिक्षित व्यक्तियों की संख्या 1980 थी, तो कुल जनसंख्या कितनी थी?

- Ans 1. 8910
 2. 6930
 3. 9800
 4. 4950

Question ID : 63068032521
Chosen Option : 1

Q.9 यदि किसी वस्तु का विक्रय मूल्य उसके क्रय मूल्य से रू. 20 अधिक है, और उसका क्रय मूल्य रू. 250 है, तो लाभ प्रतिशत क्या होगा?

- Ans 1. 8%
 2. 12.5%
 3. 10%
 4. 5%

Question ID : 63068032535
Chosen Option : 1

Q.10 50% का 50% कितने के बराबर है (दशमलव में)?

- Ans 1. 0.025
 2. 0.25
 3. 1.025
 4. 1

Question ID : 63068032534
Chosen Option : 2

Section : Analytical aptitude

Q.1 उस विकल्प का चयन करें, जिसका तीसरी आकृति से वही संबंध है, जो दूसरी आकृति का पहली आकृति से है।

<table border="1" style="border-collapse: collapse; width: 50px; height: 50px;"> <tr><td>&</td><td>-</td><td>S</td></tr> <tr><td>+</td><td>X</td><td></td></tr> <tr><td>@</td><td>÷</td><td>S</td></tr> </table>	&	-	S	+	X		@	÷	S	<table border="1" style="border-collapse: collapse; width: 50px; height: 50px;"> <tr><td>S</td><td>÷</td><td>@</td></tr> <tr><td>X</td><td>+</td><td></td></tr> <tr><td>\$</td><td>-</td><td>&</td></tr> </table>	S	÷	@	X	+		\$	-	&	<table border="1" style="border-collapse: collapse; width: 50px; height: 50px;"> <tr><td>A</td><td>M</td><td>B</td></tr> <tr><td>P</td><td></td><td>N</td></tr> <tr><td>C</td><td>O</td><td>D</td></tr> </table>	A	M	B	P		N	C	O	D	<table border="1" style="border-collapse: collapse; width: 50px; height: 50px;"> <tr><td>?</td></tr> </table>	?
&	-	S																													
+	X																														
@	÷	S																													
S	÷	@																													
X	+																														
\$	-	&																													
A	M	B																													
P		N																													
C	O	D																													
?																															

Ans

1.

D	N	C
M		P
B	O	A

2.

D	O	A
P		N
C	M	B

3.

M	A	N
D		B
O	C	P

4.

D	O	C
N		P
B	M	A

Question ID : 63068032513
Chosen Option : 4

Q.2 उस विकल्प का चयन करें जो तीसरी आकृति से ठीक उसी प्रकार संबंधित है जिस प्रकार दूसरी आकृति पहली आकृति से संबंधित है।

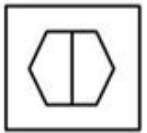


Ans

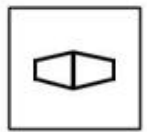
1.




2.



3.



4.



Question ID : 63068032518

Chosen Option : 3

Q.3 एक विशिष्ट कूट भाषा में, RINA को '19-10-15-2' और JAYA को '11-2-26-2' कोडित किया जाता है। GITA को उसी कूट भाषा में कैसे कोडित किया जाएगा?

Ans

1. 9-11-20-2

2. 10-12-22-3

3. 7-9-20-1

4. 8-10-21-2

Question ID : 63068032491

Chosen Option : 4

Q.4 दिए गए आव्यूह में कौन सा अक्षर प्रश्न चिह्न (?) को प्रतिस्थापित करेगा?

E	I	N
H	M	S
K	Q	?

Ans

1. X

2. W

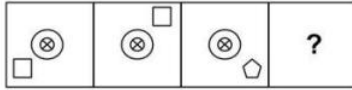
3. Y

4. Z

Question ID : 63068032490

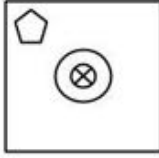
Chosen Option : 1

Q.5 उस विकल्प का चयन करें जो प्रश्न चिह्न (?) को प्रतिस्थापित करे और नीचे दी गई आकृति श्रृंखला को पूर्ण करे।

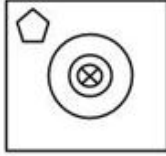


Ans

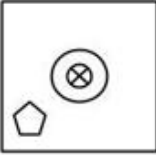
✓ 1.



✗ 2.



✗ 3.



✗ 4.



Question ID : 63068032517
Chosen Option : 1

Q.6 शिखा, दीपाली, अंजली और सोनिका नाम की चार सहेलियां हैं। दीपाली न तो अंजली जितनी लंबी है और न ही शिखा जितनी छोटी है। सोनिका, दीपाली से छोटी है लेकिन शिखा से लंबी है। इनमें से कौन सी लड़की सबसे लंबी है?

Ans

✗ 1. शिखा


✓ 2. अंजली

✗ 3. दीपाली

✗ 4. सोनिका

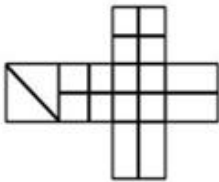
Question ID : 63068032494
Chosen Option : 2

Q.7 यह मानते हुए कि विपरीत फलक का एक ही डिजाइन है, दिए गए बक्से को खोलकर कौन सी विकल्प आकृति को बनाया जा सकता है?

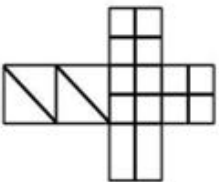


Ans

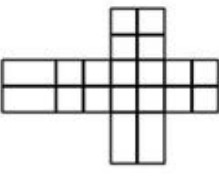
✗ 1.



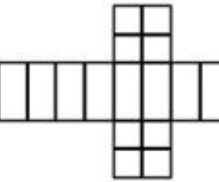
✗ 2.



✗ 3.



✓ 4.



Question ID : 63068032519

Chosen Option : 4

Q.8 एक परिवार में मोहित, अनन्या, राजू, प्रिया, नव्या और कपिल ये छह व्यक्ति हैं। इनमें से एक इंस्पेक्टर है, एक क्लर्क और एक प्रोफेसर है। अनन्या और प्रिया अविवाहित और बेरोजगार महिलाएँ हैं। कोई भी महिला क्लर्क या इंस्पेक्टर नहीं है। परिवार में, राजू इकलौता बच्चा है। नव्या, मोहित की पत्नी है और कपिल, मोहित के पिता हैं।

परिवार में प्रोफेसर कौन है?

Ans

✓ 1. नव्या

✗ 2. मोहित

✗ 3. कपिल

✗ 4. प्रिया

Question ID : 63068032516

Chosen Option : 2

Q.9 निम्नलिखित शब्दों को अर्थपूर्ण क्रम में व्यवस्थित करें और सबसे उपयुक्त अनुक्रम चुनें।

1. विश्व
2. गांव
3. राज्य
4. जिला
5. महाद्वीप
6. देश

Ans 1. 2, 3, 4, 6, 5, 1

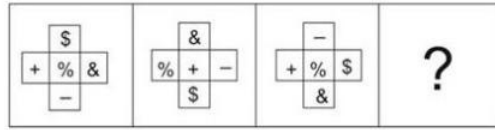
2. 2, 4, 3, 6, 5, 1

3. 2, 4, 3, 5, 6, 1

4. 2, 4, 6, 3, 5, 1

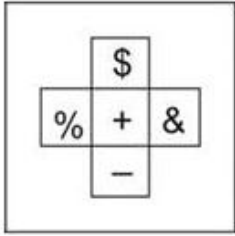
Question ID : 63068032532
Chosen Option : 2

Q.10 उस आकृति का चयन करें, जो दी गई श्रृंखला में प्रश्नवाचक चिह्न (?) के स्थान पर आ सकती है।

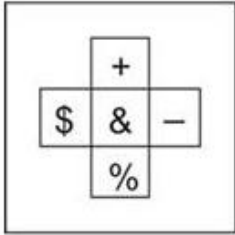


Ans

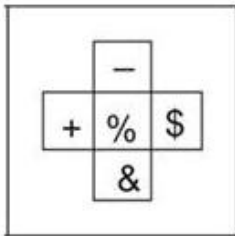
✓ 1.



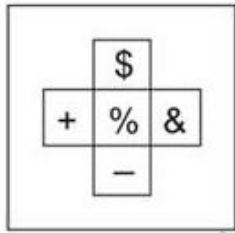
✗ 2.



✗ 3.



✗ 4.



Question ID : 63068032512
Chosen Option : 1

Q.11 एक आदमी ने कहा, "P, Q के बेटे के बेटे का भाई है"। P का Q से क्या रिश्ता है?

Ans

✗ 1. भाई

✗ 2. बेटा

✓ 3. पोता

✗ 4. भतीजा

Question ID : 63068032542
Chosen Option : 3

Q.12 दी गई अक्षर श्रेणी में, प्रश्नवाचक चिन्ह (?) के स्थान पर कौन सा अक्षर आएगा?

B, E, J, Q, ?

- Ans
- 1. T
 - 2. V
 - 3. X
 - 4. Z

Question ID : 63068032514

Chosen Option : 4

Q.13 सात व्यक्ति F, P, Q, T, J, S और L एक गोलाकार मेज़ के चारों ओर केंद्र की ओर मुंह करके बैठे हैं। T, P के दाएं दूसरे स्थान पर बैठा है, लेकिन F, P के बगल में नहीं बैठा है। L, S के ठीक दाएं बैठा है। Q, P और L के बीच में बैठा है।

T के एकदम बाएं कौन बैठा है?

- Ans
- 1. L
 - 2. F
 - 3. J
 - 4. S

Question ID : 63068032515

Chosen Option : 4

Q.14 किसी निश्चित कूट भाषा में, 'CHAPTER' को 'RAHPETC' लिखा जाता है। उसी कूट भाषा में 'EXPLAIN' को किस प्रकार लिखा जाएगा?

- Ans
- 1. NPLXAIE
 - 2. NPLXIAE
 - 3. NPXILAE
 - 4. NPXLIAE

Question ID : 63068032493

Chosen Option : 4

Q.15 उस पद का चयन करें, जो निम्नलिखित श्रेणी में प्रश्नवाचक चिह्न (?) के स्थान पर आएगा।

ZA, YB, WD, TG, ?

- Ans
- 1. PK
 - 2. OL
 - 3. PJ
 - 4. QJ

Question ID : 63068032492

Chosen Option : 1

Section : English

Q.1 Choose the INCORRECTLY spelt word from the given options.

- Ans
- 1. Attendance
 - 2. Schedule
 - 3. Transperant
 - 4. Definition

Question ID : 63068032506
Chosen Option : --

Q.2 Choose the most appropriate option to fill in the blank.

My brother was _____ to join the army after seeing a movie on the life of soldiers.

- Ans
- 1. improved
 - 2. inspired
 - 3. involved
 - 4. impressed

Question ID : 63068032509
Chosen Option : --

Q.3 Identify the segment in the sentence which contains a grammatical error.

After I ate / my lunch, / I listened / to music for while.

- Ans
- 1. After I ate
 - 2. my lunch,
 - 3. I listened
 - 4. to music for while.

Question ID : 63068032505
Chosen Option : --

Q.4 Select the most appropriate SYNONYM of the given word.

SELFLESS

- Ans
- 1. helpful
 - 2. self-centred
 - 3. unkind
 - 4. proud

Question ID : 63068032541
Chosen Option : --

Q.5 Select the most appropriate SYNONYM of the given word.

ROTTEN

- Ans
- 1. fresh
 - 2. pure
 - 3. nice
 - 4. stale

Question ID : 63068032540

Chosen Option : --

Q.6 The sentences A, B, C, D given below, when properly sequenced, form a coherent paragraph. Choose the most logical order of sentences from among the given options to construct a coherent paragraph.

- A. Within a few minutes, we had booked a cab and were soon on our way to the zoo.
- B. After reaching the place, we bought the tickets and waited for the guard at the gate to let us in.
- C. As they wanted to be taken out, we decided to take them to the zoo.
- D. It was Saturday and my sister's two young children were at our house.

- Ans
- 1. B, A, D, C
 - 2. D, C, A, B
 - 3. A, D, B, C
 - 4. C, D, A, B

Question ID : 63068032511

Chosen Option : --

Q.7 Choose the INCORRECTLY spelt word from the given options.

- Ans
- 1. Excel
 - 2. Marvel
 - 3. Parallel
 - 4. Quarell

Question ID : 63068032507

Chosen Option : --

Q.8 Identify the segment in the sentence which contains a grammatical error.

Shreya has been waiting / in the queue / to pay the electricity bill / since two hours.

- Ans
- 1. since two hours.
 - 2. to pay the electricity bill
 - 3. in the queue
 - 4. Shreya has been waiting

Question ID : 63068032504

Chosen Option : --

Q.9 The sentences A, B, C, D given below, when properly sequenced, form a coherent paragraph. Choose the most logical order of sentences from among the given options to construct a coherent paragraph.

- A. One day, a crocodile came out of the river and crawled up to the tree.
B. Once there lived a monkey on a rose apple tree that grew on the banks of a river.
C. The kind monkey offered him some of the delicious rose apples.
D. He told the monkey that he had travelled a long distance in search of food.

- Ans 1. A, C, B, D
 2. B, A, D, C
 3. C, D, A, B
 4. B, A, C, D

Question ID : 63068032510
Chosen Option : --

Q.10 Choose the most appropriate option to fill in the blank.

We all know that it is _____ to live without air and water.

- Ans 1. immature
 2. indifferent
 3. inadequate
 4. impossible

Question ID : 63068032508
Chosen Option : --

Section : Hindi

Q.1 'जो मोह नहीं करता है' वाक्यांश के लिए एक शब्द बताइए।

- Ans 1. निर्मम
 2. निर्मोही
 3. निर्दय
 4. निर्मोल

Question ID : 63068032503
Chosen Option : 2

Q.2 'आंख' से संबंधित कौन-सा मुहावरा सही नहीं है?

- Ans 1. आंखों में खटकना
 2. आंखों में पड़ना
 3. आंखों का पानी ढल जाना
 4. आंखें लड़ना

Question ID : 63068032525
Chosen Option : 3

Q.3 "छोटे बच्चे की मुस्कराहट अत्यन्त प्यारी है।" वाक्य में भाववाचक संज्ञा है:

- Ans
- 1. अत्यन्त
 - 2. प्यारी
 - 3. मुस्कराहट
 - 4. बच्चे

Question ID : 63068032530

Chosen Option : 3

Q.4 पंक्तियों का एकवचन रूप लिखिए।

- Ans
- 1. पंक्ति
 - 2. पंक्तियाओं
 - 3. पंक्तियों
 - 4. पंक्त

Question ID : 63068032526

Chosen Option : 1

Q.5 'रीझना' शब्द के विलोम की सही पहचान कीजिए।

- Ans
- 1. खीझना
 - 2. रिझवार
 - 3. बूझना
 - 4. लुभना

Question ID : 63068032502

Chosen Option : 1

Q.6 कौन सा शब्द पुल्लिंग है?

- Ans
- 1. सभा
 - 2. मंडल
 - 3. संसद
 - 4. मंडली

Question ID : 63068032531

Chosen Option : 3

Q.7 'एक + एक' की सन्धि क्या होगी?

- Ans
- 1. एकेक
 - 2. एकैक
 - 3. ऐकक
 - 4. अनेक

Question ID : 63068032529

Chosen Option : 2

Q.8 प्रश्न चिह्न का उचित प्रयोग किस वाक्य में नहीं हुआ है?

- Ans
- 1. क्या वह बैल तुम्हारा ही है?
 - 2. यह किताब किस की है?
 - 3. कलकत्ते की राजधानी बताओ?
 - 4. वह कहाँ गया है?

Question ID : 63068032528

Chosen Option : 3

Q.9 "मालिक नौकर से काम करवाता है।" वाक्य से क्रिया के किस भेद का पता चलता है?

- Ans
- 1. नामधातु क्रिया
 - 2. प्रेरणार्थक क्रिया
 - 3. संयुक्त क्रिया
 - 4. पूर्वकालिक क्रिया

Question ID : 63068032524

Chosen Option : 2

Q.10 "वह एक अच्छा छात्र है।" वाक्य में पुरुष का भेद बताइए।

- Ans
- 1. अन्य पुरुष
 - 2. द्वितीय पुरुष
 - 3. मध्यम पुरुष
 - 4. उत्तम पुरुष

Question ID : 63068032527

Chosen Option : 4