

Forest Department



Participant ID:	www.exammix.com
Participant Name:	
Test Center Name:	
Test Date:	04/03/2021
Test Time:	8:30 AM - 10:30 AM
Subject:	Forest Guard

Section : General Intelligence and Reasoning Ability

Q.1 दिए गए विकल्पों में से तीन एक निश्चित तरीके से समान हैं। हालाँकि, एक विकल्प अन्य तीन की तरह नहीं है। उस विकल्प का चयन करें जो अन्य से अलग है।

- Ans
- 1. 224
 - 2. 149
 - 3. 273
 - 4. 196

Question ID : 59445930630
Status : Answered
Chosen Option : 3

Q.2 यदि NOISE को 28-45-18-57-10 के रूप में कोडित किया गया है, तो TRUMP का कोड क्या है?

- Ans
- 1. 40-54-42-39-32
 - 2. 40-36-42-26-32
 - 3. 60-54-42-39-48
 - 4. 60-54-63-39-48

Question ID : 59445930623
Status : Not Answered
Chosen Option : --

Q.3 उस विकल्प का चयन करें जो तीसरे पद से उसी प्रकार से संबंधित है जिस प्रकार से दूसरा पद पहले पद से संबंधित है।

KQW : INS :: TGA : ?

- Ans
- 1. SFZ
 - 2. PEX
 - 3. QCY
 - 4. RDW

Question ID : 59445930619
Status : Answered
Chosen Option : 4

Q.4 दिए गए विकल्पों में से तीन एक निश्चित तरीके से समान हैं। हालाँकि, एक विकल्प अन्य तीन की तरह नहीं है। उस विकल्प का चयन करें जो अन्य से अलग है।

- Ans
- 1. 7-340
 - 2. 6-213
 - 3. 5-122
 - 4. 9-727

Question ID : 59445930628
Status : Answered
Chosen Option : 4

Q.5 निम्नलिखित संख्या श्रृंखला में लुप्त संख्या ज्ञात करें।

864, 288, 144, _____, 24, 8

- Ans
- 1. 34
 - 2. 12
 - 3. 48
 - 4. 72

Question ID : 59445930638
Status : Answered
Chosen Option : 4

Q.6 दिए गए शब्दों को उस क्रम में व्यवस्थित करें जिस क्रम में वे शब्दकोश में होते हैं।

1. MADRID
2. MADRAS
3. MAGNET
4. MAGGOT

- Ans
- 1. 1,3,2,4
 - 2. 2,1,3,4
 - 3. 1,2,3,4
 - 4. 2,1,4,3

Question ID : 59445930611
Status : Not Answered
Chosen Option : --

Q.7 नीचे दिए गए समीकरण को सही बनाने के लिए किन दो चिन्हों को गणितीय रूप से परस्पर बदलना चाहिए?

$$162 \div 3 - 9 \times 8 + 37 = 515$$

- Ans
- 1. -, +
 - 2. -, ×
 - 3. +, -
 - 4. +, +

Question ID : 59445930637
Status : Not Answered
Chosen Option : --

Q.8 मनीष ने द्रष्टि से कहा, "तुम मेरी बहन के पति की सास हो।" मनीष से द्रष्टि कैसे संबंधित है?

- Ans
- 1. द्रष्टि, मनीष की सास है
 - 2. द्रष्टि, मनीष की पुत्री है
 - 3. द्रष्टि, मनीष की माता है
 - 4. द्रष्टि, मनीष की बहन है

Question ID : 59445930624

Status : Answered

Chosen Option : 3

Q.9 संजना के पास 1-रुपए के सिक्कों, 5-रुपए के सिक्कों और 10-रुपए के सिक्कों के मूल्यवर्ग में कुल 640 रुपए है। सभी मूल्यवर्ग के लिए सिक्कों की संख्या समान है। उसके पास कुल कितने सिक्के हैं?

- Ans
- 1. 160
 - 2. 80
 - 3. 120
 - 4. 40

Question ID : 59445930643

Status : Answered

Chosen Option : 4

Q.10 वसीम, एकता, दर्श, इमरान, उषा और ज़ेबा केंद्र के सामने मुँह करके एक घेरे में बैठे हैं। उषा, एकता के सामने है, जो ज़ेबा के दाहिने बैठी है। वसीम न तो दर्श के बाजू में है और न ही इमरान के। ज़ेबा, इमरान के सामने नहीं है। इमरान, दर्श के ठीक बाजू में बैठा है। उषा के बाईं ओर कौन है?

- Ans
- 1. वसीम
 - 2. ज़ेबा
 - 3. दर्श
 - 4. इमरान


Question ID : 59445930626

Status : Not Answered

Chosen Option : --

Q.11 दिए गए विकल्पों में से तीन एक निश्चित तरीके से समान हैं। हालाँकि, एक विकल्प अन्य तीन की तरह नहीं है। उस विकल्प का चयन करें जो अन्य से अलग है।

Ans

✗ 1. 

✗ 2. 

✓ 3. 

✗ 4. 

Question ID : 59445930648

Status : Answered

Chosen Option : 3

Q.12 निम्नलिखित अक्षर श्रृंखला में लुप्त पद ज्ञात करें:

CEG, _____, OQS, UWY

Ans ✗ 1. GKM

✓ 2. IKM

✗ 3. JMO

✗ 4. JLN

Question ID : 59445930614

Status : Not Answered

Chosen Option : --

Q.13 दिए गए विकल्पों में से तीन एक निश्चित तरीके से समान हैं। हालाँकि, एक विकल्प अन्य तीन की तरह नहीं है। उस विकल्प का चयन करें जो अन्य से अलग है।

Ans ✓ 1. MQH

✗ 2. TWQ

✗ 3. EHB

✗ 4. UXR

Question ID : 59445930617

Status : Not Answered

Chosen Option : --

Q.14 रजनी, भीम से छह वर्ष बड़ी है। ललिता, वैशाली से तीन वर्ष छोटी है। चार्ली, रजनी से दो वर्ष बड़ा है। वैशाली, रजनी से सात वर्ष छोटी है। दिए गए दोस्तों में से निम्नलिखित में से कौन निश्चित रूप से सबसे छोटा है?

- Ans
- 1. रजनी
 - 2. भीम
 - 3. ललिता
 - 4. वैशाली

Question ID : 59445930625

Status : Answered

Chosen Option : 3

Q.15 दिए गए समीकरण को सही बनाने के लिए निम्नलिखित में से किस दो संख्याओं को आपस में बदलना होगा?
 $7 \times 14 \times 5 + 8 - 14 = 4$

- Ans
- 1. 8 और 5
 - 2. 4 और 7
 - 3. 5 और 4
 - 4. 7 और 5

Question ID : 59445930615

Status : Not Answered

Chosen Option : --

Q.16 दिए गए शब्दों को उस क्रम में व्यवस्थित करें जिस क्रम में वे शब्दकोश में होते हैं।

1. SALIENT
2. SAILORS
3. SALAMON
4. SALVAGE
5. SAIDEST

- Ans
- 1. 5,2,3,1,4
 - 2. 3,5,2,1,4
 - 3. 3,2,1,5,4
 - 4. 5,2,1,3,4

Question ID : 59445930613

Status : Not Answered

Chosen Option : --

Q.17 यदि SAINT = 75, FEATURE = 147, तो AIRCRAFT का कोड क्या होगा?

- Ans
- 1. 128
 - 2. 192
 - 3. 64
 - 4. 256

Question ID : 59445930622

Status : Not Answered

Chosen Option : --

Q.18 निम्नलिखित संख्या श्रृंखला में लुप्त संख्या ज्ञात करें।

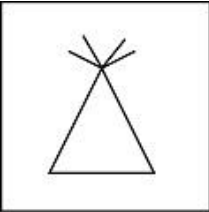
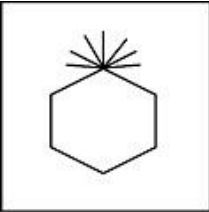

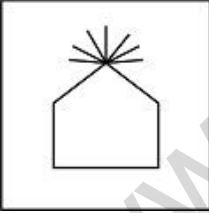
229, 258, 289, ____, 357, 394

- Ans
- 1. 310
 - 2. 340
 - 3. 322
 - 4. 326

Question ID : 59445930640
Status : Answered
Chosen Option : 3

Q.19 दिए गए विकल्पों में से तीन एक निश्चित तरीके से समान हैं। हालाँकि, एक विकल्प अन्य तीन की तरह नहीं है। उस विकल्प का चयन करें जो अन्य से अलग है।

Ans

- 1. 
- 2. 
- 3. 
- 4. 

Question ID : 59445930650
Status : Answered
Chosen Option : 3

Q.20 निम्नलिखित श्रृंखला में लुप्त पद ज्ञात करें:
N5R, S8W, ____, C14G

- Ans
- 1. W11A
 - 2. W11B
 - 3. X11D
 - 4. X11B

Question ID : 59445930612
Status : Answered
Chosen Option : 3

Q.21 दिए गए विकल्पों में से तीन एक निश्चित तरीके से समान हैं। हालाँकि, एक विकल्प अन्य तीन की तरह नहीं है। उस विकल्प का चयन करें जो अन्य से अलग है।

- Ans
- 1. OQM
 - 2. JLH
 - 3. VXT
 - 4. FHC

Question ID : 59445930616
Status : Answered
Chosen Option : 4

Q.22 उस विकल्प का चयन करें जो तीसरे पद से उसी प्रकार से संबंधित है जिस प्रकार से दूसरा पद पहले पद से संबंधित है।

17 : 306 :: 23 : ?

- Ans
- 1. 506
 - 2. 552
 - 3. 575
 - 4. 529

Question ID : 59445930632
Status : Answered
Chosen Option : 2

Q.23 एक निश्चित कोड भाषा में, CABLE को HFGQJ के रूप में कोडित किया गया है, तो JOINT का कोड क्या है?

- Ans
- 1. NSMRX
 - 2. OTNSY
 - 3. PUOTZ
 - 4. MQNSW

Question ID : 59445930621
Status : Not Answered
Chosen Option : --

Q.24 मीना 12 km उत्तर की ओर सवारी करती है, फिर अपनी बाईं ओर मुड़ती है और 10 km सवारी करती है। नीना 22 km पश्चिम की ओर सवारी करती है, फिर उत्तर की ओर मुड़ती है और 8 km सवारी करती है, फिर पूर्व की ओर मुड़ती है और 5 km सवारी करती है, फिर अपनी बाईं ओर मुड़ती है और 4 km सवारी करती है। नीना के संबंध में अब मीना कहां है

- Ans
- 1. 7 km पश्चिम
 - 2. 20 km पश्चिम
 - 3. 7 km पूर्व
 - 4. 20 km पूर्व

Question ID : 59445930645
Status : Answered
Chosen Option : 1

Q.25 1320 व्यक्तियों के एक समूह में पुरुष और महिलाएं हैं। प्रति 11 महिलाओं के लिए एक पुरुष है। समूह में कितने पुरुष हैं?

- Ans
- 1. 125
 - 2. 120
 - 3. 115
 - 4. 110

Question ID : 59445930642
Status : Answered
Chosen Option : 2

Q.26 उस विकल्प का चयन करें जो तीसरे पद से उसी प्रकार से संबंधित है जिस प्रकार से दूसरा पद पहले पद से संबंधित है।

बढ़ई : फ़र्नीचर :: किसान : ?

- Ans
- 1. पानी
 - 2. हल
 - 3. फसल
 - 4. खेत

Question ID : 59445930618
Status : Answered
Chosen Option : 3

Q.27 निम्नलिखित संख्या श्रृंखला में लुप्त संख्या ज्ञात करें।

11, 18, 27, _____, 51

- Ans
- 1. 39
 - 2. 37
 - 3. 36
 - 4. 38

Question ID : 59445930639
Status : Answered
Chosen Option : 1

Q.28 नीचे दिए गए समीकरण को सही बनाने के लिए किन दो चिन्हों को गणितीय रूप से परस्पर बदलना चाहिए?

$$168 \times 8 \div 4 + 12 - 27 = 69$$

- Ans
- 1. +, -
 - 2. +, +
 - 3. x, ÷
 - 4. ÷, -

Question ID : 59445930635
Status : Not Answered
Chosen Option : --

Q.29 अमन 3 km पश्चिम में जोग करता है, वह फिर अपनी बाईं ओर 45 डिग्री मुड़ता है और 2 km जोग करता है, फिर वह अपनी बाईं ओर 90 डिग्री मुड़ता है और 3 km जोग करता है, फिर वह अपने दाईं ओर 180 डिग्री मुड़ता है। अब उसका मुँह किस दिशा में है?

- Ans
- 1. दक्षिण-पूर्व
 - 2. उत्तर-पश्चिम
 - 3. दक्षिण-पश्चिम
 - 4. उत्तर-पूर्व

Question ID : 59445930644
Status : Answered
Chosen Option : 2

Q.30 यदि $19\$3 = 110$, $21\$6 = 135$, तो $28\$2 = ?$

- Ans
- 1. 220
 - 2. 180
 - 3. 150
 - 4. 340

Question ID : 59445930641
Status : Not Answered
Chosen Option : --

Q.31 उस विकल्प का चयन करें जो तीसरे पद से उसी प्रकार से संबंधित है जिस प्रकार से दूसरा पद पहले पद से संबंधित है।

94 : 370 :: 47 : ?

- Ans
- 1. 188
 - 2. 180
 - 3. 182
 - 4. 176

Question ID : 59445930631
Status : Not Answered
Chosen Option : --

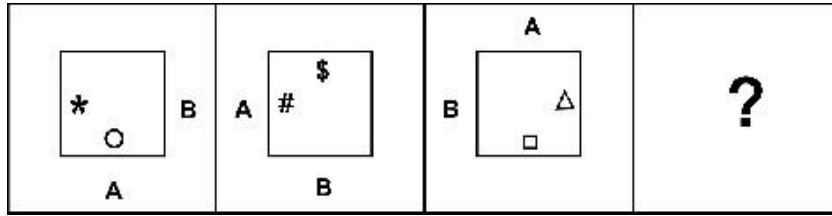
Q.32 नीचे दिए गए समीकरण को सही बनाने के लिए किन दो संख्याओं को गणितीय रूप से परस्पर बदलना चाहिए?

$125 + 256 \div 8 \times 16 - 39 = 214$

- Ans
- 1. 8, 16
 - 2. 256, 16
 - 3. 125, 39
 - 4. 16, 39

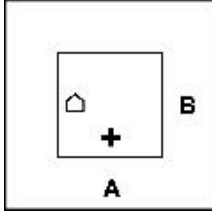
Question ID : 59445930636
Status : Not Answered
Chosen Option : --

Q.33 निम्नलिखित में से कौन सी उत्तर आकृति प्रश्न आकृति की श्रृंखला को पूरा करती है?

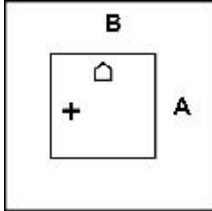


Ans

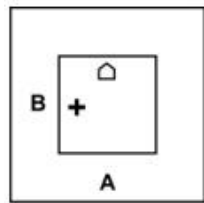
✗ 1.



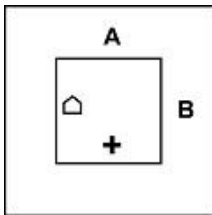
✓ 2.



✗ 3.



✗ 4.



Question ID : 59445930647

Status : Answered

Chosen Option : 3

Q.34 विनीत 8 km दक्षिण में साइकिल चलाता है, फिर पश्चिम की ओर मुड़ता है और 9 km साइकिल चलाता है, फिर उत्तर की ओर मुड़ता है और 6 km चलाता है, फिर पूर्व की ओर मुड़ता है और 5 km साइकिल चलाता है, फिर अपनी बाईं ओर मुड़ता है और 2 km साइकिल चलाता है। अपने शुरुआती स्थान के संबंध में अब वह कहां है?

Ans

✗ 1. 13 km पूर्व

✗ 2. 4 km पूर्व

✓ 3. 4 km पश्चिम

✗ 4. 13 km पश्चिम

Question ID : 59445930646

Status : Answered

Chosen Option : 3

Q.35 उस जोड़ी का चयन करें जो प्रश्न में दी गई जोड़ी से समान प्रकार से संबंधित है।

29 : 812 :: ?

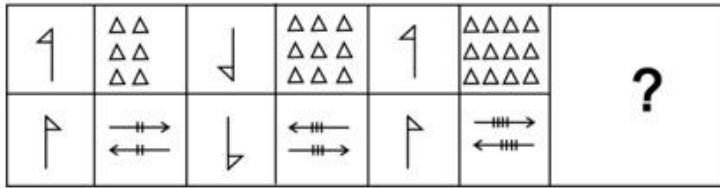
- Ans 1. 21 : 483
 2. 19 : 342
 3. 22 : 506
 4. 15 : 272

Question ID : 59445930633

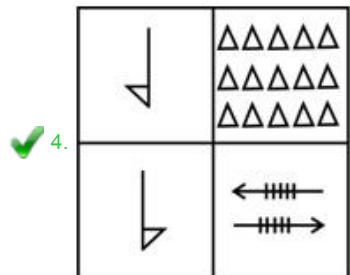
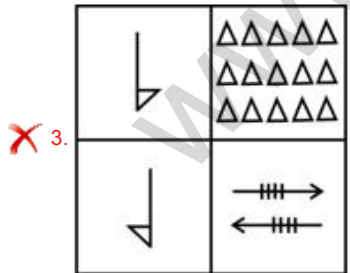
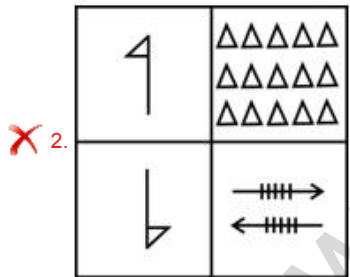
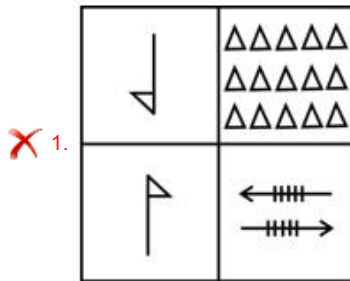
Status : Not Answered

Chosen Option : --

Q.36 निम्नलिखित में से कौन सी उत्तर आकृति प्रश्न आकृति की श्रृंखला को पूरा करती है?



Ans



Question ID : 59445930649

Status : Answered

Chosen Option : 1

Q.37 नीचे दिए गए समीकरण को सही बनाने के लिए किन दो संख्याओं को गणितीय रूप से परस्पर बदलना चाहिए?

$$48 \div 3 \times 4 + 16 - 15 = 37$$

- Ans
- 1. 4, 16
 - 2. 16, 15
 - 3. 3, 4
 - 4. 48, 15

Question ID : 59445930634
Status : Not Answered
Chosen Option : --

Q.38 उस जोड़ी का चयन करें जो प्रश्न में दी गई जोड़ी से समान प्रकार से संबंधित है।

FMS : JIW :: ?

- Ans
- 1. BMS : DPZ
 - 2. BOP : EQX
 - 3. BNS : FJW
 - 4. CMT : GKY

Question ID : 59445930620
Status : Answered
Chosen Option : 2

Q.39 निम्नलिखित संख्या श्रृंखला को पूरा करें:

13, 25, 41, 61, _____

- Ans
- 1. 96
 - 2. 82
 - 3. 98
 - 4. 85

Question ID : 59445930629
Status : Answered
Chosen Option : 4

Q.40 निम्नलिखित संख्या श्रृंखला को पूरा करें:

79, 62, 47, 34, _____

- Ans
- 1. 28
 - 2. 24
 - 3. 25
 - 4. 23

Question ID : 59445930627
Status : Answered
Chosen Option : 1

Section : General Awareness

Q.1 चंदेरी का युद्ध कब लड़ा गया था?

- Ans
- 1. 1576
 - 2. 1528
 - 3. 1549
 - 4. 1582

Question ID : 59445930660

Status : Answered

Chosen Option : 2

Q.2 UPU का पूर्ण प्रपत्र _____ है।

- Ans
- 1. यूनाइटेड प्रॉपर्टी यूनियन
 - 2. यूनिवर्सल प्रॉपर्टी यूनियन
 - 3. यूनाइटेड पोस्टल यूनियन
 - 4. यूनिवर्सल पोस्टल यूनियन

Question ID : 59445930689

Status : Answered

Chosen Option : 3

Q.3 निम्नलिखित में से किस युगल जोड़ी ने वर्ष 2020 में बुडापेस्ट में अंतर्राष्ट्रीय टेबल टेनिस महासंघ (ITTF) वर्ल्ड टूर हंगरी ओपन में रजत पदक जीता?

- Ans
- 1. बेनेडिक्ट डूडा और पैट्रिक फ्रांज़िस्का
 - 2. हो वान किट और वॉंग चुन टिंग
 - 3. अचंत शरत कमल और ज्ञानसेकरन साथियान
 - 4. प्रकाश पादुकोण और पुल्लेला गोपीचंद

Question ID : 59445930667

Status : Not Answered

Chosen Option : --

Q.4 _____ से एक प्रचंड टाइफून फानफोन गंभीर रूप से टकराया था, जो दिसंबर 19, 2019 को आया था।

- Ans
- 1. चीन
 - 2. फिलीपीन्स
 - 3. इंडोनेशिया
 - 4. जापान

Question ID : 59445930654

Status : Answered

Chosen Option : 4

Q.5 वर्ल्ड गेम्स एथलीट ऑफ द ईयर' पुरस्कार जीतने वाली विश्व की पहली हॉकी खिलाड़ी कौन बनी?

- Ans
- 1. नवजोत कौर
 - 2. रानी रामपाल
 - 3. वंदना कटारिया
 - 4. निक्की प्रधान

Question ID : 59445930668

Status : Answered

Chosen Option : 1

Q.6 _____ मृदा का निर्माण भारी वर्षा द्वारा निक्षालन और जीवाणु द्वारा धरण के नाश के कारण होता है।

- Ans
- 1. जलोढ़
 - 2. लाल
 - 3. खारी
 - 4. लैटेराइट

Question ID : 59445930678
Status : Answered
Chosen Option : 1

Q.7 भारत ने ब्राज़ील पैरा बैडमिंटन इंटरनेशनल चैंपियनशिप 2020 में _____ पदक जीते।

- Ans
- 1. 15
 - 2. 11
 - 3. 9
 - 4. 7

Question ID : 59445930669
Status : Not Answered
Chosen Option : --

Q.8 भारतीय संविधान के निम्नलिखित भाग में से कौन सा पंचायतों से संबंधित है?

- Ans
- 1. X
 - 2. VIII
 - 3. IX
 - 4. VII

Question ID : 59445930663
Status : Answered
Chosen Option : 2

Q.9 भारतीय संविधान की प्रस्तावना में निम्नलिखित में से किस शब्द का अर्थ है कि भारत बाहरी रूप से किसी विदेशी शक्ति के नियंत्रण से मुक्त है और आंतरिक रूप से, इसकी एक स्वतंत्र सरकार है जो सीधे लोगों द्वारा चुनी जाती है और लोगों को नियमन करने वाले कानून बनाती है?

- Ans
- 1. स्वायत्त (सॉवरेन)
 - 2. गणराज्य
 - 3. धर्मनिरपेक्ष
 - 4. लोकतंत्रीय

Question ID : 59445930664
Status : Answered
Chosen Option : 4

Q.10 निम्नलिखित में से कौन सा ऊर्जा का एक नवीकरणीय स्रोत है?

- Ans 1. बायोगैस
 2. प्राकृतिक गैस (प्राकृतिक गैस)
 3. शिलारस (पेट्रोलियम)
 4. कोयला (कोल)

Question ID : 59445930651
Status : Answered
Chosen Option : 4

Q.11 मुद्रा गुणक = _____, जहां R = आरक्षित आवश्यकता है।

- Ans 1. $1/R$
 2. $1+R$
 3. R
 4. $1-R$

Question ID : 59445930682
Status : Not Answered
Chosen Option : --

Q.12 जयप्रकाश नारायण की जन्म जयंती पर नरेंद्र मोदी द्वारा निम्नलिखित कार्यक्रमों में से कौन सा कार्यक्रम शुरू किया गया था?

- Ans 1. संसद आदर्श ग्राम योजना
 2. किसान विकास पत्र
 3. राष्ट्रीय ग्राम स्वराज अभियान
 4. प्रधानमंत्री जीवन ज्योति बीमा योजना

Question ID : 59445930680
Status : Answered
Chosen Option : 3

Q.13 विश्व स्वास्थ्य संगठन का गठन कब हुआ?

- Ans 1. 1954
 2. 1956
 3. 1942
 4. 1948

Question ID : 59445930690
Status : Answered
Chosen Option : 4

Q.14 भारतीय अर्थव्यवस्था _____ अर्थव्यवस्था का एक उदाहरण है।

- Ans 1. मिश्रित
 2. आदेश
 3. परंपरागत
 4. बाजार

Question ID : 59445930681
Status : Answered
Chosen Option : 1

Q.15 निम्नलिखित कारकों में से कौन सा उत्पाद आपूर्ति को प्रभावित नहीं करता है?

- Ans 1. उपभोक्ता की आय
 2. सरकारी नीतियां
 3. उत्पादन लागत
 4. उत्पाद मूल्य

Question ID : 59445930679
Status : Answered
Chosen Option : 1

Q.16 ममलुक राजवंश की स्थापना दिल्ली में _____ द्वारा की गई थी।

- Ans 1. शम्स-उद-दीन इल्तुतमिश
 2. नासिर-उद-दीन महमूद
 3. कुतुब-उद-दीन ऐबक
 4. आरामशाह

Question ID : 59445930661
Status : Answered
Chosen Option : 4

Q.17 विद्युत आवेश की SI इकाई _____ है।

- Ans 1. कूलम्ब
 2. वेबर
 3. टेस्ला
 4. हेनरी

Question ID : 59445930683
Status : Answered
Chosen Option : 1

Q.18 भारतीय संविधान में व्यापार और वाणिज्य की स्वतंत्रता की अवधारणा को _____ के संविधान से उधार लिया गया था।

- Ans 1. फ्रांस
 2. संयुक्त राज्य अमेरिका
 3. कनाडा
 4. ऑस्ट्रेलिया

Question ID : 59445930665
Status : Answered
Chosen Option : 1

Q.19 27 फरवरी, 2020 को 6वां कोस्ट गार्ड OPV-6 वेसल (ऑफशोर पेट्रोल वेसल -6) जिसे "VAJRA" कहा गया था, _____ में प्रक्षेपित किया गया था।

- Ans
- 1. कोलकाता
 - 2. चेन्नई
 - 3. नई दिल्ली
 - 4. मुंबई

Question ID : 59445930657
Status : Answered
Chosen Option : 3

Q.20 भारतीय साधारण बीमा निगम का मुख्यालय _____ में स्थित है।

- Ans
- 1. दिल्ली
 - 2. चेन्नई
 - 3. मुंबई
 - 4. कोलकाता

Question ID : 59445930687
Status : Answered
Chosen Option : 3

Q.21 ऑनलाइन पेमेंट प्रोसेसर वर्ल्डलाइन इंडिया ने बताया कि 2019 में भारत में सबसे अधिक डिजिटल लेनदेन _____ में हुए हैं।

- Ans
- 1. मुंबई
 - 2. कोलकाता
 - 3. चेन्नई
 - 4. बेंगलुरु

Question ID : 59445930656
Status : Answered
Chosen Option : 1

Q.22 भारतीय अंतरिक्ष अनुसंधान संगठन (इसरो) की स्थापना कब की गई थी?

- Ans
- 1. 1965
 - 2. 1975
 - 3. 1972
 - 4. 1969

Question ID : 59445930685
Status : Answered
Chosen Option : 2

Q.23 जब प्रिज्म द्वारा श्वेत प्रकाश को उसके सात-रंग के घटकों में फैलाया जाता है, तो _____ प्रकाश सबसे कम मुड़ता है जबकि _____ सबसे अधिक मुड़ता है।

- Ans
- 1. लाल ; इंडिगो
 - 2. नीला ; हरा
 - 3. लाल ; बैंगनी
 - 4. नीला ; बैंगनी

Question ID : 59445930686
Status : Answered
Chosen Option : 3

Q.24 सतलुज नदी पर निम्न में से कौन से बड़े बाँध बने हैं?

- Ans
- 1. हीराकुद बाँध
 - 2. टिहरी बाँध
 - 3. भाखड़ा नांगल बाँध
 - 4. नागार्जुन सागर बाँध

Question ID : 59445930675
Status : Answered
Chosen Option : 3

Q.25 निम्नलिखित पल्लव राजा में से किसे मामल्ल के नाम से भी जाना जाता था?

- Ans
- 1. नरसिंहवर्मन ।
 - 2. परमेश्वरवर्मन ।
 - 3. महेंद्रवर्मन ।
 - 4. सिंहविष्णु

Question ID : 59445930659
Status : Answered
Chosen Option : 1

Q.26 चेचक या छोटी माता जैसी संक्रामक बीमारी से उबरने के बाद स्थानीय देवता को धन्यवाद देने के लिए मंदिर के परिसर में महिलाओं द्वारा किस कला का प्रदर्शन किया जाता है?

- Ans
- 1. अलकप नृत्य
 - 2. गंभिरा नृत्य
 - 3. डोमनी नृत्य
 - 4. ब्रिता नृत्य

Question ID : 59445930674
Status : Answered
Chosen Option : 3

Q.27 न्यूलु, किंवदंतियों और मिथकों के बारे में एक गीत, _____ राज्य के साथ जुड़ा हुआ है।

- Ans
- 1. मणिपुर
 - 2. राजस्थान
 - 3. महाराष्ट्र
 - 4. नागालैंड

Question ID : 59445930673
Status : Answered
Chosen Option : 1

Q.28 _____ राज्य विधानसभा ने सर्वसम्मति से 27 फरवरी 2020 को 2021 में जाति-आधारित जनगणना की मांग करते हुए एक प्रस्ताव पारित किया।

- Ans
- 1. उत्तर प्रदेश
 - 2. पश्चिम बंगाल
 - 3. बिहार
 - 4. तमिल नाडु

Question ID : 59445930658
Status : Answered
Chosen Option : 3

Q.29 ओडिशा की सबसे ऊंची चोटी, देवमाली _____ पर्वतमाला पर स्थित है।

- Ans
- 1. सतपुड़ा
 - 2. अरावली
 - 3. पश्चिमी घाट
 - 4. पूर्वी घाट

Question ID : 59445930676
Status : Answered
Chosen Option : 3

Q.30 जैविक विविधता अधिनियम _____ में पारित किया गया था।

- Ans
- 1. 1995
 - 2. 2005
 - 3. 2002
 - 4. 2000

Question ID : 59445930652
Status : Answered
Chosen Option : 4

Q.31 साबरमती नदी _____ राज्य से शुरू होती है।

- Ans
- 1. पश्चिम बंगाल
 - 2. मध्य प्रदेश
 - 3. महाराष्ट्र
 - 4. राजस्थान

Question ID : 59445930677
Status : Answered
Chosen Option : 1

Q.32 निम्नलिखित में से किस संवैधानिक संशोधन ने सहकारी समितियों के प्रचार पर राज्य में एक नया नीति निर्देशक तत्व शामिल किया?

- Ans 1. 97वें
 2. 92वें
 3. 86वें
 4. 79वें

Question ID : 59445930666
Status : Answered
Chosen Option : 3

Q.33 सूर्य से उच्च-ऊर्जा एक्स-रे और यूवी विकिरण _____ में अवशोषित होते हैं, जो इसका तापमान सैकड़ों या कई हजारों डिग्री तक बढ़ाता है।

- Ans 1. समतापमण्डल
 2. क्षोभमण्डल
 3. तापमण्डल
 4. मध्यमण्डल

Question ID : 59445930653
Status : Answered
Chosen Option : 1

Q.34 _____ ने हवा में प्रक्षेपित होती कूज मिसाइल Ra'ad-I का सफल परीक्षण किया है।

- Ans 1. इराक
 2. बांग्लादेश
 3. पाकिस्तान
 4. भारत

Question ID : 59445930655
Status : Answered
Chosen Option : 4

Q.35 आगरा के शीश महल का निर्माण _____ द्वारा किया गया था।

- Ans 1. अकबर
 2. बाबर
 3. हुमायूँ
 4. शाह जहाँ

Question ID : 59445930671
Status : Answered
Chosen Option : 1

Q.36 इंडियन ऑयल कॉर्पोरेशन लिमिटेड का मुख्यालय _____ में स्थित है।

- Ans
- 1. चेन्नई
 - 2. नई दिल्ली
 - 3. मुंबई
 - 4. हैदराबाद

Question ID : 59445930688
Status : Answered
Chosen Option : 1

Q.37 फ़र्न _____ का एक उदाहरण है।

- Ans
- 1. थैलोफाइटा
 - 2. ब्रायोफाइटा
 - 3. अनावृतबीजी
 - 4. टेरिडोफाइटा

Question ID : 59445930684
Status : Answered
Chosen Option : 3

Q.38 _____ आंध्र प्रदेश और कर्नाटक के लोगों के लिए एक क्षेत्रीय नववर्ष समारोह है।

- Ans
- 1. पोंगल
 - 2. नाबन्ना
 - 3. उगादी
 - 4. विशु

Question ID : 59445930672
Status : Answered
Chosen Option : 3

Q.39 निम्नलिखित में से किसने जमीनदारी प्रथा की शुरुआत की?

- Ans
- 1. लॉर्ड डलहौजी
 - 2. लॉर्ड कॉर्नवालिस
 - 3. लॉर्ड कैनिंग
 - 4. लॉर्ड हेस्टिंग्स

Question ID : 59445930662
Status : Answered
Chosen Option : 4

Q.40 निम्नलिखित में से किसने ऑस्ट्रेलियाई ओपन 2020 महिला सिंगल जीता?

- Ans
- 1. गरबाइन मुगुरुजा
 - 2. सोफिया केनिन
 - 3. किकी बर्ट्स
 - 4. नाओमी ओसाका

Question ID : 59445930670
Status : Answered
Chosen Option : 4

Q.1 यदि $A:B:C = 16:20:25$ है, तो $B/A:C/B:A/C$ का समानुपाती समतुल्य क्या है?

- Ans
- 1. 125:120:64
 - 2. 125:125:64
 - 3. 120:125:64
 - 4. 125:125:72

Question ID : 59445930706
Status : Not Answered
Chosen Option : --

Q.2 6 सदस्यों वाले परिवार की औसत आयु 43 वर्ष है। माता-पिता की औसत आयु 42 वर्ष और दादा-दादी की औसत आयु 65 वर्ष है। बच्चों की औसत आयु क्या है? (वर्ष में)

- Ans
- 1. 22
 - 2. 24
 - 3. 18
 - 4. 20

Question ID : 59445930708
Status : Answered
Chosen Option : 2

Q.3 100 लीटर दूध और पानी के मिश्रण में दूध और पानी 3:2 के अनुपात में हैं। यदि अनुपात 2:3 होना है, तो कितना पानी, लीटर में डालना चाहिए?

- Ans
- 1. 30
 - 2. 40
 - 3. 50
 - 4. 60

Question ID : 59445930703
Status : Answered
Chosen Option : 3

Q.4 20 फलों के 18 सेट कुल 5400 रुपए में खरीदे जाते हैं और 240 रुपए प्रति दर्जन बेचे जाते हैं। लाभ प्रतिशत क्या है?

- Ans
- 1. 27.27 प्रतिशत
 - 2. 44.44 प्रतिशत
 - 3. 33.33 प्रतिशत
 - 4. 25.00 प्रतिशत

Question ID : 59445930714
Status : Answered
Chosen Option : 4

Q.5 3600 को अभाज्य गुणन के उत्पाद के रूप में व्यक्त किया जा सकता है। विकल्पों में से कौन सा 3600 के बराबर है?

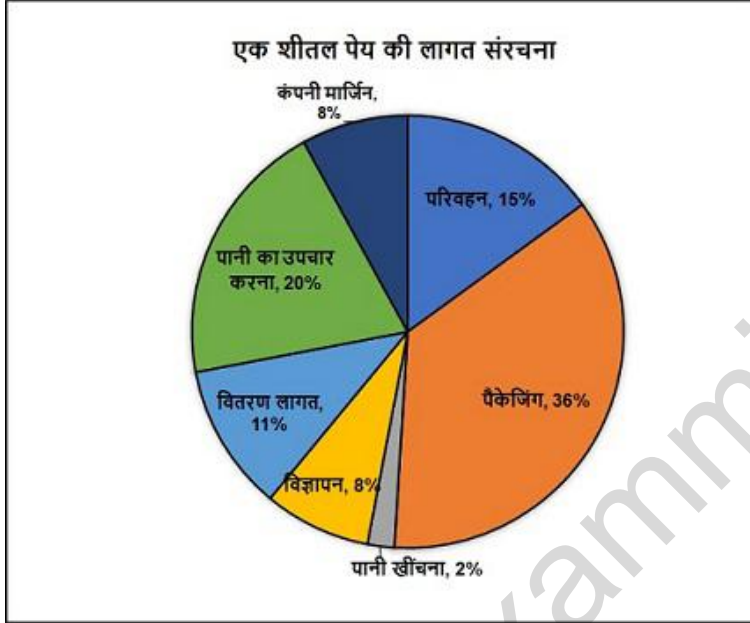
- Ans
- 1. $2 \times 2 \times 2 \times 2 \times 3 \times 3 \times 3 \times 5$
 - 2. $2 \times 2 \times 2 \times 2 \times 2 \times 3 \times 3 \times 5$
 - 3. $2 \times 2 \times 2 \times 2 \times 2 \times 3 \times 5 \times 5$
 - 4. $2 \times 2 \times 2 \times 2 \times 3 \times 3 \times 5 \times 5$

Question ID : 59445930702

Status : Answered

Chosen Option : 3

Q.6 पाई चार्ट एक शीतल पेय बनाने की लागतों के वितरण को दर्शाता है। यदि कंपनी 4000 बोटलों के लिए पानी सींचने के लिए 8000 रुपए का भुगतान करती है, तो पेय की एक बोटल पर कंपनी मार्जिन क्या है?



- Ans
- 1. 6 रुपए
 - 2. 8 रुपए
 - 3. 4 रुपए
 - 4. 2 रुपए

Question ID : 59445930730

Status : Answered

Chosen Option : 2

Q.7 3 संख्या 2:3:4 के अनुपात में हैं और उनका लघुत्तम समापवर्तक 600 है। अधिकतम और न्यूनतम संख्याओं के बीच क्या अंतर है?

- Ans
- 1. 80
 - 2. 120
 - 3. 50
 - 4. 100

Question ID : 59445930700

Status : Answered

Chosen Option : 1

Q.8 किसी उपहार को 3000 रुपए में बेचकर अर्जित किया गया प्रतिशत लाभ उसे 2000 रुपए में बेचने से हुए नुकसान के बराबर है। 40% लाभ कमाने के लिए उसे किस मूल्य पर बेचा जाना चाहिए?

- Ans
- 1. 3750 रुपए
 - 2. 3000 रुपए
 - 3. 3500 रुपए
 - 4. 3250 रुपए

Question ID : 59445930712
Status : Answered
Chosen Option : 1

Q.9 अर्धवार्षिक रूप से चक्रवृद्धि ब्याज पर एक वर्ष में 6000 रुपए से 7260 रुपए की राशि हो जाती है। ब्याज की वार्षिक दर क्या है?

- Ans
- 1. 10.0 प्रतिशत
 - 2. 16.0 प्रतिशत
 - 3. 25.0 प्रतिशत
 - 4. 20.0 प्रतिशत

Question ID : 59445930716
Status : Answered
Chosen Option : 4

Q.10 दो बाइक 20 मिनट के बाद एक दूसरे से मिलने के लिए 60 kms की दूरी से एक साथ चलती हैं। पहली बाइक 80 kmph की गति से यात्रा करती है। दूसरी बाइक की गति क्या है?

- Ans
- 1. 120 kmph
 - 2. 100 kmph
 - 3. 108 kmph
 - 4. 96 kmph

Question ID : 59445930725
Status : Answered
Chosen Option : 1

Q.11 दो हवाई जहाजों की गति का अनुपात 5:6 है। यदि पहला हवाई जहाज 5 घंटे में 4000 kms की दूरी तय करता है तो दूसरे हवाई जहाज की गति क्या है?

- Ans
- 1. 920 kmph
 - 2. 880 kmph
 - 3. 960 kmph
 - 4. 1080 kmph

Question ID : 59445930723
Status : Answered
Chosen Option : 3

Q.12 सबसे छोटी 5-अंकीय संख्या का योग ज्ञात करें जो 11 से विभाज्य है।

- Ans
- 1. 4
 - 2. 2
 - 3. 5
 - 4. 3

Question ID : 59445930693

Status : Answered

Chosen Option : 4

Q.13 सबसे छोटी 6-अंकीय संख्या और सबसे बड़ी 4-अंकीय संख्या के बीच का अंतर ज्ञात करें।

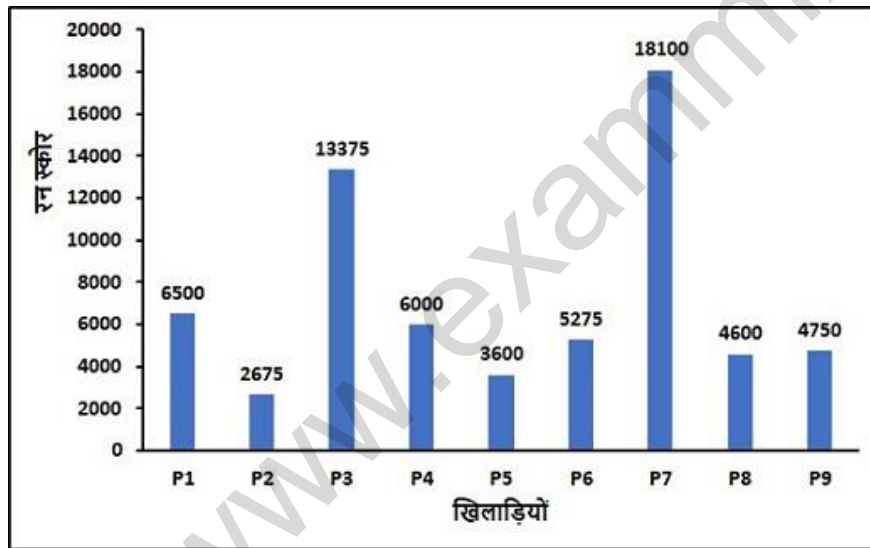
- Ans
- 1. 89999
 - 2. 90011
 - 3. 99001
 - 4. 90001

Question ID : 59445930691

Status : Answered

Chosen Option : 4

Q.14 ग्राफ 9 विभिन्न खिलाड़ियों द्वारा बनाए गए रन को दर्शाता है। सबसे ज्यादा रन बनाने वाले 2 बल्लेबाजों और सबसे कम रन बनाने वाले 2 बल्लेबाजों के बीच अंतर क्या है?



- Ans
- 1. 25200 रन
 - 2. 24800 रन
 - 3. 25000 रन
 - 4. 25400 रन

Question ID : 59445930727

Status : Not Answered

Chosen Option : --

Q.15 A, 8 दिनों में एक काम कर सकता है, B इसे 4 दिनों में कर सकता है। C की मदद से, वे इसे 2 दिनों में करते हैं। C अकेले कितने दिनों में काम कर सकता है?

- Ans
- 1. 4
 - 2. 2
 - 3. 16
 - 4. 8

Question ID : 59445930724
Status : Answered
Chosen Option : 4

Q.16 एक आयत के एक साइड की लंबाई और उसका विकर्ण क्रमशः 16 cm और 34 cm हैं। समकोण का क्षेत्रफल ज्ञात करें (sq cm में)।

- Ans
- 1. 480
 - 2. 160
 - 3. 320
 - 4. 80

Question ID : 59445930720
Status : Answered
Chosen Option : 1

Q.17 $\{(136/1.7) \times (85/(20-(9^{0.50})))\}^{0.5}$ का मान क्या है?

- Ans
- 1. 40
 - 2. 10
 - 3. 80
 - 4. 20

Question ID : 59445930698
Status : Not Answered
Chosen Option : --

Q.18 सतह क्षेत्र 2464 sq cm के गोले का व्यास का क्या है?

- Ans
- 1. 28 cm
 - 2. 32 cm
 - 3. 14 cm
 - 4. 16 cm

Question ID : 59445930719
Status : Not Answered
Chosen Option : --

Q.19 सबसे बड़ी संख्या क्या है जिससे 219 और 689 को विभाजित करने पर क्रमशः 3 और 5 शेषफल रहता है?

- Ans
- 1. 18
 - 2. 54
 - 3. 36
 - 4. 72

Question ID : 59445930699
Status : Answered
Chosen Option : 2

Q.20 एक राशि 2 वर्ष के लिए 10 प्रतिशत का चक्रवृद्धि ब्याज प्रदान करती है। 3 वर्ष के लिए साधारण ब्याज को किस दर पर पेश किया जाना चाहिए ताकि ब्याज की समान राशि अर्जित की जा सके?

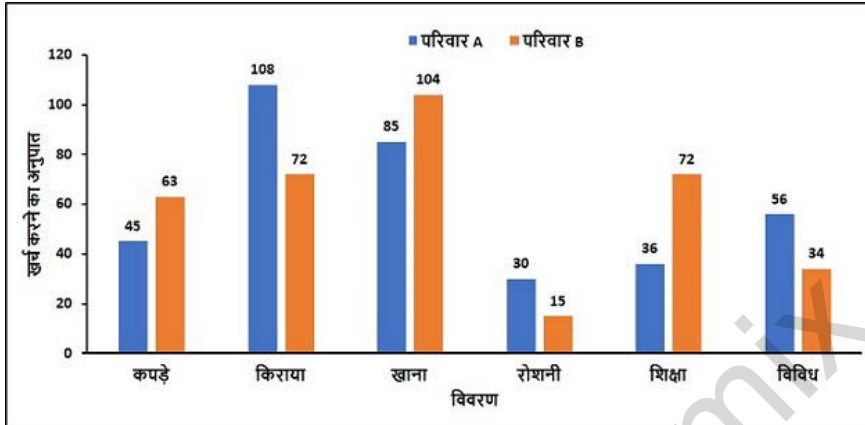
- Ans
- 1. 8.00 प्रतिशत
 - 2. 5.00 प्रतिशत
 - 3. 7.00 प्रतिशत
 - 4. 6.00 प्रतिशत

Question ID : 59445930717

Status : Answered

Chosen Option : 3

Q.21 चार्ट एक वर्ष में दो परिवारों के खर्च के अलग-अलग अनुपात दर्शाता है। यदि दो परिवारों द्वारा कुल खर्च समान है, और परिवार A प्रकाश पर 6000 रुपए खर्च करता है, तो परिवार B कपड़ों पर कितना खर्च करता है?



- Ans
- 1. 12600 रुपए
 - 2. 11200 रुपए
 - 3. 10800 रुपए
 - 4. 9000 रुपए

Question ID : 59445930728

Status : Answered

Chosen Option : 1

Q.22 एक विक्रेता ने रु. 1 में 6 टॉफियां खरीदकर प्रत्येक को रु. 0.125 के हिसाब से बेच दिया। प्रतिशत हानि ज्ञात करें।

- Ans
- 1. 20 प्रतिशत
 - 2. 15 प्रतिशत
 - 3. 40 प्रतिशत
 - 4. 25 प्रतिशत

Question ID : 59445930713

Status : Answered

Chosen Option : 4

Q.23 2.25 वर्षों में साधारण ब्याज पर 45% की वृद्धि हुई है। उसी दर पर 3 वर्ष बाद 30000 रुपए का चक्रवृद्धि ब्याज क्या होगा?

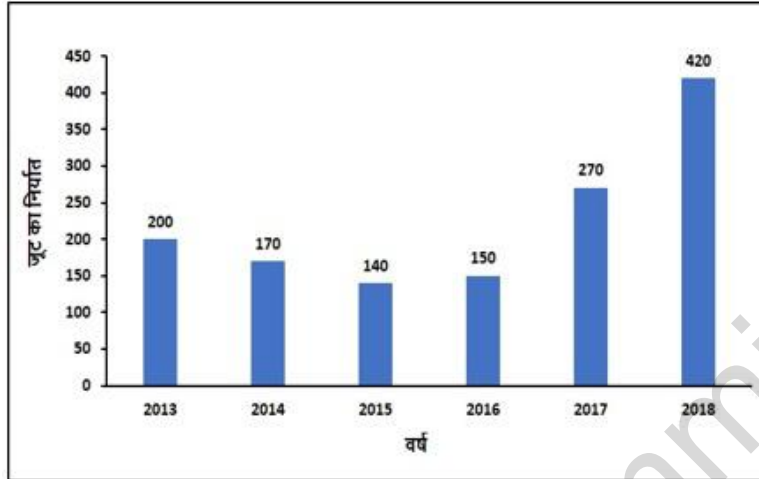
- Ans
- 1. 21,630 रुपए
 - 2. 21,210 रुपए
 - 3. 21,840 रुपए
 - 4. 21,420 रुपए

Question ID : 59445930718

Status : Not Answered

Chosen Option : --

Q.24 चार्ट विभिन्न वर्षों में टन में जूट के निर्यात को दर्शाता है। कितने वर्षों में निर्यात औसत निर्यात से अधिक था?



- Ans
- 1. 4
 - 2. 1
 - 3. 2
 - 4. 3

Question ID : 59445930729

Status : Not Answered

Chosen Option : --

Q.25 P रोजाना 6 घंटे काम करके 12 दिनों में एक काम को कर सकता है, Q इसे रोजाना 8 घंटे काम करके 8 दिनों में कर सकता है। एक दिन में 8 घंटे काम करके वे कितने दिनों में एक साथ काम पूरा कर सकते हैं?

- Ans
- 1. 72/19
 - 2. 72/17
 - 3. 75/17
 - 4. 75/19

Question ID : 59445930726

Status : Answered

Chosen Option : 4

Q.26 दो संख्या एक सामान्य संख्या 100 से 50% और 20% अधिक हैं। दो संख्याओं के वर्गों के बीच क्या अंतर है?

- Ans
- 1. 2700
 - 2. 5400
 - 3. 10800
 - 4. 8100

Question ID : 59445930704
Status : Answered
Chosen Option : 4

Q.27 1110100 बाइनरी को दशमलव में बदलें।

- Ans
- 1. 115
 - 2. 117
 - 3. 116
 - 4. 114

Question ID : 59445930692
Status : Answered
Chosen Option : 2

Q.28 संख्या 52×49 से विभाज्य है। वह संख्या ज्ञात करें जो X को प्रतिस्थापित कर सके।

- Ans
- 1. 7
 - 2. 6
 - 3. 4
 - 4. 5

Question ID : 59445930694
Status : Answered
Chosen Option : 1

Q.29 25 आम और 1 सेब की औसत कीमत 20 रुपए है। जब सेब को बाहर रखा जाता है, तो औसत 0.5 से कम हो जाता है। सेब की कीमत क्या है?

- Ans
- 1. 38 रुपए
 - 2. 35 रुपए
 - 3. 30 रुपए
 - 4. 32.50 रुपए

Question ID : 59445930710
Status : Answered
Chosen Option : 4

Q.30 5 वर्षों के लिए 8% की ब्याज दर पर 12,000 रुपए की राशि पर अर्जित साधारण ब्याज क्या है?

- Ans
- 1. 3,600 रुपए
 - 2. 4,200 रुपए
 - 3. 4,800 रुपए
 - 4. 2,400 रुपए

Question ID : 59445930715
Status : Answered
Chosen Option : 3

Q.31 X ने 1000 रुपए का सामान खरीदा। बाद में उसे 20% की छूट मिली और फिर उसे 5% के बिक्री कर का भुगतान करना पड़ा। वह राशि क्या है जो उसे चुकानी होगी?

- Ans
- 1. 880 रुपए
 - 2. 820 रुपए
 - 3. 840 रुपए
 - 4. 920 रुपए

Question ID : 59445930707
Status : Answered
Chosen Option : 3

Q.32 एक घंटे का कौन सा दशमलव मिनट है?

- Ans
- 1. 0.01667
 - 2. 0.02222
 - 3. 0.03333
 - 4. 0.01333

Question ID : 59445930695
Status : Answered
Chosen Option : 1

Q.33 एक समचतुर्भुज का क्षेत्रफल क्या है यदि उसके विकर्ण की लंबाई 12 cm और 16 cm है?

- Ans
- 1. 192 sq cm
 - 2. 96 sq cm
 - 3. 384 sq cm
 - 4. 108 sq cm

Question ID : 59445930721
Status : Answered
Chosen Option : 3

Q.34 A, B और C एक वृत्ताकार पथ पर जाँगिंग शुरू करते हैं। वे 1 राउंड को पूरा करने के लिए क्रमशः 720 सेकंड, 900 सेकंड और 1200 सेकंड लेते हैं। वे एक साथ 6 पूर्वाहन में शुरू करते हैं। अगले किस समय वे एक साथ होंगे?

- Ans
- 1. 7:00 पूर्वाहन
 - 2. 6:30 पूर्वाहन
 - 3. 6:20 पूर्वाहन
 - 4. 6:45 पूर्वाहन

Question ID : 59445930701
Status : Answered
Chosen Option : 2

Q.35 एक चक्कीवाला दो तरह का गेहूं मिश्रित करता है। पहले 35 kgs का मूल्य 30 रुपए प्रति kg है और अन्य 15 kgs की कीमत 50 प्रति kg है। मिश्रित को 45 रुपए प्रति kg के हिसाब से बेचा जाता है। लाभ प्रतिशत क्या है?

- Ans
- 1. 25 प्रतिशत
 - 2. 50 प्रतिशत
 - 3. 20 प्रतिशत
 - 4. 40 प्रतिशत

Question ID : 59445930711
Status : Answered
Chosen Option : 2

Q.36 56.25 और 12.25544 के उत्पाद में दशमलव बिंदु के दाईं ओर कितने महत्वपूर्ण अंक होंगे?

- Ans
- 1. 4
 - 2. 6
 - 3. 5
 - 4. 7

Question ID : 59445930697
Status : Answered
Chosen Option : 1

Q.37 किसी उत्पाद की कीमत मूल कीमत के कुल 40 प्रतिशत से दो बार घटाई गई। पहली गिरावट 1500 रुपए से 1200 रुपए थी। दूसरी गिरावट कितनी थी ताकि कुल गिरावट का प्रभाव दिखा सके?

- Ans
- 1. 33.75 प्रतिशत
 - 2. 37.50 प्रतिशत
 - 3. 50 प्रतिशत
 - 4. 40 प्रतिशत

Question ID : 59445930709
Status : Answered
Chosen Option : 1

Q.38 एक घन का आयतन 1728 cu m है। इसका कुल क्षेत्रफल ज्ञात करें (sq. m में)।

- Ans
- 1. 729
 - 2. 864
 - 3. 512
 - 4. 686

Question ID : 59445930722
Status : Answered
Chosen Option : 3

Q.39 यदि 340 रुपए को तीन भागों में विभाजित किया जाता है, जो 1/5:3/5:1/3 के समानुपात में है, तो उच्चतम और निम्नतम भागों में क्या अंतर है?

- Ans
- 1. 60 रुपए
 - 2. 170 रुपए
 - 3. 150 रुपए
 - 4. 120 रुपए

Question ID : 59445930705
Status : Answered
Chosen Option : 4

Q.40 एक बैंक खाते में 234.56 रुपए का बैलेंस था। 123.45 रुपए को जमा किया गया था और खाते से 67.89 रुपए निकाले गए थे। अब बैंक बैलेंस कितना है?

- Ans
- 1. 296.12 रुपए
 - 2. 290.12 रुपए
 - 3. 288.12 रुपए
 - 4. 292.12 रुपए

Question ID : 59445930696
Status : Answered
Chosen Option : 2

Section : English Language and Comprehension

Q.1 Select the most appropriate 'one word' for the expressions given below:

Characterized by or displaying great generosity.

- Ans
- 1. Niggardly
 - 2. Munificent
 - 3. Magnanimous
 - 4. Facilitate

Question ID : 59445930741
Status : Answered
Chosen Option : 3

Q.2 Select the word that is opposite in meaning (ANTONYM) to the word given below:

Lurid

- Ans
- 1. Intense
 - 2. Beastly
 - 3. Brilliant
 - 4. Subtle

Question ID : 59445930749
Status : Answered
Chosen Option : 3

Q.3 Four words are given, out of which only one word is spelt correctly. Choose the correctly spelt word.

- Ans
- 1. Masqueredede
 - 2. Masquerade
 - 3. Masquarade
 - 4. Masqurade

Question ID : 59445930752
Status : Answered
Chosen Option : 4

Q.4 The sentence below has been divided into three parts. Select the part of the sentence that has an error. If the sentence has no error, select the option 'No Error'.

The loss of her loved ones/ has made her the bitter person/ she is today?

- Ans
- 1. The loss of her loved ones
 - 2. she is today?
 - 3. No error
 - 4. has made her the bitter person

Question ID : 59445930734
Status : Answered
Chosen Option : 4

Q.5 Select the word that is closest in meaning (SYNONYM) to the word given below:

Tryst

- Ans
- 1. Stain
 - 2. Meet
 - 3. Trust
 - 4. Transfer

Question ID : 59445930743
Status : Answered
Chosen Option : 3

Q.6 Select the most appropriate meaning of the given idiom

Until the cows come home

- Ans
- 1. Time goes very fast
 - 2. The outcome will soon be known
 - 3. An enjoyable time of your life
 - 4. For a long time

Question ID : 59445930760
Status : Answered
Chosen Option : 2

Q.7 Four words are given, out of which only one word is spelt correctly. Choose the correctly spelt word.

- Ans 1. Meticulous
 2. Meticulus
 3. Meticuluous
 4. Metilious

Question ID : 59445930753
Status : Answered
Chosen Option : 2

Q.8 A sentence has been given in Active/Passive voice. Out of the four alternatives suggested, select the one which best expresses the same sentence in Passive/Active voice.

She has been connivingly luring you and betraying your trust.

- Ans 1. You are being connivingly lured and betrayed by her
 2. You have been being connivingly lured and betrayed.
 3. Betraying your trust and luring you has been her cunning.
 4. She has been being connivingly luring and betraying your trust.

Question ID : 59445930765
Status : Answered
Chosen Option : 4

Q.9 Select the most appropriate 'one word' for the expressions given below:

The supposed practice of communicating with the dead, especially in order to predict the future.

- Ans 1. Puerile
 2. Quaff
 3. Nascent
 4. Necromancy

Question ID : 59445930739
Status : Answered
Chosen Option : 4

Q.10 Fill in with the blank with the correct Part of Speech

We were told we couldn't leave the airport until next morning, except _____ police permit.

- Ans 1. under
 2. of
 3. with
 4. without

Question ID : 59445930737
Status : Answered
Chosen Option : 1

Q.11 Select the most appropriate meaning of the given idiom

A hell of a time

- Ans 1. A difficult or exciting experience
 2. Without stopping
 3. Said to convey impatience
 4. Finish something before the deadline

Question ID : 59445930756
Status : Not Answered
Chosen Option : --

Q.12 Select the word that is closest in meaning (SYNONYM) to the word given below:

Unprecedented

- Ans 1. Unrivalled
 2. Unsparing
 3. Prodigal
 4. Parallel

Question ID : 59445930744
Status : Not Answered
Chosen Option : --

Q.13 Select the most appropriate meaning of the given idiom

Give a hard time

- Ans 1. Having limited time available
 2. The right time to accomplish something
 3. A critical period
 4. Tease or bother someone

Question ID : 59445930761
Status : Not Answered
Chosen Option : --

Q.14 Select the most appropriate 'one word' for the expressions given below:

Interpret in the wrong way.

- Ans 1. Misconstrue
 2. Meek
 3. Meander
 4. Medley

Question ID : 59445930740
Status : Not Answered
Chosen Option : --

Q.15 Fill in with the blanks with the correct Part of Speech

The government continues to prioritize the water and sanitation sector _____ the key pillars _____ a part of broader rural development scheme.

- Ans
- 1. from ; of
 - 2. like ; from
 - 3. as ; of
 - 4. like ; of

Question ID : 59445930735
Status : Not Answered
Chosen Option : --

Q.16 Select the word that is opposite in meaning (ANTONYM) to the word given below:

Maladroit

- Ans
- 1. Inept
 - 2. Awkward
 - 3. Arrogant
 - 4. Skilful

Question ID : 59445930748
Status : Not Answered
Chosen Option : --

Q.17 Select the word that is closest in meaning (SYNONYM) to the word given below:

Vantage

- Ans
- 1. Vital
 - 2. Vengeance
 - 3. Unfrock
 - 4. Outlook

Question ID : 59445930746
Status : Not Answered
Chosen Option : --

Q.18 A sentence has been given in Active/Passive voice. Out of the four alternatives suggested, select the one which best expresses the same sentence in Passive/Active voice.

She had laid down her final efforts with that attempt.

- Ans
- 1. Her final efforts had been laid down with that attempt.
 - 2. With that attempt, she lays down her final attempt.
 - 3. Her final efforts were laid down with that attempt.
 - 4. With that attempt she has had laid down her final effort.

Question ID : 59445930763
Status : Not Answered
Chosen Option : --

Q.19 Four words are given, out of which only one word is spelt correctly. Choose the correctly spelt word.

- Ans
- 1. Injudious
 - 2. Injuidious
 - 3. Injidious
 - 4. Injudicious

Question ID : 59445930754
Status : Not Answered
Chosen Option : --

Q.20 The sentence below has been divided into three parts. Select the part of the sentence that has an error. If the sentence has no error, select the option 'No Error'.

The late B.B. King was one/ of the greatest blues guitar player/ to have walked on the face of the Earth.

- Ans
- 1. of the greatest blues guitar player
 - 2. No error
 - 3. The late B.B. King was one
 - 4. to have walked on the face of the Earth.

Question ID : 59445930733
Status : Not Answered
Chosen Option : --

Q.21 Select the most appropriate meaning of the given idiom

Bust my chops

- Ans
- 1. An adored person
 - 2. Worsen an unfavourable situation
 - 3. (acting upon oneself) To exert a significant amount of energy to do, accomplish, or complete something.
 - 4. Being nervous or anxious before a big event

Question ID : 59445930757
Status : Not Answered
Chosen Option : --

Q.22 Select the most appropriate meaning of the given idiom

Face the music

- Ans
- 1. Try not to fall behind
 - 2. Trying something that is much too difficult for one's ability
 - 3. Deal with unpleasant consequences
 - 4. Doing something barely or narrowly

Question ID : 59445930758
Status : Not Answered
Chosen Option : --

Q.23 Select the most appropriate meaning of the given idiom

Have your head in the clouds

- Ans
- 1. To be deeply in love
 - 2. To be unaware or oblivious
 - 3. Promise to keep a secret
 - 4. Relax and have fun

Question ID : 59445930759
Status : Not Answered
Chosen Option : --

Q.24 Four words are given, out of which only one word is spelt correctly. Choose the correctly spelt word.

- Ans
- 1. Segeragate
 - 2. Segergete
 - 3. Segargate
 - 4. Segregate

Question ID : 59445930751
Status : Not Answered
Chosen Option : --

Q.25 The sentence below has been divided into three parts. Select the part of the sentence that has an error. If the sentence has no error, select the option 'No Error'.

The mastermind behind/ the entire fiasco was none/ other than your own brother.

- Ans
- 1. the entire fiasco was none
 - 2. other than your own brother.
 - 3. The mastermind behind
 - 4. No error

Question ID : 59445930731
Status : Not Answered
Chosen Option : --

Q.26 The sentence below has been divided into three parts. Select the part of the sentence that has an error. If the sentence has no error, select the option 'No Error'.

A simpleton like himself/ will never be able to understand/ the complex procedures involved in its making.

- Ans
- 1. A simpleton like himself
 - 2. the complex procedures involved in its making.
 - 3. No error
 - 4. will never be able to understand

Question ID : 59445930732
Status : Not Answered
Chosen Option : --

Q.27 Select the word that is opposite in meaning (ANTONYM) to the word given below:

Viscous

- Ans 1. Watery
 2. Brutal
 3. Grim
 4. Thick

Question ID : 59445930750
Status : Not Answered
Chosen Option : --

Q.28 From the options given below use the correct prepositional phrase for the word in the ().

He declined the standard protocol _____ (deliberately), as it was just inhumane.

- Ans 1. on purpose
 2. with luck
 3. by design
 4. intentionally

Question ID : 59445930738
Status : Not Answered
Chosen Option : --

Q.29 Fill in with the blanks with the correct Part of Speech

_____ the rise of new urban centres, Magadha also saw the rise of new religions _____, Jainism and Buddhism.

- Ans 1. Along/ such
 2. Along with/ unlike
 3. Along with/ such as
 4. Along side/ as

Question ID : 59445930736
Status : Not Answered
Chosen Option : --

Q.30 Select the word that is closest in meaning (SYNONYM) to the word given below:

Verbose

- Ans 1. Loquacious
 2. Laconic
 3. Alienate
 4. Succinct

Question ID : 59445930745
Status : Not Answered
Chosen Option : --

Q.31 Four words are given, out of which only one word is spelt correctly. Choose the correctly spelt word.

- Ans
- 1. Gache
 - 2. Gauche
 - 3. Gasche
 - 4. Gauchy

Question ID : 59445930755
Status : Not Answered
Chosen Option : --

Q.32 A sentence has been given in Active/Passive voice. Out of the four alternatives suggested, select the one which best expresses the same sentence in Passive/Active voice.

Some students study with the help of internet.

- Ans
- 1. For some students, studying is done with the help of the internet.
 - 2. With the help of the internet some students are able to study.
 - 3. Some students have been able to study with the help of the internet.
 - 4. Some students are studying with the help of the internet.

Question ID : 59445930762
Status : Not Answered
Chosen Option : --

Q.33 Select the word that is opposite in meaning (ANTONYM) to the word given below:

Manipulate

- Ans
- 1. Exploit
 - 2. Capture
 - 3. Idle
 - 4. Operate

Question ID : 59445930747
Status : Not Answered
Chosen Option : --

Q.34 A sentence has been given in Active/Passive voice. Out of the four alternatives suggested, select the one which best expresses the same sentence in Passive/Active voice.

The next Olympics will be held in Tokyo, Japan, in the year 2020.

- Ans
- 1. The next Olympics will have been held by Tokyo, Japan, in the year 2020.
 - 2. The next Olympics are going to be held by Tokyo, Japan, in the year 2020.
 - 3. Tokyo, Japan holds the next Olympics in the year 2020.
 - 4. In the year 2020, Tokyo, Japan, will hold the Olympics.

Question ID : 59445930764
Status : Not Answered
Chosen Option : --

Q.35 Select the most appropriate 'one word ' for the expressions given below:

A mode of behaviour or way of thought peculiar to an individual.

- Ans
- 1. Feign
 - 2. Bawl
 - 3. Idiosyncrasy
 - 4. Belligerent

Question ID : 59445930742

Status : Not Answered

Chosen Option : --

Comprehension:

Read the passage carefully and choose the best answer to each question out of the four alternatives.

The Mona Lisa was one of Leonardo da Vinci's favourite paintings, and he carried it with him until he died. Today, it is regarded as the most famous painting in the world, and it is visited by many thousands of people every year. Who is this familiar figure? Many questions have been made, but the most likely candidate is Lisa Gherardini, the wife of a Florentine silk merchant.

Another more unlikely- but popular- theory is that the painting was a self-portrait. There are certainly similarities between the facial features of the Mona Lisa and of the artist's self-portrait painted many years later. Could this be why Leonardo gave the subject such an enigmatic smile?

Today the Mona Lisa looks rather sombre, in dull shades of brown and yellow. This is due to a layer of varnish covering the paint, which has yellowed over the years. It is possible that the painting was once brighter and more colourful than it is now.

The Mona Lisa was stolen from the Louvre Museum, Paris, in 1911, by a former employee who believed the painting belonged in Italy. The thief walked out of the gallery with the picture underneath his painter's smock. He was apprehended by the police two years later and the painting was safely returned.

SubQuestion No : 36

Q.36 Where was the painting situated before it was stolen?

- Ans
- 1. Budapest
 - 2. Paris
 - 3. Vienna
 - 4. Rome

Question ID : 59445930769

Status : Not Answered

Chosen Option : --

Comprehension:

Read the passage carefully and choose the best answer to each question out of the four alternatives.

The Mona Lisa was one of Leonardo da Vinci's favourite paintings, and he carried it with him until he died. Today, it is regarded as the most famous painting in the world, and it is visited by many thousands of people every year. Who is this familiar figure? Many questions have been made, but the most likely candidate is Lisa Gherardini, the wife of a Florentine silk merchant.

Another more unlikely- but popular- theory is that the painting was a self-portrait. There are certainly similarities between the facial features of the Mona Lisa and of the artist's self-portrait painted many years later. Could this be why Leonardo gave the subject such an enigmatic smile?

Today the Mona Lisa looks rather sombre, in dull shades of brown and yellow. This is due to a layer of varnish covering the paint, which has yellowed over the years. It is possible that the painting was once brighter and more colourful than it is now.

The Mona Lisa was stolen from the Louvre Museum, Paris, in 1911, by a former employee who believed the painting belonged in Italy. The thief walked out of the gallery with the picture underneath his painter's smock. He was apprehended by the police two years later and the painting was safely returned.

SubQuestion No : 37

Q.37 Where did the thief hide the painting during the act of robbery?

- Ans
- 1. In his brief-case.
 - 2. Under his garment.
 - 3. In his tool-box
 - 4. In the washroom.

Question ID : 59445930770

Status : Not Answered

Chosen Option : --

Comprehension:

Read the passage carefully and choose the best answer to each question out of the four alternatives.

The Mona Lisa was one of Leonardo da Vinci's favourite paintings, and he carried it with him until he died. Today, it is regarded as the most famous painting in the world, and it is visited by many thousands of people every year. Who is this familiar figure? Many questions have been made, but the most likely candidate is Lisa Gherardini, the wife of a Florentine silk merchant.

Another more unlikely- but popular- theory is that the painting was a self-portrait. There are certainly similarities between the facial features of the Mona Lisa and of the artist's self-portrait painted many years later. Could this be why Leonardo gave the subject such an enigmatic smile?

Today the Mona Lisa looks rather sombre, in dull shades of brown and yellow. This is due to a layer of varnish covering the paint, which has yellowed over the years. It is possible that the painting was once brighter and more colourful than it is now.

The Mona Lisa was stolen from the Louvre Museum, Paris, in 1911, by a former employee who believed the painting belonged in Italy. The thief walked out of the gallery with the picture underneath his painter's smock. He was apprehended by the police two years later and the painting was safely returned.

SubQuestion No : 38

Q.38 According to the passage which of the following given statement is untrue?

- Ans
- 1. Today the Mona Lisa looks rather sombre, in dull shades of brown and yellow. Due to aging process over the years.
 - 2. The most likely candidate who qualifies as the subject of the painting is Lisa Gherardini.
 - 3. The Mona Lisa was stolen from Paris by a former employee who believed it belonged in Italy.
 - 4. It is a popular theory that Mona Lisa could have been a self portrait of Leonardo da Vinci.

Question ID : 59445930771

Status : Not Answered

Chosen Option : --

Comprehension:

Read the passage carefully and choose the best answer to each question out of the four alternatives.

The Mona Lisa was one of Leonardo da Vinci's favourite paintings, and he carried it with him until he died. Today, it is regarded as the most famous painting in the world, and it is visited by many thousands of people every year. Who is this familiar figure? Many questions have been made, but the most likely candidate is Lisa Gherardini, the wife of a Florentine silk merchant.

Another more unlikely- but popular- theory is that the painting was a self-portrait. There are certainly similarities between the facial features of the Mona Lisa and of the artist's self-portrait painted many years later. Could this be why Leonardo gave the subject such an enigmatic smile?

Today the Mona Lisa looks rather sombre, in dull shades of brown and yellow. This is due to a layer of varnish covering the paint, which has yellowed over the years. It is possible that the painting was once brighter and more colourful than it is now.

The Mona Lisa was stolen from the Louvre Museum, Paris, in 1911, by a former employee who believed the painting belonged in Italy. The thief walked out of the gallery with the picture underneath his painter's smock. He was apprehended by the police two years later and the painting was safely returned.

SubQuestion No : 39

Q.39 Why does Mona Lisa look sombre, in dull shades of brown and yellow?

- Ans
- 1. Because the painting lacked colour to begin with.
 - 2. Due to a layer of varnish covering the painting, which has aged over the years.
 - 3. Because Leo wanted to bring out the enigmatic smile in the painting.
 - 4. Due to the painting being very old.

Question ID : 59445930768

Status : Not Answered

Chosen Option : --

Comprehension:

Read the passage carefully and choose the best answer to each question out of the four alternatives.

The Mona Lisa was one of Leonardo da Vinci's favourite paintings, and he carried it with him until he died. Today, it is regarded as the most famous painting in the world, and it is visited by many thousands of people every year. Who is this familiar figure? Many questions have been made, but the most likely candidate is Lisa Gherardini, the wife of a Florentine silk merchant.

Another more unlikely- but popular- theory is that the painting was a self-portrait. There are certainly similarities between the facial features of the Mona Lisa and of the artist's self-portrait painted many years later. Could this be why Leonardo gave the subject such an enigmatic smile?

Today the Mona Lisa looks rather sombre, in dull shades of brown and yellow. This is due to a layer of varnish covering the paint, which has yellowed over the years. It is possible that the painting was once brighter and more colourful than it is now.

The Mona Lisa was stolen from the Louvre Museum, Paris, in 1911, by a former employee who believed the painting belonged in Italy. The thief walked out of the gallery with the picture underneath his painter's smock. He was apprehended by the police two years later and the painting was safely returned.

SubQuestion No : 40

Q.40 According to the passage who is most likely considered to be the person of the most famous painting?

- Ans
- 1. Florentine
 - 2. Leonardo Vinci
 - 3. Lisa Gherardini
 - 4. Mona Lisa

Question ID : 59445930767

Status : Not Answered

Chosen Option : --

Q.1 निम्नलिखित चार विकल्पों में से, उस विकल्प का चयन करें जो उपसर्ग से बने शब्द का सही विकल्प हो।

- Ans
- 1. कविता
 - 2. शारीरिक
 - 3. प्राचार्य
 - 4. तिहरा

Question ID : 59445930773
Status : Answered
Chosen Option : 3

Q.2 निम्नलिखित प्रश्न में, चार विकल्पों में से, उस विकल्प का चयन करें जो दिए गए शब्द का तद्भव रूप हो।

उलूक

- Ans
- 1. ऊँट
 - 2. उल्लू
 - 3. ऊँचा
 - 4. ओखली

Question ID : 59445930776
Status : Answered
Chosen Option : 4

Q.3 निम्नलिखित चार विकल्पों में से, उस विकल्प का चयन करें जो भाववाचक संज्ञा का सही विकल्प नहीं है।

- Ans
- 1. बुराई
 - 2. पतन
 - 3. व्यक्तित्व
 - 4. निपुण

Question ID : 59445930779
Status : Answered
Chosen Option : 2

Q.4 निम्नलिखित प्रश्न में, चार विकल्पों में से, उस विकल्प का चयन करें जो दिए गए वाक्य के काल का सही विकल्प हो।

दीपा स्कूल जाती होगी।

- Ans
- 1. आसन्न भूतकाल
 - 2. संदिग्ध वर्तमानकाल
 - 3. संभाव्य वर्तमानकाल
 - 4. हेतुहेतु मद भूतकाल

Question ID : 59445930795
Status : Answered
Chosen Option : 1

Q.5 निम्नलिखित प्रश्न में, चार विकल्पों में से, उस सही विकल्प का चयन करें जो दिए गए शब्द के सही अर्थ का उचित विकल्प हो।

अलि

- Ans
- 1. प्रेम
 - 2. सखी
 - 3. हृदय
 - 4. भँवरा

Question ID : 59445930784
Status : Answered
Chosen Option : 3

Q.6 निम्नलिखित प्रश्न में, चार विकल्पों में से, उस विकल्प का चयन करें जो दिए गए शब्द के समानार्थी शब्द का विकल्प नहीं है।

दर्पण

- Ans
- 1. मुकुर
 - 2. आरसी
 - 3. आईना
 - 4. अनृत

Question ID : 59445930788
Status : Answered
Chosen Option : 1

Q.7 निम्नलिखित चार विकल्पों में से, उस विकल्प का चयन करें जो कोष्ठक में दिए गए शब्द के अनुसार मध्यम पुरुष वाचक सर्वनाम का सबसे अच्छा विकल्प है।

- Ans
- 1. (तुमको) किसी दूसरी जगह जाना चाहिए।
 - 2. इस साल (मेरे) नंबर कुछ अच्छे आए हैं।
 - 3. (मुझको) बरसात बहुत पसंद है।
 - 4. (मेरे) परिवार में कुल चार सदस्य हैं।

Question ID : 59445930794
Status : Answered
Chosen Option : 2

Q.8 निम्नलिखित चार विकल्पों में से, उस विकल्प का चयन करें जो प्रत्यय से बने शब्द का सही विकल्प हो।

- Ans
- 1. अनुकरणाय
 - 2. अमर
 - 3. अतिक्रमण
 - 4. अत्याचार

Question ID : 59445930774
Status : Answered
Chosen Option : 1

Q.9 निम्नलिखित प्रश्न में, चार विकल्पों में से, उस विकल्प का चयन करें जो सही वाक्य भेद का विकल्प हो।

वह चाहता है कि मैं यहाँ कभी न आऊँ।

- Ans
- 1. विधानवाचक वाक्य
 - 2. संयुक्त वाक्य
 - 3. मिश्र वाक्य
 - 4. सरल वाक्य

Question ID : 59445930800
Status : Answered
Chosen Option : 1

Q.10 निम्नलिखित चार विकल्पों में से, उस विकल्प का चयन करें जो शुद्ध शब्द का सही विकल्प है।

- Ans
- 1. कुंठित
 - 2. कुंतिथ
 - 3. कुंथित
 - 4. कुंठीत

Question ID : 59445930787
Status : Answered
Chosen Option : 2

Q.11 निम्नलिखित चार विकल्पों में से, उस विकल्प का चयन करें जो शुद्ध वाक्य का सबसे अच्छा विकल्प है।

- Ans
- 1. मिठाई में सिर्फ केवल ऊपर ही बादाम लगे थे।
 - 2. मिठाई में सिर्फ ऊपर ही बादाम लगे थे।
 - 3. मिठाई में सिर्फ ऊपर पर बादाम लगे थे।
 - 4. मिठाई को सिर्फ ऊपर ही बादाम लगे थे।

Question ID : 59445930801
Status : Answered
Chosen Option : 1

Q.12 निम्नलिखित चार विकल्पों में से, उस विकल्प का चयन करें जो शुद्ध शब्द का सही विकल्प है।

- Ans
- 1. सामाज्य
 - 2. सामराज्य
 - 3. समाज्य
 - 4. साम्राज्य

Question ID : 59445930786
Status : Answered
Chosen Option : 3

Q.13 निम्नलिखित चार विकल्पों में से, उस विकल्प का चयन करें जो विदेशी शब्द का सही विकल्प हो।

- Ans
- 1. लाला
 - 2. टोटी
 - 3. हवालात
 - 4. लोटा

Question ID : 59445930778
Status : Answered
Chosen Option : 3

Q.14 निम्नलिखित प्रश्न में, चार विकल्पों में से, उस विकल्प का चयन करें जो विलोम शब्द का सबसे अच्छा विकल्प है।

अंगीकार

- Ans
- 1. अनंत
 - 2. अवरोह
 - 3. अस्वीकार
 - 4. प्रवर

Question ID : 59445930783
Status : Answered
Chosen Option : 3

Q.15 निम्नलिखित प्रश्न में, चार विकल्पों में से, उस सही विकल्प का चयन करें जो दिए गए शब्द-युग्म के अर्थ का सही विकल्प हो।

कपीश और कपिश

- Ans
- 1. बंदर और मटमैला
 - 2. सुधीव और मटमैला
 - 3. सुधीव और किला
 - 4. सुधीव और बाल

Question ID : 59445930789
Status : Answered
Chosen Option : 4

Q.16 निम्नलिखित प्रश्न में, चार विकल्पों में से, उस विकल्प का चयन करें जो दिए गए शब्द का सही स्त्रीलिंग रूप वाला विकल्प है।

हितकारी

- Ans
- 1. हिताकत्री
 - 2. हिताकानी
 - 3. हितकरी
 - 4. हितकारिनी

Question ID : 59445930792
Status : Answered
Chosen Option : 4

Q.17 निम्नलिखित प्रश्न में, चार विकल्पों में से, उस विकल्प का चयन करें जो विलोम शब्द का सबसे अच्छा विकल्प है।

आकुंचन

- Ans
- 1. प्रसारण
 - 2. ग्रहण
 - 3. अल्प
 - 4. सुकाम

Question ID : 59445930782
Status : Answered
Chosen Option : 1

Q.18 निम्नलिखित प्रश्न में, चार विकल्पों में से, उस विकल्प का चयन करें जो दी गई लोकोक्ति का सही अर्थ वाला विकल्प है।

डोली न कहर, बीबी हुई तैयार

- Ans
- 1. नाम के विपरीत गुण होना
 - 2. जिसके पास धन नहीं वह गुणवान माना जाता है
 - 3. बिना बुलाये कहीं जाने को तैयार होना
 - 4. सदा से ही निर्धन होना

Question ID : 59445930806
Status : Answered
Chosen Option : 3

Q.19 निम्नलिखित प्रश्न में, चार विकल्पों में से, उस विकल्प का चयन करें जो दिए गए वाक्य के लिए वृत्ति के भेद का सबसे अच्छा विकल्प है।

वह परीक्षा देकर निकल चुका होगा।

- Ans
- 1. संदेहार्थ
 - 2. विध्यर्थ
 - 3. निश्चयार्थ
 - 4. संकेतार्थ

Question ID : 59445930796
Status : Answered
Chosen Option : 3

Q.20 निम्नलिखित प्रश्न में, चार विकल्पों में से, उस विकल्प का चयन करें जो दिए गए मुहावरे का सही अर्थ वाला विकल्प है।

पारा उतरना

- Ans
- 1. मर जाना
 - 2. किसी का अपमान करना
 - 3. कृतज्ञ होना
 - 4. क्रोध शांत होना

Question ID : 59445930803
Status : Answered
Chosen Option : 4

Q.21 निम्नलिखित प्रश्न में, चार विकल्पों में से, उस विकल्प का चयन करें जो दिए गए मुहावरे का सही अर्थ वाला विकल्प है।

दाँतों में जीभ होना

- Ans
- 1. स्वार्थ की ही बातें करना
 - 2. विरोधियों से घिरे होना
 - 3. अच्छी जगह पर होना
 - 4. सहायक होना

Question ID : 59445930804
Status : Answered
Chosen Option : 1

Q.22 निम्नलिखित प्रश्न में, चार विकल्पों में से, उस सही विकल्प का चयन करें जो वाक्यांशों के लिए एक शब्द का विकल्प हो।

जो सबके साथ प्रेमपूर्वक बोलता हो

- Ans
- 1. प्रियभाषी
 - 2. वाचाल
 - 3. दुआषिया
 - 4. अविनाशी

Question ID : 59445930790
Status : Answered
Chosen Option : 1

Q.23 निम्नलिखित प्रश्न में, चार विकल्पों में से, उस विकल्प का चयन करें जो दिए गए वाक्य के लिए पक्ष के भेद का सबसे अच्छा विकल्प है।

वह अब तक काफी टी. वी. देख चुका है!

- Ans
- 1. आरंभद्योतक
 - 2. सातप्यबोधक
 - 3. नित्यताद्योतक
 - 4. पूर्णताद्योतक

Question ID : 59445930797
Status : Answered
Chosen Option : 4

Q.24 निम्नलिखित प्रश्न में, चार विकल्पों में से, उस सही विकल्प का चयन करें जो वाक्यांशों के लिए एक शब्द का विकल्प हो।

अत्यंत सुन्दर स्त्री

- Ans
- 1. राजसी
 - 2. रूपसी
 - 3. त्रिलोकी
 - 4. बंध्या

Question ID : 59445930791
Status : Answered
Chosen Option : 3

Q.25 निम्नलिखित प्रश्न में, चार विकल्पों में से, उस सही विकल्प का चयन करें जो रिक्त स्थान के लिए उपयुक्त शब्द का सही विकल्प है।

संदीप परिश्रम _____ तो अवश्य सफल होता।

- Ans
- 1. करेगा
 - 2. करता
 - 3. किया
 - 4. करा

Question ID : 59445930785
Status : Answered
Chosen Option : 2

Q.26 निम्नलिखित प्रश्न में, चार विकल्पों में से, उस विकल्प का चयन करें जो सर्वनाम के भेद का सही विकल्प हो।

दरवाजे पर कोई खड़ा है।

- Ans
- 1. निजवाचक
 - 2. अनिश्चय वाचक
 - 3. सम्बन्ध वाचक
 - 4. उत्तम पुरुष

Question ID : 59445930780
Status : Answered
Chosen Option : 1

Q.27 निम्नलिखित चार विकल्पों में से, उस विकल्प का चयन करें जो देशज शब्द का सही विकल्प हो।

- Ans
- 1. तौंद
 - 2. बेहूदा
 - 3. इम्तिहान
 - 4. दाग

Question ID : 59445930777
Status : Answered
Chosen Option : 3

Q.28 निम्नलिखित प्रश्न में, चार विकल्पों में से, उस विकल्प का चयन करें जो सही वाक्य भेद का विकल्प हो।

मैं सोने जा रहा हूँ।

- Ans
- 1. मिश्र वाक्य
 - 2. निषेधवाचक वाक्य
 - 3. संयुक्त वाक्य
 - 4. सरल वाक्य

Question ID : 59445930798
Status : Answered
Chosen Option : 4

Q.29 निम्नलिखित चार विकल्पों में से, उस विकल्प का चयन करें जो विराम चिह्न युक्त वाक्य का सही विकल्प हो।

- Ans
- 1. नहीं, मैं नहीं चल सकता। हाँ तुम जाना चाहो तो चले जाओ
 - 2. नहीं... मैं नहीं चल सकता। हाँ... तुम जाना चाहो तो चले जाओ।
 - 3. नहीं मैं नहीं चल सकता हाँ, तुम जाना चाहो तो चले जाओ।
 - 4. नहीं, मैं नहीं चल सकता। हाँ, तुम जाना चाहो तो चले जाओ।

Question ID : 59445930802
Status : Answered
Chosen Option : 4

Q.30 निम्नलिखित प्रश्न में, चार विकल्पों में से, उस विकल्प का चयन करें जो दिए गए शब्द के लिए सही द्विगु समास के विग्रह का विकल्प हो।

त्रिलोक

- Ans 1. तीन लोकों का समाहार
 2. तीन और लोक
 3. तीन लोक वाला
 4. तीन का लोक

Question ID : 59445930772
Status : Answered
Chosen Option : 1

Q.31 निम्नलिखित प्रश्न में, चार विकल्पों में से, उस विकल्प का चयन करें जो दिए गए शब्द के लिए बहुवचन शब्द का सबसे अच्छा विकल्प है।

मिठाई

- Ans 1. मिठाइयाँ
 2. मीठे
 3. मिठाइयों
 4. मिठायें

Question ID : 59445930793
Status : Answered
Chosen Option : 1

Q.32 निम्नलिखित प्रश्न में, चार विकल्पों में से, उस विकल्प का चयन करें जो दी गई लोकोक्ति का सही अर्थ वाला विकल्प:

ठेस लगे, बुद्धि बढ़े

- Ans 1. निर्धन का धनि से मित्रता करना
 2. हानि की बात सबसे कहना
 3. हानि सहकर मनुष्य बुद्धिमान होता है
 4. निर्बल मनुष्य

Question ID : 59445930805
Status : Answered
Chosen Option : 3

Q.33 निम्नलिखित प्रश्न में, चार विकल्पों में से, उस विकल्प का चयन करें जो दिए गए शब्द का तत्सम रूप हो।

कोख

- Ans 1. कुष्ठ
 2. कृतगृह
 3. कुक्षि
 4. काष्ठ

Question ID : 59445930775
Status : Answered
Chosen Option : 1

Q.34 निम्नलिखित प्रश्न में, चार विकल्पों में से, उस विकल्प का चयन करें जो सही वाक्य भेद का विकल्प हो।

या तो मैं उसे शतरंज में हरा दूँगा या शतरंज खेलना ही छोड़ दूँगा।

- Ans
- 1. मिश्र वाक्य
 - 2. संयुक्त वाक्य
 - 3. विधानवाचक वाक्य
 - 4. संकेतवाचक वाक्य

Question ID : 59445930799

Status : Answered

Chosen Option : 4

Q.35 निम्नलिखित प्रश्न में, चार विकल्पों में से, उस विकल्प का चयन करें जो दिए गए शब्द के पर्यायवाची शब्द का सही विकल्प नहीं है।

पर्वत

- Ans
- 1. अद्रि
 - 2. तुंग
 - 3. अंचल
 - 4. पयोधर

Question ID : 59445930781

Status : Answered

Chosen Option : 2

Comprehension:

नीचे दिए गये गद्यांश के बाद 5 प्रश्न दिए गये हैं। इस गद्यांश को ध्यानपूर्वक पढ़ें और चार विकल्पों में से प्रत्येक प्रश्न का सर्वोत्तम उत्तर चुनें।

पहाड़ी गाँवों में अक्सर बाघ का डर बना रहता है। जंगल कटने के कारण शिकार की तलाश में बाघ कभी-कभी गाँव तक पहुँच जाता है। गेंवली गाँव में एक बार यही हुआ। एक बाघ ने गाँव में घुसकर एक गाय को मार डाला। सुबह होते ही यह खबर पूरे गाँव में फैल गई। गाँव के लोग डरे कि यह बाघ कहीं फिर से आकर दूसरे पालतू जानवरों और किसी आदमी को ही अपना शिकार न बना ले। गाँव के लोगों ने अंत में तय किया कि बाघ को कैद कर लिया जाए। उसे कैद करने के लिए उन्होंने एक पिंजड़ा बनाया। पिंजड़े के अंदर एक बकरी बाँधी। योजना यह थी कि बकरी का मिमियाना सुनकर बाघ पिंजड़े की तरफ आएगा। पिंजड़े का दरवाजा इस प्रकार खुला हुआ बनाया गया था कि बाघ के अंदर घुसते ही वह दरवाजा झटके से बंद हो जाए। शाम होने तक पिंजड़े को ऐसी जगह पर रख दिया गया जहाँ बाघ अक्सर दिखाई देता था। रात बीती। सुबह की रोशनी होते ही लोग पिंजड़ा देखने निकल पड़े।

SubQuestion No : 36

Q.36 गाँव के लोग किस बात से डरे हुए थे?

- Ans
- 1. बाघ का पता न चलने से
 - 2. कि कहीं कोई और आदमी या जानवर शिकार न बन जाए
 - 3. पिंजरा न मिलने से
 - 4. बाघ के न फंसने से

Question ID : 59445930810

Status : Answered

Chosen Option : 2

Comprehension:

नीचे दिए गये गद्यांश के बाद 5 प्रश्न दिए गये हैं। इस गद्यांश को ध्यानपूर्वक पढ़ें और चार विकल्पों में से प्रत्येक प्रश्न का सर्वोत्तम उत्तर चुनें।

पहाड़ी गाँवों में अक्सर बाघ का डर बना रहता है। जंगल कटने के कारण शिकार की तलाश में बाघ कभी-कभी गाँव तक पहुँच जाता है। गेंवली गाँव में एक बार यही हुआ। एक बाघ ने गाँव में घुसकर एक गाय को मार डाला। सुबह होते ही यह खबर पूरे गाँव में फैल गई। गाँव के लोग डरे कि यह बाघ कहीं फिर से आकर दूसरे पालतू जानवरों और किसी आदमी को ही अपना शिकार न बना ले। गाँव के लोगों ने अंत में तय किया कि बाघ को कैद कर लिया जाए। उसे कैद करने के लिए उन्होंने एक पिंजड़ा बनाया। पिंजड़े के अंदर एक बकरी बाँधी। योजना यह थी कि बकरी का मिमियाना सुनकर बाघ पिंजड़े की तरफ आएगा। पिंजड़े का दरवाजा इस प्रकार खुला हुआ बनाया गया था कि बाघ के अंदर घुसते ही वह दरवाजा झटके से बंद हो जाए। शाम होने तक पिंजड़े को ऐसी जगह पर रख दिया गया जहाँ बाघ अक्सर दिखाई देता था। रात बीती। सुबह की रोशनी होते ही लोग पिंजड़ा देखने निकल पड़े।

SubQuestion No : 37

Q.37 बाघ गाँव में क्यों आ आते थे?

- Ans
- 1. रास्ता भूलकर
 - 2. टहलने के लिए
 - 3. शिकार की तलाश में
 - 4. अपने घर की खोज में

Question ID : 59445930808

Status : Answered

Chosen Option : 3

Comprehension:

नीचे दिए गये गद्यांश के बाद 5 प्रश्न दिए गये हैं। इस गद्यांश को ध्यानपूर्वक पढ़ें और चार विकल्पों में से प्रत्येक प्रश्न का सर्वोत्तम उत्तर चुनें।

पहाड़ी गाँवों में अक्सर बाघ का डर बना रहता है। जंगल कटने के कारण शिकार की तलाश में बाघ कभी-कभी गाँव तक पहुँच जाता है। गेंवली गाँव में एक बार यही हुआ। एक बाघ ने गाँव में घुसकर एक गाय को मार डाला। सुबह होते ही यह खबर पूरे गाँव में फैल गई। गाँव के लोग डरे कि यह बाघ कहीं फिर से आकर दूसरे पालतू जानवरों और किसी आदमी को ही अपना शिकार न बना ले। गाँव के लोगों ने अंत में तय किया कि बाघ को कैद कर लिया जाए। उसे कैद करने के लिए उन्होंने एक पिंजड़ा बनाया। पिंजड़े के अंदर एक बकरी बाँधी। योजना यह थी कि बकरी का मिमियाना सुनकर बाघ पिंजड़े की तरफ आएगा। पिंजड़े का दरवाजा इस प्रकार खुला हुआ बनाया गया था कि बाघ के अंदर घुसते ही वह दरवाजा झटके से बंद हो जाए। शाम होने तक पिंजड़े को ऐसी जगह पर रख दिया गया जहाँ बाघ अक्सर दिखाई देता था। रात बीती। सुबह की रोशनी होते ही लोग पिंजड़ा देखने निकल पड़े।

SubQuestion No : 38

Q.38 इस अनुच्छेद का कोई उपयुक्त शीर्षक-

- Ans
- 1. बाघ का डर
 - 2. डरपोक गाँववाले
 - 3. बाघ का पिंजरा
 - 4. पहाड़ी गाँव

Question ID : 59445930812

Status : Answered

Chosen Option : 1

Comprehension:

नीचे दिए गये गद्यांश के बाद 5 प्रश्न दिए गये हैं। इस गद्यांश को ध्यानपूर्वक पढ़ें और चार विकल्पों में से प्रत्येक प्रश्न का सर्वोत्तम उत्तर चुनें।

पहाड़ी गाँवों में अक्सर बाघ का डर बना रहता है। जंगल कटने के कारण शिकार की तलाश में बाघ कभी-कभी गाँव तक पहुँच जाता है। गेंवली गाँव में एक बार यही हुआ। एक बाघ ने गाँव में घुसकर एक गाय को मार डाला। सुबह होते ही यह खबर पूरे गाँव में फैल गई। गाँव के लोग डरे कि यह बाघ कहीं फिर से आकर दूसरे पालतू जानवरों और किसी आदमी को ही अपना शिकार न बना ले। गाँव के लोगों ने अंत में तय किया कि बाघ को कैद कर लिया जाए। उसे कैद करने के लिए उन्होंने एक पिंजड़ा बनाया। पिंजड़े के अंदर एक बकरी बाँधी। योजना यह थी कि बकरी का मिमियाना सुनकर बाघ पिंजड़े की तरफ आएगा। पिंजड़े का दरवाजा इस प्रकार खुला हुआ बनाया गया था कि बाघ के अंदर घुसते ही वह दरवाजा झटके से बंद हो जाए। शाम होने तक पिंजड़े को ऐसी जगह पर रख दिया गया जहाँ बाघ अक्सर दिखाई देता था। रात बीती। सुबह की रोशनी होते ही लोग पिंजड़ा देखने निकल पड़े।

SubQuestion No : 39

Q.39 पूरे गाँव में क्या खबर फैल गई थी?

- Ans**
- 1. पिंजरा बनवाने की
 - 2. बाघ के पकड़े जाने की
 - 3. गाय के गाँव से भाग जाने की
 - 4. बाघ द्वारा गाय को मार डालने की

Question ID : 59445930809

Status : Answered

Chosen Option : 4

Comprehension:

नीचे दिए गये गद्यांश के बाद 5 प्रश्न दिए गये हैं। इस गद्यांश को ध्यानपूर्वक पढ़ें और चार विकल्पों में से प्रत्येक प्रश्न का सर्वोत्तम उत्तर चुनें।

पहाड़ी गाँवों में अक्सर बाघ का डर बना रहता है। जंगल कटने के कारण शिकार की तलाश में बाघ कभी-कभी गाँव तक पहुँच जाता है। गेंवली गाँव में एक बार यही हुआ। एक बाघ ने गाँव में घुसकर एक गाय को मार डाला। सुबह होते ही यह खबर पूरे गाँव में फैल गई। गाँव के लोग डरे कि यह बाघ कहीं फिर से आकर दूसरे पालतू जानवरों और किसी आदमी को ही अपना शिकार न बना ले। गाँव के लोगों ने अंत में तय किया कि बाघ को कैद कर लिया जाए। उसे कैद करने के लिए उन्होंने एक पिंजड़ा बनाया। पिंजड़े के अंदर एक बकरी बाँधी। योजना यह थी कि बकरी का मिमियाना सुनकर बाघ पिंजड़े की तरफ आएगा। पिंजड़े का दरवाजा इस प्रकार खुला हुआ बनाया गया था कि बाघ के अंदर घुसते ही वह दरवाजा झटके से बंद हो जाए। शाम होने तक पिंजड़े को ऐसी जगह पर रख दिया गया जहाँ बाघ अक्सर दिखाई देता था। रात बीती। सुबह की रोशनी होते ही लोग पिंजड़ा देखने निकल पड़े।

SubQuestion No : 40

Q.40 इनमें से कौन - सा योजना का पर्यायवाची नहीं है?

- Ans**
- 1. बनावट
 - 2. संयोजन
 - 3. संपादन
 - 4. रचना

Question ID : 59445930811

Status : Answered

Chosen Option : 1