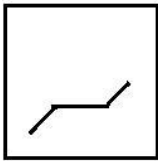


Combined Graduate Level Examination-2019 (Tier-I)

| | |
|----------------|------------------------------------------------------|
| Roll Number | www.exammix.com |
| Candidate Name | www.exammix.com |
| Venue Name | |
| Exam Date | 03/03/2020 |
| Exam Time | 10:00 AM - 11:00 AM |
| Subject | CGLE Tier I |

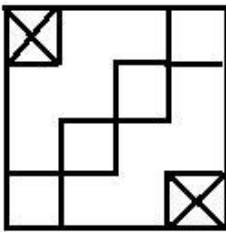
Section : General Intelligence and Reasoning

Q.1 उस आकृति का चयन करें, जिसमें दी गई आकृति अंतर्निहित है (घुमाने की अनुमति नहीं है)।




Ans

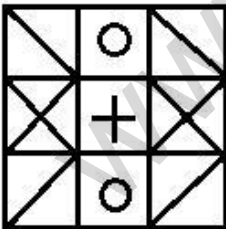
✗ 1.




✗ 2.



✓ 3.



✗ 4.



Question ID : 12356822

Status : Answered

Chosen Option : 3

Q.2 चार शब्द दिए गए हैं, जिनमें से तीन किसी न किसी तरह से समान हैं और एक असंगत है। असंगत शब्द का चयन करें।

- Ans
- 1. नौका
 - 2. फेरी (बड़ी नाव)
 - 3. पनडुब्बी
 - 4. जहाज

Question ID : 1235684
Status : Answered
Chosen Option : 1

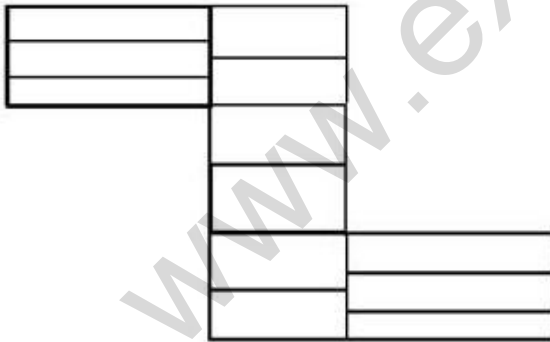
Q.3 दिए गए समीकरण को सही बनाने के लिए किन दो संख्याओं को आपस में बदला जाना चाहिए?

$$9 + 7 \times 5 - 18 \div 2 = 3 \times 4 - 10 + 45 \div 5$$

- Ans
- 1. 18 और 45
 - 2. 7 और 4
 - 3. 2 और 5
 - 4. 9 और 3

Question ID : 12356814
Status : Answered
Chosen Option : 2

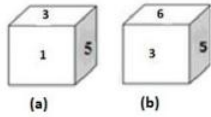
Q.4 दी गई आकृति में कितने आयत हैं?



- Ans
- 1. 30
 - 2. 33
 - 3. 34
 - 4. 32

Question ID : 12356820
Status : Answered
Chosen Option : 2

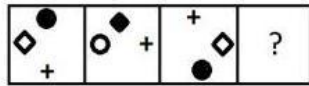
Q.5 एक ही पासे की दो स्थितियाँ दिखाई गई हैं। उस संख्या का चयन करें, जो 6 दिखाने वाले फलक के विपरीत फलक पर होगी।



- Ans
- 1. 4
 - 2. 1
 - 3. 5
 - 4. 3

Question ID : 12356821
Status : Answered
Chosen Option : 2

Q.6 निम्नलिखित श्रृंखला में प्रश्न चिह्न (?) की जगह आने वाली आकृति का चयन करें।



- Ans
- 1.
 - 2.
 - 3.
 - 4.

Question ID : 12356819
Status : Answered
Chosen Option : 1

Q.7 किसी निश्चित कूट भाषा में, WARDROBE को YXVYXHJV के रूप में लिखा जाता है। उस भाषा में ACCURATE को कैसे लिखा जाएगा?

- Ans
- 1. CZGPXTBV
 - 2. CZHPYTBV
 - 3. BZHPXTBV
 - 4. DZGPXTBV

Question ID : 1235687
Status : Answered
Chosen Option : 1

Q.8 निम्नलिखित शब्दों को उस क्रम में व्यवस्थित करें, जैसे वे अंग्रेजी शब्दकोश में आते हैं।

- 1. Rightly
- 2. Rigidly
- 3. Righteous
- 4. Rigour
- 5. Rights

- Ans
- 1. 3, 1, 5, 2, 4
 - 2. 3, 1, 5, 4, 2
 - 3. 3, 5, 1, 4, 2
 - 4. 1, 3, 5, 2, 4

Question ID : 1235682
Status : Answered
Chosen Option : 1

Q.9 निम्नलिखित श्रृंखला में प्रश्न चिह्न (?) की जगह आने वाली संख्या का चयन करें।

17, 21, 30, 46, 71, ?

- Ans
- 1. 101
 - 2. 107
 - 3. 96
 - 4. 105

Question ID : 12356812
Status : Answered
Chosen Option : 2

Q.10 चार अक्षर-समूह दिए गए हैं, जिनमें से तीन किसी न किसी तरह से समान हैं और एक असंगत है। असंगत अक्षर-समूह का चयन करें।

- Ans
- ✓ 1. FVKO
 - ✗ 2. BYGT
 - ✗ 3. NMSH
 - ✗ 4. DWIR

Question ID : 1235683
Status : Answered
Chosen Option : 1

Q.11 उस विकल्प का चयन करें, जिसमें शब्दों का आपस में वही संबंध है, जो नीचे दिए गए शब्द-युग्म के शब्दों के बीच है।

घड़ी : समय

- Ans
- ✓ 1. ऐमीटर: करंट
 - ✗ 2. टेसियोमीटर: हवा
 - ✗ 3. एनीमोमीटर: तनाव
 - ✗ 4. तराजू: मापक

Question ID : 1235686
Status : Answered
Chosen Option : 4

Q.12 दिए गए कथनों और निष्कर्षों को ध्यान से पढ़ें। यह मानते हुए कि कथनों में दी गई जानकारी सही है, भले ही वे आम तौर पर स्थापित तथ्यों से भिन्न दिखाई देती हैं, तब कीजिए कि कौन सा/से निष्कर्ष तर्कसंगत रूप से इन कथनों का अनुसरण करता/करते हैं/हैं।

कथन:

1. कुछ जानवर, हाथी हैं।

2. कुछ हाथी, बाघ हैं।

निष्कर्ष:

I. कुछ जानवर, बाघ हैं।

II. कोई भी बाघ, जानवर नहीं है।

- Ans
- ✗ 1. न तो निष्कर्ष I और न ही II अनुसरण करता है।
 - ✗ 2. केवल निष्कर्ष II अनुसरण करता है।
 - ✗ 3. केवल निष्कर्ष I अनुसरण करता है।
 - ✓ 4. या तो निष्कर्ष I या II अनुसरण करता है।

Question ID : 12356811
Status : Answered
Chosen Option : 3

Q.13 उस विकल्प का चयन करें जिसका तीसरी संख्या से वही संबंध है जो दूसरी संख्या का पहली संख्या से और छठी संख्या का पाँचवीं संख्या से है।

12 : 72 :: 18 : ? :: 22 : 242

- Ans
- 1. 160
 - 2. 164
 - 3. 162
 - 4. 140

Question ID : 12356813

Status : Answered

Chosen Option : 3

Q.14 उस विकल्प का चयन करें जिसका तीसरे शब्द से वही संबंध है, जो दूसरे शब्द का पहले शब्द से है।

दवा : रोग :: भोजन : ?

- Ans
- 1. पोषण
 - 2. प्यास
 - 3. ऊर्जा
 - 4. भूख

Question ID : 1235685

Status : Answered

Chosen Option : 4

Q.15 दर्पण को दाईं ओर रखे जाने पर दी गई आकृति की सही दर्पण छवि कौन सी होगी?

RST2PK9LOX

- Ans
- 1. RST2PK9LOX
 - 2. XOL9PK2STR
 - 3. XOL9PK2STR
 - 4. XOL9PK2STR

Question ID : 12356823

Status : Answered

Chosen Option : 4

Q.16 अक्षरों के उस सेट का चयन करें, जिसे अक्षर श्रृंखला में रिक्त स्थानों पर क्रमिक रूप से भरे जाने पर श्रृंखला पूरी हो जाएगी।

k_lmm_lmk_mmk_lkkl_m

- Ans
- 1. l, k, m, k, k
 - 2. k, l, k, l, m
 - 3. k, l, m, k, k
 - 4. k, m, m, k, l

Question ID : 1235689

Status : Not Answered

Chosen Option : --

Q.17 दिए गए पैटर्न का ध्यानपूर्वक अध्ययन करें और उस संख्या का चयन करें जो प्रश्न चिह्न (?) की जगह आ सकती है।

| | | |
|----|-----|----|
| 6 | 21 | 14 |
| 40 | 500 | ? |
| 8 | 25 | 7 |

- Ans
- 1. 98
 - 2. 91
 - 3. 78
 - 4. 84

Question ID : 12356816

Status : Answered

Chosen Option : 2

Q.18 निम्नलिखित श्रृंखला में प्रश्न-चिह्न (?) की जगह आने वाले अक्षर-समूह का चयन करें।

CXB, HUI, MRP, ROW, ?

- Ans
- 1. WLZ
 - 2. VKC
 - 3. WLD
 - 4. VKD

Question ID : 1235681

Status : Answered

Chosen Option : 3

Q.19 उस विकल्प का चयन करें, जिसमें संख्याओं का आपस में वही संबंध है, जो नीचे दिए गए समुच्चय की संख्याओं के बीच है।

(269, 278, 296)

- Ans
- 1. (109, 118, 128)
 - 2. (577, 586, 598)
 - 3. (313, 322, 340)
 - 4. (419, 430, 448)

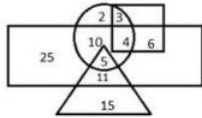
Question ID : 12356815

Status : Answered

Chosen Option : 3

Q.20 दिया गया वेन आरेख एक संगठन के कर्मचारियों को दर्शाता है:

त्रिभुज, अधिकारियों को दर्शाता है। वृत्त, महिलाओं को दर्शाता है। आयत, एम.बी.ए. किए हुए लोगों को दर्शाता है और वर्ग, तकनीकी कर्मचारियों को दर्शाता है। आरेख में दी गई संख्याएँ उस विशेष श्रेणी के व्यक्तियों की संख्या दर्शाती हैं।



संगठन में कितनी महिला अधिकारी हैं?

- Ans
- 1. 15
 - 2. 10
 - 3. 5
 - 4. 11

Question ID : 12356825

Status : Answered

Chosen Option : 3

Q.21 किसी निश्चित कूट भाषा में, 'HARVEST' को '22-21-7-24-20-3-10' लिखा जाता है।

उस भाषा में 'FARMER' को कैसे लिखा जाएगा?

- Ans
- 1. 20-7-15-20-3-8
 - 2. 20-7-14-21-3-8
 - 3. 19-7-15-19-3-8
 - 4. 19-7-15-20-3-7

Question ID : 1235688

Status : Answered

Chosen Option : 1

Q.22 निम्नलिखित समीकरणों में, यदि '+' को '-' और '6' को '7' से आपस में बदल दिया जाता है, तो कौन सा समीकरण संतुलित होगा?

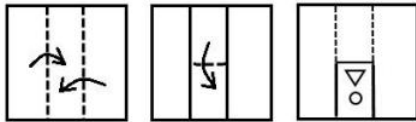
- Ans
- ✓ 1. $67 - 76 + 43 = 100$
 - ✗ 2. $62 - 67 + 76 = 83$
 - ✗ 3. $78 - 68 + 66 = 59$
 - ✗ 4. $76 - 75 + 77 = 56$

Question ID : 12356817

Status : Answered

Chosen Option : 1

Q.23 नीचे दी गई आकृतियों में कागज के एक टुकड़े को मोड़कर काटने का क्रम दिखाया गया है। यह कागज खोलने पर कैसा दिखाई देगा?



Ans

- ✓ 1.
- ✗ 2.
- ✗ 3.
- ✗ 4.

Question ID : 12356824

Status : Answered

Chosen Option : 1

Q.24 आशा और लता की वर्तमान आयु का अनुपात 5 : 6 है। यदि उनकी आयु में 6 साल का अंतर है, तो 5 साल बाद लता की आयु क्या होगी?

- Ans
- 1. 35
 - 2. 45
 - 3. 41
 - 4. 40

Question ID : 12356818
Status : Answered
Chosen Option : 3

Q.25 अमित, सोनिया का भाई है। ज्योति, निकिता की बहन है। सोनिया, सतीश के पिता की बेटी है। निकिता, कविंदर की बेटी है। ज्योति, अमित की माँ है। मुकेश, निकिता की इकलौती बहन का पति है। सतीश का कविंदर से क्या संबंध है?

- Ans
- 1. भाई
 - 2. दामाद
 - 3. पोता
 - 4. बेटा

Question ID : 12356810
Status : Answered
Chosen Option : 2

www.exammix.com