

SI in CAPFs, ASI in CISF and SI in Delhi Police Examination-2019 (Paper-I)

Roll Number	www.exammix.com
Candidate Name	Exammix
Exam Venue	
Exam Date	09/12/2019
Exam Time	10:00 AM - 12:00 PM
Subject	SI CPO Examination 2019



Section : General Intelligence and Reasoning

Q.1 उस विकल्प का चयन करें जो निम्नलिखित श्रेणी में प्रश्न चिह्न (?) के स्थान पर आ सकता है।

40, 50, 61, 73, 86, ?, 115

Ans ☒ 1. 100

☒ 2. 105

☒ 3. 99

☒ 4. 98

Question ID : 864407492

Status : Answered

Chosen Option : 1

Q.2 यदि '+' का अर्थ '-', '-' का अर्थ 'x', 'x' का अर्थ '÷' और '÷' का अर्थ '+' है, तो निम्नलिखित व्यंजक का मान क्या होगा?

$13 - 3 + 15 \times 3 \div 5 = ?$

Ans ☒ 1. 37

☒ 2. 39

☒ 3. 42

☒ 4. 41

Question ID : 864407504

Status : Answered

Chosen Option : 2

Q.3 जब समस्या आकृति के दाईं ओर दर्पण रखा जाता है, तो निम्नलिखित विकल्प आकृतियों में से कौन सी आकृति, दी गई समस्या आकृति की सटीक दर्पण छवि है?



Ans

☒ 1.



☒ 2.





Question ID : 864407514

Status : Answered

Chosen Option : 3

Q.4 अक्षर-समूह के चार युग्म दिए गए हैं, जिनमें से तीन किसी तरह से समान हैं, जबकि एक असंगत है। असंगत का चयन करें।

Ans ✓ 1. XHEP - KVR A

✗ 2. ARNI - RMIZ

✗ 3. OLEV - EVOL

✗ 4. TSRA - ZIHG

Question ID : 864407476

Status : Not Answered

Chosen Option : --

Q.5 निम्नलिखित में से कौन सी संख्या और संकेत का युग्म, जब उनकी स्थिति आपस में बदल दी जाती है, दिए गए गणितीय समीकरण को सही ढंग से हल करेंगे?

$$17 \times 15 + 3 - 11 \div 3 = 45$$

Ans ✗ 1. 15 और 11, - और ×

✓ 2. 15 और 11, + और ×

✗ 3. 15 और 11, + और -

✗ 4. 17 और 3, - और ÷

Question ID : 864407505

Status : Not Answered

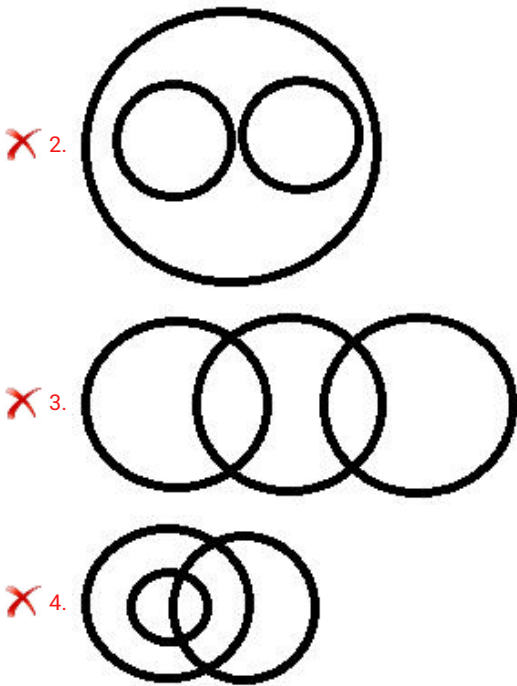
Chosen Option : --

Q.6 उस वेन आरेख का चयन करें, जो दिए गए वर्गों के बीच के संबंध को सर्वोत्तम ढंग से निरूपित करता है।

तारा, सूर्य, बुध

Ans





Question ID : 864407518
Status : Answered
Chosen Option : 1

Q.7 निम्नलिखित में से कौन सा विकल्प दिए गए शब्दों का तार्किक अनुक्रम होगा?

- 1. डेकामीटर
- 2. मिलीमीटर
- 3. हेक्टोमीटर
- 4. सेंटीमीटर
- 5. डेसीमीटर

Ans ☒ 1. 5, 1, 3, 2, 4
☒ 2. 3, 1, 5, 2, 4
☒ 3. 2, 1, 5, 3, 4
☒ 4. 3, 1, 5, 4, 2

Question ID : 864407474
Status : Answered
Chosen Option : 4

Q.8 दिए गए पैटर्न का ध्यानपूर्वक अध्ययन करें और उस संख्या का चयन करें जो इसमें प्रश्न चिह्न (?) के स्थान पर आ सकती है।

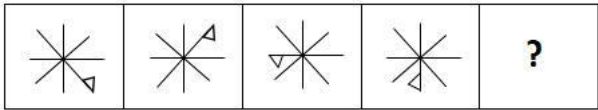
3	18	27
14	13	?
34	62	98

Ans ☒ 1. 25
☒ 2. 23
☒ 3. 22
☒ 4. 15

Question ID : 864407502
Status : Answered

Chosen Option : 3

Q.9 उस आकृति का चयन करें जो निम्नलिखित आकृति श्रृंखला में अगले स्थान पर आएगी।



Ans

- 1.
- 2.
- 3.
- 4.

Question ID : 864407506
Status : Answered
Chosen Option : 2

Q.10 उस विकल्प का चयन करें जिसका पांचवीं संख्या के साथ वही संबंध है, जो दूसरी संख्या का पहली संख्या के साथ है और चौथी संख्या का तीसरी संख्या के साथ है।

9 : 102 :: 11 : 146 :: 13 : ?

- Ans
1. 175
2. 200
3. 171
4. 198

Question ID : 864407495
Status : Answered
Chosen Option : 4

Q.11 संख्याओं के चार युग्म दिए गए हैं, जिनमें से तीन किसी तरह से समान हैं, जबकि एक असंगत है। असंगत का चयन करें।

- Ans
1. 64 : 100 : 18
2. 81 : 9 : 19
3. 25 : 16 : 9
4. 16 : 64 : 12

Question ID : 864407500

Status : Answered
Chosen Option : 2

Q.12 चार अक्षर-समूह दिए गए हैं, जिनमें से तीन किसी तरह से समान हैं, जबकि एक असंगत है। असंगत का चयन करें।

- Ans
- ☒ 1. BEHK
 - ☒ 2. GJMQ
 - ☒ 3. MPSV
 - ☒ 4. RUXA

Question ID : 864407475
Status : Answered
Chosen Option : 2

Q.13 उस विकल्प का चयन करें, जिसका चौथे पद के साथ वही संबंध है, जो पहले पद का दूसरे पद से है।

QMDFEHKNJ : FDMQVJKNH :: ? : HELIOPTR

- Ans
- ☒ 1. ILEHOERTP
 - ☒ 2. ILEHORETP
 - ☒ 3. LIEHLREPT
 - ☒ 4. ILEHLRETP

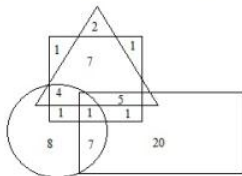
Question ID : 864407484
Status : Answered
Chosen Option : 4

Q.14 स्टेन उत्तर दिशा की ओर चलना शुरू करता है। 70 m चलने के बाद वह बाईं ओर मुड़ता है और 35 m सीधे चलता है। वह फिर बाईं ओर मुड़ता है और 30 m चलता है, फिर से वह बाईं ओर मुड़ता है और 35 m की दूरी तय करता है। वह प्रारंभिक बिंदु से कितनी दूर है और किस दिशा में है?

- Ans
- ☒ 1. 40m, दक्षिण
 - ☒ 2. 40m, उत्तर
 - ☒ 3. 35m, दक्षिण
 - ☒ 4. 35m, उत्तर

Question ID : 864407517
Status : Answered
Chosen Option : 1

Q.15 नीचे दिया गया वेन आरेख एक संगीत विद्यालय के कलाकारों को दिखाता है। 'त्रिभुज' 'पियानोवादकों' का प्रतिनिधित्व करता है, 'वृत्त', 'ड्रमर्स' का प्रतिनिधित्व करता है, 'आयत' 'गिटारवादक' का प्रतिनिधित्व करता है और 'वर्ग' 'गायकों' का प्रतिनिधित्व करता है। चित्र में दी गयी संख्याएँ, उस विशेष श्रेणी के व्यक्तियों की संख्या का प्रतिनिधित्व करती हैं। कितने गायक पियानोवादक और गिटारवादक भी हैं, लेकिन ड्रमर नहीं हैं?



- Ans
- ☒ 1. 9
 - ☒ 2. 7
 - ☒ 3. 5

4. 12

Question ID : 864407520

Status : Answered

Chosen Option : 3

Q.16 '=' चिह्न के दोनों ओर दिए गए दो व्यंजकों का एक ही मान होगा यदि दोनों तरफ या एक तरफ दो पद परस्पर बदल दिए जाते हैं। दिए गए विकल्प में से परस्पर बदले जानेवाले सही पदों का पता लगाएं।

$$5 \times 2 + 8 \div 2 - 1 = 9 - 6 \div 3 + 6 \times 3$$

Ans ☒ 1. 8, 9

☒ 2. 5, 9

☒ 3. 2, 6

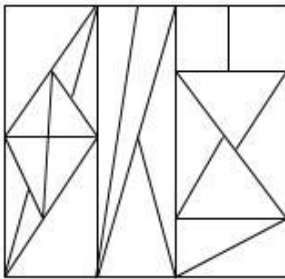
☒ 4. 1, 9

Question ID : 864407503

Status : Answered

Chosen Option : 2

Q.17 दी गई आकृति में कितने त्रिभुज हैं?



Ans ☒ 1. 30

☒ 2. 33

☒ 3. 32

☒ 4. 25

Question ID : 864407509

Status : Answered

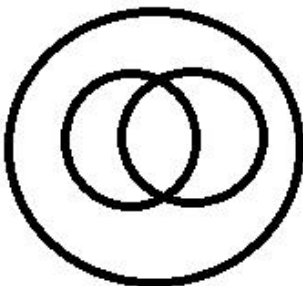
Chosen Option : 2

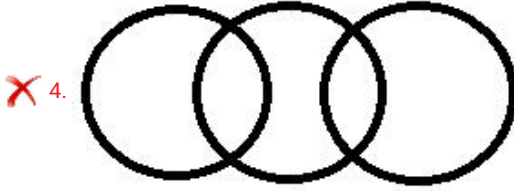
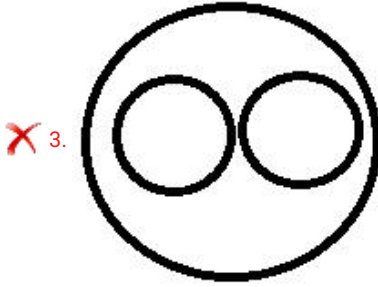
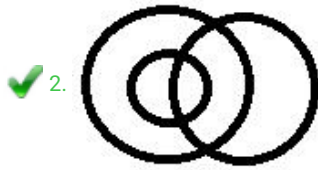
Q.18 उस वेन आरेख का चयन करें, जो दिए गए वर्गों के बीच के संबंध को सर्वोत्तम ढंग से निरूपित करता है।

माताएँ, चिकित्सक, महिलाएँ

Ans

☒ 1.





Question ID : 864407519
Status : Answered
Chosen Option : 2

Q.19 उस विकल्प का चयन करें जो रिक्त स्थान को भरकर दी गई श्रृंखला को पूरा करेगा।

FTB, IQE, LNH, OKK, ?

- Ans
- ✗ 1. SHN
 - ✗ 2. RGM
 - ✗ 3. SHM
 - ✓ 4. RHN

Question ID : 864407472
Status : Answered
Chosen Option : 4

Q.20 'लालची' का संबंध 'उदार' से उसी तरह है जैसे 'प्रतिशोधी' का संबंध '____' से है।

- Ans
- ✓ 1. करुणाशील
 - ✗ 2. विरोधी
 - ✗ 3. प्रतिहिंसक
 - ✗ 4. निरुत्साही

Question ID : 864407479
Status : Not Answered
Chosen Option : --

Q.21 उस विकल्प का चयन करें, जिसका तीसरे पद के साथ वही संबंध है, जो दूसरे पद का पहले पद से है।

बैले : नृत्य-निर्देशक :: कपड़े : ?

- Ans
- ✗ 1. प्रिंटर
 - ✗ 2. दुकानदार

✗ 3. निर्माता

✓ 4. दर्जी

Question ID : 864407480

Status : Answered


Chosen Option : 4

Q.22 जब समस्या आकृति के दाईं ओर दर्पण रखा जाता है, तो निम्नलिखित विकल्प आकृतियों में से कौन सी आकृति, दी गई समस्या आकृति की सटीक दर्पण छवि है?


ALPha797charLIE

Ans

✓ 1. 

✗ 2. 

✗ 3. 

✗ 4. 

Question ID : 864407513

Status : Answered

Chosen Option : 1

Q.23 दिए गए कथनों और निष्कर्षों को ध्यानपूर्वक पढ़ें। यह मानते हुए कि कथनों में दी गयी जानकारी सत्य है, भले ही यह आम तौर पर स्थापित तथ्यों से भिन्न दिखाई देता है, यह निर्णय करें कि दिए गए निष्कर्षों में से कौन सा/से कथन का तार्किक रूप से अनुसरण करता/ते है/हैं।

कथन:

1. कुछ दिल्लीवासी सिंगापुरी हैं।
2. कोई सिंगापुरी अमेरिकी नहीं है।

निष्कर्ष:

- I. कुछ अमेरिकी सिंगापुरी हैं।
- II. सभी सिंगापुरी दिल्लीवासी हैं।

Ans

✓ 1. ना निष्कर्ष I ना ही निष्कर्ष II अनुसरण करते हैं।

✗ 2. केवल निष्कर्ष II अनुसरण करता है।

✗ 3. केवल निष्कर्ष I अनुसरण करता है।

✗ 4. या तो निष्कर्ष I या निष्कर्ष II अनुसरण करते हैं।

Question ID : 864407490

Status : Answered

Chosen Option : 1

Q.24 चार संख्याएँ दी गई हैं, जिनमें से तीन किसी तरह से समान हैं, जबकि एक असंगत है। असंगत का चयन करें।

Ans

✗ 1. 103

✓ 2. 117

✗ 3. 113

✗ 4. 107

Question ID : 864407497

Status : Answered

Chosen Option : 2

Q.25 चार शब्द दिए गए हैं, जिनमें से तीन किसी तरह से समान हैं, जबकि एक असंगत है। असंगत का चयन करें।

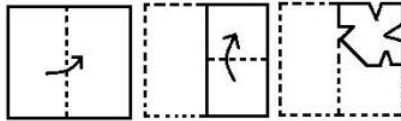
- Ans ☒ 1. रॉकेट
☒ 2. ग्रह
☒ 3. तारे
☒ 4. आकाशगंगा

Question ID : 864407477

Status : Answered

Chosen Option : 1

Q.26 कागज के एक टुकड़े को मोड़ने का क्रम और मुड़े हुए कागज के काटे जाने का तरीका निम्नलिखित आकृतियों में दिखाया गया है। दी गयी उत्तर आकृतियों में से इंगित करें कि खोले जाने पर यह कैसा दिखाई देगा ?



Ans

- ☒ 1.
- ☒ 2.
- ☒ 3.
- ☒ 4.

Question ID : 864407515

Status : Answered

Chosen Option : 1

Q.27 उस विकल्प का चयन करें जिसमें शब्दों के बीच वही संबंध है जो दिए गए शब्दों के युग्म के बीच है।

पहिया : आरा (तीली)

- Ans ☒ 1. टेबल : कुर्सी
☒ 2. घर : कमरा

✗ 3. तारा : आकाशगंगा

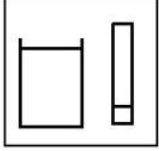
✗ 4. अध्याय : किताब

Question ID : 864407481

Status : Answered

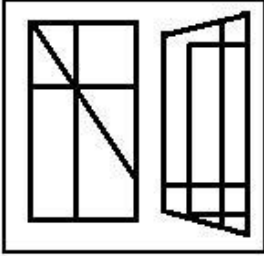
Chosen Option : 2

Q.28 उस विकल्प का चयन करें जिस में दी गई आकृति अंतःस्थापित है। (घुमाने (रोटेशन) की अनुमति नहीं है)

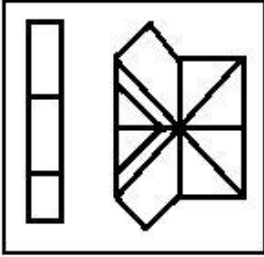


Ans

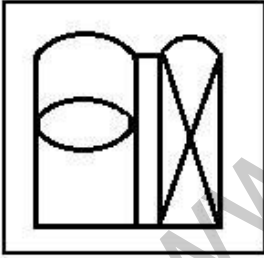
✓ 1.



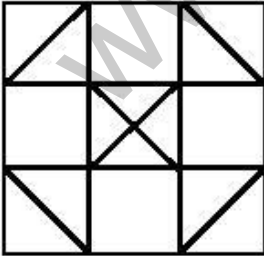
✗ 2.



✗ 3.



✗ 4.



Question ID : 864407512

Status : Answered

Chosen Option : 1

Q.29 उस विकल्प का चयन करें जिसमें संख्याओं के बीच वही संबंध है जो दी गई संख्याओं के युग्म के बीच है।

76 : 171

Ans ✓ 1. 28 : 63

- ☒ 2. 52 : 115
☒ 3. 24 : 39
☒ 4. 62 : 135

Question ID : 864407496
Status : Answered
Chosen Option : 1

Q.30 नीचे एक कथन के बाद दो निष्कर्ष I और II दिए गए हैं। यह मानते हुए कि कथन में दी गयी जानकारी सत्य है, यह निर्णय करें कि दिए गए निष्कर्षों में से कौन सा/से कथन का तार्किक रूप से अनुसरण करता/ते है/हैं।

कथन:
प्रधानमंत्री ने स्पष्ट किया है कि उनकी सरकार गरीब किसानों के उत्थान के लिए ठोस प्रयास करेगी और उनके लिए वार्षिक पेंशन की घोषणा भी की।

- निष्कर्ष:
I. सरकार समझती है कि गरीब किसानों की स्थिति पर तुरंत ध्यान देने की आवश्यकता है।
II. समाज के अन्य वर्गों के लिए किसी भी लाभ की घोषणा नहीं की गई है।

- Ans ☒ 1. केवल निष्कर्ष I अनुसरण करता है।
☒ 2. दोनों निष्कर्ष I और II अनुसरण करते हैं।
☒ 3. केवल निष्कर्ष II अनुसरण करता है।
☒ 4. ना निष्कर्ष I ना ही निष्कर्ष II अनुसरण करते हैं।

Question ID : 864407489
Status : Answered
Chosen Option : 1

Q.31 संख्याओं के चार युग्म दिए गए हैं, जिनमें से तीन किसी तरह से समान हैं, जबकि एक असंगत है। असंगत का चयन करें।

- Ans ☒ 1. 321 : 213 : 123
☒ 2. 432 : 324 : 231
☒ 3. 798 : 897 : 798
☒ 4. 564 : 645 : 456

Question ID : 864407499
Status : Answered
Chosen Option : 4

Q.32 उस विकल्प का चयन करें जो निम्नलिखित श्रेणी में प्रश्न चिह्न (?) के स्थान पर आ सकता है।

7, 17, 41, 85, ?, 257

- Ans ☒ 1. 165
☒ 2. 150
☒ 3. 105
☒ 4. 155

Question ID : 864407493
Status : Not Answered
Chosen Option : --

Q.33 यदि D = 12, AGE = 39, तो 'JADE' का मान क्या होगा?

- Ans ☒ 1. 62

✓ 2. 60

✗ 3. 40

✗ 4. 58

Question ID : 864407487

Status : Answered

Chosen Option : 2

Q.34 उस संख्या की पहचान करें जो निम्न श्रेणी से संबंधित नहीं है।

104, 108, 54, 58, 29, 31

Ans ✗ 1. 58

✗ 2. 54

✓ 3. 31

✗ 4. 29

Question ID : 864407491

Status : Answered

Chosen Option : 3

Q.35 उस विकल्प का चयन करें जिसमें संख्याओं के बीच वही संबंध है जो दी गई संख्याओं के युग्म के बीच है।

(73, 78, 93)

Ans ✗ 1. (67, 72, 82)

✓ 2. (145, 150, 165)

✗ 3. (23, 33, 38)

✗ 4. (29, 34, 39)

Question ID : 864407501

Status : Answered

Chosen Option : 2

Q.36 उस विकल्प का चयन करें जिसका पांचवीं संख्या के साथ वही संबंध है, जो दूसरी संख्या का पहली संख्या के साथ है और चौथी संख्या का तीसरी संख्या के साथ है।

31 : 3 :: 75 : 35 :: 54 : ?

Ans ✗ 1. 19

✗ 2. 9

✓ 3. 20

✗ 4. 21

Question ID : 864407494

Status : Answered

Chosen Option : 2

Q.37 संख्याओं के चार युग्म दिए गए हैं, जिनमें से तीन किसी तरह से समान हैं, जबकि एक असंगत है। असंगत का चयन करें।

Ans ✗ 1. 16 - 3

✓ 2. 64 - 32

✗ 3. 51 - 25

4. 50 - 7

Question ID : 864407498

Status : Answered

Chosen Option : 2

Q.38 एक निश्चित कूट भाषा में, 'apple' को 'pear', 'pear' को 'orange', 'orange' को 'guava' और 'guava' को 'melon' कहा जाता है। इस भाषा में, निम्नलिखित में से कौन सा एक साइट्रस (खट्टा) फल होगा?

- Ans
- ☒ 1. Orange
 - ☒ 2. Pear
 - ☒ 3. Guava
 - ☒ 4. Melon

Question ID : 864407485

Status : Answered

Chosen Option : 3

Q.39 उस विकल्प का चयन करें जिसमें शब्दों के बीच वही संबंध है जो दिए गए शब्दों के युग्म के बीच है।

कमल : फूल

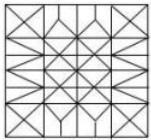
- Ans
- ☒ 1. धातु : तांबा
 - ☒ 2. रियाल : मुद्रा
 - ☒ 3. फर्नीचर : लकड़ी
 - ☒ 4. कागज़ : किताब

Question ID : 864407482

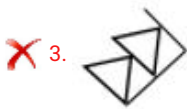

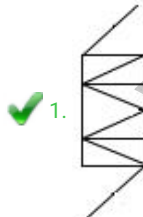
Status : Answered

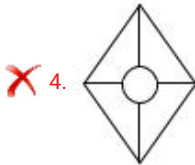
Chosen Option : 2

Q.40 उस विकल्प का चयन करें जो दी गई आकृति में अंतःस्थापित है। (घुमाने (रोटेशन) की अनुमति नहीं है)



Ans





Question ID : 864407511
Status : Answered
Chosen Option : 1

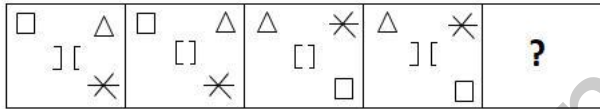
Q.41 उस अक्षर का चयन करें जो निम्नलिखित श्रृंखला में प्रश्न चिन्ह (?) के स्थान पर आ सकता है।

K, J, L, I, ?, H

- Ans ☒ 1. M
☐ 2. L
☐ 3. N
☐ 4. D

Question ID : 864407471
Status : Answered
Chosen Option : 1

Q.42 उस आकृति का चयन करें जो निम्नलिखित आकृति श्रृंखला में अगले स्थान पर आएगी।




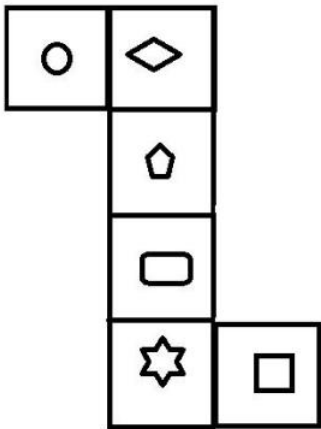
Ans

- ☐ 1.
- ☒ 2.
- ☐ 3.
- ☐ 4.





Question ID : 864407507
Status : Answered
Chosen Option : 4

Q.43

यदि दी गई आकृति को घन बनाने के लिए मोड़ा जाता है, तो कौन सा प्रतीक '  ' के विपरीत आएगा?

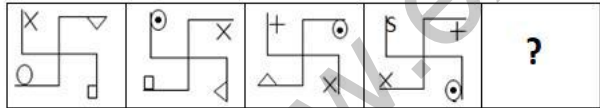


Ans

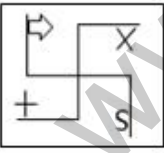
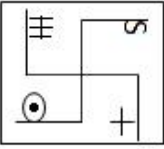
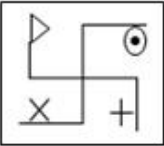
- ☒ 1. 
- ☐ 2. 
- ☐ 3. 
- ☐ 4. 

Question ID : 864407510
Status : Answered
Chosen Option : 3

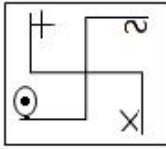
Q.44 उस आकृति का चयन करें जो निम्नलिखित आकृति श्रृंखला में अगले स्थान पर आएगी।



Ans

- ☐ 1. 
- ☒ 2. 
- ☐ 3. 

4.



Question ID : 864407508

Status : Answered

Chosen Option : 2

Q.45 चार शब्द दिए गए हैं, जिनमें से तीन किसी तरह से समान हैं, जबकि एक असंगत है। असंगत का चयन करें।

Ans

☒ 1. छत

☒ 2. पंखा

☒ 3. दीवार

☒ 4. ज़मीन

Question ID : 864407478

Status : Answered

Chosen Option : 4

Q.46 एक निश्चित कूट भाषा में, 'RIVER' को '10-3-5-2-10' के रूप में लिखा जाता है, तो उसी कूट भाषा में 'PETROL' को कैसे लिखा जाएगा?

Ans

☒ 1. 12-2-8-10-13-15

☒ 2. 12-2-8-10-4-16

☒ 3. 11-2-7-10-13-16

☒ 4. 13-5-8-9-4-15

Question ID : 864407488

Status : Answered

Chosen Option : 2

Q.47 यदि एक निश्चित कूट में, 'BRIDGE' को 'ACQSHJCEFHDF' लिखा जाता है, तो POWER का कूट क्या है?

Ans

☒ 1. OQNPVXDFQS

☒ 2. OQNPVXEFRS

☒ 3. QONPXVDFQS

☒ 4. QOPNVXDFSQ

Question ID : 864407486

Status : Answered

Chosen Option : 1

Q.48 निम्नलिखित शब्दों को उस क्रम में व्यवस्थित करें जिस क्रम में वे एक अंग्रेजी शब्दकोश में आते हैं।

1.Meticulous

2.Metric

3.Method

4.Mettle

5.Meter

Ans

☒ 1. 3, 4, 5, 1, 2

☒ 2. 5, 3, 1, 2, 4

☒ 3. 5, 3, 1, 4, 2

☒ 4. 5, 1, 3, 2, 4

Question ID : 864407473

Status : Answered

Chosen Option : 2

Q.49 उस विकल्प का चयन करें, जिसका तीसरे पद के साथ वही संबंध है, जो दूसरे पद का पहले पद से है।

AOE : FUJ :: RKT : ?

- Ans
- ☒ 1. WOY
 - ☒ 2. VQX
 - ☒ 3. VOY
 - ☒ 4. WQY

Question ID : 864407483

Status : Answered

Chosen Option : 4

Q.50 एक किसान अपना खेत तैयार कर रहा है। वह गैरेज से अपना ट्रैक्टर निकालता है और पूर्व की ओर 5 km ड्राइव करता है। वहां से वह दाएं मुड़ता है और 6 km ड्राइव करता है। फिर, वह दाएं मुड़ता है और 8 km ड्राइव करता है। फिर, जब उसका ट्रैक्टर खराब हो जाता है, वह दाएं मुड़ता है और 10 km ड्राइव करता है। उसके वर्तमान स्थान और गैरेज के बीच सबसे कम दूरी क्या है?

- Ans
- ☒ 1. 5 km
 - ☒ 2. 9 km
 - ☒ 3. 6 km
 - ☒ 4. 2 km

Question ID : 864407516

Status : Answered

Chosen Option : 1

Section : General Knowledge and General Awareness

Q.1 निम्नलिखित में से किस राज्य में पूर्वजों की पूजा से संबंधित त्योहार 'मी-दम-मी-फी (Me-Dam-Me-Phi)' मनाया जाता है?

- Ans
- ☒ 1. मध्य प्रदेश
 - ☒ 2. छत्तीसगढ़
 - ☒ 3. असम
 - ☒ 4. ओडिशा

Question ID : 864407574

Status : Answered

Chosen Option : 4

Q.2 'लेशलपतु (Leshalaptu)' किस भारतीय राज्य का लोक नृत्य है?

- Ans
- ☒ 1. गोवा
 - ☒ 2. नागालैंड
 - ☒ 3. केरल
 - ☒ 4. कर्नाटक

Question ID : 864407576

Status : Answered

Chosen Option : 3

Q.3 केंद्र-राज्य संबंधों से संबंधित मुद्दों की जांच के लिए केंद्र सरकार ने किस आयोग की नियुक्ति की थी?

- Ans ☒ 1. सरकारिया आयोग
☒ 2. मंडल आयोग
☒ 3. नानावटी आयोग
☒ 4. कोठारी आयोग

Question ID : 864407618

Status : Answered

Chosen Option : 1

Q.4 वर्ष 2010 में एशियाई खेलों में स्वर्ण पदक जीतने वाले पहले भारतीय रोवर (Rower) कौन हैं?

- Ans ☒ 1. सवर्ण सिंह
☒ 2. बजरंग लाल ठाकर
☒ 3. दत्तू बबन भोकानल
☒ 4. दुष्यंत चौहान

Question ID : 864407622

Status : Answered

Chosen Option : 1

Q.5 अलास्का और उत्तरी कनाडा जैसे ध्रुवीय क्षेत्रों में, जब आकाश में चमकीले रंग प्रदर्शित होते हैं, तो उस भौतिक परिघटना को क्या कहा जाता है?

- Ans ☒ 1. सुमेरु ज्योति (aurora borealis)
☒ 2. सक्रिय गैलेक्सीय नाभिक (active galactic nucleus)
☒ 3. उल्का वर्षा (star shower)
☒ 4. तारों की आंतरिक चमक (star's intrinsic luminosity)

Question ID : 864407590

Status : Answered

Chosen Option : 3

Q.6 निम्नलिखित में से किन देशों की सरकारों के बीच एक अंतरराष्ट्रीय समझौता है जिसका उद्देश्य यह सुनिश्चित करना है कि जंगली जन्तुओं और पादपों की प्रजातियों के अंतरराष्ट्रीय व्यापार के कारण उनके अस्तित्व को खतरा नहीं है?

- Ans ☒ 1. सी.आई.टी.ई.एस. (CITES)
☒ 2. ओपेक (OPEC)
☒ 3. ब्रिक्स (BRICS)
☒ 4. गैट्स (GATS)

Question ID : 864407597

Status : Answered

Chosen Option : 3

Q.7 सामान्य वस्तुओं के संदर्भ में आय और मांग के बीच किस तरह का संबंध होता है?

- Ans ☒ 1. कभी प्रत्यक्ष और कभी व्युत्क्रम संबंध होता है।
☒ 2. प्रत्यक्ष संबंध होता है।
☒ 3. मांग पर आय का कोई प्रभाव नहीं पड़ता है।

✗ 4. व्युत्क्रम संबंध होता है।

Question ID : 864407582
Status : Answered
Chosen Option : 1

Q.8 जब हमें अत्यधिक ठंड लगती है या हम भयभीत होते हैं, तो कौन सी मांसपेशियों के सिकुड़ जाने के कारण रोंगटे खड़े हो जाते हैं?

- Ans
- ✗ 1. इलास्टिन
 - ✓ 2. अरेक्टर पिली
 - ✗ 3. एपिडर्मिस
 - ✗ 4. कोलेजन

Question ID : 864407585
Status : Answered
Chosen Option : 4

Q.9 बसंत का त्योहार 'अली-अई-लिगांग', किस राज्य से संबंधित है?

- Ans
- ✗ 1. बिहार
 - ✗ 2. ओडिशा
 - ✗ 3. सिक्किम
 - ✓ 4. असम

Question ID : 864407573
Status : Answered
Chosen Option : 3

Q.10 'हेमिस त्सू (Hemis Tsechu)' त्योहार इनमें से किसकी जयंती के रूप में मनाया जाता है?

- Ans
- ✗ 1. दलाई लामा
 - ✗ 2. गौतम बुद्ध
 - ✓ 3. गुरु पद्मसंभव
 - ✗ 4. आदि शंकराचार्य

Question ID : 864407577
Status : Answered
Chosen Option : 1

Q.11 भारत में 'नेशनल फूड फ़ॉर वर्क प्रोग्राम' किस वर्ष में शुरू किया गया था?

- Ans
- ✗ 1. 2002
 - ✗ 2. 1991
 - ✗ 3. 2000
 - ✓ 4. 2004

Question ID : 864407579
Status : Not Answered
Chosen Option : --

Q.12 किस नदी की दूरी, मथून, तलोन, एमे, अही, एमरा और आवा नामक सहायक नदियाँ हैं?

- Ans
- ✗ 1. कावेरी

☒ 2. गोदावरी

☒ 3. दिबांग

☒ 4. लोहित

Question ID : 864407600

Status : Answered

Chosen Option : 4

Q.13 संघवाद के संस्थागत तंत्र में कितनी राज्य व्यवस्थाएं होती है?

Ans ☒ 1. दो

☒ 2. तीन

☒ 3. एक

☒ 4. चार

Question ID : 864407616

Status : Answered

Chosen Option : 2

Q.14 'द फ्री वॉयस: ऑन डेमोक्रेसी, कल्चर एंड द नेशन (The Free Voice: On Democracy, Culture and the Nation)' पुस्तक के लेखक कौन हैं?

Ans ☒ 1. अर्नब गोस्वामी

☒ 2. रवीश कुमार

☒ 3. राहुल कंवल

☒ 4. बरखा दत्त

Question ID : 864407609

Status : Answered

Chosen Option : 2

Q.15 किस खोजकर्ता ने 1498 में भारत के लिए एक समुद्री मार्ग की खोज की थी?

Ans ☒ 1. थॉमस कोरियट

☒ 2. मेगस्थनीज

☒ 3. मार्को पोलो

☒ 4. वास्को डी गामा

Question ID : 864407601

Status : Answered

Chosen Option : 4

Q.16 अभिजीत विनायक बनर्जी को किस क्षेत्र में उनके योगदान के लिए नोबेल मेमोरियल पुरस्कार, 2019 से सम्मानित किया गया था?

Ans ☒ 1. भौतिक विज्ञान

☒ 2. साहित्य

☒ 3. अर्थशास्त्र

☒ 4. रसायन विज्ञान

Question ID : 864407608

Status : Answered

Chosen Option : 3

Q.17 निम्नलिखित में से क्या एंजियोस्पर्म की एक विशिष्ट विशेषता है?

- Ans ☒ 1. संगुप्त बीज
☐ 2. छोटी जड़ें
☐ 3. मोटी छाल
☐ 4. लंबा पत्ता/ लंबी पत्ती

Question ID : 864407592
Status : Answered
Chosen Option : 4

Q.18 भारत के किस गवर्नर-जनरल ने 1772 में, प्रत्येक जिले में दो अदालतें निर्मित कीं जिनमें से एक फौजदारी अदालत और दूसरी दीवानी अदालत थी?

- Ans ☒ 1. वारेन हेस्टिंग्स
☐ 2. रिचर्ड वेलेस्ली
☐ 3. लॉर्ड डलहौजी
☐ 4. रॉबर्ट क्लाइव

Question ID : 864407605
Status : Answered
Chosen Option : 1

Q.19 ईक्राइन ग्रंथियों का प्रमुख कार्य क्या है?

- Ans ☐ 1. शरीर के रोम/बाल उत्पन्न करना
☐ 2. वृद्धि संबंधी हार्मोन उत्पन्न करना
☐ 3. त्वचा का रंग उत्पन्न करना
☒ 4. पसीना उत्पन्न करना

Question ID : 864407586
Status : Answered
Chosen Option : 1

Q.20 निम्नलिखित में से कौन सा भारतीय शहर 'यूनेस्को (UNESCO) विश्व धरोहर स्थलों' की सूची में शामिल है?

- Ans ☐ 1. श्रीनगर
☐ 2. मुर्शिदाबाद
☒ 3. अहमदाबाद
☐ 4. हैदराबाद

Question ID : 864407575
Status : Answered
Chosen Option : 3

Q.21 अक्टूबर 2019 तक, भारत में कितने नाभिकीय विद्युत संयंत्र मौजूद हैं?

- Ans ☐ 1. 5
☒ 2. 7
☐ 3. 9
☐ 4. 11

Question ID : 864407599

Status : Answered

Chosen Option : 2

Q.22 'ए सेंचुरी इज़ नॉट एनफ़ (A Century Is Not Enough)' किसकी आत्मकथा है?

- Ans
- ☒ 1. सचिन तेंदुलकर
 - ☒ 2. अनिल कुंबले
 - ☒ 3. राहुल द्रविड़
 - ☒ 4. सौरव गांगुली

Question ID : 864407610

Status : Answered

Chosen Option : 1

Q.23 वैश्विक आर्थिक स्वतंत्रता सूचकांक 2019 में भारत की रैंकिंग क्या है?

- Ans
- ☒ 1. 62वीं
 - ☒ 2. 79वीं
 - ☒ 3. 83वीं
 - ☒ 4. 55वीं

Question ID : 864407580

Status : Answered

Chosen Option : 3

Q.24 1756 में अलीवर्दी खान की मृत्यु के बाद बंगाल का नवाब कौन बना?

- Ans
- ☒ 1. मुर्शिद कुली खान
 - ☒ 2. सिराज उद-दौला
 - ☒ 3. मीर जाफ़र
 - ☒ 4. सुजान खान

Question ID : 864407602

Status : Answered

Chosen Option : 3

Q.25 PSA विश्व रैंकिंग में शीर्ष 10 में स्थान पाने वाले पहले भारतीय पुरुष स्ववैश खिलाड़ी कौन हैं?

- Ans
- ☒ 1. रामित टंडन
 - ☒ 2. महेश मनगांवकर
 - ☒ 3. साइरस पोचा
 - ☒ 4. सौरव घोषाल

Question ID : 864407620

Status : Answered

Chosen Option : 1

Q.26 स्थलमंडल, जलमंडल और वायुमंडल के बीच संपर्क का संकीर्ण क्षेत्र जहां प्राकृतिक वनस्पति और वन्यजीव मौजूद हैं, _____ कहलाता है।

- Ans
- ☒ 1. बहिर्मंडल
 - ☒ 2. भूमंडल

✓ 3. जैवमंडल

✗ 4. क्षोभमंडल

Question ID : 864407596

Status : Answered

Chosen Option : 3

Q.27 छोटी आंत और बड़ी आंत के जंक्शन से जुड़ी थैली को क्या कहा जाता है?

Ans ✗ 1. कक्षक (axilla)

✗ 2. अस्थिकंद (condyle)

✓ 3. अन्धान्न (caecum)

✗ 4. अनुत्रिक (coccyx)

Question ID : 864407584

Status : Answered

Chosen Option : 3

Q.28 दांत की जड़ किस पदार्थ से आच्छादित होती है?

Ans ✓ 1. सीमेंटम

✗ 2. डेंटिन

✗ 3. पल्प

✗ 4. इनेमल

Question ID : 864407583

Status : Answered

Chosen Option : 4

Q.29 एडविन लुटियंस और हर्बर्ट बेकर दो आर्किटेक्ट हैं, जिन्होंने _____ शहर का डिजाइन तैयार करने का श्रेय दिया जाता है।

Ans ✗ 1. इलाहाबाद (प्रयागराज)

✗ 2. चंडीगढ़

✗ 3. रायपुर

✓ 4. नई दिल्ली

Question ID : 864407607

Status : Answered

Chosen Option : 4

Q.30 भारत के सर्वोच्च साहित्यिक पुरस्कारों में से एक 'ज्ञानपीठ पुरस्कार' की शुरुआत किस वर्ष में की गई थी?

Ans ✗ 1. 1957

✓ 2. 1961

✗ 3. 1969

✗ 4. 1972

Question ID : 864407612

Status : Answered

Chosen Option : 3

Q.31 तापमान परिवर्तन, तुषार क्रिया, पादपों, जंतुओं तथा मानवीय गतिविधियों के कारण खुली चट्टानों का विघटन

और अपक्षय _____ कहलाता है।

- Ans
- ☒ 1. निर्वनीकरण
 - ☒ 2. अपरदन
 - ☒ 3. अपक्षयण
 - ☒ 4. प्रगलन

Question ID : 864407595
Status : Answered
Chosen Option : 1

Q.32 किंग जॉर्ज पंचम ने किस वर्ष में भारत का ताज ग्रहण किया था?

- Ans
- ☒ 1. 1923
 - ☒ 2. 1906
 - ☒ 3. 1917
 - ☒ 4. 1911

Question ID : 864407606
Status : Answered
Chosen Option : 4

Q.33 मराठा साम्राज्य और ब्रिटिश ईस्ट इंडिया कंपनी के प्रतिनिधियों ने किस वर्ष में 'सालबाई की संधि' पर हस्ताक्षर किए थे?

- Ans
- ☒ 1. 1782
 - ☒ 2. 1771
 - ☒ 3. 1758
 - ☒ 4. 1769

Question ID : 864407604
Status : Answered
Chosen Option : 3

Q.34 2019 में ICC मैच रेफरी के अंतरराष्ट्रीय पैनल में नियुक्त होने वाली पहली महिला कौन हैं?

- Ans
- ☒ 1. जीएस लक्ष्मी
 - ☒ 2. झुलन गोस्वामी
 - ☒ 3. सुधा शाह
 - ☒ 4. डायना एडुल्जी

Question ID : 864407619
Status : Answered
Chosen Option : 1

Q.35 यूनेस्को (UNESCO) एशिया-प्रशांत सांस्कृतिक धरोहर संरक्षण पुरस्कार, 2019 के लिए भारत से कितने स्थल चुने गए?

- Ans
- ☒ 1. तीन
 - ☒ 2. पांच
 - ☒ 3. चार
 - ☒ 4. दो

Question ID : 864407611

Status : Answered

Chosen Option : 2

Q.36 पादप जगत में, 'फ़र्न और फ़र्न सहयोगी' किस समूह से संबंधित हैं?

- Ans
- ☒ 1. जिम्नोस्पर्म से
 - ☒ 2. ब्रायोफ़ाइट
 - ☒ 3. थैलोफ़ाइट से
 - ☒ 4. टेरिडोफ़ाइट से

Question ID : 864407593

Status : Answered

Chosen Option : 1

Q.37 सर्वोच्च न्यायालय के न्यायाधीश को हटाने के लिए 108 संसद सदस्यों द्वारा हस्ताक्षरित प्रस्ताव पहली बार किस वर्ष में लाया गया था?

- Ans
- ☒ 1. 1991 में
 - ☒ 2. 1996 में
 - ☒ 3. 1978 में
 - ☒ 4. 1984 में

Question ID : 864407613

Status : Answered

Chosen Option : 3

Q.38 NBA खेल में खेलने वाले भारतीय मूल के पहले खिलाड़ी कौन हैं?

- Ans
- ☒ 1. सिम भुल्लर
 - ☒ 2. सतनाम सिंह
 - ☒ 3. पालप्रीत सिंह
 - ☒ 4. अमज्योत सिंह

Question ID : 864407621

Status : Answered

Chosen Option : 4

Q.39 किस अर्थशास्त्री ने 1817 में तुलनात्मक लाभ और विशेषज्ञता के आधार पर अंतरराष्ट्रीय व्यापार सिद्धांत विकसित किया?

- Ans
- ☒ 1. डेविड रिकार्डो ने
 - ☒ 2. मिल्टन फ्रीडमैन ने
 - ☒ 3. पॉल क्रुगमैन ने
 - ☒ 4. गैरी बेकर ने

Question ID : 864407581

Status : Answered

Chosen Option : 1

Q.40 निम्नलिखित में से किस धातु का गलनांक इसके शुद्ध रूप में सबसे अधिक होता है?

- Ans
- ☒ 1. तांबा
 - ☒ 2. सोना

✗ 3. प्लैटिनम

✓ 4. टंगस्टन

Question ID : 864407594

Status : Answered

Chosen Option : 4

Q.41 पंचायती राज संरचना में कितने स्तर होते हैं?

Ans ✗ 1. दो

✓ 2. तीन

✗ 3. पांच

✗ 4. चार

Question ID : 864407615

Status : Answered

Chosen Option : 2

Q.42 किस खनिज को 'बरीड सनशाइन (buried sunshine)' के रूप में जाना जाता है?

Ans ✓ 1. कोयला

✗ 2. लोहा

✗ 3. बॉक्साइट

✗ 4. अभ्रक

Question ID : 864407598

Status : Answered

Chosen Option : 3

Q.43 निम्नलिखित में से कौन सी पृथ्वी की बाहरी परत है, जो आरा पहली की तरह एक साथ विन्यासित प्लेटों से बनी होती है?

Ans ✗ 1. दुर्बलतामंडल (Asthenosphere)

✓ 2. स्थलमंडल (Lithosphere)

✗ 3. जैवमंडल (Biosphere)

✗ 4. मध्यमंडल (Mesosphere)

Question ID : 864407588

Status : Answered

Chosen Option : 2

Q.44 किस खनिज को 'मूर्खों का सोना' भी कहा जाता है?

Ans ✗ 1. मैग्नेटाइट

✗ 2. फ्लोराइट

✗ 3. क्वार्ट्ज

✓ 4. पाइराइट

Question ID : 864407587

Status : Answered

Chosen Option : 4

Q.45 अक्टूबर 2019 तक प्राप्त जानकारी के अनुसार, सूक्ष्म और लघु उद्यम के लिए क्रेडिट गारंटी फंड योजना के

तहत आने वाले अनुसूचित वाणिज्यिक बैंक द्वारा दिए गए ऋण की अधिकतम राशि क्या है?

- Ans
- ☐ 1. ₹50 लाख
 - ☐ 2. ₹150 लाख
 - ☐ 3. ₹100 लाख
 - ☒ 4. ₹200 लाख

Question ID : 864407578
Status : Answered
Chosen Option : 1

Q.46 श्रीरंगपट्टणम् के युद्ध में टीपू सुल्तान की हार के बाद, अंग्रेजों के साथ एक सहायक गठबंधन के तहत मैसूर पर किसने शासन किया?

- Ans
- ☒ 1. वाडियारों
 - ☐ 2. पाण्डियनों
 - ☐ 3. गंगाओं
 - ☐ 4. कदंबों

Question ID : 864407603
Status : Answered
Chosen Option : 1

Q.47 निम्नलिखित में से किस को एक विलयन के रूप में वर्गीकृत किया जा सकता है?

- Ans
- ☐ 1. लवण को
 - ☐ 2. हीरे को
 - ☐ 3. कोयले को
 - ☒ 4. समुद्री जल को

Question ID : 864407589
Status : Answered
Chosen Option : 4

Q.48 कौन सा रासायनिक सिद्धांत यह प्रतिपादित करता है कि 'CO₂ (कार्बन डाइऑक्साइड) की घुलनशीलता बढ़ाने के लिए शीतल पेय और सोडा की बोतलों को उच्च दाब पर सील किया जाता है'?

- Ans
- ☒ 1. हेनरी का सिद्धांत
 - ☐ 2. ओम का सिद्धांत
 - ☐ 3. डाल्टन का सिद्धांत
 - ☐ 4. रौलट का सिद्धांत

Question ID : 864407591
Status : Answered
Chosen Option : 1

Q.49 भारत के संविधान के अनुसार, 'पशुधन और पशुपालन' का विषय _____ में शामिल है।

- Ans
- ☐ 1. समवर्ती सूची
 - ☐ 2. संघ सूची
 - ☐ 3. अवशिष्ट सूची
 - ☒ 4. राज्य सूची

Question ID : 864407617
Status : Answered
Chosen Option : 3

Q.50 भारत के संविधान के किस अनुच्छेद में कहा गया है कि 'भारत के क्षेत्र में सभी प्राधिकरण, नागरिक और न्यायिक, सर्वोच्च न्यायालय के सहायक के रूप में कार्य करेंगे'?

- Ans  1. अनुच्छेद 137 www.exammix.com
 2. अनुच्छेद 144
 3. अनुच्छेद 121
 4. अनुच्छेद 157

Question ID : 864407614
Status : Answered
Chosen Option : 2

Section : Quantitative Aptitude

Q.1 ₹40,000 की एक धनराशि किस प्रतिशत दर पर दो वर्षों में ₹44,100 हो जाएगी जहां ब्याज वार्षिक रूप से चक्रवृद्धि किया जाता है?

- Ans  1. 7.5
 2. 2
 3. 4
 4. 5

Question ID : 864407641
Status : Answered
Chosen Option : 4

Q.2 $\left(1 - \frac{1}{4 - \frac{2}{1 + \frac{1}{\frac{1}{3} + 2}}}\right) \times \frac{15}{16} \div \frac{2}{3}$ of $2\frac{1}{4} - \frac{3+4}{3^3+4^3}$ को सरल करें।

- Ans  1. $\frac{5}{13}$
 2. $\frac{6}{13}$
 3. $\frac{4}{13}$
 4. $\frac{8}{13}$

Question ID : 864407628
Status : Not Answered
Chosen Option : --

Q.3 यदि PHOTOGRAPH शब्द में 'PH' के स्थान पर 'F' लिखा जाता, तो अक्षरों की संख्या में कितने प्रतिशत की कमी होती?

Ans

- ☒ 1. 10%
☒ 2. 25%
☒ 3. 20%
☒ 4. 18%

Question ID : 864407634
 Status : Answered
 Chosen Option : 1

Q.4 एक वस्तु के अंकित मूल्य पर क्रमशः 10%, 5% और 4% के तीन क्रमागत छूट प्रदान करने के बाद इसे ₹98,496 में बेच दिया गया। इस वस्तु का अंकित मूल्य क्या था?

- Ans
- ☒ 1. ₹1,10,700
☒ 2. ₹1,20,200
☒ 3. ₹1,20,000
☒ 4. ₹1,20,500

Question ID : 864407632
 Status : Not Answered
 Chosen Option : --

Q.5 यदि $(2x + 3y + 4)(2x + 3y - 5)$, $(ax^2 + by^2 + 2hxy + 2gx + 2fy + c)$ के समतुल्य है, तो $\{(g + f - c)/abh\}$ का मान ज्ञात कीजिए।

- Ans
- ☒ 1. $\frac{37}{216}$
☒ 2. $\frac{35}{432}$
☒ 3. $\frac{19}{108}$
☒ 4. $\frac{19}{216}$

Question ID : 864407654
 Status : Answered
 Chosen Option : 2

Q.6 यदि 10 व्यक्ति प्रतिदिन 7 घंटे काम करके एक काम को 12 दिनों में समाप्त कर सकते हैं, तो इसी काम को 14 व्यक्ति प्रतिदिन 6 घंटे काम करके कितने दिनों में समाप्त कर सकते हैं?

- Ans
- ☒ 1. 16
☒ 2. 15
☒ 3. 12
☒ 4. 10

Question ID : 864407642
 Status : Answered
 Chosen Option : 4

Q.7

$\frac{4}{5}, \frac{6}{8}, \frac{8}{25}$ का म.स. (HCF) ज्ञात कीजिए।

Ans

- ☒ 1. $\frac{1}{50}$
- ☒ 2. $\frac{1}{200}$
- ☒ 3. $\frac{1}{100}$
- ☒ 4. $\frac{1}{5}$

Question ID : 864407625
Status : Answered
Chosen Option : 3

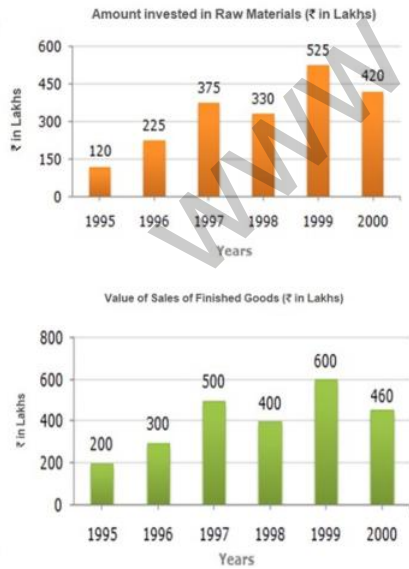
Q.8 $(4x^3y - 6x^2y^2 + 4xy^3 - y^4)$ को निम्न रूप में व्यक्त किया जा सकता है:

Ans

- ☒ 1. $(x + y)^4 - y^4$
- ☒ 2. $x^4 - (x - y)^4$
- ☒ 3. $(x - y)^4 - x^4$
- ☒ 4. $(x + y)^4 - x^4$

Question ID : 864407655
Status : Answered
Chosen Option : 3

Q.9 नीचे दिए गए दो बार ग्राफ में से, पहला कंपनी द्वारा पिछले कुछ वर्षों में कच्चे माल के क्रय पर निवेश की गई धनराशि (₹ लाख में) प्रदर्शित करता है और दूसरा पिछले कुछ वर्षों में कंपनी द्वारा बेचे गए तैयार माल के मूल्यों (₹ लाख में) को प्रदर्शित करता है।



1997 से 2000 के दौरान कच्चे माल पर निवेश की गई औसत धनराशि और 1997 से 2000 की इसी अवधि के दौरान तैयार माल की बिक्री के औसत मूल्य में अंतर क्या था?

Ans

- ☒ 1. 70.5 लाख

✗ 2. 87.5 लाख

✗ 3. 76.5 लाख

✓ 4. 77.5 लाख

Question ID : 864407666

Status : Answered

Chosen Option : 2

Q.10 निम्नलिखित में से कौन सी संख्या सबसे छोटी है?

Ans

✗ 1. $\sqrt{201} - \sqrt{199}$

✗ 2. $\sqrt{301} - \sqrt{299}$

✗ 3. $\sqrt{101} - \sqrt{99}$

✓ 4. $\sqrt{401} - \sqrt{399}$

Question ID : 864407623

Status : Answered

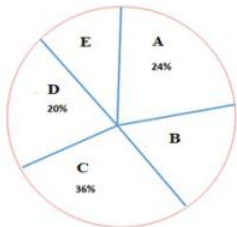
Chosen Option : 3

Q.11 निम्नलिखित पाई-चार्ट और तालिका में देश के 5 राज्यों A, B, C, D और E से जुड़े उन किसानों का प्रतिशत बंटन प्रदर्शित किया गया है, जिन्होंने वर्ष 2017 में सूखे के कारण बीमा का दावा किया था और उस तालिका में किसानों की संख्या में शामिल पुरुषों का महिलाओं से अनुपात भी प्रदर्शित किया गया है।

पाई-चार्ट और तालिका का ध्यानपूर्वक अध्ययन करें और निम्नलिखित प्रश्नों के उत्तर दें।

नोट : पाई-चार्ट और तालिका में कुछ आंकड़े छूटे हुए हैं, यदि किसी प्रश्न में आवश्यक हो, तो पहले छूटे हुए आंकड़े ढूँढ़ें और फिर प्रश्न का उत्तर दें।

वर्ष 2017 में बीमा का दावा करने वाले किसानों की कुल संख्या = 2,64,000



राज्य	वर्ष 2017 में बीमा का दावा करने वाले किसानों में शामिल पुरुषों का महिलाओं से अनुपात
	पुरुष : महिला
A	05:03
B	04:01
C	—
D	5 : —
E	03:02

राज्य C में बीमा का दावा करने वाले किसानों की संख्या, राज्य E और राज्य A में किसानों की कुल संख्या (जिन्होंने बीमा का दावा किया है) की संख्या से 5280 अधिक है। राज्य E में बीमा का दावा करने वाले किसानों का प्रतिशत क्या है?

Ans

✗ 1. 15%

✗ 2. 40%

✗ 3. 25%

✓ 4. 10%

Question ID : 864407669

Status : Not Answered
Chosen Option : --

Q.12 A, B और C $\frac{2}{3} : \frac{3}{5} : \frac{5}{6}$ के अनुपात में पूंजी का निवेश करके साझेदारी करते हैं। 8 महीने बाद, A अपनी पूंजी 25% बढ़ा देता है। यदि वर्ष के अंत में, अर्जित कुल लाभ ₹5,820 है, तो लाभ में C का हिस्सा कितना होगा?

- Ans
- ☒ 1. ₹2,450
 - ☒ 2. ₹2,050
 - ☒ 3. ₹2,350
 - ☒ 4. ₹2,250

Question ID : 864407639
Status : Answered
Chosen Option : 4

Q.13 मैंने 100 kg चाय खरीदी और इसे मैंने उस लाभ पर बेचा, जो मेरे द्वारा 40 kg चाय हेतु किए गए भुगतान के बराबर है। मेरे द्वारा अर्जित लाभ प्रतिशत ज्ञात कीजिए।

- Ans
- ☒ 1. 30%
 - ☒ 2. 40%
 - ☒ 3. 25%
 - ☒ 4. 20%

Question ID : 864407637
Status : Answered
Chosen Option : 2

Q.14 तीन पाइप A, B और C एक खाली जलाशय को क्रमशः 2, 3 और 6 घंटे में भर सकते हैं। तीनों पाइपों को एक साथ खोल दिया जाता है। कितने समय के बाद पाइप B को बंद कर दिया जाना चाहिए, ताकि जलाशय ठीक 1 घंटे 15 मिनट में भर जाए?

- Ans
- ☒ 1. 30 मिनट
 - ☒ 2. 20 मिनट
 - ☒ 3. 15 मिनट
 - ☒ 4. 45 मिनट

Question ID : 864407645
Status : Answered
Chosen Option : 3

Q.15 दो रेलवे इंजनों की चाल का अनुपात 5 : 4 है। यदि वे एक ही दिशा में समानांतर पटरियों पर चलते हैं और आरंभ में कम चाल वाला इंजन तेज चाल वाले इंजन से 8 km आगे था, तो तेज चाल वाले इंजन को कम चाल वाले इंजन से आगे निकलने के लिए कितनी दूरी तय करनी पड़ेगी?

- Ans
- ☒ 1. 40
 - ☒ 2. 36
 - ☒ 3. 48
 - ☒ 4. 32

Question ID : 864407647

Status : **Answered**
Chosen Option : 1

Q.16 $7\frac{1}{3} \div 2\frac{1}{2}$ of $1\frac{3}{5} - \left(\frac{3}{8} + \frac{1}{7} \times 1\frac{3}{4}\right) - \frac{5}{24}$ को सरल करें।

- Ans
- ☒ 1. 2
 - ☒ 2. $\frac{1}{24}$
 - ☒ 3. $\frac{1}{12}$
 - ☒ 4. 1

Question ID : **864407627**
Status : **Answered**
Chosen Option : 3

Q.17 यदि $(320 + 342 + 530 + 915) \div (20 + 22 - x + 18) = 43$ है, तो x का मान क्या होगा?

- Ans
- ☒ 1. 23
 - ☒ 2. 15
 - ☒ 3. 11
 - ☒ 4. 26

Question ID : **864407629**
Status : **Answered**
Chosen Option : 3

Q.18 विद्यालय A के 4 लड़के और विद्यालय B के 6 लड़के मिलकर एक प्रदर्शनी 5 दिनों में लगा सकते हैं, यही काम विद्यालय A के 5 लड़के और विद्यालय C के 10 लड़के मिलकर 4 दिनों में कर सकते हैं या विद्यालय B के 3 लड़के और विद्यालय C के 4 लड़के मिलकर 10 दिनों में कर सकते हैं। यही प्रदर्शनी विद्यालय A के कितने लड़के एक दिन में लगा सकते हैं?

- Ans
- ☒ 1. 80
 - ☒ 2. 20
 - ☒ 3. 40
 - ☒ 4. 60

Question ID : **864407643**
Status : **Answered**
Chosen Option : 4

Q.19 एक कक्षा के छात्रों द्वारा परीक्षा में प्राप्त किए गए अंकों की तालिका बनाते समय, गलती से एक छात्र द्वारा प्राप्त किए गए अंकों को 63 के स्थान पर 93 लिख दिया गया, जिसके परिणामस्वरूप अंकों के औसत में 0.5 की वृद्धि हो गई। कक्षा में विद्यार्थियों की संख्या कितनी थी?

- Ans
- ☒ 1. 60
 - ☒ 2. 20
 - ☒ 3. 30
 - ☒ 4. 15

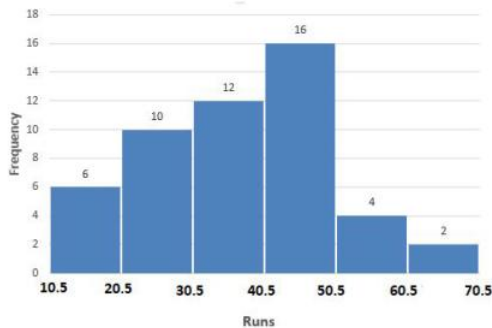
Question ID : 864407631
Status : Answered
Chosen Option : 1

Q.20 84 cm लंबे एक बेलन का निर्माण स्टील से किया गया है। इसके बाहरी और आंतरिक व्यास क्रमशः 10 cm और 8 cm हैं। बेलन में स्टील का आयतन क्या है (10^{-3} m^3 में और दशमलव के तीन स्थानों तक सही है)?

- Ans
- ☒ 1. 9.504
 - ☒ 2. 2.376
 - ☒ 3. 4.752
 - ☒ 4. 2.112

Question ID : 864407651
Status : Not Answered
Chosen Option : --

Q.21 दिया गया आयतचित्र एक स्थानीय क्रिकेट टूर्नामेंट में जिले के 50 चयनित खिलाड़ियों द्वारा बनाए गए औसत रनों के बारंबारता बंटन को प्रदर्शित करता है।



50 खिलाड़ियों का कुल औसत स्कोर ज्ञात कीजिए।

- Ans
- ☒ 1. 37.1
 - ☒ 2. 38.5
 - ☒ 3. 29.3
 - ☒ 4. 32.6

Question ID : 864407672
Status : Answered
Chosen Option : 2

Q.22 एक समलम्ब चतुर्भुज की दो समानांतर भुजाएं क्रमशः 27 cm और 13 cm हैं। यदि समलम्ब चतुर्भुज की ऊंचाई 8 cm है, तो इसका क्षेत्रफल m^2 में ज्ञात कीजिए।

- Ans
- ☒ 1. 0.056
 - ☒ 2. 0.32
 - ☒ 3. 0.032
 - ☒ 4. 0.016

Question ID : 864407648
Status : Answered
Chosen Option : 2

Q.23

छह अंकों वाली वह बड़ी से बड़ी संख्या कौन सी है, जिसे 12, 15, 20, 24 और 30 से विभाजित करने पर शेषफल क्रमशः 8, 11, 16, 20 और 26 बचता है।

- Ans
- ☒ 1. 999960
 - ☒ 2. 999964
 - ☒ 3. 999956
 - ☒ 4. 999982

Question ID : 864407626

Status : Answered

Chosen Option : 2

Q.24 पाइप A और B एक खाली टैंक को क्रमशः 6 और 8 घंटे में भर सकते हैं, जबकि पाइप C भरे टैंक को 10 मिनट में खाली कर सकता है। यदि तीनों पाइपों को एक साथ खोल दिया जाता है, तो टैंक कितने समय में भर जाएगा?

- Ans
- ☒ 1. $4\frac{4}{23}$ घंटे
 - ☒ 2. $7\frac{1}{2}$ घंटे
 - ☒ 3. $5\frac{5}{23}$ घंटे
 - ☒ 4. $6\frac{1}{5}$ घंटे

Question ID : 864407644

Status : Answered

Chosen Option : 3

Q.25 एक लम्ब वृत्तीय शंकु की ऊँचाई 35 cm है और इसका वक्र पृष्ठीय क्षेत्रफल इसके आधार के क्षेत्रफल का चार गुना है। शंकु का आयतन क्या है (10^{-3}m^3 में और दशमलव के तीन स्थानों तक सही)?

- Ans
- ☒ 1. 2.625
 - ☒ 2. 3.316
 - ☒ 3. 3.384
 - ☒ 4. 2.994

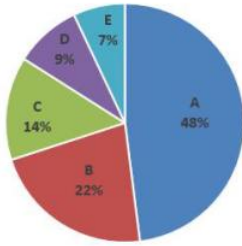
Question ID : 864407652

Status : Not Answered

Chosen Option : --

Q.26

दिया गया पाई-चार्ट वर्ष 2018 के दौरान पांच शोरूम A, B, C, D और E से कार के एक विशिष्ट ब्रांड की बिक्री के बंटन को प्रदर्शित करता है। उस वर्ष के दौरान पांचों शोरूम से बेची गई कारों की कुल संख्या 5000 है।



शोरूम C में बिक्री से संगत खंड का केंद्रीय कोण (0.1 अंश के निकटतम) ज्ञात कीजिए।

- Ans
- ☒ 1. 56.7
 - ☒ 2. 48.6
 - ☒ 3. 50.4
 - ☒ 4. 60.5

Question ID : 864407667

Status : Answered

Chosen Option : 1

Q.27 दो संख्याओं का अनुपात 3 : 5 है। यदि पहली संख्या में आठ और दूसरी में सात जोड़ा जाता है, तो अनुपात 2 : 3 हो जाता है। यदि प्रत्येक में छह जोड़े जाने पर उनका अनुपात क्या हो जाएगा?

- Ans
- ☒ 1. 7 : 9
 - ☒ 2. 9 : 14
 - ☒ 3. 5 : 7
 - ☒ 4. 5 : 9

Question ID : 864407638

Status : Answered

Chosen Option : 2

Q.28 यदि $0 \leq \theta \leq 90^\circ$, और $\sec^{107}\theta + \cos^{107}\theta = 2$ है, तो $(\sec\theta + \cos\theta)$ का मान ज्ञात कीजिए।

- Ans
- ☒ 1. 2^{-107}
 - ☒ 2. $\frac{1}{2}$
 - ☒ 3. 2
 - ☒ 4. 1

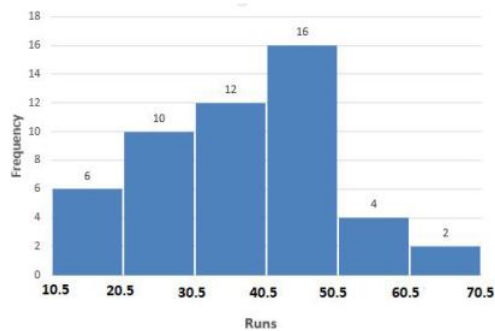
Question ID : 864407661

Status : Answered

Chosen Option : 3

Q.29

दिया गया आयतचित्र एक स्थानीय क्रिकेट टूर्नामेंट में जिले के 50 चयनित खिलाड़ियों द्वारा बनाए गए औसत रनों के बारंबारता बंटन को प्रदर्शित करता है।

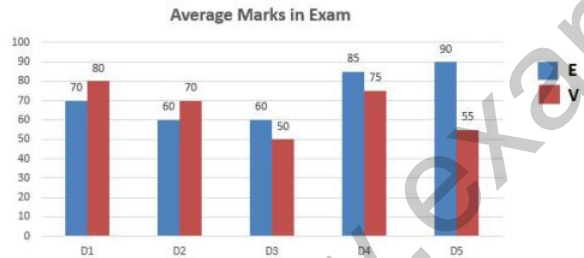


कितने खिलाड़ियों ने औसतन 30.5 से अधिक रन बनाए हैं?

- Ans
- ☒ 1. 28
 - ☒ 2. 16
 - ☒ 3. 34
 - ☒ 4. 12

Question ID : 864407671
Status : Answered
Chosen Option : 3

Q.30 दिया गया बार चार्ट किसी विशेष वर्ष के दौरान माध्यमिक स्तर की परीक्षा में एक राज्य के पांच जिलों (D1, D2, D3, D4, D5) के छात्रों द्वारा अंग्रेजी (E) और मातृभाषा (V) में प्राप्त किए गए औसत अंकों (100 में से प्राप्त कुल अंक) को प्रदर्शित करता है।



पांच जिलों के छात्रों द्वारा अंग्रेजी में प्राप्त किए गए अंकों का औसत प्रतिशत ज्ञात कीजिए।

- Ans
- ☒ 1. 67%
 - ☒ 2. 68%
 - ☒ 3. 73%
 - ☒ 4. 75%

Question ID : 864407664
Status : Answered
Chosen Option : 3

Q.31 $\triangle ABC$ में, कोण $BAC = 90^\circ$ है। यदि $BC = 25$ cm है, तो माध्यिका AD की लंबाई ज्ञात कीजिए।

- Ans
- ☒ 1. 10 cm
 - ☒ 2. 24 cm
 - ☒ 3. 12.5 cm
 - ☒ 4. 14.5 cm

Question ID : 864407656

Status : Answered

Chosen Option : 3

Q.32 (8 का 0.008% का 0.08%)^{1/9} का मान ज्ञात कीजिए।

- Ans
- ☒ 1. 0.08
 - ☒ 2. 0.2
 - ☒ 3. 0.64
 - ☒ 4. 0.8

Question ID : 864407635

Status : Answered

Chosen Option : 2

Q.33 छह-अंकों वाली संख्या 479 xyz यदि 7, 11 और 13 से पूर्णतः विभाज्य है, तो $\{(y+z) \div x\}$ का मान बराबर है।

- Ans
- ☒ 1. $\frac{11}{9}$
 - ☒ 2. 4
 - ☒ 3. $\frac{7}{13}$
 - ☒ 4. $\frac{13}{7}$

Question ID : 864407624

Status : Answered

Chosen Option : 2

Q.34 एक दुकानदार एक वस्तु के अंकित मूल्य पर 10% की छूट देने के पश्चात भी 5% का लाभ अर्जित करता है। यदि वस्तु का क्रय मूल्य ₹300 है, तो उसका अंकित मूल्य क्या होगा?

- Ans
- ☒ 1. ₹350
 - ☒ 2. ₹400
 - ☒ 3. ₹320
 - ☒ 4. ₹375

Question ID : 864407633

Status : Answered

Chosen Option : 1

Q.35 सुदीप ने एक निश्चित धनराशि का $\frac{1}{8}$ भाग 5% वार्षिक ब्याज दर पर 2 वर्ष के लिए निवेश किया और उसी धनराशि का $\frac{3}{5}$ भाग 6% वार्षिक ब्याज दर पर 2 वर्ष के लिए निवेश किया और शेष धनराशि को 10% वार्षिक ब्याज दर पर 2 वर्ष के लिए निवेश किया। यदि प्राप्त होने वाला कुल ब्याज ₹1,674 है, तो निवेश की गई कुल धनराशि कितनी है?

- Ans
- ☒ 1. ₹12,000
 - ☒ 2. ₹12,500
 - ☒ 3. ₹10,500

✗ 4. ₹13,000

Question ID : 864407640

Status : Answered

Chosen Option : 1

Q.36 एक व्यक्ति को 30 km की यात्रा करनी है। यात्रा के $\frac{5}{6}$ की दूरी को यदि उसने 3 घंटे और 20 मिनट में तय किया हो, तो उसकी चाल km/h में क्या है?

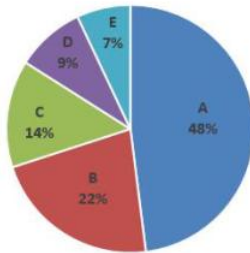
- Ans
- ✗ 1. 6.3
 - ✗ 2. 6
 - ✓ 3. 7.5
 - ✗ 4. 5.4

Question ID : 864407646

Status : Answered

Chosen Option : 3

Q.37 दिया गया पाई-चार्ट 2018 के दौरान पांच शोरूम A, B, C, D और E से कार के एक विशिष्ट ब्रांड की बिक्री के प्रतिशत बंटन को प्रदर्शित करता है। उस वर्ष के दौरान पांचों शोरूम से बेची गई कारों की कुल संख्या 5000 है।



शोरूम B और D से बेची गई कारों की कुल संख्या ज्ञात कीजिए।

- Ans
- ✗ 1. 1650
 - ✓ 2. 1550
 - ✗ 3. 1450
 - ✗ 4. 1750

Question ID : 864407668

Status : Answered

Chosen Option : 2

Q.38 दो संकेंद्रित वृत्तों में से बड़े वाले वृत्त की जीवा की लंबाई 10 cm है और यह छोटे वृत्त की स्पर्शरेखा है। इन दो वृत्तों के बीच के बलयाकार भाग का क्षेत्रफल (cm^2 में) क्या होगा?

- Ans
- ✓ 1. 25π
 - ✗ 2. $\frac{5\pi}{2}$
 - ✗ 3. 5π
 - ✗ 4. 10π

Question ID : 864407657

Status : Not Answered

Chosen Option : --

Q.39 PQRS एक आयत है। T, PQ पर एक ऐसा बिंदु है कि RTQ एक समद्विबाहु त्रिभुज और $PT = 5 QT$ है। यदि त्रिभुज RTQ का क्षेत्रफल $12\sqrt{3} \text{ cm}^2$ है, तो आयत PQRS का क्षेत्रफल कितना होगा?

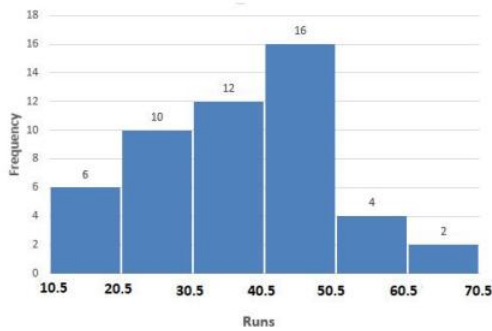
- Ans
- ☒ 1. 142 cm^2
 - ☒ 2. $144\sqrt{3} \text{ cm}^2$
 - ☒ 3. $134\sqrt{3} \text{ cm}^2$
 - ☒ 4. $142\sqrt{3} \text{ cm}^2$

Question ID : 864407659

Status : Not Answered

Chosen Option : --

Q.40 दिया गया आयतचित्र एक स्थानीय क्रिकेट टूर्नामेंट में जिले के 50 चयनित खिलाड़ियों द्वारा बनाए गए औसत रनों के बारंबारता बंटन को प्रदर्शित करता है।



'10' की बारंबारता बाउंडरीज़ (boundaries) किस श्रेणी से संबंधित है?

- Ans
- ☒ 1. 10.5 से 20.5
 - ☒ 2. 40.5 से 50.5
 - ☒ 3. 30.5 से 40.5
 - ☒ 4. 20.5 से 30.5

Question ID : 864407670

Status : Answered

Chosen Option : 4

Q.41 60 डिस्क, जिनमें से प्रत्येक का व्यास 21 cm और मोटाई $\frac{1}{3} \text{ cm}$ है, को एक के ऊपर एक करके रखा जाता है, जिसके परिणामस्वरूप एक लम्बवृत्तीय बेलन निर्मित होता है। यदि $\pi = \frac{22}{7}$ है, तो इसका आयतन m^3 में कितना होगा?

- Ans
- ☒ 1. 7.62×10^{-2}
 - ☒ 2. 8.05×10^{-3}
 - ☒ 3. 4.25×10^{-2}
 - ☒ 4. 6.93×10^{-3}

Question ID : 864407650

Status : Answered

Chosen Option : 4

Q.42 यदि $0 \leq \theta \leq 90^\circ$, और $\sin(2\theta + 50^\circ) = \cos(4\theta + 16^\circ)$ है, तो θ का मान (अंश में) ज्ञात कीजिए।

- Ans
- ☒ 1. 10°
 - ☒ 2. 12°
 - ☒ 3. 8°
 - ☒ 4. 4°

Question ID : 864407660

Status : Not Answered

Chosen Option : --

Q.43 एक पहिए का व्यास 84 cm है। 16 चक्करों में पहिया कितनी दूरी (मीटर में) तय करता है? (मान लीजिए $\pi = \frac{22}{7}$)

- Ans
- ☒ 1. 27.48
 - ☒ 2. 42.24
 - ☒ 3. 36.28
 - ☒ 4. 21.12

Question ID : 864407649

Status : Answered

Chosen Option : 2

Q.44 एक व्यक्ति का मासिक वेतन ₹50,000 था। वह इसका तीन मर्दों पर व्यय करता था- व्यक्तिगत और पारिवारिक व्यय (E), कर (T), परोपकार (P), और शेष उसकी बचत होती थी। E उसकी आय का 50% था। T, E का 20% था और P, T का 15% था। जब उसके वेतन में 40% की वृद्धि हुई, तो उसने E के प्रतिशत में कोई परिवर्तन नहीं किया, लेकिन T, E का 30% हो गया और P, T का 20% हो गया। उनकी नई बचत पिछली बचत की तुलना में कितने प्रतिशत अधिक या कम है? (उत्तर दशमलव के एक स्थान तक सही होना चाहिए)

- Ans
- ☒ 1. 8.2% कम
 - ☒ 2. 16.4% कम
 - ☒ 3. 8.2% अधिक
 - ☒ 4. 16.4% अधिक

Question ID : 864407636

Status : Not Answered

Chosen Option : --

Q.45 एक घंटा-घर दो ऐसी सड़कों के चौराहे पर स्थित है जो उत्तर-दक्षिण और पूर्व-पश्चिम दिशाओं की ओर जाती हैं। P, Q, R और S सड़क की क्रमशः उत्तर, पूर्व, दक्षिण और पश्चिम दिशाओं में स्थित ऐसे बिंदु हैं, जहाँ से घंटा-घर के शीर्ष के उन्नयन कोण क्रमशः α, β, γ और δ हैं। तो $\left(\frac{PQ}{RS}\right)^2$ का मान ज्ञात कीजिए।

- Ans
- ☒ 1. $\frac{\tan^2 \alpha + \tan^2 \beta}{\tan^2 \gamma + \tan^2 \delta}$
 - ☒ 2. $\frac{\tan^2 \alpha + \tan^2 \delta}{\tan^2 \beta + \tan^2 \gamma}$
 - ☒ 3. $\frac{\cot^2 \alpha + \cot^2 \delta}{\cot^2 \beta + \cot^2 \gamma}$

✓ 4. $\frac{\cot^2 \alpha + \cot^2 \beta}{\cot^2 \gamma + \cot^2 \delta}$

Question ID : 864407663

Status : Answered

Chosen Option : 1

Q.46 एक खंभा उस सड़क पर उर्ध्वाधर रूप से खड़ा हुआ है, जो उत्तर-दक्षिण दिशा में जाती है। P, Q खंभे के उत्तर में स्थित दो ऐसे बिंदु हैं, कि PQ = b, और P, Q से खंभे के शीर्ष के उन्नयन कोण क्रमशः α, β हैं। खंभे की ऊँचाई ज्ञात कीजिए।

Ans

✓ 1. $\frac{b}{\cot \beta - \cot \alpha}$

✗ 2. $\frac{b}{\tan \beta - \tan \alpha}$

✗ 3. $\frac{b \tan \alpha}{\tan \beta}$

✗ 4. $\frac{b}{\tan \beta + \tan \alpha}$

Question ID : 864407662

Status : Answered

Chosen Option : 2

Q.47 पहले 20 ओवर के दौरान एक क्रिकेट टीम का औसत रन रेट 4.5 है। यदि इसे मैच जीतने के लिए कुल 282 रन बनाने हों, तो अगले 30 ओवरों के लिए प्रति ओवर रन रेट क्या होनी चाहिए?

Ans

✗ 1. 6.3

✓ 2. 6.4

✗ 3. 6.0

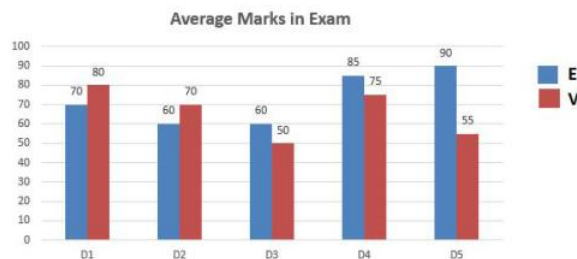
✗ 4. 6.8

Question ID : 864407630

Status : Answered

Chosen Option : 2

Q.48 दिया गया बार चार्ट किसी विशेष वर्ष के दौरान माध्यमिक स्तर की परीक्षा में एक राज्य के पांच जिलों (D1, D2, D3, D4, D5) के छात्रों द्वारा अंग्रेजी (E) और मातृभाषा (V) में प्राप्त किए गए औसत अंकों (100 में से प्राप्त कुल अंक) को प्रदर्शित करता है।



जिलों (D1, D2, D4) और (D3, D5) के छात्रों द्वारा मातृभाषा में प्राप्त किए गए अंकों के औसत प्रतिशत में अंतर ज्ञात कीजिए।

Ans

✗ 1. 11.3%

✗ 2. 1.7%

- ☒ 3. 3.5%
- ☒ 4. 22.5%

Question ID : 864407665
Status : Not Answered
Chosen Option : --

Q.49 यदि एक समबाहु त्रिभुज की प्रत्येक भुजा 12 cm है, तो इसकी ऊँचाई कितनी होगी?

- Ans ☒ 1. $3\sqrt{6}$ cm
- ☒ 2. $6\sqrt{3}$ cm
- ☒ 3. $3\sqrt{2}$ cm
- ☒ 4. $6\sqrt{2}$ cm

Question ID : 864407658
Status : Answered
Chosen Option : 2

Q.50 $\frac{1}{8} \left\{ \left(x + \frac{1}{y} \right)^2 - \left(x - \frac{1}{y} \right)^2 \right\}$ को सरल कीजिए।

- Ans ☒ 1. $\frac{4x}{y}$
- ☒ 2. $\frac{x}{2y}$
- ☒ 3. $\frac{x}{y}$
- ☒ 4. $\frac{2x}{y}$

Question ID : 864407653
Status : Answered
Chosen Option : 1

Section : English Comprehension

Q.1 In the sentence identify the segment which contains the grammatical error.

'Plogging' is an international trend, in which someone picking up trash while jogging or brisk walking.

- Ans ☒ 1. 'Plogging' is an international trend
- ☒ 2. while jogging or brisk walking
- ☒ 3. in which someone
- ☒ 4. picking up trash

Question ID : 864407525
Status : Answered
Chosen Option : 2

Q.2 Select the most appropriate option to substitute the underlined segment in the given sentence. If there is no need to substitute it, select 'No substitution'.

Rahul thinks that this is quite the cheap restaurant.

- Ans
- ☒ 1. so a cheap
 - ☒ 2. No substitution
 - ☒ 3. so the cheap
 - ☒ 4. quite a cheap

Question ID : 864407526
Status : Answered
Chosen Option : 2

Q.3 Select the most appropriate word to fill in the blank.

We haven't been to Gangotri _____ almost ten years.

- Ans
- ☒ 1. for
 - ☒ 2. from
 - ☒ 3. since
 - ☒ 4. to

Question ID : 864407534
Status : Answered
Chosen Option : 3

Q.4 Select the most appropriate synonym of the given word.

TRANQUIL

- Ans
- ☒ 1. nervous
 - ☒ 2. calm
 - ☒ 3. agitated
 - ☒ 4. wild

Question ID : 864407545
Status : Answered
Chosen Option : 2

Q.5 Identify the segment in the sentence which contains the grammatical error. If there is no error, select 'No error'

In about two weeks our holidays will start.

- Ans
- ☒ 1. our holidays
 - ☒ 2. will start
 - ☒ 3. In about two weeks
 - ☒ 4. No error

Question ID : 864407521
Status : Answered
Chosen Option : 3

Q.6 Select the most appropriate meaning of the underlined idiom in the given sentence.

Trying to find my lost ring in the college is like looking for a needle in a haystack.

- Ans
- ☒ 1. Doing something impossible

- ☒ 2. Making a big deal of a small thing
- ☒ 3. Doing something unimportant
- ☒ 4. Doing something secretly

Question ID : 864407555

Status : Answered

Chosen Option : 2

Comprehension:

Read the following passage and answer the questions given after it.

The excitement of bird watchers on spotting a particular species for the very first time is unparalleled. With eyes shining and pride bursting, they exclaim, "I had a lifer today", or "It was a lifer for me". For the longest time, I couldn't fathom what all the fuss was about. I mean, at some point in their lives, even a crow or mynah would have been a lifer — seen for the very first time. So, here, I've done a bit of jugaad with the term and define it as a bird that you see maybe (but not necessarily) for the first time, but which has made a lasting, life-changing impact on you. Then I recalled some of my own "lifers".

Number 1 is the little coppersmith barbet. The first bird I saw through brand new, big and powerful binoculars — and it was solely responsible for my getting interested in birds. The fellow looked like a tubby little clown with hiccups and that just blew me away.

I will never forget the first time I saw grey hornbills aeons ago: over sullen grey skies in the Borivali National Park (now called Sanjay Gandhi National Park) — squealing as they flew high up across the sky. They looked as if they had just left Jurassic Park. Or, for that matter, their larger, more glamorous, cousins — Great pied hornbills. Tramping through a streambed in Kalagarh (near Corbett), we suddenly heard this rasping, whooshing, sound. Up there, in the clear blue, were six-seven huge black-and-white birds with colossal yellow beaks flying in tandem across the clear blue sky, their wings making the rasping sound.

Say "paradise flycatcher" and a birder's eyes will begin to glint: "Where? When? Will it be there now?" are questions that will be shot out like machine-gun bullets. The first time I saw a full grown milk-white-and-glossy-black male, with its glamorous 18-inch streamer tail, was at the Sultanpur National Park in Haryana. But I remember better the flycatchers, that made me run around in a tea garden in Palampur, teasingly whistling at me from one end to the other. The nesting pair in Naukuchiatal was more accommodating except that I had to stand knee-deep in the hotel's garbage dump to get a good view of them flitting to and fro the gully nearby. To compensate, one actually flew nearly down to my feet to snatch up a bluebottle I had missed. Of course, there have been rarities: the highlight of the regular Bharatpur (the Keoladeo National Park) visits was the darshan of VIP Siberian cranes. Then they stopped coming, which was a first indication of their slow extinction — even if it was just "local" to our area. The gloriously uppity Great Indian bustards in the Karera Sanctuary (Madhya Pradesh) were another unforgettable sighting. The sheer disdain with which they flounced away from our howling, jolting jeep and took to their wings was a lesson in being put in your place. Now, not only does the sanctuary not exist anymore but those magnificent muscular birds are crashing to total extinction.

SubQuestion No : 7

Q.7 What does the word 'lifer' mean for the author?

Ans

- ☒ 1. A bird which is becoming extinct
- ☒ 2. A bird which makes a life-changing impact on you
- ☒ 3. A bird that you see for the first time
- ☒ 4. A bird that you love

Question ID : 864407568

Status : Answered

Chosen Option : 2

Comprehension:

Read the following passage and answer the questions given after it.

The excitement of bird watchers on spotting a particular species for the very first time is unparalleled. With eyes shining and pride bursting, they exclaim, "I had a lifer today", or "It was a lifer for me". For the longest time, I couldn't fathom what all the fuss was about. I mean, at some point in their lives, even a crow or mynah would have been a lifer — seen for the very first time. So, here, I've done a bit of jugaad with the term and define it as a bird that you see maybe (but not necessarily) for the first time, but which has made a lasting, life-changing

impact on you. Then I recalled some of my own "lifers". Number 1 is the little coppersmith barbet. The first bird I saw through brand new, big and powerful binoculars — and it was solely responsible for my getting interested in birds. The fellow looked like a tubby little clown with hiccups and that just blew me away. I will never forget the first time I saw grey hornbills aeons ago: over sullen grey skies in the Borivali National Park (now called Sanjay Gandhi National Park) — squealing as they flew high up across the sky. They looked as if they had just left Jurassic Park. Or, for that matter, their larger, more glamorous, cousins — Great pied hornbills. Tramping through a streambed in Kalagarh (near Corbett), we suddenly heard this rasping, whooshing, sound. Up there, in the clear blue, were six-seven huge black-and-white birds with colossal yellow beaks flying in tandem across the clear blue sky, their wings making the rasping sound. Say "paradise flycatcher" and a birder's eyes will begin to glint: "Where? When? Will it be there now?" are questions that will be shot out like machine-gun bullets. The first time I saw a full grown milk-white-and-glossy-black male, with its glamorous 18-inch streamer tail, was at the Sultanpur National Park in Haryana. But I remember better the flycatchers, that made me run around in a tea garden in Palampur, teasingly whistling at me from one end to the other. The nesting pair in Naukuchiatal was more accommodating except that I had to stand knee-deep in the hotel's garbage dump to get a good view of them flitting to and fro the gully nearby. To compensate, one actually flew nearly down to my feet to snatch up a bluebottle I had missed. Of course, there have been rarities: the highlight of the regular Bharatpur (the Keoladeo National Park) visits was the darshan of VIP Siberian cranes. Then they stopped coming, which was a first indication of their slow extinction — even if it was just "local" to our area. The gloriously uppity Great Indian bustards in the Karera Sanctuary (Madhya Pradesh) were another unforgettable sighting. The sheer disdain with which they flounced away from our howling, jolting jeep and took to their wings was a lesson in being put in your place. Now, not only does the sanctuary not exist anymore but those magnificent muscular birds are crashing to total extinction.

SubQuestion No : 8

Q.8 Match the words with their meaning.

Words Meanings

- a. fathom 1. team**
- b. aeons 2. understand**
- c. tandem 3. ages**

- Ans**
- ☒ 1. a-3, b-2, c-1
 - ☒ 2. a-1, b-3, c-2
 - ☒ 3. a-2, b-1, c-3
 - ☒ 4. a-2, b-3, c-1

Question ID : **864407570**

Status : **Answered**

Chosen Option : **4**

Comprehension:

Read the following passage and answer the questions given after it.

The excitement of bird watchers on spotting a particular species for the very first time is unparalleled. With eyes shining and pride bursting, they exclaim, "I had a lifer today", or "It was a lifer for me". For the longest time, I couldn't fathom what all the fuss was about. I mean, at some point in their lives, even a crow or mynah would have been a lifer — seen for the very first time. So, here, I've done a bit of jugaad with the term and define it as a bird that you see maybe (but not necessarily) for the first time, but which has made a lasting, life-changing impact on you. Then I recalled some of my own "lifers". Number 1 is the little coppersmith barbet. The first bird I saw through brand new, big and powerful binoculars — and it was solely responsible for my getting interested in birds. The fellow looked like a tubby little clown with hiccups and that just blew me away. I will never forget the first time I saw grey hornbills aeons ago: over sullen grey skies in the Borivali National Park (now called Sanjay Gandhi National Park) — squealing as they flew high up across the sky. They looked as if they had just left Jurassic Park. Or, for that matter, their larger, more glamorous, cousins — Great pied hornbills. Tramping through a streambed in Kalagarh (near Corbett), we suddenly heard this rasping, whooshing, sound. Up there, in the clear blue, were six-seven huge black-and-white birds with colossal yellow beaks flying in tandem across the clear blue sky, their wings making the rasping sound. Say "paradise flycatcher" and a birder's eyes will begin to glint: "Where? When? Will it be there now?" are questions that will be shot out like machine-gun bullets. The first time I saw a full grown milk-white-and-glossy-black male, with its glamorous 18-inch streamer tail, was at the Sultanpur National Park in Haryana. But I remember better the flycatchers, that made me run around in a tea garden in Palampur, teasingly whistling at me from one end to the other. The nesting pair in Naukuchiatal was more accommodating except that I had to stand knee-deep in the hotel's garbage dump to get a good view of them flitting to and fro the gully nearby. To

compensate, one actually flew nearly down to my feet to snatch up a bluebottle I had missed. Of course, there have been rarities: the highlight of the regular Bharatpur (the Keoladeo National Park) visits was the darshan of VIP Siberian cranes. Then they stopped coming, which was a first indication of their slow extinction — even if it was just “local” to our area. The gloriously uppity Great Indian bustards in the Karera Sanctuary (Madhya Pradesh) were another unforgettable sighting. The sheer disdain with which they flounced away from our howling, jolting jeep and took to their wings was a lesson in being put in your place. Now, not only does the sanctuary not exist anymore but those magnificent muscular birds are crashing to total extinction.

SubQuestion No : 9

Q.9 Which pair of birds did the author see in Naukuchiatal?

- Ans  1. Paradise flycatcher
-  2. Hornbill
-  3. Coppersmith barbet
-  4. Great Indian bustard

Question ID : 864407569

Status : Answered

Chosen Option : 2

Comprehension:

Read the following passage and answer the questions given after it.

The excitement of bird watchers on spotting a particular species for the very first time is unparalleled. With eyes shining and pride bursting, they exclaim, “I had a lifer today”, or “It was a lifer for me”. For the longest time, I couldn’t fathom what all the fuss was about. I mean, at some point in their lives, even a crow or mynah would have been a lifer — seen for the very first time. So, here, I’ve done a bit of jugaad with the term and define it as a bird that you see maybe (but not necessarily) for the first time, but which has made a lasting, life-changing impact on you. Then I recalled some of my own “lifers”.

Number 1 is the little coppersmith barbet. The first bird I saw through brand new, big and powerful binoculars — and it was solely responsible for my getting interested in birds. The fellow looked like a tubby little clown with hiccups and that just blew me away.

I will never forget the first time I saw grey hornbills aeons ago: over sullen grey skies in the Borivali National Park (now called Sanjay Gandhi National Park) — squealing as they flew high up across the sky. They looked as if they had just left Jurassic Park. Or, for that matter, their larger, more glamorous, cousins — Great pied hornbills. Tramping through a streambed in Kalagarh (near Corbett), we suddenly heard this rasping, whooshing, sound. Up there, in the clear blue, were six-seven huge black-and-white birds with colossal yellow beaks flying in tandem across the clear blue sky, their wings making the rasping sound.

Say “paradise flycatcher” and a birder’s eyes will begin to glint: “Where? When? Will it be there now?” are questions that will be shot out like machine-gun bullets. The first time I saw a full grown milk-white-and-glossy-black male, with its glamorous 18-inch streamer tail, was at the Sultanpur National Park in Haryana. But I remember better the flycatchers, that made me run around in a tea garden in Palampur, teasingly whistling at me from one end to the other. The nesting pair in Naukuchiatal was more accommodating except that I had to stand knee-deep in the hotel’s garbage dump to get a good view of them flitting to and fro the gully nearby. To compensate, one actually flew nearly down to my feet to snatch up a bluebottle I had missed. Of course, there have been rarities: the highlight of the regular Bharatpur (the Keoladeo National Park) visits was the darshan of VIP Siberian cranes. Then they stopped coming, which was a first indication of their slow extinction — even if it was just “local” to our area. The gloriously uppity Great Indian bustards in the Karera Sanctuary (Madhya Pradesh) were another unforgettable sighting. The sheer disdain with which they flounced away from our howling, jolting jeep and took to their wings was a lesson in being put in your place. Now, not only does the sanctuary not exist anymore but those magnificent muscular birds are crashing to total extinction.

SubQuestion No : 10

Q.10 According to the passage which sanctuary does NOT exist anymore?

- Ans  1. Sanjay Gandhi National Park
-  2. Keoladeo National Park, Bharatpur
-  3. Sultanpur National Park, Haryana
-  4. Karera Sanctuary, Madhya Pradesh

Question ID : 864407572

Status : **Answered**
Chosen Option : 1

Comprehension:

Read the following passage and answer the questions given after it.

The excitement of bird watchers on spotting a particular species for the very first time is unparalleled. With eyes shining and pride bursting, they exclaim, "I had a lifer today", or "It was a lifer for me". For the longest time, I couldn't fathom what all the fuss was about. I mean, at some point in their lives, even a crow or mynah would have been a lifer — seen for the very first time. So, here, I've done a bit of jugaad with the term and define it as a bird that you see maybe (but not necessarily) for the first time, but which has made a lasting, life-changing impact on you. Then I recalled some of my own "lifers".

Number 1 is the little coppersmith barbet. The first bird I saw through brand new, big and powerful binoculars — and it was solely responsible for my getting interested in birds. The fellow looked like a tubby little clown with hiccups and that just blew me away.

I will never forget the first time I saw grey hornbills aeons ago: over sullen grey skies in the Borivali National Park (now called Sanjay Gandhi National Park) — squealing as they flew high up across the sky. They looked as if they had just left Jurassic Park. Or, for that matter, their larger, more glamorous, cousins — Great pied hornbills. Tramping through a streambed in Kalagarh (near Corbett), we suddenly heard this rasping, whooshing, sound. Up there, in the clear blue, were six-seven huge black-and-white birds with colossal yellow beaks flying in tandem across the clear blue sky, their wings making the rasping sound.

Say "paradise flycatcher" and a birder's eyes will begin to glint: "Where? When? Will it be there now?" are questions that will be shot out like machine-gun bullets. The first time I saw a full grown milk-white-and-glossy-black male, with its glamorous 18-inch streamer tail, was at the Sultanpur National Park in Haryana. But I remember better the flycatchers, that made me run around in a tea garden in Palampur, teasingly whistling at me from one end to the other. The nesting pair in Naukuchiatal was more accommodating except that I had to stand knee-deep in the hotel's garbage dump to get a good view of them flitting to and fro the gully nearby. To compensate, one actually flew nearly down to my feet to snatch up a bluebottle I had missed.

Of course, there have been rarities: the highlight of the regular Bharatpur (the Keoladeo National Park) visits was the darshan of VIP Siberian cranes. Then they stopped coming, which was a first indication of their slow extinction — even if it was just "local" to our area. The gloriously uppity Great Indian bustards in the Karera Sanctuary (Madhya Pradesh) were another unforgettable sighting. The sheer disdain with which they flounced away from our howling, jolting jeep and took to their wings was a lesson in being put in your place. Now, not only does the sanctuary not exist anymore but those magnificent muscular birds are crashing to total extinction.

SubQuestion No : 11

Q.11 Which bird is black and white with a huge yellow beak?

- Ans
- ☒ 1. Paradise flycatcher
 - ☒ 2. Great pied hornbill
 - ☒ 3. Grey hornbill
 - ☒ 4. Siberian crane

Question ID : **864407571**
Status : **Answered**
Chosen Option : 2

Q.12 Select the INCORRECTLY spelt word.

- Ans
- ☒ 1. humorous
 - ☒ 2. ridiculous
 - ☒ 3. mysterious
 - ☒ 4. mischivious

Question ID : **864407566**
Status : **Answered**
Chosen Option : 2

Q.13 Select the most appropriate meaning of the underlined idiom in the given sentence.

Our PM is received with open arms wherever he goes.

- Ans
- ☒ 1. Harmoniously
 - ☒ 2. Honourably
 - ☒ 3. Warmly
 - ☒ 4. Promptly

Question ID : 864407556
Status : Answered
Chosen Option : 2

Q.14 Select the most appropriate word to fill in the blank.

If only we _____ a light! It is depressing to wait in the dark.

- Ans
- ☒ 1. have
 - ☒ 2. are having
 - ☒ 3. had
 - ☒ 4. have had

Question ID : 864407535
Status : Answered
Chosen Option : 2

Q.15 Select the option that can be used as a one-word substitute for the given group of words

A small building or room used for Christian worship in a school, prison, hospital or large private house.

- Ans
- ☒ 1. cathedral
 - ☒ 2. congregation
 - ☒ 3. chapel
 - ☒ 4. church

Question ID : 864407557
Status : Answered
Chosen Option : 2

Q.16 Select the option that can be used as a one-word substitute for the given group of words.

A person who can endure pain or hardship without showing his feelings or complaining

- Ans
- ☒ 1. pedant
 - ☒ 2. stoic
 - ☒ 3. ascetic
 - ☒ 4. agnostic

Question ID : 864407561
Status : Answered
Chosen Option : 2

Q.17 Select the most appropriate ANTONYM of the given word.

INFINITE

- Ans
- ☒ 1. limited
 - ☒ 2. eternal

☒ 3. boundless

☒ 4. vast

Question ID : 864407549
Status : Answered
Chosen Option : 2

Q.18 Identify the segment in the sentence which contains the grammatical error. If there is no error, select 'No error'

We watched the workmen to repair the tiles of the kitchen.

Ans ☒ 1. to repair the tiles

☒ 2. No error

☒ 3. We watched the workmen

☒ 4. of the kitchen

Question ID : 864407522
Status : Answered
Chosen Option : 2

Q.19 Select the most appropriate word to fill in the blank.

This is the girl _____ is going to IIT, Delhi.

Ans ☒ 1. whom

☒ 2. who

☒ 3. that

☒ 4. which

Question ID : 864407532
Status : Answered
Chosen Option : 2

Q.20 Select the INCORRECTLY spelt word.

Ans ☒ 1. junior

☒ 2. jumble

☒ 3. journy

☒ 4. jovial

Question ID : 864407562
Status : Answered
Chosen Option : 3

Q.21 Select the most appropriate ANTONYM of the given word.

INTENTIONAL

Ans ☒ 1. accidental

☒ 2. voluntary

☒ 3. designed

☒ 4. calculated

Question ID : 864407551

Status : **Answered**
Chosen Option : **2**

Q.22 Select the most appropriate meaning of the underlined idiom in the given sentence.

Off and on I take a break from my hectic schedule to refresh myself.

- Ans
- ☒ 1. Rarely
 - ☒ 2. Seldom
 - ☒ 3. Immediately
 - ☒ 4. Periodically

Question ID : **864407552**
Status : **Answered**
Chosen Option : **2**

Q.23 Select the most appropriate word to fill in the blank.

He obtained 80% marks in Science in High School. He has qualified _____ the science stream in plus two.

- Ans
- ☒ 1. to
 - ☒ 2. for
 - ☒ 3. at
 - ☒ 4. in

Question ID : **864407531**
Status : **Answered**
Chosen Option : **2**

Q.24 Select the most appropriate ANTONYM of the given word.

APPLAUD

- Ans
- ☒ 1. denounce
 - ☒ 2. approve
 - ☒ 3. commend
 - ☒ 4. magnify

Question ID : **864407547**
Status : **Answered**
Chosen Option : **2**

Q.25 Select the option that can be used as a one-word substitute for the given group of words.

A person who held a job or office before the current holder

- Ans
- ☒ 1. ancestor
 - ☒ 2. descendant
 - ☒ 3. successor
 - ☒ 4. predecessor

Question ID : **864407559**
Status : **Answered**
Chosen Option : **2**

Q.26 In the sentence identify the segment which contains the grammatical error.

Across his morning walk on a beach in Mamallapuram, Prime Minister Modi was seen picking up plastic litter, bottles, and other items.

- Ans ☒ 1. Across his morning walk
☐ 2. picking up plastic litter
☐ 3. on a beach in Mamallapuram
☐ 4. Prime Minister Modi was seen

Question ID : 864407524
Status : Answered
Chosen Option : 2

Q.27 Select the most appropriate meaning of the underlined idiom in the given sentence.

In spite of her severe accident she took heart and moved forward.

- Ans ☐ 1. Felt depressed
☐ 2. Overcame problems
☒ 3. Gathered courage
☐ 4. Acted promptly

Question ID : 864407553
Status : Answered
Chosen Option : 2

Q.28 Select the option that can be used as a one-word substitute for the given group of words.

Words written on a tombstone in the memory of the person who has died

- Ans ☒ 1. epitaph
☐ 2. prologue
☐ 3. epilogue
☐ 4. stela

Question ID : 864407560
Status : Answered
Chosen Option : 2

Q.29 Select the most appropriate synonym of the given word.

FASCINATING

- Ans ☐ 1. boring
☒ 2. appealing
☐ 3. tiring
☐ 4. stupid

Question ID : 864407543
Status : Answered
Chosen Option : 2

Q.30 Select the most appropriate synonym of the given word.

CONTAMINATE

- Ans ☐ 1. purify

- ☒ 2. pollute
- ☐ 3. sanctify
- ☐ 4. cleanse

Question ID : 864407544
Status : Not Answered
Chosen Option : --

Q.31 Select the most appropriate option to substitute the underlined segment in the given sentence. If there is no need to substitute it, select 'No substitution'.

The tree was uprooted by the storm last evening, isn't it?

- Ans
- ☐ 1. was it
 - ☐ 2. didn't it
 - ☐ 3. No substitution
 - ☒ 4. wasn't it

Question ID : 864407528
Status : Answered
Chosen Option : 2

Comprehension:

In the following passage some words have been deleted. Fill in the blanks with the help of the alternatives given. Select the most appropriate option for each blank.

I had seen the magic shop from afar several times. I had passed (1)_____ once or twice, a shop window of (2)_____ little objects, magic balls, magic hens, wonderful cones, magic dolls and all those (3)_____ of things. But never had I thought of going in (4)_____ one day, Gip hauled me by my finger - right (5)_____ to the window.

SubQuestion No : 32

Q.32 Select the most appropriate option to fill in blank No.1.

- Ans
- ☐ 1. them
 - ☐ 2. this
 - ☒ 3. it
 - ☐ 4. these

Question ID : 864407537
Status : Answered
Chosen Option : 2

Comprehension:

In the following passage some words have been deleted. Fill in the blanks with the help of the alternatives given. Select the most appropriate option for each blank.

I had seen the magic shop from afar several times. I had passed (1)_____ once or twice, a shop window of (2)_____ little objects, magic balls, magic hens, wonderful cones, magic dolls and all those (3)_____ of things. But never had I thought of going in (4)_____ one day, Gip hauled me by my finger - right (5)_____ to the window.

SubQuestion No : 33

Q.33 Select the most appropriate option to fill in blank No.2.

- Ans
- ☒ 1. alluring
 - ☐ 2. allures
 - ☐ 3. allure

 4. allured

Question ID : 864407538
Status : Answered
Chosen Option : 2

Comprehension:

In the following passage some words have been deleted. Fill in the blanks with the help of the alternatives given. Select the most appropriate option for each blank.

I had seen the magic shop from afar several times. I had passed (1)_____ once or twice, a shop window of (2)_____ little objects, magic balls, magic hens, wonderful cones, magic dolls and all those (3)_____ of things. But never had I thought of going in (4)_____ one day, Gip hauled me by my finger - right (5)_____ to the window.

SubQuestion No : 34

Q.34 Select the most appropriate option to fill in blank No.3.

- Ans  1. design
 2. shape
 3. pattern
 4. sort

Question ID : 864407539
Status : Answered
Chosen Option : 2

Comprehension:

In the following passage some words have been deleted. Fill in the blanks with the help of the alternatives given. Select the most appropriate option for each blank.

I had seen the magic shop from afar several times. I had passed (1)_____ once or twice, a shop window of (2)_____ little objects, magic balls, magic hens, wonderful cones, magic dolls and all those (3)_____ of things. But never had I thought of going in (4)_____ one day, Gip hauled me by my finger - right (5)_____ to the window.

SubQuestion No : 35

Q.35 Select the most appropriate option to fill in blank No.4.

- Ans  1. since
 2. until
 3. after
 4. while

Question ID : 864407540
Status : Answered
Chosen Option : 1

Comprehension:

In the following passage some words have been deleted. Fill in the blanks with the help of the alternatives given. Select the most appropriate option for each blank.

I had seen the magic shop from afar several times. I had passed (1)_____ once or twice, a shop window of (2)_____ little objects, magic balls, magic hens, wonderful cones, magic dolls and all those (3)_____ of things. But never had I thought of going in (4)_____ one day, Gip hauled me by my finger - right (5)_____ to the window.

SubQuestion No : 36

Q.36 Select the most appropriate option to fill in blank No.5.

- Ans  1. out
 2. up

- ☒ 3. down
- ☒ 4. in

Question ID : 864407541
Status : Answered
Chosen Option : 2

Q.37 Select the most appropriate synonym of the given word.

SUBSEQUENT

- Ans
- ☒ 1. preceding
 - ☒ 2. consecutive
 - ☒ 3. antecedent
 - ☒ 4. prior

Question ID : 864407546
Status : Answered
Chosen Option : 2

Q.38 Select the most appropriate ANTONYM of the given word.

ENRAGED

- Ans
- ☒ 1. pleased
 - ☒ 2. aggravated
 - ☒ 3. livid
 - ☒ 4. infuriated

Question ID : 864407550
Status : Answered
Chosen Option : 2

Q.39 Select the most appropriate option to substitute the underlined segment in the given sentence. If there is no need to substitute it, select 'No substitution'.

I enjoy to watch a good detective movie.

- Ans
- ☒ 1. watching
 - ☒ 2. watch
 - ☒ 3. No substitution
 - ☒ 4. watched

Question ID : 864407529
Status : Answered
Chosen Option : 2

Q.40 Select the INCORRECTLY spelt word.

- Ans
- ☒ 1. labour
 - ☒ 2. laboratery
 - ☒ 3. literature
 - ☒ 4. lantern

Question ID : 864407563

Status : **Answered**
Chosen Option : **2**

Q.41 Select the most appropriate ANTONYM of the given word.

LAMENT

- Ans ☒ 1. celebrate
☐ 2. bemoan
☐ 3. appeal
☐ 4. bleed

Question ID : **864407548**
Status : **Answered**
Chosen Option : **2**

Q.42 Select the most appropriate synonym of the given word.

ADEQUATE

- Ans ☐ 1. inept
☐ 2. meagre
☐ 3. unfit
☒ 4. sufficient

Question ID : **864407542**
Status : **Answered**
Chosen Option : **2**

Q.43 Select the most appropriate meaning of the underlined idiom in the given sentence.

Mrs. Arora has got the green light from the principal to organise a science conference in the college.

- Ans ☐ 1. Got fired for doing something
☐ 2. Got energy and motivation to do something
☒ 3. Got permission to go ahead with something
☐ 4. Got the work started

Question ID : **864407554**
Status : **Answered**
Chosen Option : **2**

Q.44 Select the INCORRECTLY spelt word.

- Ans ☐ 1. resemble
☒ 2. redius
☐ 3. realm
☐ 4. reliable

Question ID : **864407565**
Status : **Answered**
Chosen Option : **2**

Q.45 Identify the segment in the sentence which contains the grammatical error.

A large section of a hotel under construction collapse in New Orleans last Saturday.

- Ans
- ☒ 1. A large section of a hotel
 - ☒ 2. last Saturday
 - ☒ 3. collapse in New Orleans
 - ☒ 4. under construction

Question ID : 864407523
Status : Answered
Chosen Option : 2

Q.46 Select the most appropriate word to fill in the blank.

Milk is _____ than any other food.

- Ans
- ☒ 1. more nourishing
 - ☒ 2. nourishing
 - ☒ 3. as nourishing
 - ☒ 4. most nourishing

Question ID : 864407533
Status : Answered
Chosen Option : 2

Q.47 Select the most appropriate option to substitute the underlined segment in the given sentence. If there is no need to substitute it, select 'No substitution'.

The authorities are looked on the matter.

- Ans
- ☒ 1. No substitution
 - ☒ 2. are looking on the matter
 - ☒ 3. are looking into the matter
 - ☒ 4. are looked into the matter

Question ID : 864407527
Status : Answered
Chosen Option : 2

Q.48 Select the most appropriate option to substitute the underlined segment in the given sentence. If there is no need to substitute it, select 'No substitution'.

I couldn't got some sleep because the people in the next room were talking very loudly.

- Ans
- ☒ 1. couldn't get any sleep
 - ☒ 2. couldn't get some sleep
 - ☒ 3. No substitution
 - ☒ 4. couldn't got any sleep

Question ID : 864407530
Status : Answered
Chosen Option : 2

Q.49 Select the option that can be used as a one-word substitute for the given group of words.

A person who believes that war and violence are unjustifiable

- Ans
- ☒ 1. pessimist

- ☒ 2. optimist
- ☒ 3. anarchist
- ☒ 4. pacifist

Question ID : 864407558
Status : Answered
Chosen Option : 2

Q.50 Select the INCORRECTLY spelt word.

- Ans
- ☒ 1. pigeon
 - ☒ 2. pioneer
 - ☒ 3. pillion
 - ☒ 4. puddel

Question ID : 864407564
Status : Not Answered
Chosen Option : --